

شكراً لتحميلك هذا الملف من موقع المناهج العمانية



اختبار قصير على وحدة أنظمة التشغيل وتطبيقات التلوين

[موقع المناهج](#) ← [المناهج العمانية](#) ← [الصف السادس](#) ← [حاسوب](#) ← [الفصل الأول](#) ← [الملف](#)

تاريخ نشر الملف على موقع المناهج: 14:47:53 2023-12-11

التواصل الاجتماعي بحسب الصف السادس



روابط مواد الصف السادس على تلغرام

[الرياضيات](#)

[اللغة الانجليزية](#)

[اللغة العربية](#)

[التربية الاسلامية](#)

المزيد من الملفات بحسب الصف السادس والمادة حاسوب في الفصل الأول

[بنك الأسئلة الشاملة مع الإجابات](#)

1

[بنك أسئلة المادة مع الإجابات](#)

2

[ملخص دروس وحدة الإنترنت](#)

3

[بنك الأسئلة مع نموذج الإجابة](#)

4

[ملخص دروس وحدة الإنترنت](#)

5

الاسم :

الصف :

٢٠

اختبار قصير في مادة تقنية معلومات على وحدة أنظمة التشغيل وتطبيقات التلوين للصف السادس

سؤال الأول

اختاري الإجابة الصحيحة من بين البدائل المعطاة :

١- الواجهة الرسومية الذي يحتوي على مجموعة من الرموز وشريط المهام :

أ- شاشة التوقف ب- سطح المكتب ج- لوحة التحكم

٢- لتغيير حجم الرموز اختار :

أ- عرض ب- فرز حسب ج- خصائص

٣- أحد الأيقونات التالية تشير لرمز اختصار لبرنامج :



Microsoft



أ- Google chrome

ب-



ج- Recycle pen

٤- تقوم بتغيير جميع خصائص الواجهة الرسومية لسطح المكتب بضغطة زر:

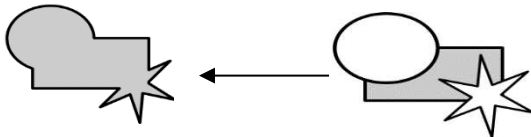
أ- السمات ب- شاشة التوقف ج- لون النافذة

٥- يمكنك التحكم بإعدادات الصوت والطابعة وواجهة المستخدم من :

أ- زر ابدأ ب- خلفية سطح المكتب ج- لوحة التحكم

٦- يستخدم الأمر Duplicate ل:

أ- تجميع الشكل ب- تكرار الشكل ج- حذف الشكل

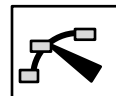


ج- import

٧- للحصول على مسار جديد كما هو في الشكل اختار الأمر

أ- Union ب- Difference

٨- تسمى الأداة التالية



بأداة :

ج- التعبئة

ب- العقد

أ- النسخ

السؤال الثاني :

١- عرفني شريط المهام ؟

٤

٢- عرفني شاشة التوقف

٣- عددي أربع من الرموز الأساسية لسطح المكتب ؟

أ-

ب-

السؤال الثالث:

من خلال الشكل التالي

١-يمكن تغيير الوقت من اختاري رقم

.....

٢-يمكن تغيير التاريخ من اختاري رقم

.....

تعيين التاريخ والوقت:

1



نوفمبر، ٢٠٢١						
س	ح	خ	ر	ث	ن	ج
٦	٥	٤	٣	٢	١	٣١
١٣	١٢	١١	١٠	٩	٨	٧
٢٠	١٩	١٨	١٧	١٦	١٥	١٤
٢٧	٢٦	٢٥	٢٤	٢٣	٢٢	٢١
٤	٣	٢	١	٣٠	٢٩	٢٨
١١	١٠	٩	٨	٧	٦	٥

2

١٠:٠٣:٤٩ م

اذكري وظيفة كل أداة مستعينة بالكلمات التالية :

رسم المسارات زيادة العقد سلسلة تلقائية رسم مضلع



.....



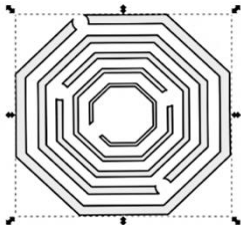
.....



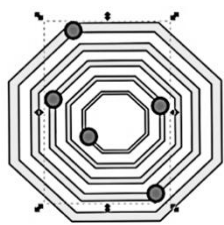
.....



.....



الشكل ٢



الشكل ١

١- الأمر الذي يمكنك من إزالة مسار الدوائر من بيت العنكبوت كما هو موضح في الشكل ؟٢

Union

Difference



Duplicate

٢- لتجميع شكل العين اختار الأمر

Group



انتهت الأسئلة،، عنياتي لك بالتوفيق،، انظر اسما بانك المبرحة،،