

ورقة عمل الواجب المنزلي الأول



تم تحميل هذا الملف من موقع المناهج العمانية

موقع فايلاتي ← المناهج العمانية ← الصف السادس ← رياضيات ← الفصل الثاني ← ملفات متنوعة ← الملف

تاريخ إضافة الملف على موقع المناهج: 2026-02-12 15:52:19

ملفات اكتب للمعلم اكتب للطالب | اختبارات الكترونية | اختبارات | حلول | عروض بوربوينت | أوراق عمل
منهج انجليزي | ملخصات وتقارير | مذكرات وبنوك | الامتحان النهائي | للمدرس

المزيد من مادة
رياضيات:

إعداد: ثريا الشريقي

التواصل الاجتماعي بحسب الصف السادس



صفحة المناهج
العمانية على
فيسبوك

المزيد من الملفات بحسب الصف السادس والمادة رياضيات في الفصل الثاني

إجابة مراجعة شاملة للمنهج	1
مراجعة شاملة للمنهج غير محلولة	2
تلخيص الوحدة الأولى قياس الكتلة وتحديد الوقت والمناطق الزمنية و حساب المساحة والمحيط	3
تمارين وأنشطة إضافية في مفهوم الاحتمال	4
ملخص كتاب تدريبات	5

الواجب المنزلي الأول


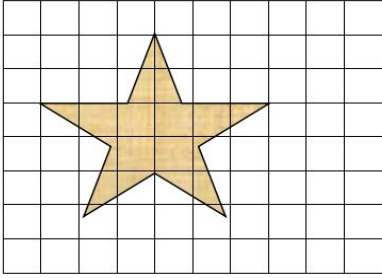
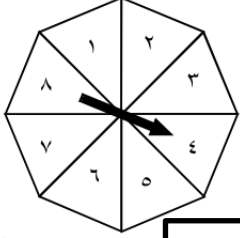

الصف : السادس

اليوم :

ملاحظة : لا يسمح باستخدام الآلة الحاسبة

اسم الطالبة النجيبة :

إعداد : أ. ثريا الشريقي

الدرجة	المفردة	رقم المفردة
١	 <p>إناء عصير سعة ١,٤ لتر . حوط سعة الإناء بالمليتر .</p> <p>١٤٠٠ ١٤٠ ١٤ ١,٤</p>	١
١	 <p>اكتب مساحة الشكل المقابل (علماً بأن كل مربعة = ١ سم^٢) .</p> <p>.....</p>	٢
٢	 <p>تستخدم حوراء الدوار الثماني التالي :</p> <p>صل بخط لتوضيح مدى احتمال حدوث الأحداث التالية.</p> <div style="display: flex; justify-content: space-around;"> <div style="border: 1px solid black; padding: 5px; text-align: center;">مستحيل</div> <div style="border: 1px solid black; padding: 5px; text-align: center;">أن يكون العدد أولي</div> </div> <div style="display: flex; justify-content: space-around;"> <div style="border: 1px solid black; padding: 5px; text-align: center;">غير مرجح</div> <div style="border: 1px solid black; padding: 5px; text-align: center;">أن يكون العدد أقل من ٩</div> </div> <div style="display: flex; justify-content: space-around;"> <div style="border: 1px solid black; padding: 5px; text-align: center;">متساوي الفرص</div> <div style="border: 1px solid black; padding: 5px; text-align: center;">أن يكون العدد من مضاعفات العدد ١٠</div> </div> <div style="display: flex; justify-content: space-around;"> <div style="border: 1px solid black; padding: 5px; text-align: center;">مرجح</div> <div style="border: 1px solid black; padding: 5px; text-align: center;">مؤكد</div> </div>	٣
١	 <p>البيانات التالية تمثل درجات الحرارة في ولاية الرستاق خلال خمسة أيام</p> <p>٢٦ ٣١ ٣٠ ٢٩ ٣٤</p> <p>احسب متوسط درجات الحرارة خلال الأيام الخمس .</p> <p>.....</p> <p>- انتهت الأسئلة تمنيائي لكن صغيراتي بالتوفيق والتميز الدائم -</p>	٤