

شكراً لتحميلك هذا الملف من موقع المناهج العمانية



واجب منزلي

[موقع المناهج](#) ⇨ [المناهج العمانية](#) ⇨ [الصف السادس](#) ⇨ [رياضيات](#) ⇨ [الفصل الأول](#) ⇨ [الملف](#)

تاريخ نشر الملف على موقع المناهج: 08:01:11 2023-11-19

التواصل الاجتماعي بحسب الصف السادس



روابط مواد الصف السادس على تلغرام

[الرياضيات](#)

[اللغة الانجليزية](#)

[اللغة العربية](#)

[التربية الاسلامية](#)

المزيد من الملفات بحسب الصف السادس والمادة رياضيات في الفصل الأول

مراجعة اختبار قصير ثاني	1
أوراق عمل مع الإجابات من اختبارات كامبريدج	2
اختبار قصير أول بصيغة الورد	3
سؤال قصير أول مع نموذج الإجابة	4
امتحان تدريبي مع نموذج الإجابة	5

الواجب المنزلي

10

الأول

١ درجة

(١) حوِّط الإجابة الصحيحة : القيمة المكانية للرقم ٤ في العدد ٢٥١٤٩٧٨ =

٠,٤

٤٠

٤٠٠

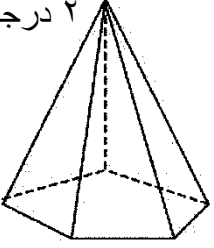
٤٠٠٠

٤٠٠٠٠

٢ درجة

(٢) من خلال الشكل المقابل أجب عن الآتي:

اسم الشكل: عدد أحرفه: عدد رؤوسه:

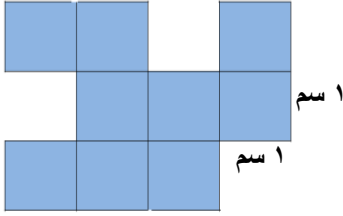


٢ درجة

(٣) من خلال الشكل المقابل أجب عن الآتي:

مساحة الشكل =

محيط الشكل =



٢ درجة

(٤) يعرض أحد المتاجر هذه الأصناف للبيع:



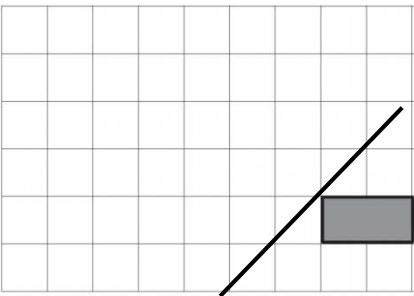
١٢٩,٩٥٠ ريالاً	تلفاز
٣٠,٧٥٠ ريالاً	مكبر صوت
١٤,٢٥٠ ريالاً	غلاية
٢٦,٨٠٠ ريالاً	طابعة

اكتب الحل هنا

اشترى عماد غلاية وتلفاز . كم أنفق في شرائها ؟

١ درجة

(٥) ارسم انعكاس الشكل المقابل بعد انعكاسه حول خط المرآة .



٢ درجة

(٦) أكمل الجمل العددية التالية بالعدد المناسب:

$$\boxed{} = 100 \times 6922 \quad \text{أ)}$$

$$12 = 10 \div \boxed{} \quad \text{ب)}$$