


تم تحميل هذا الملف من موقع المناهج العمانية



الملف أجوبة المذكرة الإثرائية والأسئلة في الوحدة الأولى (الغلاف الصخري)

[موقع المناهج](#) ← [المناهج العمانية](#) ← [الصف السادس](#) ← [اجتماعيات](#) ← [الفصل الأول](#)

روابط مواقع التواصل الاجتماعي بحسب الصف السادس



روابط مواد الصف السادس على تلغرام

[الرياضيات](#)

[اللغة الانجليزية](#)

[اللغة العربية](#)

[التربية الاسلامية](#)


المزيد من الملفات بحسب الصف السادس والمادة اجتماعيات في الفصل الأول

امتحان وإجابة الأسئلة الرسمية للفصل الدراسي الأول الدور الأول 20162017	1
أسئلة الوحدة الاولى مع الحل	2
الدروس المحذوفة	3
تحميل كتاب الطالب	4
تحميل أنشطة لدروس الوحدة الاولى	5

الصف السادس

الدراسات الاجتماعية

2021-2022



مذكرة إثرائية

سؤال وجواب

الفصل الدراسي الأول

الوحدة الأولى

(الغلاف الصخري)

محتوى الوحدة الأولى

٤- التعرية النهرية والاشكال الناجمة عنها

٥- التعرية بفعل الأمواج البحرية والاشكال الناجمة عنها

٦- التعرية الريحية والاشكال الناجمة عنها

١- اغلفة كوكب الأرض وعلاقتها بالإنسان

٢- الزلازل والبراكين

٣- نشأة الجبال

للتواصل :

99493923

اعداد :

علي بن محمد الحسان

Ali 47536@moe.om

درس : أغلفة كوكب الأرض وعلاقتها بالإنسان**السؤال الأول : ضع علامة (✓) أو (X) أمام العبارة المناسبة مع تصحيح ما تحته خط إذا كانت العبارة خطأ .**

- ١- (X) يتكون النظام الأرضي من ستة أغلفة . " أربعة "
- ٢- (X) تحتوي أغلفة النظام الأرضي مخزوناً هائلاً من الموارد الطبيعية المتجددة فقط . المتجددة وغير المتجددة
- ٣- (✓) للإنسان دور كبير في المشكلات التي ظهرت في النظام الأرضي .

السؤال الثاني : ضع دائرة حول الإجابة الصحيحة من بين البدائل المعطاه .

- ١- أسهم استغلال الإنسان للموارد الطبيعية منذ القدم في (تراجع - تطور) العمران البشري على سطح الأرض .
- ٢- يتفاعل في صحراء الربع الخالي (ثلاثة - أربعة) أغلفة من النظام الأرضي ..
- ٣- أدى تزايد أعداد السكان في العالم والإفراط في استغلال الموارد الطبيعية إلى (تلوث - تجدد) أغلفة النظام الأرضي .

السؤال الثالث : من خلال الرسوم التي أمامك أكتب تحت الصورة إسم الغلاف الدال عليها .**السؤال الرابع : أكمل الجدول التالي بأمثلة من المشكلات البيئية التي ظهرت نتيجة لتزايد عدد السكان في أغلفة****النظام الأرضي**

الغلاف الحيوي	الغلاف الجوي	الغلاف المائي	الغلاف الصخري
تدهور النباتات الطبيعية والحياة البرية - انقراض الحيوانات	تلوث الهواء بسبب عوادم السيارات والمصانع	تلوث المياه	انجراف التربة وتزايد الانهيارات الأرضية ، مثل الزلازل والبراكين

السؤال الخامس : علل " أذكر السبب .

س ١ : ظهور المشكلات البيئية في أغلفة النظام الأرضي .

ج ١ : بسبب تزايد أعداد السكان والإفراط في استغلال الموارد الطبيعية

السؤال السادس : أجب عن الأسئلة التالية .

س ١ : ما علاقة الإنسان بأغلفة النظام الأرضي ؟

ج ١ : قد استغل الإنسان الموارد الطبيعية لتلبية احتياجاته من الغذاء والصناعة والطاقة .

س ٢ : أذكر الموارد الطبيعية لكل غلاف من أغلفة النظام الأرضي .

ج ٢ : ١- الغلاف الصخري (المعادن والنفط)

٢ - الغلاف المائي (البحار والمحيطات والثروات البحرية)

٣ - الغلاف الجوي (بخار الماء والغازات المختلفة والأمطار والثلوج)

٤ - الغلاف الحيوي (الإنسان والحيوان والنبات)

س ٣ : ما المقصود بالغلاف الصخري ؟

ج ٣ : هي الصخور المكونة للقشرة الأرضية ويحيط هذا الغلاف بالكرة الأرضية إحاطة تامة .

س ٤ : ما أهمية الغلاف الصخري ؟

ج ٤ : وتأتي أهمية الغلاف الصخري بسبب ارتباطه الوثيق بالظواهر التضاريسية والتربة ولكونه يحتوي على موارد طبيعية هامة كالمعادن والنفط والمياه .

almanahj.com

درس : الزلازل والبراكين**السؤال الأول : ضع علامة (✓) أو (X) أمام العبارة المناسبة مع تصحيح ما تحته خط إذا كانت العبارة خطأ .**

- ١- (✓) أنشأت جامعة السلطان قابوس عدداً من محطات رصد الزلازل في عدة مناطق من السلطنة .
- ٢- (✓) لمواجهة أخطار الزلازل يجب الابتعاد عن النوافذ والأشياء الزجاجية .
- ٣- (✓) للتصدي للزلازل يتم تصميم مباني بحيث تتمايل دون أن تنهار أثناء حدوث الزلازل .
- ٤- (X) غالباً ما تبنى هياكل المباني في أماكن الزلازل من الخشب القوي . من الحديد والصلب
- ٥- (X) تظهر قرب البراكين عادة ينابيع مياه باردة تشكل مصدراً للطاقة . ساخنة

السؤال الثاني : ظلل الإجابة الصحيحة من بين البدائل المعطاه .

١- يستخدم مقياس خاص للتعبير عن قوة الزلازل يطلق عليه مقياس .

- ريختر ☒ رويتر ☐ الإسطرلاب ☐

٢- من المناطق التي يتكرر فيها حدوث الزلازل اليابان و

- الولايات المتحدة ☒ فرنسا ☐ إيطاليا ☐

٣- عدد البراكين النشطة في العالم تقدر بـ بركان

- ٤٠٠ ☐ ٥٠٠ ☒ ٦٠٠ ☐

٤- تتألف المواد البركانية من الحمم والصهير وتسمى بـ...

- اللاما ☐ الماها ☐ اللافا ☒

٥- ينتج من تحلل وتفككت المواد البركانية تربة غنية بالمعادن وخصبة تصلح ...

- للتجارة ☐ للزراعة ☒ للصناعة ☐

السؤال الثالث : أكمل ما يلي بعبارات مناسبة من عندك .

- ١- تتألف المواد البركانية من الحمم والصهير .
- ٢- إذا كان الصهير البركاني مائعاً ودرجة حرارته مرتفعة (١٠٠٠ س) تكون بركان غطاني .
- ٣- إذا كان الصهير لزجاً ودرجة حرارته (٧٠٠ س) يكون بركان مخروطي .
- ٤- تحتوي الصخور البركانية على معادن ثمينة مثل الذهب والنحاس والنيكل .
- ٥- تعد ينابيع المياه الساخنة مصدراً للطاقة المتجددة .

السؤال الرابع : علل " أذكر السبب .

- س ١ : تسمية جهاز قياس قوة الزلازل بريختر .
 ج ١ : نسبة إلى اسم مكتشفه وهو ريختر عام ١٩٣٥ .
- س ٢ : تعد المناطق البركانية مناطق جذب سياحي .
 ج ٢ : لمنظرها الطبيعي الجميل ولوجود المياه الساخنة بها .

السؤال الخامس : قارن بين البركان الغطائي والبركان المخروطي من حيث نوع الصهير ودرجة الحرارة .:

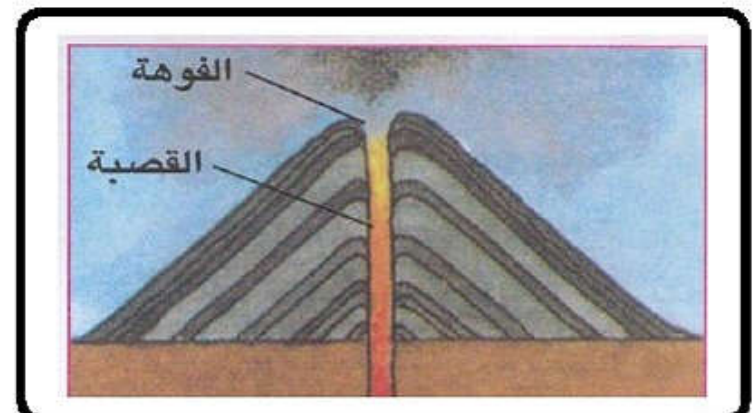
وجه المقارنة	البركان الغطائي	البركان المخروطي
نوع الصهير	مائع	لزج
درجة الحرارة	١٠٠٠ س°	٧٠٠ س°
ارتفاع البركان	أكبر	أقل
مساحة البركان	أكثر اتساعا	أقل اتساعا

السؤال السادس : صل بخط بين العمود الأول وما يناسبه من العمود الثاني:

الزلازل	اندفاع المادة المنصهرة والمفتتات الصخرية والرماد والغازات الحارة من باطن الأرض إلى السطح عبر شقوق في القشرة الأرضية
البركان	عبارة عن هزات أرضية قصيرة وسريعة متتالية تضرب سطح الأرض بسبب تصادم الصفائح الأرضية
الحمم البركانية	عبارة عن المواد الباطنية الذائبة التي تخرج من فوهة البركان وتنساب على سطح الأرض
الصهير البركاني	كتل صخرية شديدة الحرارة تقذفها البراكين أثناء ثورانها

السؤال السابع : أكتب تحت الشكل نوع البركان :

بركان غطائي








بركان مخروطي

السؤال الثامن : من خلال الجدول التالي أكمل العبارات التالية :

عدد القتلى (نسمة)	قوة الزلزال بالدرجات	سنة حدوث الزلزال	المدينة / الدولة
٧٠٠	٢٥,٨	١٩٠٦	سان فرانسيسكو (الولايات المتحدة)
غير معروف	٩,٨	١٩٦٠	تشيلي
٢٤٠٠٠٠	٥,٨	١٩٧٦	تائع شان (الصين)
٢٣٠٠٠	٨,٦	١٩٨١	نمار (اليمن)
٢٥٠٠٠	٩,٦	١٩٨٨	أرمينيا (الاتحاد السوفيتي سابقاً)
٥٠٠٠	٢,٧	١٩٩٥	جوبي (اليابان)

- ١- بلغ قوة الزلزال الذي ضرب مدينة سان فرانسيسكو عام ١٩٠٦ (٢٥,٨) .
- ٢- حدث الزلزال الذي بلغت قوته ٩,٨ في دولة (تشيلي) عام (١٩٦٠) .
- ٣- أكبر الخسائر في الأرواح كانت بسبب الزلزال الذي حدث في (تائع شان في الصين) عام (١٩٧٦) .
- ٤- الدولة العربية التي وقع بها زلزال عام ١٩٨٢ هي (اليمن) وتقع في قارة (آسيا) .
- ٥- قوة الزلزال في جوبي باليابان كان (٢,٧) وعدد القتلى كان (٥٠٠٠) .
- ٦- المدينة التي كان بها عدد القتلى ٢٥٠٠٠ (أرمينيا) في (الاتحاد السوفيتي سابقاً) .

السؤال التاسع : صل بخط بين الشكل والعبارة الدالة عليه :

المعنى	الشكل
أبقى في الهواء الطلق (منطقة خالية)	
أبتعد عن المباني	
أخرج من البيت او البناية	
أختبئ أسفل الأثاث القوي كالطاولة	
أقطع الكهرباء والغاز ولا تستعمل الهاتف	

السؤال العاشر : أجب عن الأسئلة التالية .

س ١ : اذكر ثلاثة من الاستعدادات والاجراءات لمواجهة اخطار الزلازل ؟

- ج ١ : - مصباح يدوي ومذياع صغير وبطاريات وهاتف نقال
 - حقيبة اسعاف اولية وطفاية حريق
 - تخزين كمية من المياه والمواد الغذائية
 - ايقاف اجهزة التدفئة والتبريد عن العمل
 - الابتعاد عن النوافذ والمرايا واية اشياء زجاجية عند النوم
 - الاتفاق مع أفراد الأسرة على خطه معينه للالتقاء معا بعد توقف الزلازل .

س ٢ : كيف يتم التصدي للزلازل في المناطق المعرضة للزلازل مثل اليابان والولايات المتحدة ؟

ج ٢ : يتم من خلال :

- ١- تصميم المباني بحيث تتمايل اثناء حدوث الزلازل بدلا من الانهيار
 ٢- غالبا ما تبني هياكل المباني العالية من الحديد والصلب ويفصل بين الطوابق مفاصل تسمح بحركة هيكل المبنى استجابة للاهتزاز بدلا من سقوطه

س ٣ : " بالرغم من الاخطار الناتجة عن البراكين الا ان لها عدة فوائد " اذكر ثلاثة من هذه الفوائد ؟

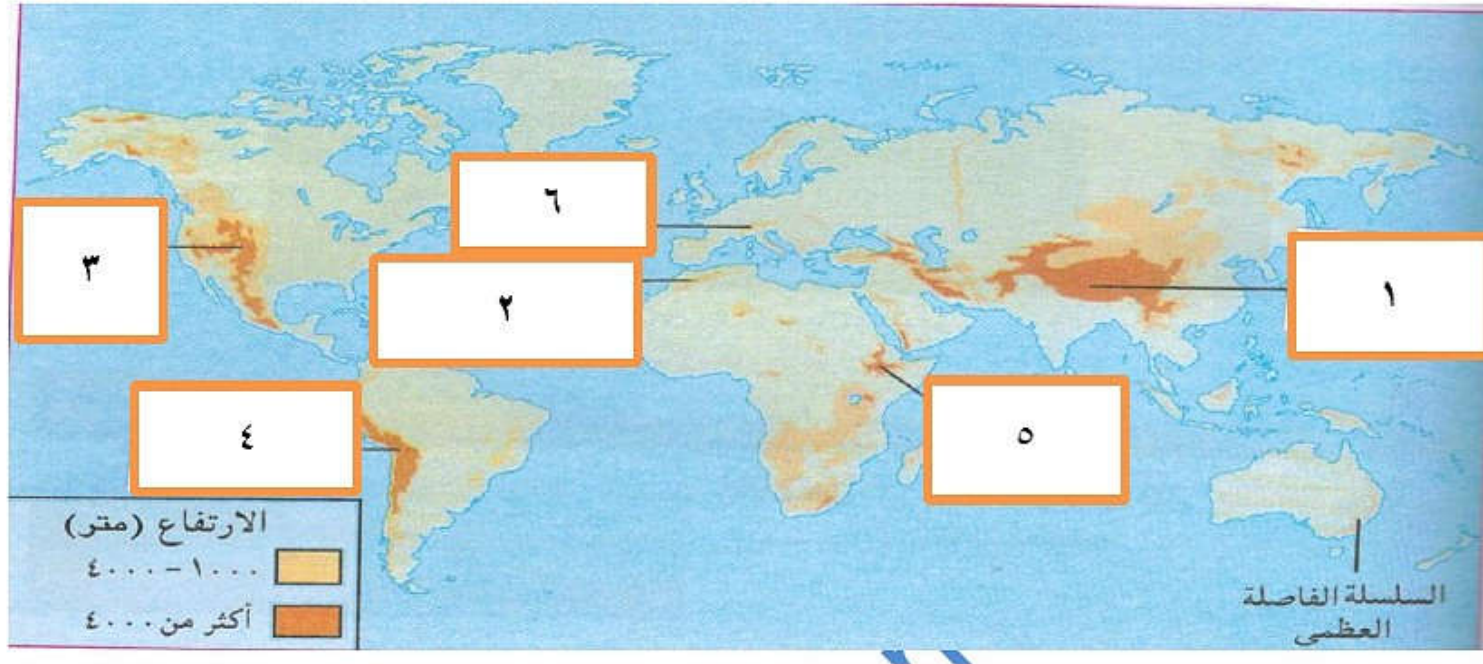
- ج ٣ : - ينتج من تحلل وتفتت المواد البركانية تربة غنية بالمعادن وخصبة تصلح للزراعة
 - تحتوي الصخور البركانية على معادن ثمنيه كالذهب والنحاس والنيكل كما ان صخورها الصلبة تصلح للبناء ورصف الطرق
 - تظهر قرب البراكين عادة ينابيع المياه الساخنة التي يشكل مصدرا للطاقة المتجددة
 - انها تعد من مناطق الجذب السياحي لما تتميز به المناطق البركانية من مناظر طبيعية جميلة ينابيع ومياه ساخنة

س ٤ : ماهي العوامل التي تتوقف عليها أشكال البراكين ؟

- ج ٤ : - تتوقف على طبيعة المواد البركانية
 - ودرجة حرارتها اثناء ثوران البركان

درس : نشأة الجبال**السؤال الأول : ضع علامة (✓) أو (X) أمام العبارة المناسبة مع تصحيح ما تحته خط إذا كانت العبارة خطأ .**

- ١- (✓) تكونت الجبال نتيجة عمليات باطنية كالالتواءات والصدوع .
 ٢- (X) مراحل نشو الجبال الالتوائية تتم ببط شديد وعبر عشرات السنين . ملايين

**السؤال الثاني : من خلال الخريطة التي أمامك أجب عن الأسئلة التالية .**

أولا : ضع أرقام الجبال التالية في أماكنها الصحيحة في الخريطة:

- ١- جبال الهملايا . ٣- جبال الروكي . ٥- مرتفعات اثيوبيا
 ٢- جبال أطلس . ٤- جبال الانديز ٦- جبال الألب

ثانيا : في أي القارات تقع الجبال التالية :




- ١- جبال المرتفعات الاثيوبية (افريقيا)
 ٢- جبال الألب (اوروبا)
 ٣- جبال الانديز (أمريكا الجنوبية)

السؤال الثالث : اختبر المصطلح من بين القوسين وضعه أمام العبارة التي تناسبه .

(الطية المقعرة - النحت - الطية المحدبة)

- ١- (النحت) فعل الأنهار والأودية والجليد الذي يغير معالم السطح في مناطق المحدبات والمقعرات .
 ٢- (الطية المحدبة) الأجزاء المرتفعة من الطبقات الصخرية بعد الطيء .
 ٣- (الطية المقعرة) الأجزاء المنخفضة من الطبقات الصخرية بعد الطيء .

السؤال الرابع : صل بخط بين الجبل وصورته

الصورة	اسم الجبل
	جبال الأنديز
	جبال الألب
	جبال الروكي

السؤال الخامس : " من خلال المراحل التي أدت إلى نشوء الجبال الالتوائية " ؟ أكمل العبارات التالية

<p>المرحلة الأولى</p> <p>طبقات رسوبية</p>  <p>شكل (١٥) ترسب الطبقات الصخرية</p>	<p>١ : المرحلة الأولى : تكس الرواسب أفقياً في طبقات بقيعان البحار والمحيطات ويطلق عليها اسم <u>الصخور الرسوبية</u>.</p>
<p>المرحلة الثانية</p> <p>طية محدبة (جبل التوائي)</p> <p>طية مقعرة</p>  <p>شكل (١٦) تكون الطيات المحدبة والطيات المقعرة</p>	<p>٢- المرحلة الثانية " تعرض الطبقات الصخرية إلى الطي والانثناء فترتفع أجزاء منها ويطلق عليها اسم <u>الطيات المحدبة</u> وتنخفض أجزاء أخرى وتسمى <u>بالطيات المقعرة</u></p>
<p>المرحلة الثالثة</p> <p>جبل معدل بالنحت</p> <p>نهر</p>  <p>شكل (١٧) الجبال وبطون الأنهار والأودية</p>	<p>٣- المرحلة الثالثة : بفعل النحت المائي والجليدي لملايين السنين تتعدل الطيات المقعرة وتتحول إلى <u>جبال التوائية</u> بينما تتحول الطيات المحدبة إلى <u>أنهار وأودية</u>.</p>