

## مراجعة مبادرة قناة حمزة التعليمية لتطوير مهارات الخرائط 2025م



### تم تحميل هذا الملف من موقع المناهج العمانية

موقع فايلاتي ← المناهج العمانية ← الصف السادس ← علوم ← الفصل الثاني ← ملفات متنوعة ← الملف

تاريخ إضافة الملف على موقع المناهج: 09:13:14 2026-01-27

ملفات اكتب للمعلم اكتب للطالب | اختبارات الكترونية | اختبارات | حلول | عروض بوربوينت | أوراق عمل  
منهج انجليزي | ملخصات وتقارير | مذكرات وبنوك | الامتحان النهائي | للمدرس

المزيد من مادة  
علوم:

إعداد: تقديم قناة حمزة

### التواصل الاجتماعي بحسب الصف السادس



صفحة المناهج  
العمانية على  
فيسبوك

### المزيد من الملفات بحسب الصف السادس والمادة علوم في الفصل الثاني

مراجعة مهمة دليل النجوم

1

النشاط 4 الوحدة 4 مع الإجابة تأثير القوى في الأجسام

2

النشاط 5 الوحدة 4 مع الإجابة مفهوم الشغل والعوامل المؤثرة فيه مع نموذج الإجابة

3

النشاط 3 الوحدة 4 مع الإجابة حول القوى المتوازنة وغير المتوازنة والوزن

4

النشاط 2 الوحدة 4 مع الإجابة القوى المؤثرة على الأجسام باستخدام الرسوم التوضيحية

5





# مبادرة

## قناة حمزة التعليمية

### لتنمية مهارات

### الطلاب فى الخرائط

## الفصل الدراسى الثانى 2025م






# اسباب الازدحام بالمبادرة

بعد الانتهاء من تحليل الاختبارات القصيرة و

الورقة الاختبارية للفصل الدراسي الاول , لوحظ

انخفاض درجات الطلاب في مفردات واسئلة الخرائط

سواء بالاجابة الخاطئة او ترك السؤال بدون اجابة





# اهداف المبادأة

تدريب الطلاب على


مهارات التعامل مع الخرائط من :-

تحديد المواقع على الخريطة

كتابة وتوقيع الظواهر الجغرافية في امكانها الصحية

على الخريطة

استخراج الظواهر الجغرافية من الخريطة





# الفئة المستهدفة


طلاب الصف الخامس

طلاب الصف السادس

طلاب الصف السابع

طلاب الصف الثامن

طلاب الصف التاسع






# آلية التنفيذ

تنفيذ ورش تدريبية للطلاب  
تدريب عملي للطلاب على  
مهارات التعامل مع الخرائط  
توزيع اوراق مطبوعة للطلاب  
تحتوى على مهارات التعامل  
مع الخرائط



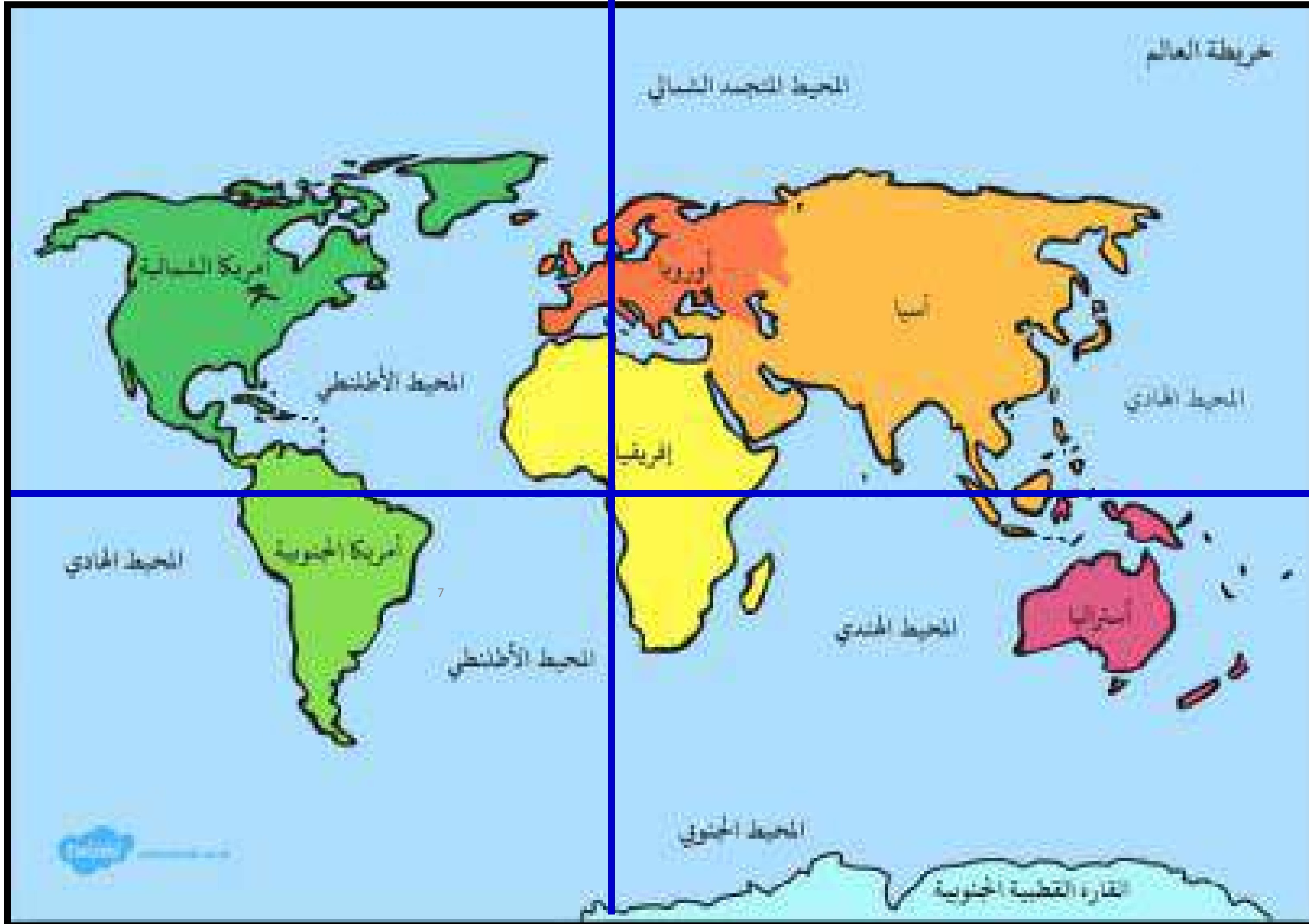


# خرائط الصف السادس





غالبية السكان  
يتركزون في  
نصف الكرة  
الشمالي





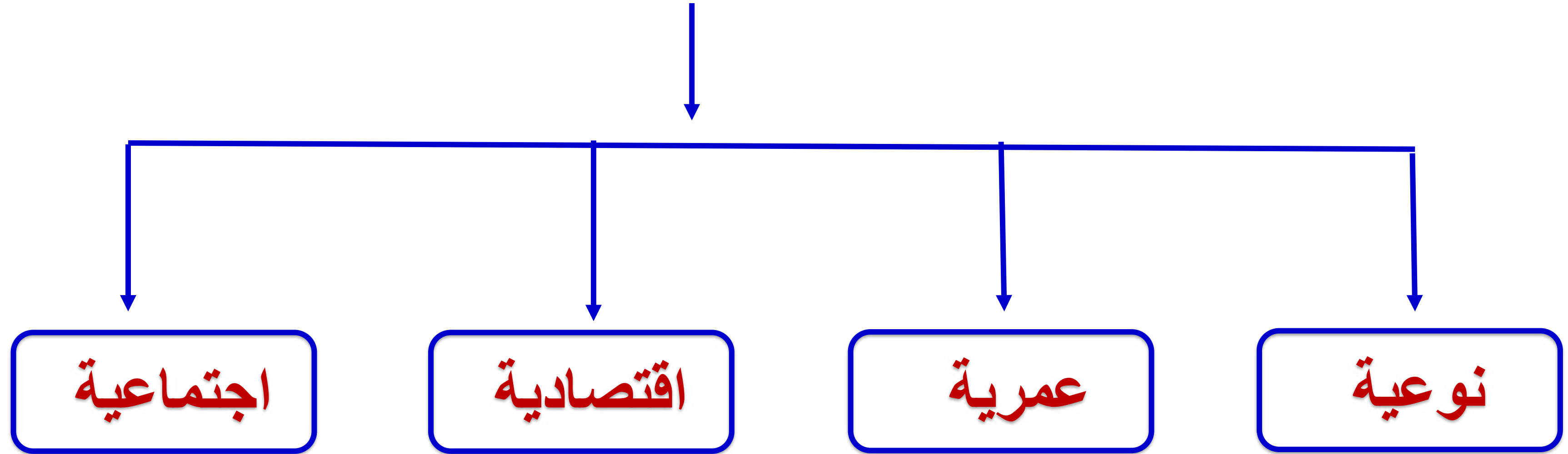


سكان اسيا  
افريقيا و اوربا  
يمثلون ثلاثة  
ارباع سكان  
العالم





# انواع بنية السكان



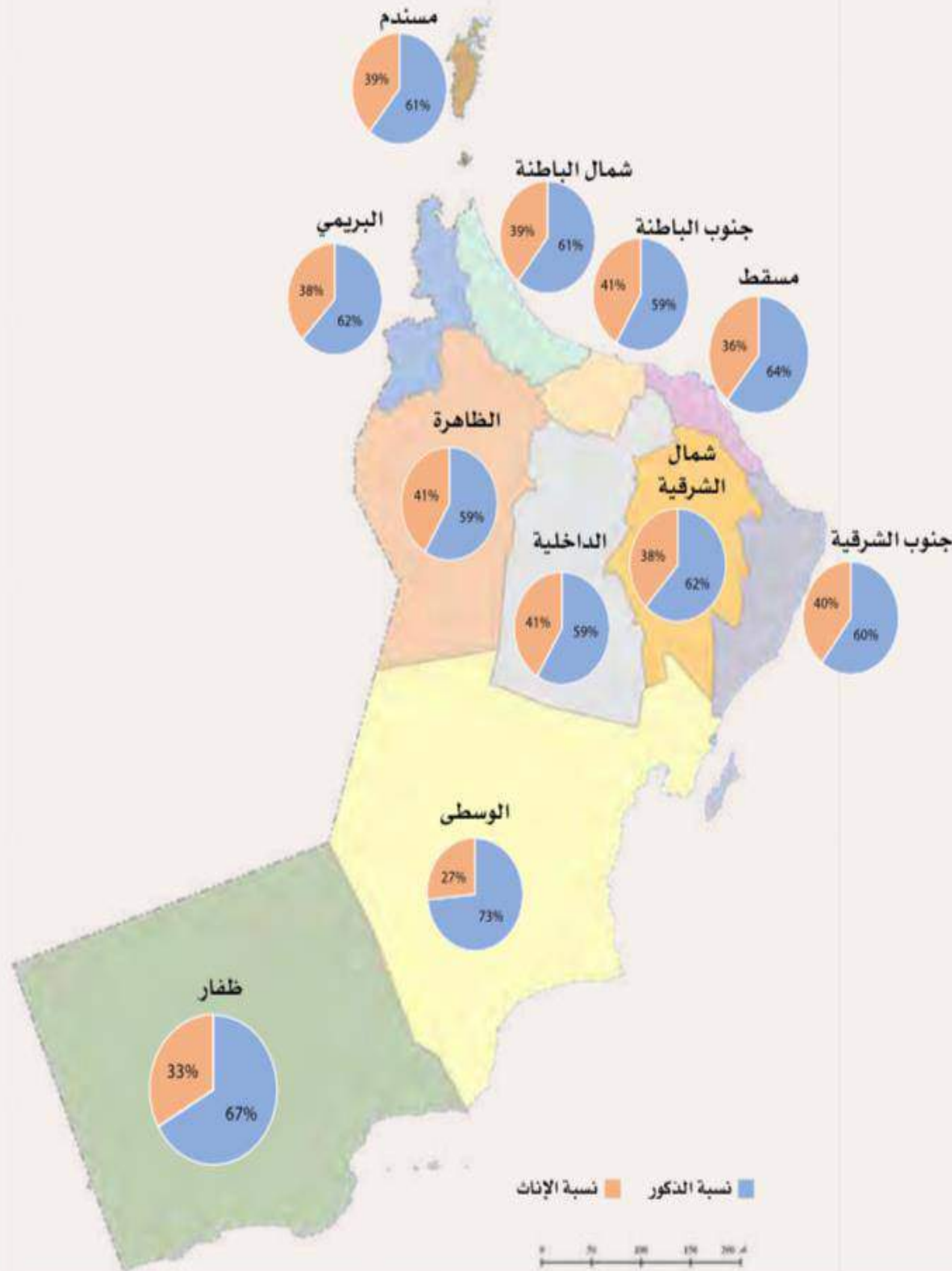


# حِلِّلْ

ادرس الخريطة الآتية التي توضِّحُ نسبة عددِ الذكور إلى عدد الإناث في محافظات سلطنة عُمان لعام ٢٠٢٣ م، ثُمَّ أَجِبْ عن الأسئلة التي تليها.

١- ما النوع الأكثر ارتفاعًا في محافظات سلطنة عُمان؟

الذكور

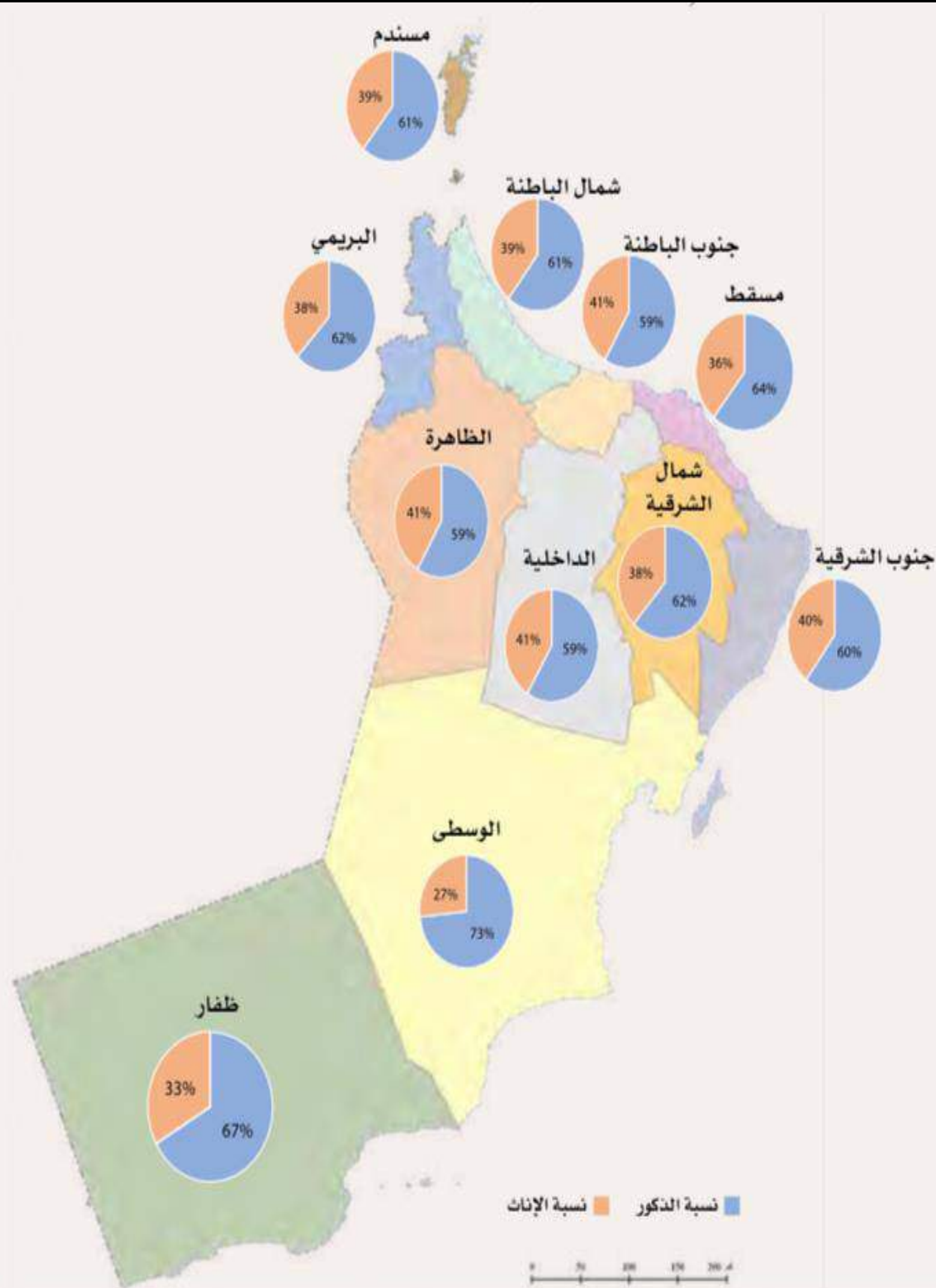




# حِلِّلْ

ادرس الخريطة الآتية التي توضّح نسبة عدد الذكور إلى عدد الإناث في محافظات سلطنة عُمان لعام ٢٠٢٣ م، ثُمَّ أَجِبْ عن الأسئلة التي تليها. **انخفاض نسبة الإناث في محافظة الوسطى مقارنةً بنسبة الذكور.**

بسبب ارتفاع نسبة المهاجرين الذكور للعمل في المناطق الصناعية (الدقم)



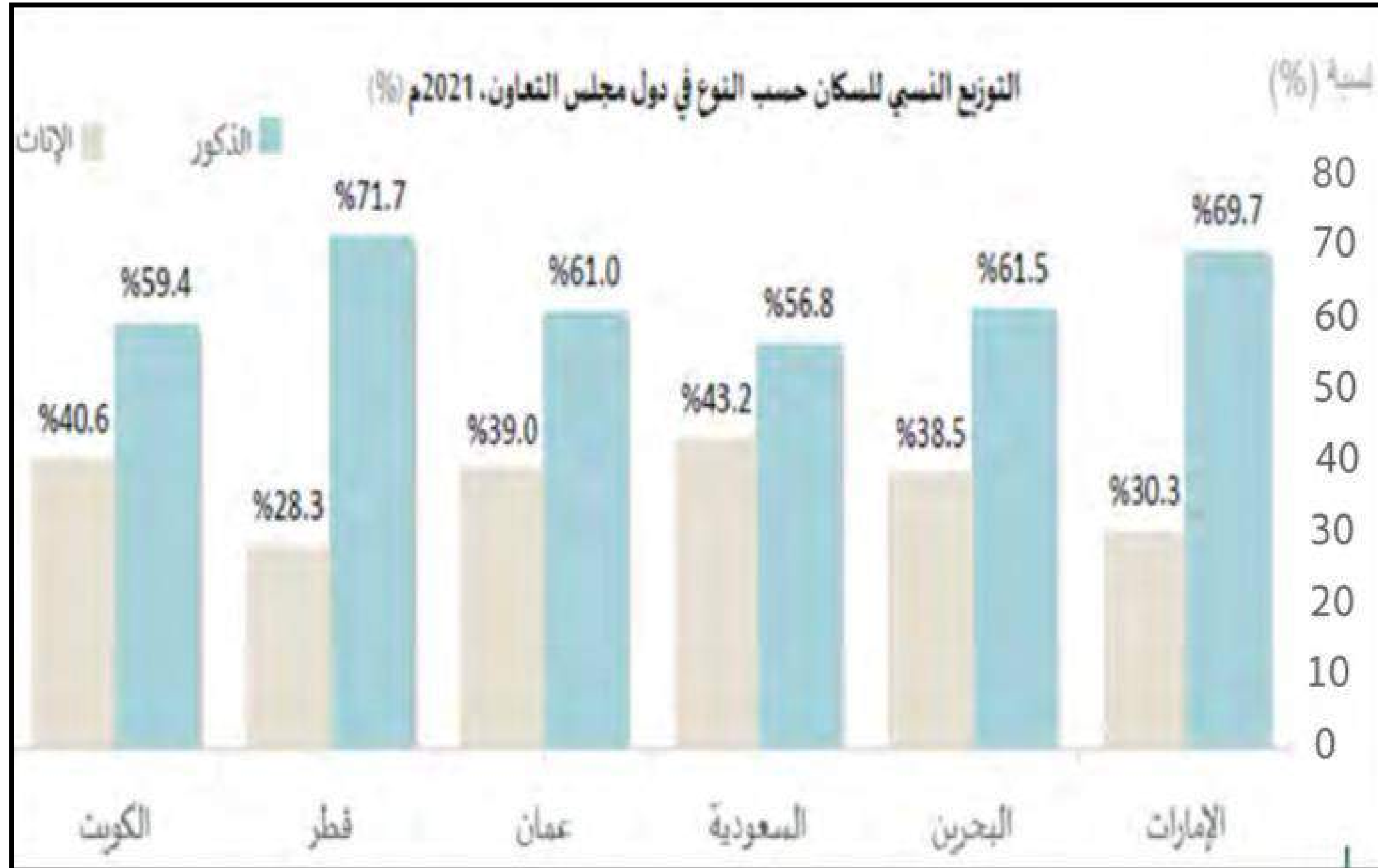




# حِلِّلْ

أمامك شكل بياني، يوضِّحُ التوزيع النسبي للسكانِ حَسَبَ النوع في دول مجلس التعاون لدول الخليج العربية لعام ٢٠٢١م، تأمل الشكل ثم أَجِبْ عن الأسئلة الَّتِي تليهِ.

١- رَتِّبْ نِسَبَ الذكور في دول مجلس التَّعاون الخليجي من الأعلى إلى الأقل.



5 1 4 6 3 2

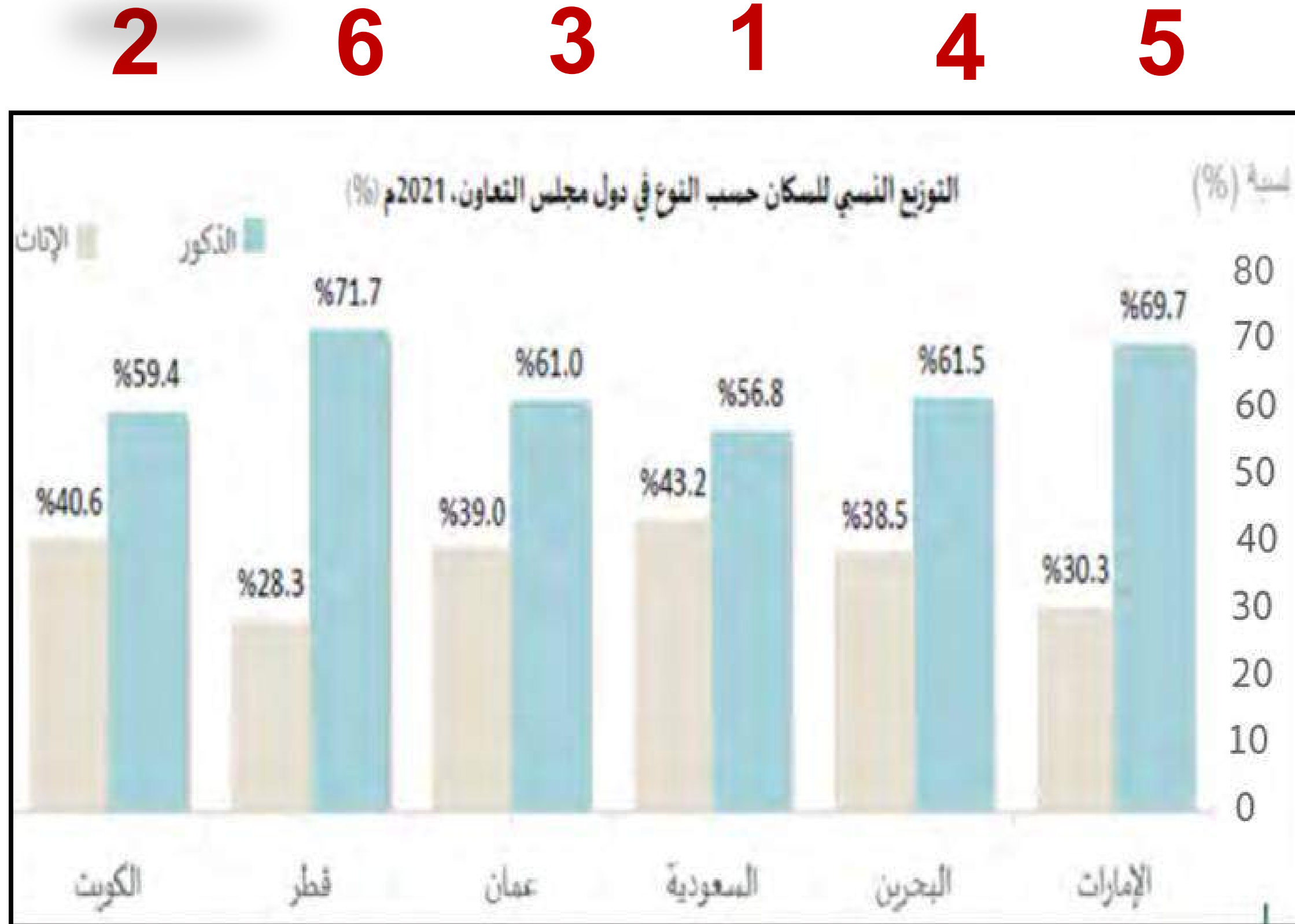




# حِلِّلْ

أمامك شكل بياني، يوضِّحُ التوزيع النسبي للسكانِ حَسَبَ النوع في دول مجلس التعاون لدول الخليج العربية لعام ٢٠٢١م، تأمل الشكل ثم أَجِبْ عن الأسئلة الَّتِي تليهِ.

١- رَتِّبْ نِسَبَ **الإناث** في دول مجلس التَّعاون الخليجي من الأعلى إلى الأقل.



2 6 3 1 4 5



طَبِّقْ

ادرس الجدول الآتي الذي يوضح

عدد السُّكَّانِ في سلطنة عُمان

لعام ٢٠٢٣ م، ثُمَّ أَجِبْ

عَنِ السُّؤَالِ الَّذِي يَلِيهِ.

صغار  
السن

متوسطي  
السن

كبار  
السن

إجماليُّ عددِ السُّكَّانِ	الفئاتُ العمريةُ
٤٣٢,٢٤٧	٤-٠
٤٦٢,٧٥٩	٩-٥
٣٦٣,٦٦٨	١٤-١٠
٢٧٠,٩٦٥	١٩-١٥
٣٧٢,٨٧٠	٢٤-٢٠
٥٤٢,٩١٠	٢٩-٢٥
٦٣٨,٨٠١	٣٤-٣٠
٦٠٢,١١٨	٣٩-٣٥
٤٤٢,١٥٨	٤٤-٤٠
٢٨٦,٥٤٥	٤٩-٤٥
١٨٥,٤٧٩	٥٤-٥٠
١١٩,١٦٤	٥٩-٥٥
٨٢,٠١١	٦٤-٦٠
٥٢,٤١٥	٦٩-٦٥
٣٣,٣٢٨	٧٤-٧٠
٢١,١٠١	٧٩-٧٥
٢٥,٣١١	٨٠
٤,٩٣٣,٨٥٠	المجموعُ







طَبِّقْ

إِخْسِبْ إِجْمَالِي السُّكَّانِ فِي الْفِئَاتِ الْعُمَرِيَّةِ الْمُخْتَلِفَةِ، ثُمَّ اكْتُبْهَا

فِي الْجَدُولِ.

إِجْمَالِي السُّكَّانِ

الْفِئَاتُ الْعُمَرِيَّةُ

1,258,674

فِئَةُ صِغَارِ

3,543,021

الْفِئَةُ الْوَسْطَى

132,155

الْفِئَةُ الْكِبَارِ

السَّنْ

إِجْمَالِي عِدَدِ السُّكَّانِ	الْفِئَاتُ الْعُمَرِيَّةُ
٤٣٢,٢٤٧	٤-٠
٤٦٢,٧٥٩	٩-٥
٣٦٣,٦٦٨	١٤-١٠
٢٧٠,٩٦٥	١٩-١٥
٣٧٢,٨٧٠	٢٤-٢٠
٥٤٢,٩١٠	٢٩-٢٥
٦٣٨,٨٠١	٣٤-٣٠
٦٠٢,١١٨	٣٩-٣٥
٤٤٢,١٥٨	٤٤-٤٠
٢٨٦,٥٤٥	٤٩-٤٥
١٨٥,٤٧٩	٥٤-٥٠
١١٩,١٦٤	٥٩-٥٥
٨٢,٠١١	٦٤-٦٠
٥٢,٤١٥	٦٩-٦٥
٣٣,٣٢٨	٧٤-٧٠
٢١,١٠١	٧٩-٧٥
٢٥,٣١١	٨٠
٤,٩٣٣,٨٥٠	المَجْمُوعُ

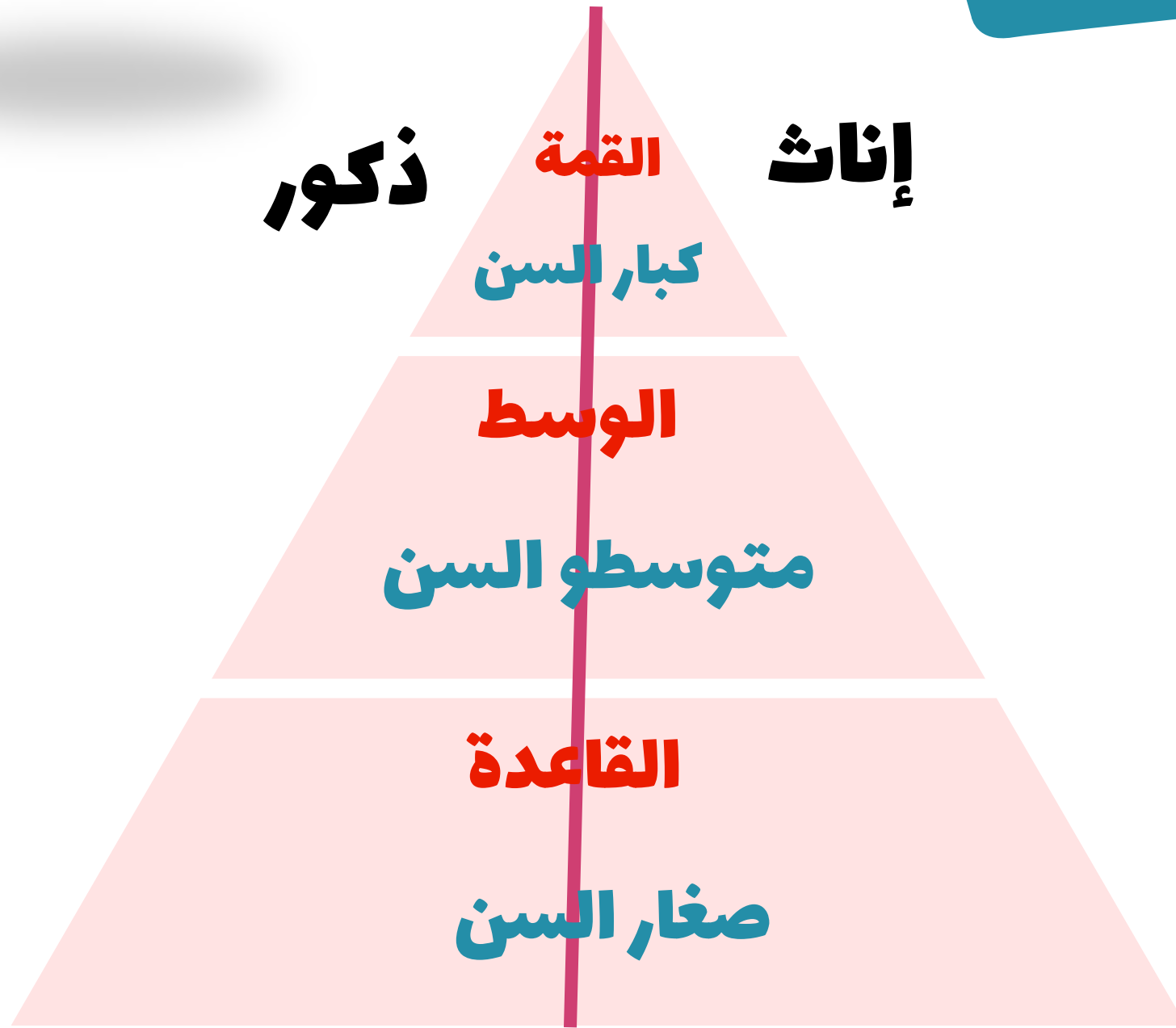




## الهرم السكاني

### التعريف

رسم بياني يبين توزيع السكان من حيث العمر والنوع



الشكل (٢) مكونات الهرم السكاني





## الهرم السكاني

الأهمية

إناث ذكور

القمة

كبار السن

الوسط

متوسطو السن

القاعدة

صغار السن

يعطى صورة واقعية لخصائص

سكان أي مجتمع

الشكل (٢) مكونات الهرم السكاني





# حِلِّلْ

أَمَامَكَ شَكْلَانِ يُمَثِّلَانِ الْهَرَمَ السُّكَّانِيَّ  
لِسُلْطَنَةِ عُومَانِ

لِعَامَتَيْ ١٩٩٣ م، وَ ٢٠٢٢ م ادرُسُهُمَا، ثُمَّ  
أَجِبْ عَنِ الْأَسْئَلَةِ الَّتِي تَلِيهِمَا.  
١- عَلامَ يَدُلُّ وَجُودَ قَاعِدَةٍ



ضَبِيقَةُ لِلْهَرَمِ السُّكَّانِيَّ لِعَامِ ٢٠٢٢ م؟

انخفاض نسبة صغار السن





# حِلِّلْ

أَمَامَكَ شَكْلَانِ يُمَثِّلَانِ الْهَرَمَ السُّكَّانِيَّ  
لِسُلْطَنَةِ عُومَانِ

لِعَامِي ١٩٩٣ م، وَ ٢٠٢٢ م اِدْرُسُهُمَا، ثُمَّ  
أَجِبْ عَنِ الْأَسْئَلَةِ الَّتِي تَلِيهِمَا.

٢ مَا التَّغْيِيرُ الَّذِي حَدَثَ فِي بِنْيَةِ سُكَّانِ سَلْطَنَةِ عُومَانِ

الْعُمَرِيَّةَ بَيْنَ عَامِي ١٩٩٣ م وَ ٢٠٢٢ م؟ وَلِمَاذَا؟

ارْتِفَاعُ نِسْبَةِ مَتَوَسَطِي السِّنِّ

انْخِفَاضُ نِسْبَةِ صَغَارِ السِّنِّ

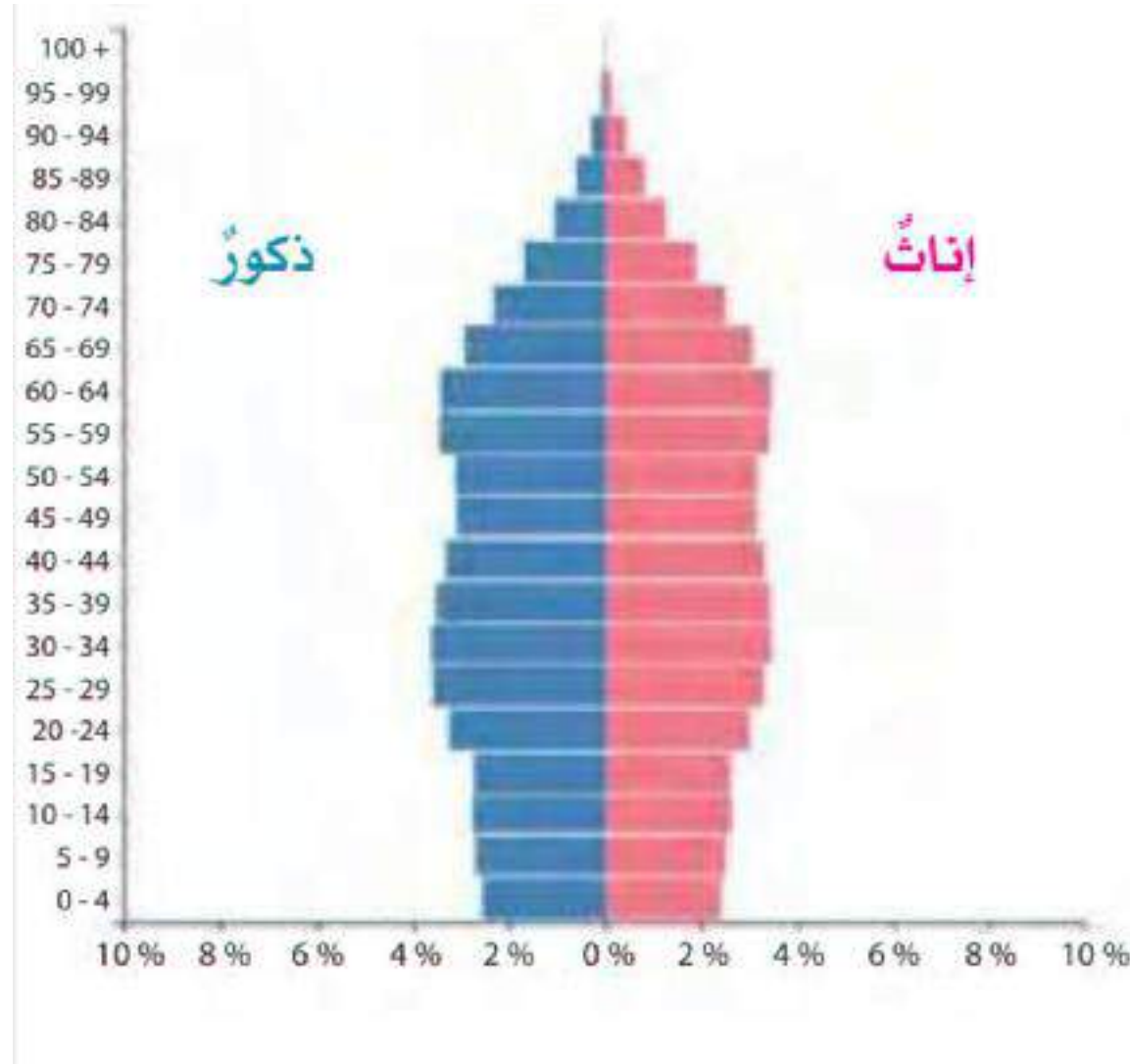






قارن ادرس الهرم السُّكَّانيَّ (أ، ب)،  
ثم قارن بينهما من حيث الآتي:  
١ - شكلُ الهرم. ٢ - الفئةُ العُمريَّةُ الأكثر ارتفاعًا.

(ب)



(أ)







(ب)



(أ)

وجه المقارنة

أ

ب

شكل الهرم

الفئة العمرية

الأكثر ارتفاعا

ذو قاعدة عريضة

صغار السن

ذو قاعدة ضيقة

متوسطي السن





# الدولة التي تحتل المرتبة الاولى في اعداد الذكور ما بين دول مجلس التعاون الخليجي **حسب الرسم البياني المقابل**

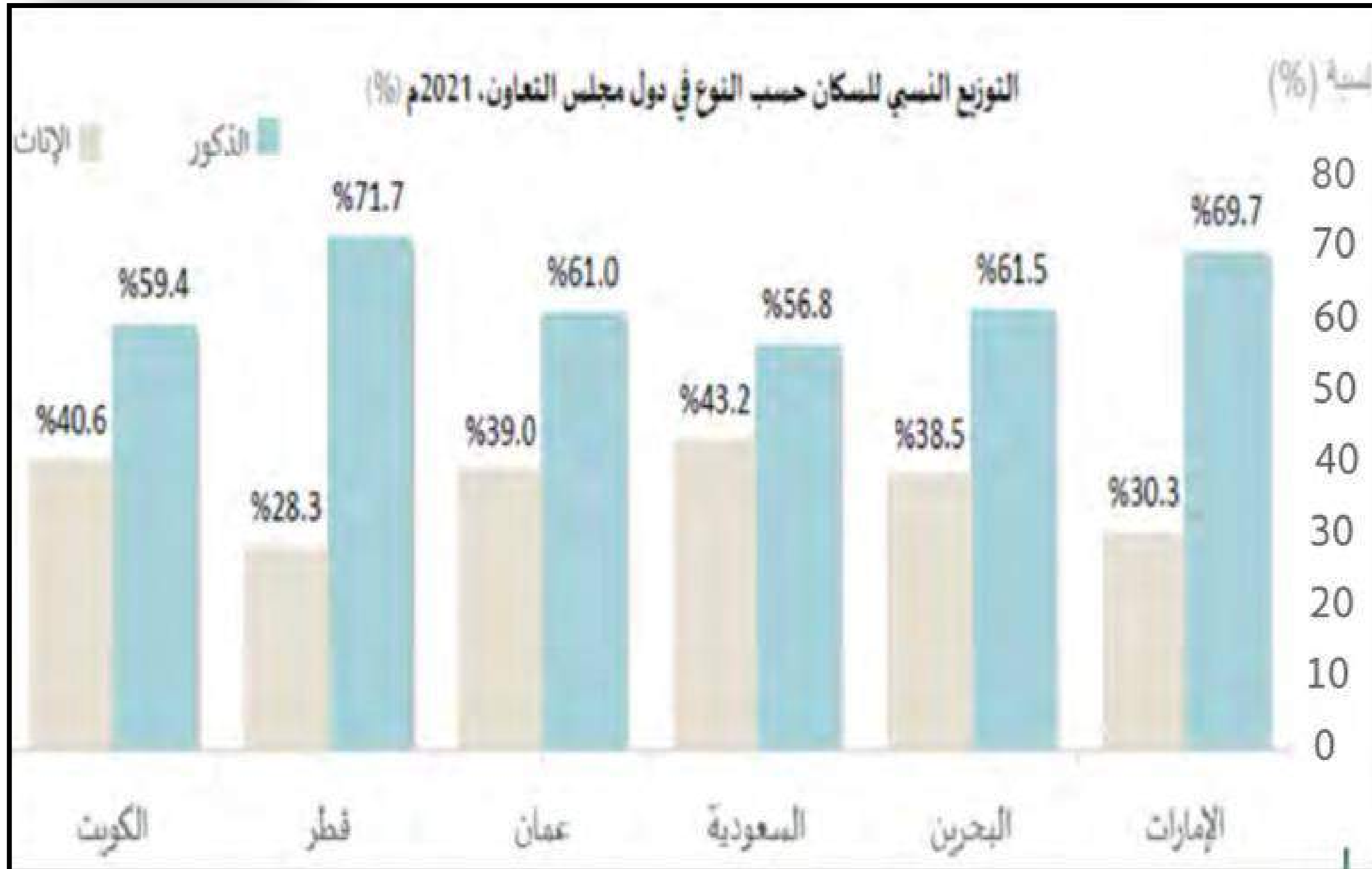
أ- عُمان

ب- قطر

ج- السعودية

د- الامارات

8





# الدولة التي تحتل المرتبة الاولى في اعداد الاناث ما بين دول مجلس التعاون الخليجي حسب الرسم البياني المقابل

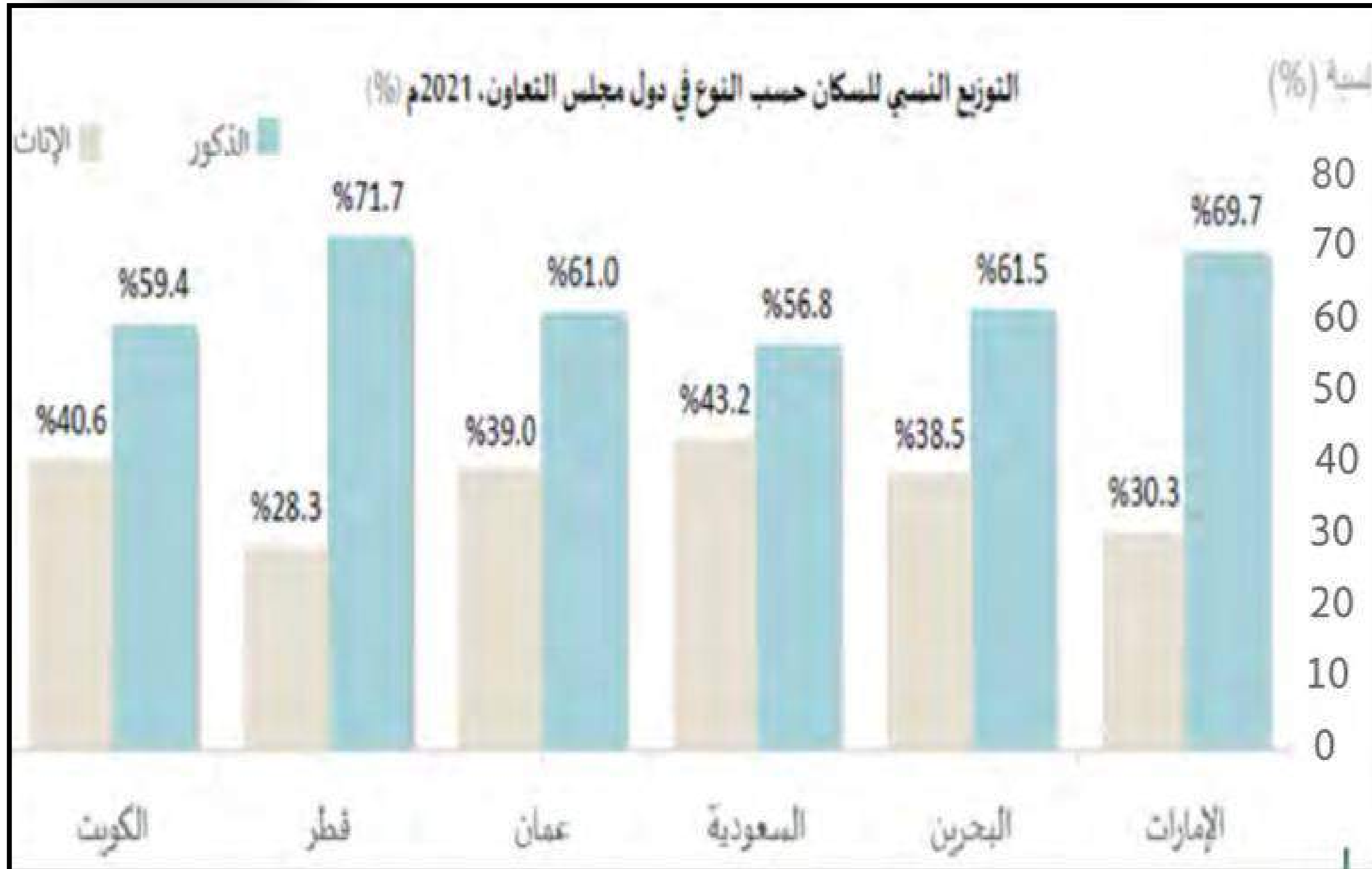
أ- عُمان

ب- قطر

ج- السعودية

د- الامارات

9





# يوصف الهرم المقابل في الشكل بأنه هرم ذو قاعدة



أ- عريضة

ب- متوسطة

ج- ضيقة



# يتميز الهرم المقابل في الشكل بارتفاع نسبة



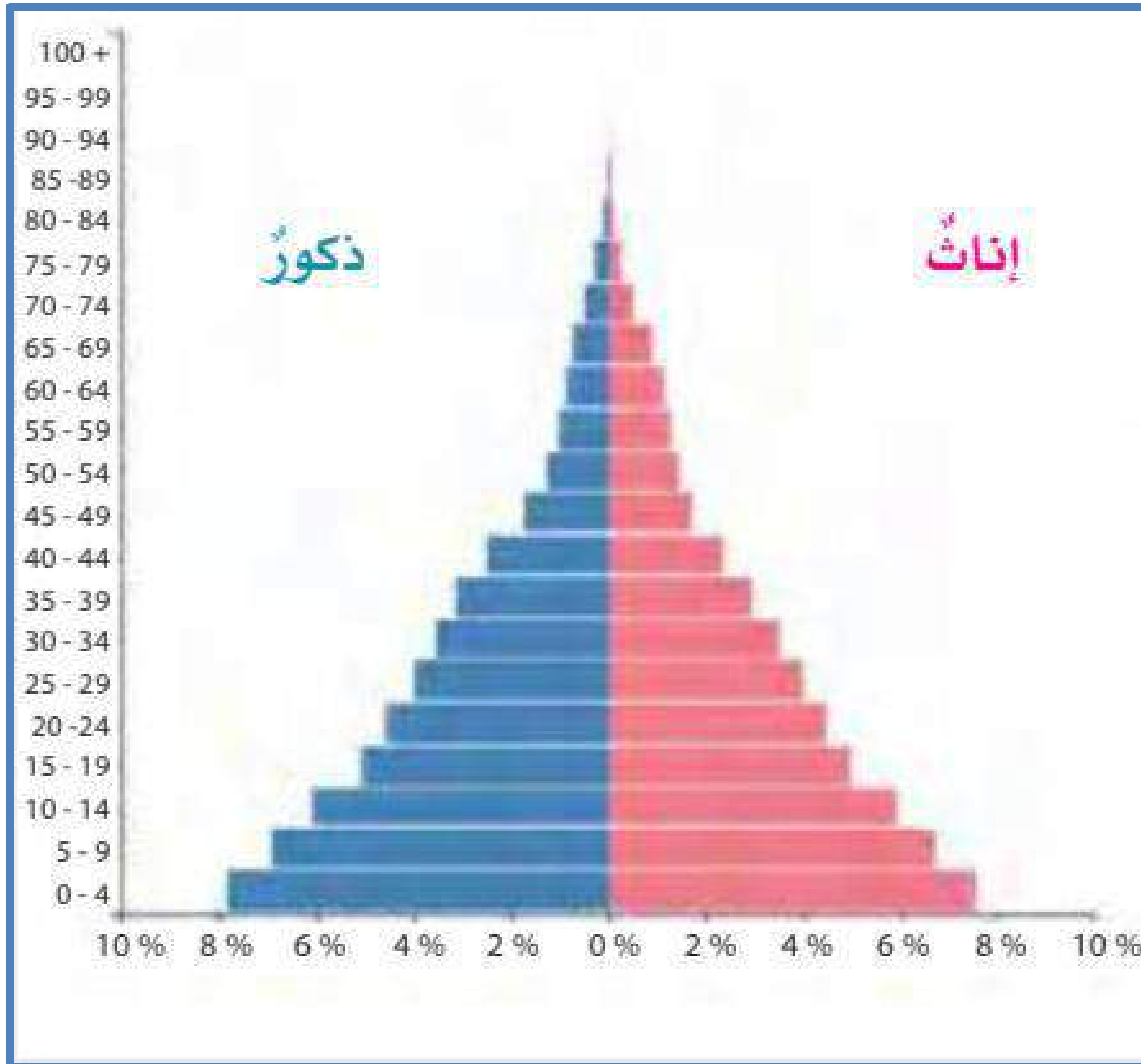
أ- صغار السن

ب- متوسطي السن

ج- كبار السن



# يوصف الهرم المقابل في الشكل بأنه هرم ذو قاعدة



أ- عريضة

ب- متوسطة

ج- ضيقة





# يتميز الهرم المقابل في الشكل بارتفاع نسبة

أ- صغار السن

ب- متوسطي السن

ج- كبار السن

14







حلّ

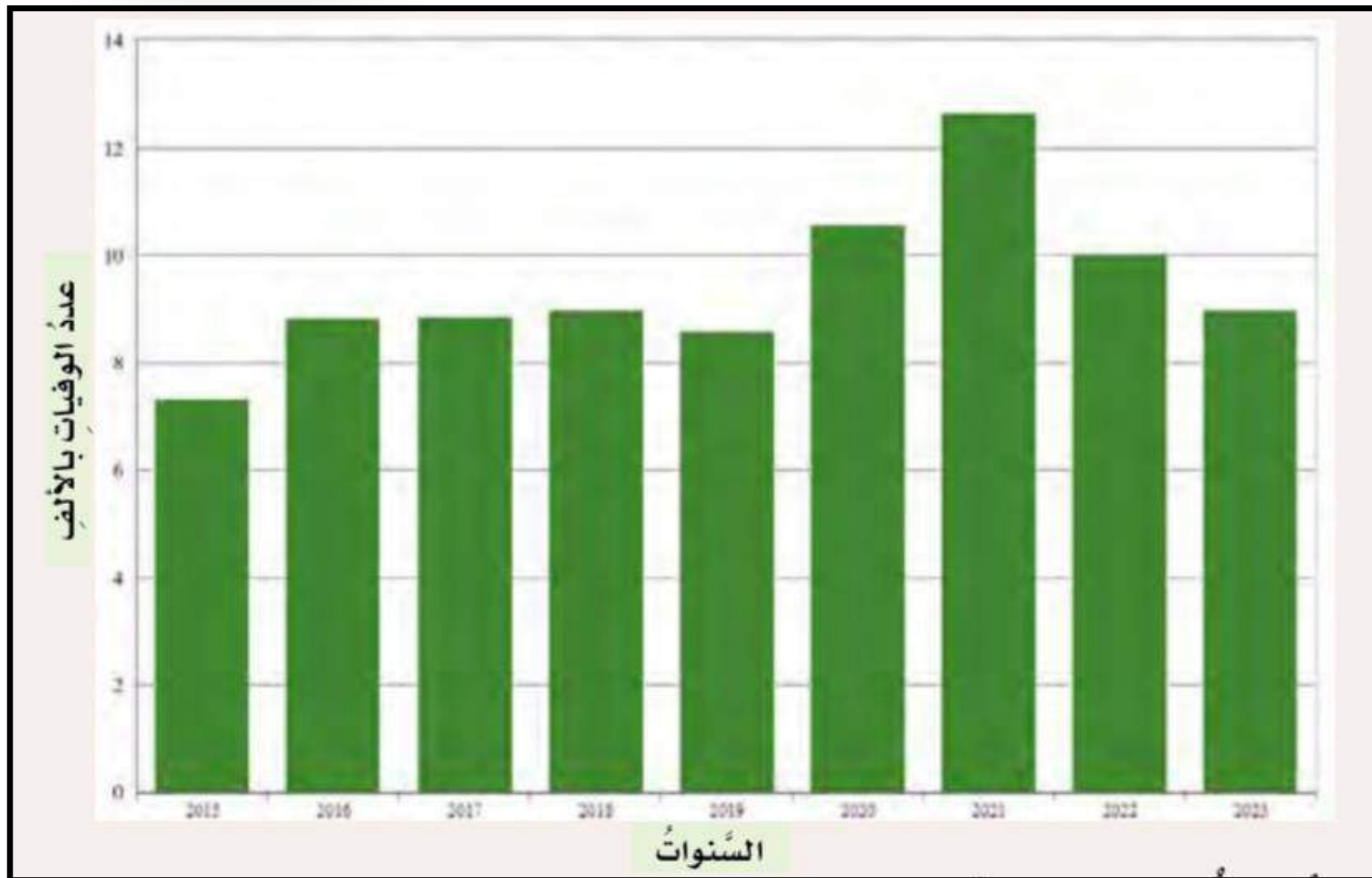
ادرس الشكل الآتي الذي يمثل عدد الوفيات في سلطنة عمان  
من (٢٠١٥ م - ٢٠٢٢ م)، ثم أجب عن الأسئلة التي تليه:

ماذا تلاحظ في عدد الوفيات من عام

2017 - 2019 م؟

تقارب في اعداد الوفيات

في السنوات الثلاث





حلّ

ادرس الشكل الآتي الذي يمثل عدد الوفيات في سلطنة عمان  
من (٢٠١٥ م – ٢٠٢٢ م)، ثم أجب عن الأسئلة التي تليه:

ما التغير الذي حدث في عدد الوفيات  
بعد عام 2019 م؟ فسر ذلك.

زيادة ملحوظة في عدد الوفيات بعد عام  
2019م بسبب انتشار جائحة كورونا

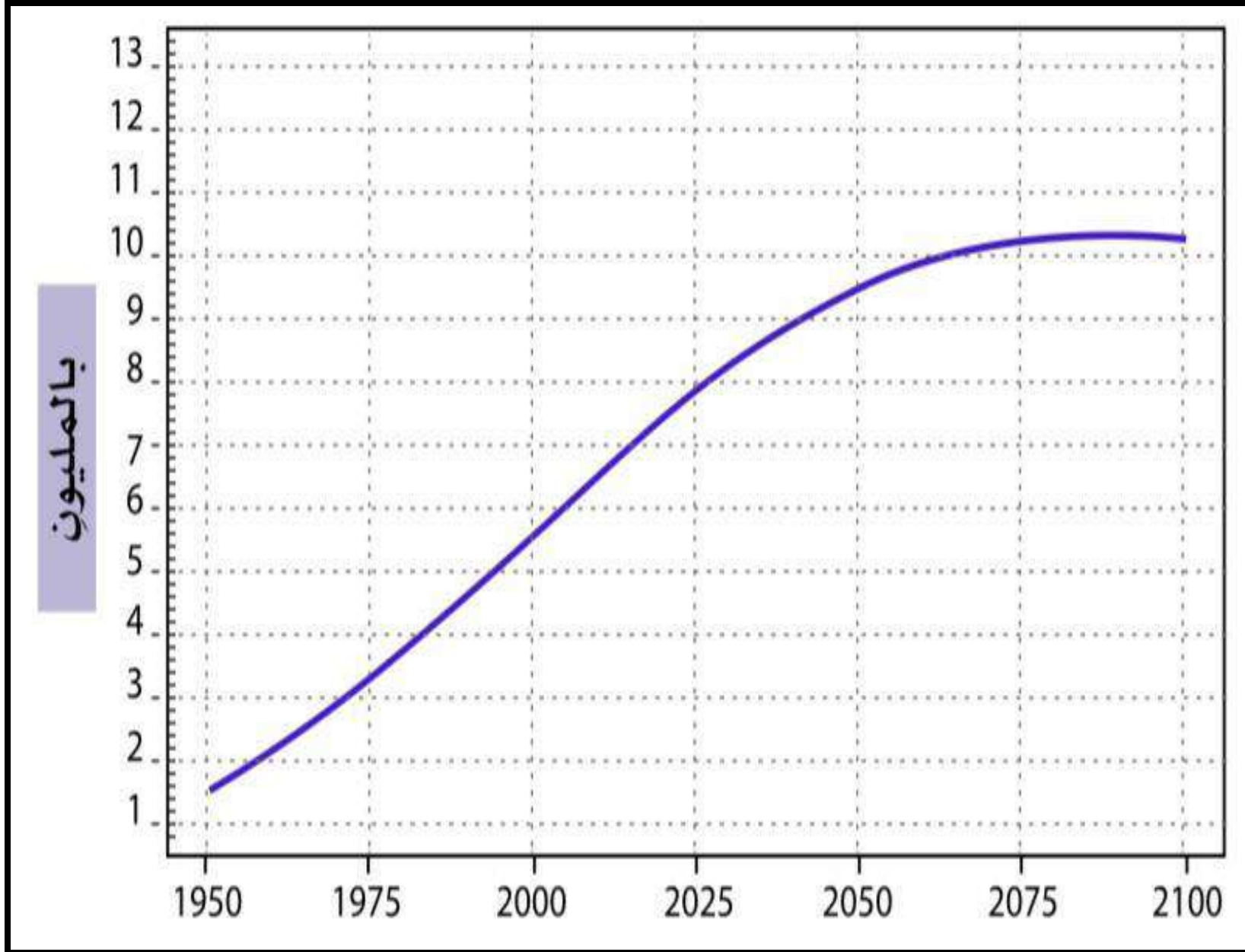
( كوفيد 19 )







# بالاستعانة بالشكل المقابل بلغ عدد سكان العالم في العام الميلادي 2025م نحو :-



أ- 6 مليار نسمة

ب- 7 مليار نسمة

ج- 8 مليار نسمة

د - 9 مليار نسمة

5



بالاستعانة بالشكل المقابل من المتوقع ان يصل  
عدد سكان العالم في العام الميلادي 2100م نحو :-

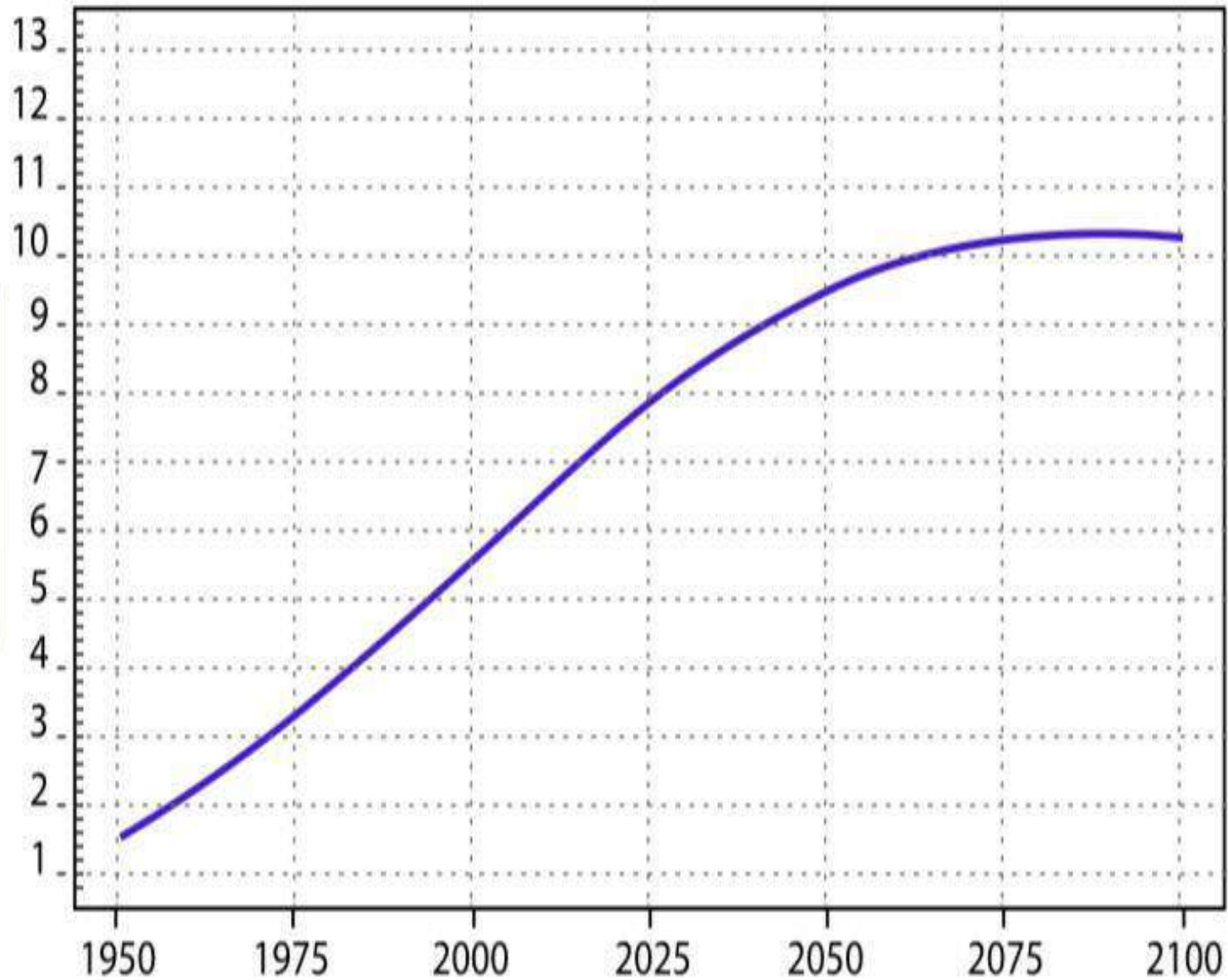
6

أ- 7 مليار نسمة

ب- 8 مليار نسمة

ج- 9 مليار نسمة

د - 10 مليار نسمة







# بالاستعانة بالشكل المقابل السنة التي شهدت أعلى نمو في سلطنة عمان؟ :-

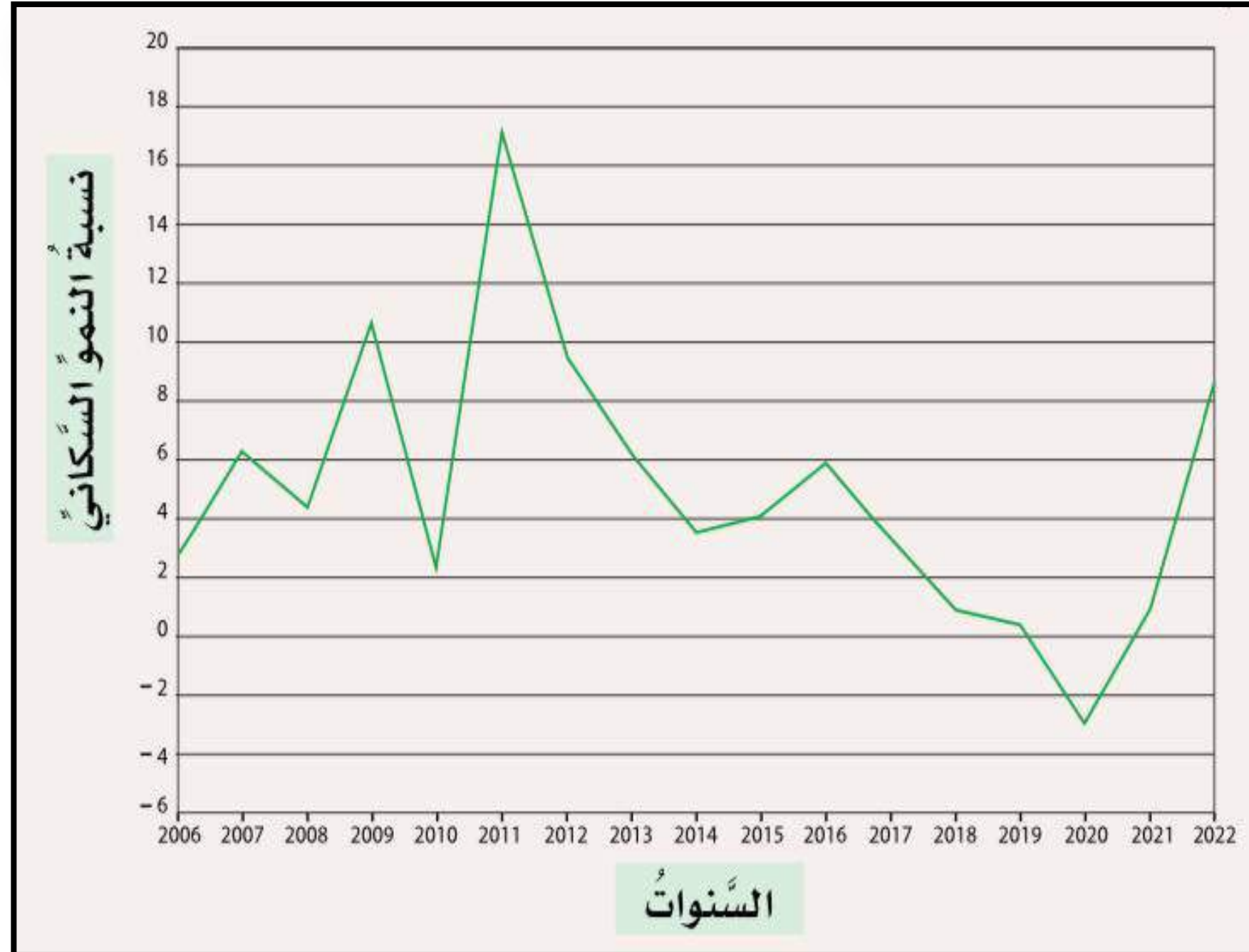
7

أ- 2009م

ب- 2011م

ج- 2020م

د - 2022م





# بالاستعانة بالشكل المقابل يوصف النمو السكاني في سلطنة عمان بأنه :-

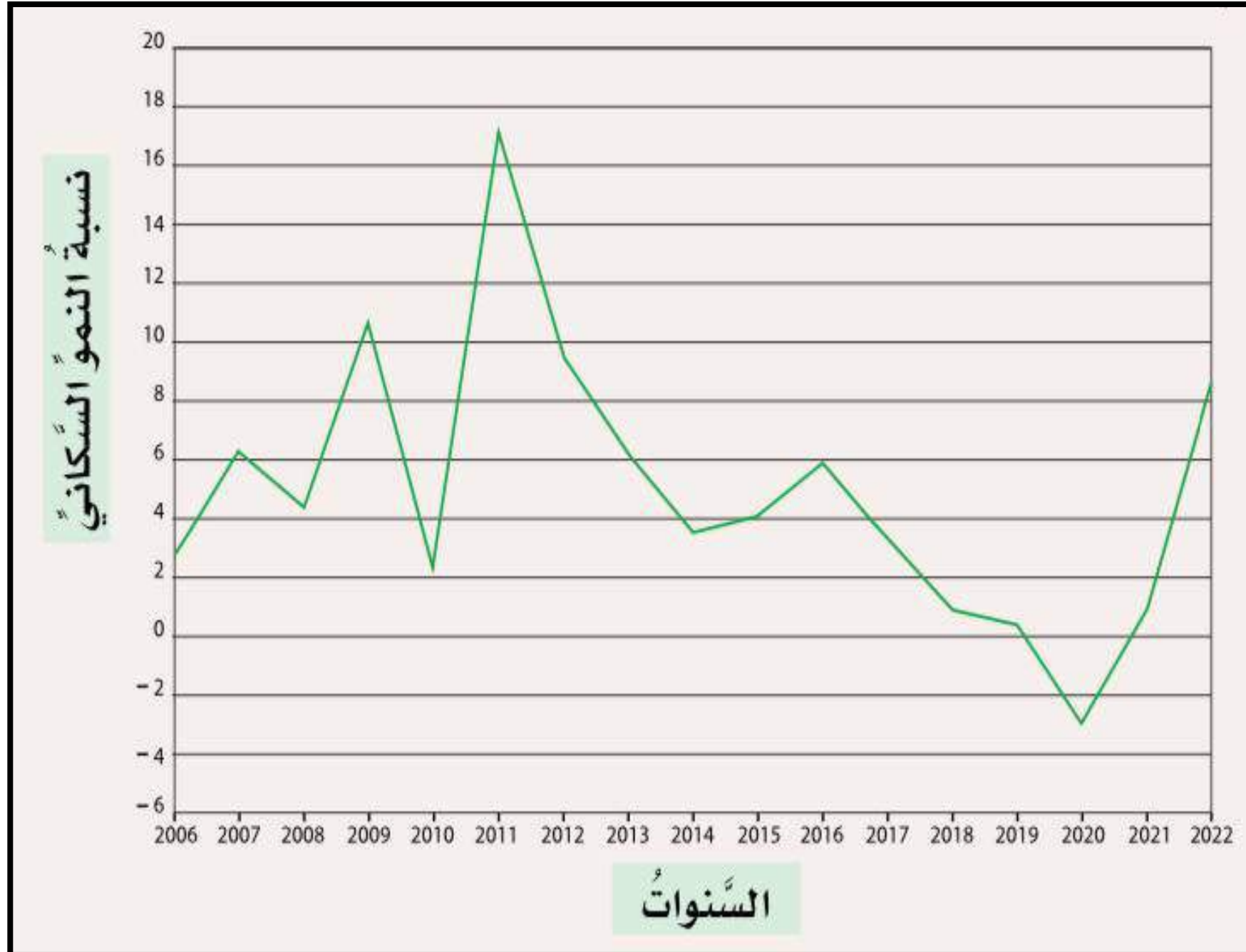
8

أ- مرتفع

ب- منخفض

ج- متذبذب

د- ثابت







# بالاستعانة بالشكل المقابل السنة التي شهدت أقل نمو في سلطنة عمان؟ :-

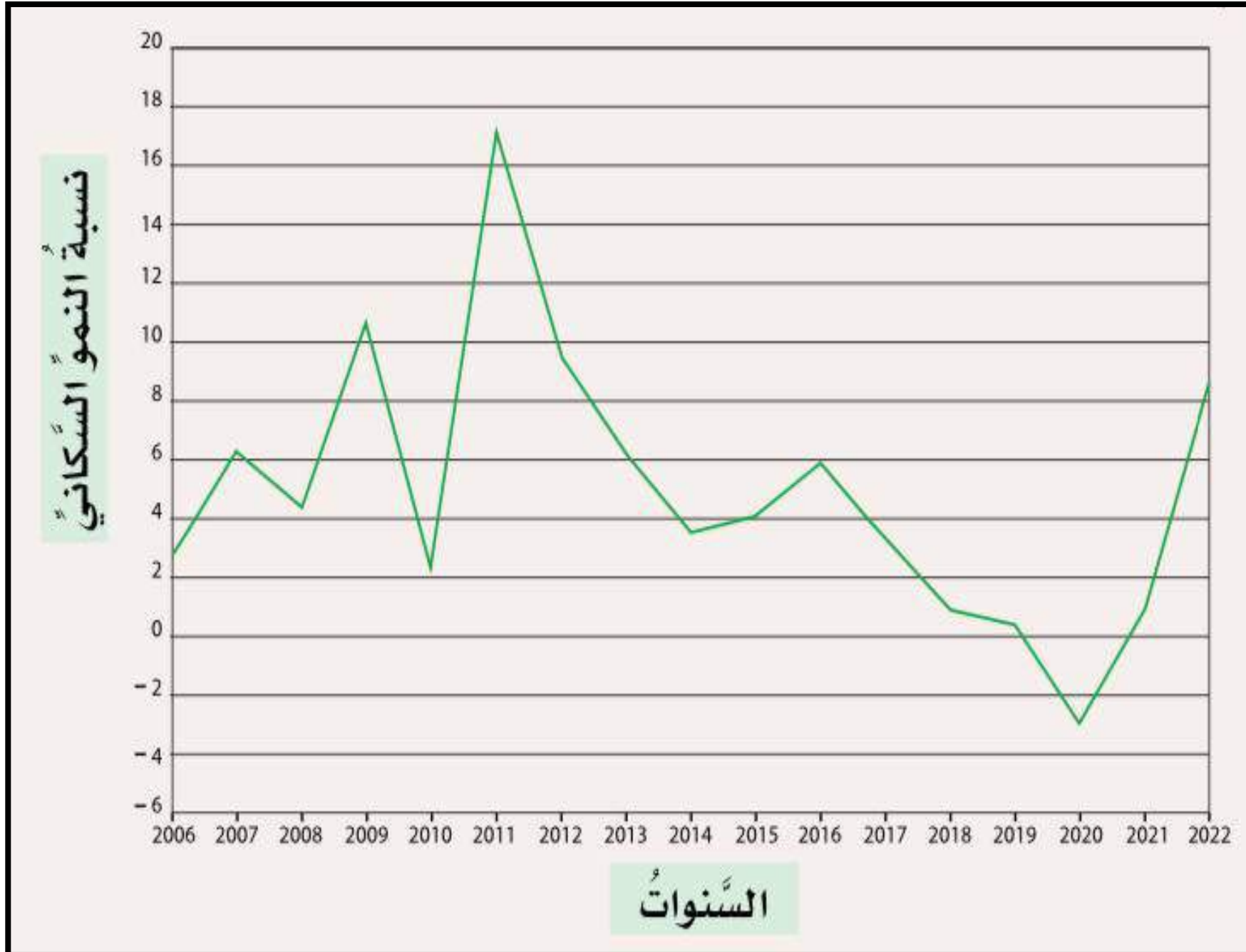
9

أ- 2009م

ب- 2011م

ج- 2020م

د - 2022م





# بالاستعانة بالشكل المقابل العام الميلادي الذي تشهد أكبر نسبة وفيات في العالم :-

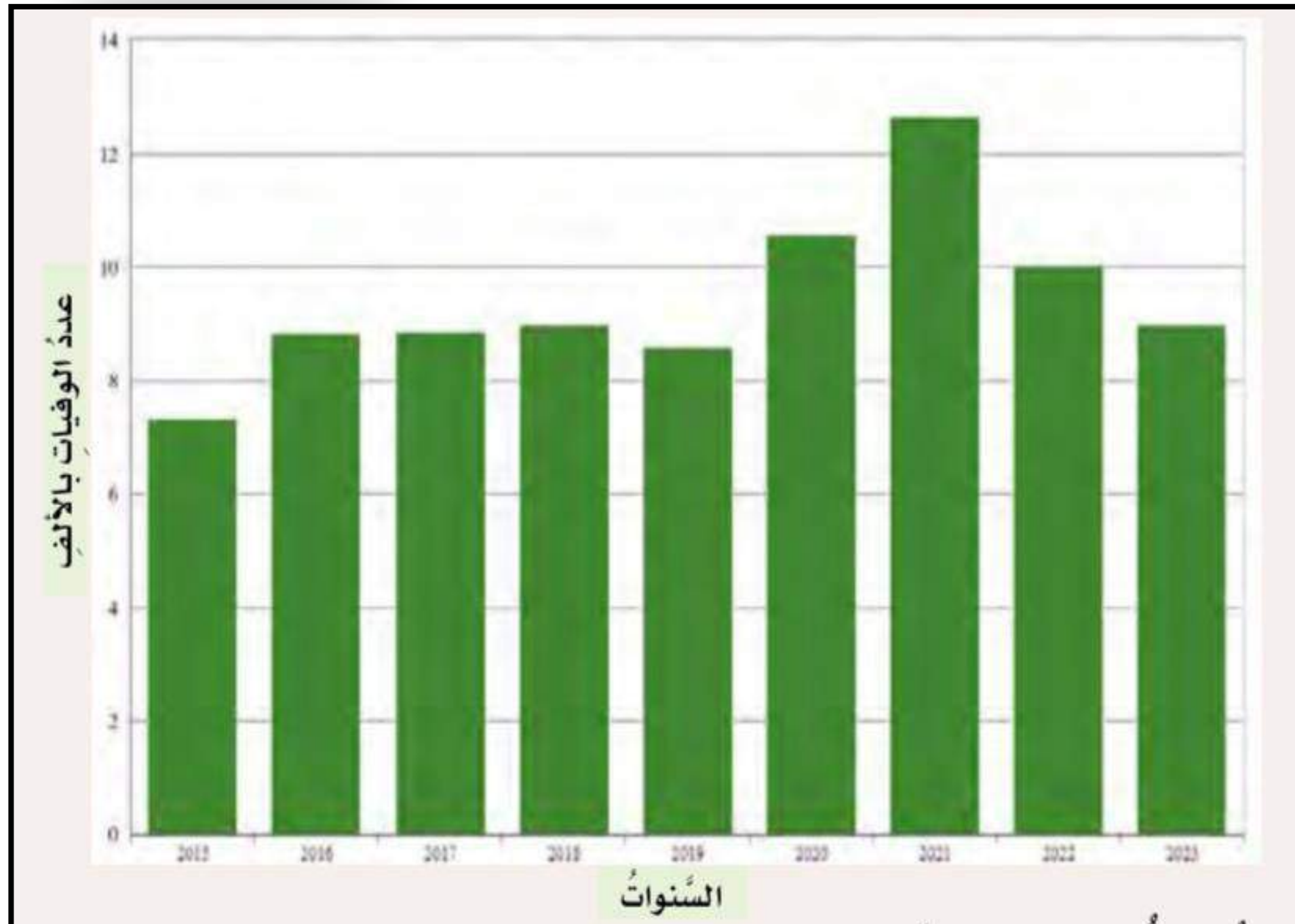
11

أ- 2009م

ب- 2011م

ج- 2020م

د - 2022م





## الاستعانة بالشكل المقابل

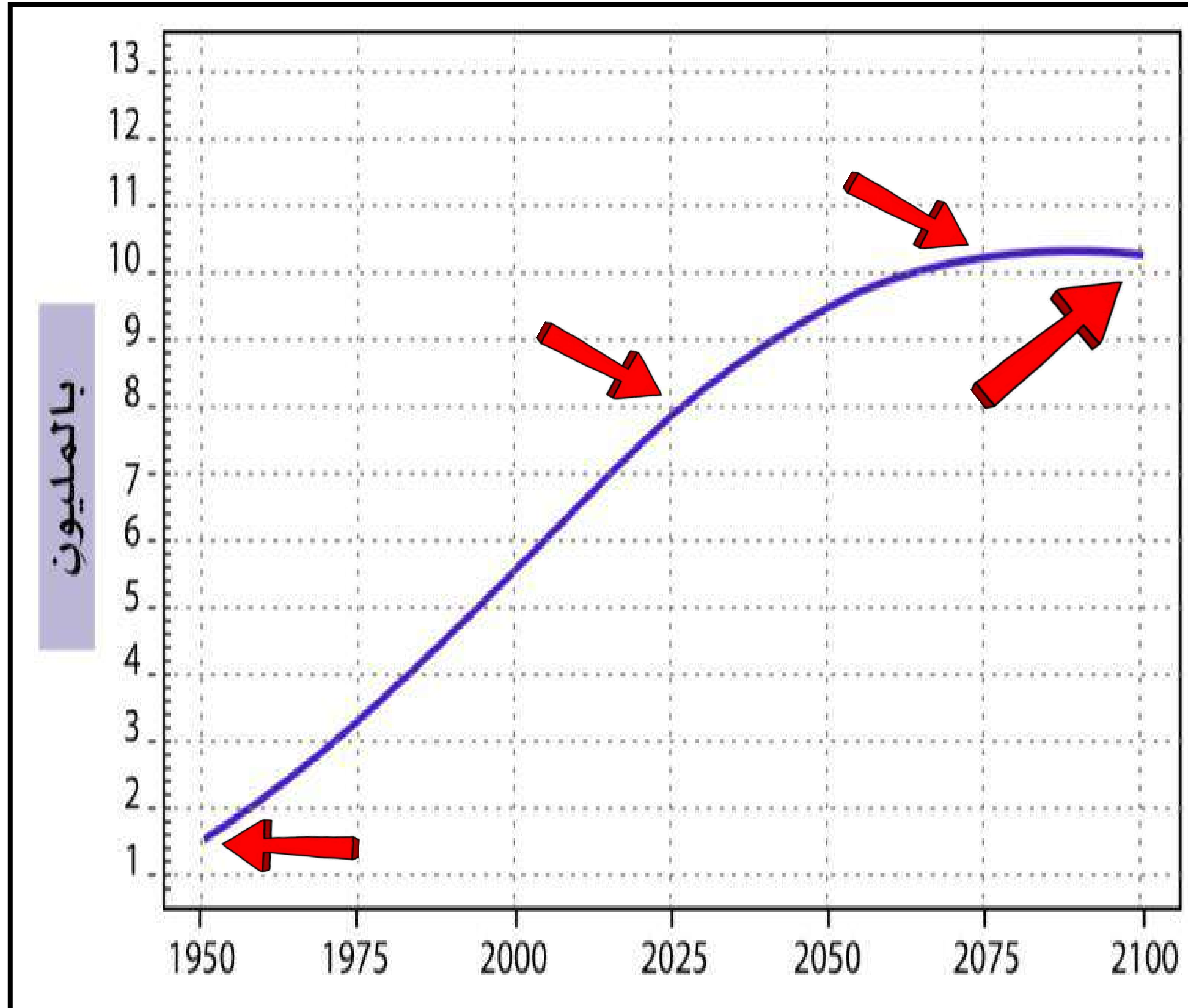
صف اعداد السكان من العالم

من عام (1950 - 2100 ) م

تشهد دول العالم خلال

السنوات الأخيرة **تزايدًا** في

أعداد السكان بشكل متزايد



ادرس الشكل الذي يمثل النمو السكاني في سلطنة عمان خلال  
الفترة من ٢٠٠٦ - ٢٠٢٢ م، ثم قم بالإجابة عما يلي:

١- صف النمو السكاني في سلطنة عمان خلال  
السنوات من (2006 - 2022).

(تذبذب) معدل النمو السكاني ارتفاعا وانخفاضاً  
ارتفع معدل النمو السكاني من 2006 م إلى 2011 م  
ثم استمر في الانخفاض الى 2020 م ثم بدأ  
في الارتفاع مرة اخرى عام 2021 م





٢- ما السنة التي شهدت أعلى نمو سكاني وأقل

نمو سكاني في سلطنة عمان؟

أعلى سنة نمواً سكانياً سنة 2011م

وأقل نمواً سكانياً سنة 2020م



حلل

16

٣- ما توقعت النمو السكاني في سلطنة

عمان مستقبلاً؟ ولماذا؟

ارتفاع معدل النمو السكاني في سلطنة عُمان

مستقبلاً بسبب

- تحسن الوضع المعيشي

- ارتفاع مستوى الخدمات الصحية

- وزيادة فئة متوسطي السن التي تتزوج

وتنجب ،مع قلة الوفيات.







ادرس الشكل الآتي الذي يمثل عدد الوفيات في سلطنة عمان  
من (٢٠١٥ م - ٢٠٢٢ م)، ثم أجب عن الأسئلة التي تليه:

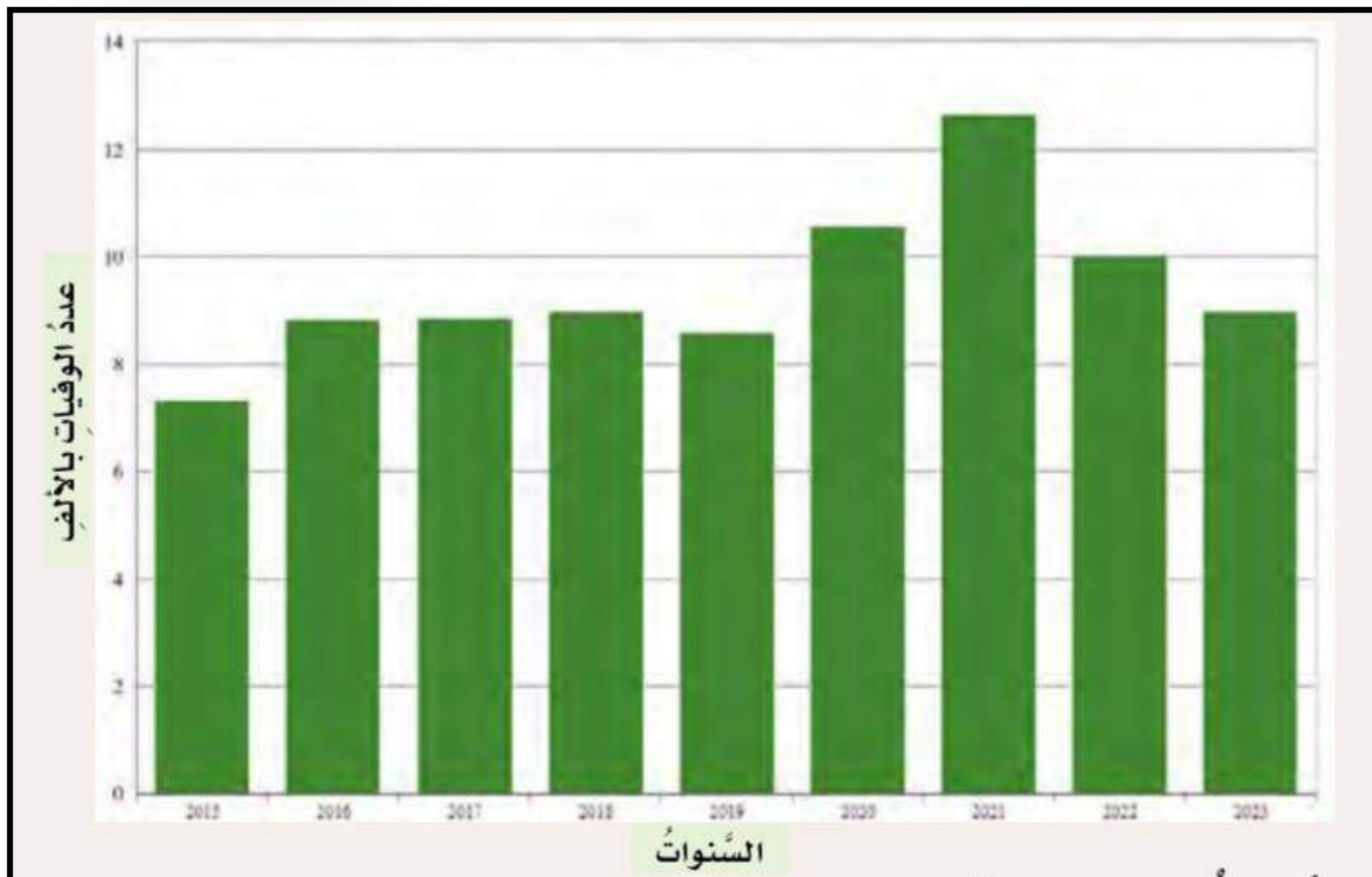
25

ماذا تلاحظ في عدد الوفيات من عام

2017 - 2019 م؟

تقارب في اعداد الوفيات

في السنوات الثلاث





26

ادرس الشكل الآتي الذي يمثل عدد الوفيات في سلطنة عمان  
من (٢٠١٥ م – ٢٠٢٢ م)، ثم أجب عن الأسئلة التي تليه:

ما التغير الذي حدث في عدد الوفيات

بعد عام 2019 م؟ فسر ذلك.

زيادة ملحوظة في عدد الوفيات بعد عام

2019م بسبب انتشار جائحة كورونا

( كوفيد 19 )







# العوامل المؤثرة في توزيع السكان

## العوامل البشرية

الاستقرار السياسي

الأنشطة الاقتصادية

الخدمات

## العوامل الطبيعية

التضاريس

المناخ

المسطحات المائية



# حِلِّل

ادرس الخرائط التي أمامك، ثم أجب عن الأسئلة التي تليها.



عدد السكان: 34308525 مليون نسمة.  
المساحة: 330803 كم<sup>2</sup>.  
الكثافة السكانية: (يُطلب حسابها في  
السؤال الأول)



عدد السكان: 38 مليون نسمة.  
المساحة: 9,984,670 كم<sup>2</sup>.  
الكثافة السكانية: 3.8 نسمة/كم<sup>2</sup>



عدد السكان: 12 مليون نسمة.  
المساحة: 163,610 كم<sup>2</sup>.  
الكثافة السكانية: 73.3 نسمة/كم<sup>2</sup>



## طَبِّقْ

أدرس الجدول الآتي الموضح لعدد سكان محافظات سلطنة عمان لعام ٢٠٢٣ م، ثم  
أجب عن الأسئلة التي تليه:

١- احسب الكثافة السكانية لباقي المحافظات.

٢- رتب المحافظات تنازلياً من حيث الكثافة السكانية فيها.

٣- علل: ارتفاع الكثافة السكانية في محافظة مسقط، وانخفاضها في محافظة الوسطى.

المحافظة	عدد السكان (نسمة)	المساحة (كم <sup>٢</sup> )	الكثافة السكانية (نسمة / كم <sup>٢</sup> )
مَسْقَطُ	١,٤٠١,٤٥٩	٣,٧٦٢	٣٧٢,٥
جنوب الباطنة	٥١٨,٠٤٠	٥,٢٨٢	.....
شمال الباطنة	٨٧٢,٠١٤	٧,٩٢٨	١١٠
الداخلية	٥٣٣,٦٧٧	٣١,٥٢٥	.....
جنوب الشرقية	٣٤٩,٧٥٤	١١,٨٨٧	.....
شمال الشرقية	٣٠١,٢٣٨	٢١,٦٢٣	١٤
الظاهرة	٢٣٢,٨٦٥	٣٥,٩٣٧	.....
البريمي	١٢٥,٧٤٢	٧,٦١٧	١٦,٥
مسندم	٥٣,٢٢٤	١,٦٢٢	.....
الوسطى	٥٩,٤٦٨	٨٣,١٣٤	٠,٧
ظفار	٤٨٦,٣٦٩	٩٨,٢٤٩	.....

المحافظة	الكثافة السكانية (نسمة / كم ٢)
جنوب الباطنة	٩٨,١
الداخلية	١٦,٩
جنوب الشرقية	٢٩,٤
الظاهرة	٦,٥
مسندم	٣٢,٨
ظفار	٥



المحافظة	عدد السكان (نسمة)	المساحة (كم ٢)	الكثافة السكانية (نسمة / كم ٢)
مسقط	١,٤٠١,٤٥٩	٣,٧٦٢	٣٧٢,٥
جنوب الباطنة	٥١٨,٠٤٠	٥,٢٨٢	98.1
شمال الباطنة	٨٧٢,٠١٤	٧,٩٢٨	١١٠
الداخلية	٥٣٣,٦٧٧	٣١,٥٢٥	16,9
جنوب الشرقية	٣٤٩,٧٥٤	١١,٨٨٧	29,4
شمال الشرقية	٣٠١,٢٣٨	٢١,٦٢٣	١٤
الظاهرة	٢٣٢,٨٦٥	٣٥,٩٣٧	6,5
البريمي	١٢٥,٧٤٢	٧,٦١٧	١٦,٥
مسندم	٥٣,٢٢٤	١,٦٢٢	32,8
الوسطى	٥٩,٤٦٨	٨٣,١٣٤	٠,٧
ظفار	٤٨٦,٣٦٩	٩٨,٢٤٩	5



## ٢- رتب المحافظات تنازليًا من حيث

### الكثافة السكانية

المحافظة	عدد السكان (نسمة)	المساحة (كم <sup>٢</sup> )	الكثافة السكانية (نسمة/كم <sup>٢</sup> )
مَسْقَطُ	١,٤٠١,٤٥٩	٣,٧٦٢	٣٧٢,٥
جنوبُ الباطنة	٥١٨,٠٤٠	٥,٢٨٢	98.1
شمالُ الباطنة	٨٧٢,٠١٤	٧,٩٢٨	١١٠
الداخلية	٥٣٣,٦٧٧	٣١,٥٢٥	16,9
جنوبُ الشرقيّة	٣٤٩,٧٥٤	١١,٨٨٧	29,4
شمالُ الشرقيّة	٣٠١,٢٣٨	٢١,٦٢٣	١٤
الظاهرة	٢٣٢,٨٦٥	٣٥,٩٣٧	6,5
البريمي	١٢٥,٧٤٢	٧,٦١٧	١٦,٥
مسندم	٥٣,٢٢٤	١,٦٢٢	32,8
الوسطى	٥٩,٤٦٨	٨٣,١٣٤	٠,٧
ظفار	٤٨٦,٣٦٩	٩٨,٢٤٩	5

1- مسقط

7- البريمي

2- شمال الباطنة

8- الشرقية

3- جنوب الباطنة

9- الظاهرة

4- مسندم

10- ظفار

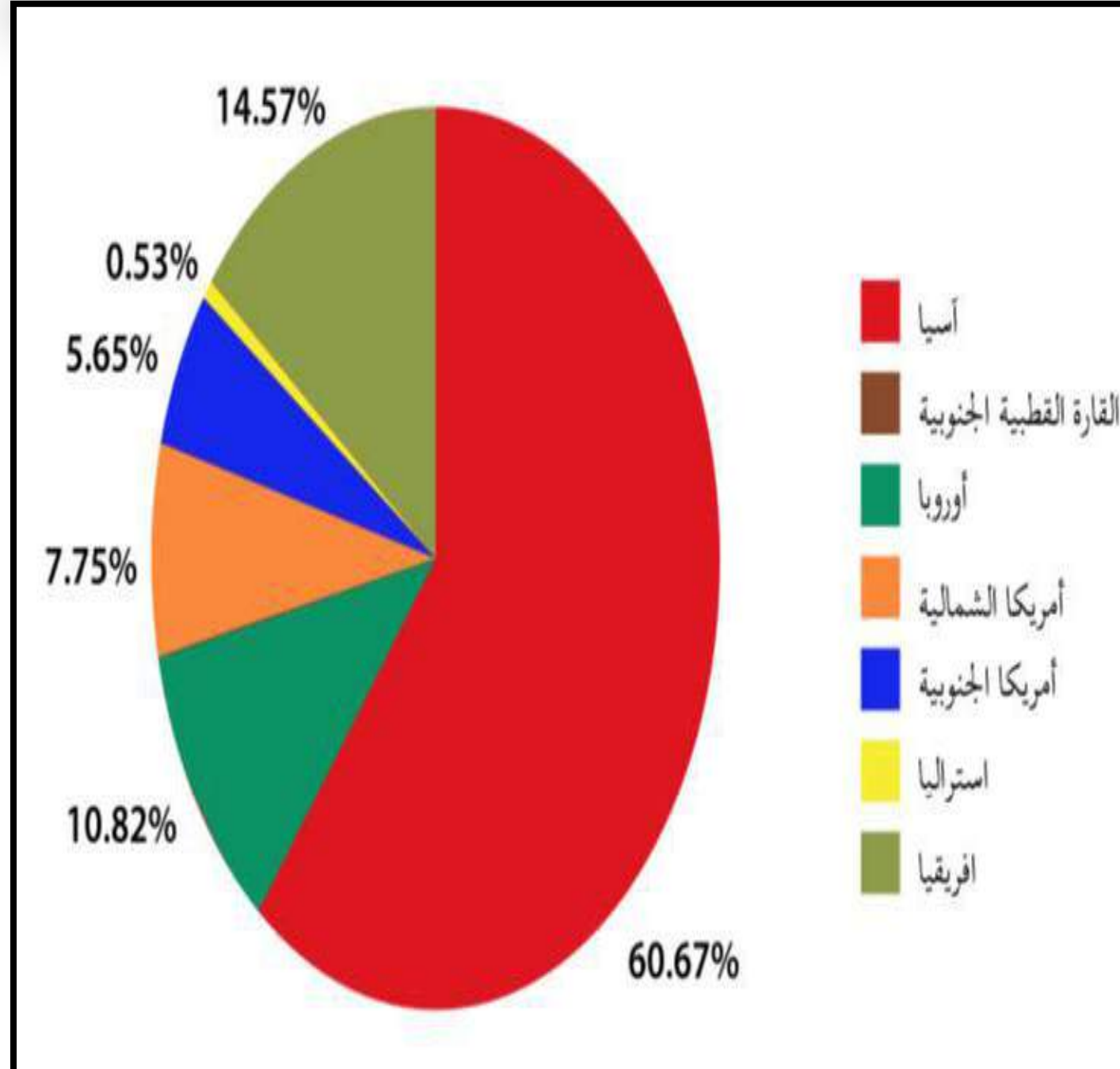
5- جنوب الشرقية

11- الوسطى

6- الداخلية



# بالاستعانة بالشكل المقابل القارة التي تحتل المرتبة الثانية من حيث نسبة السكان :-



أ- افريقيا

ب- اوربا

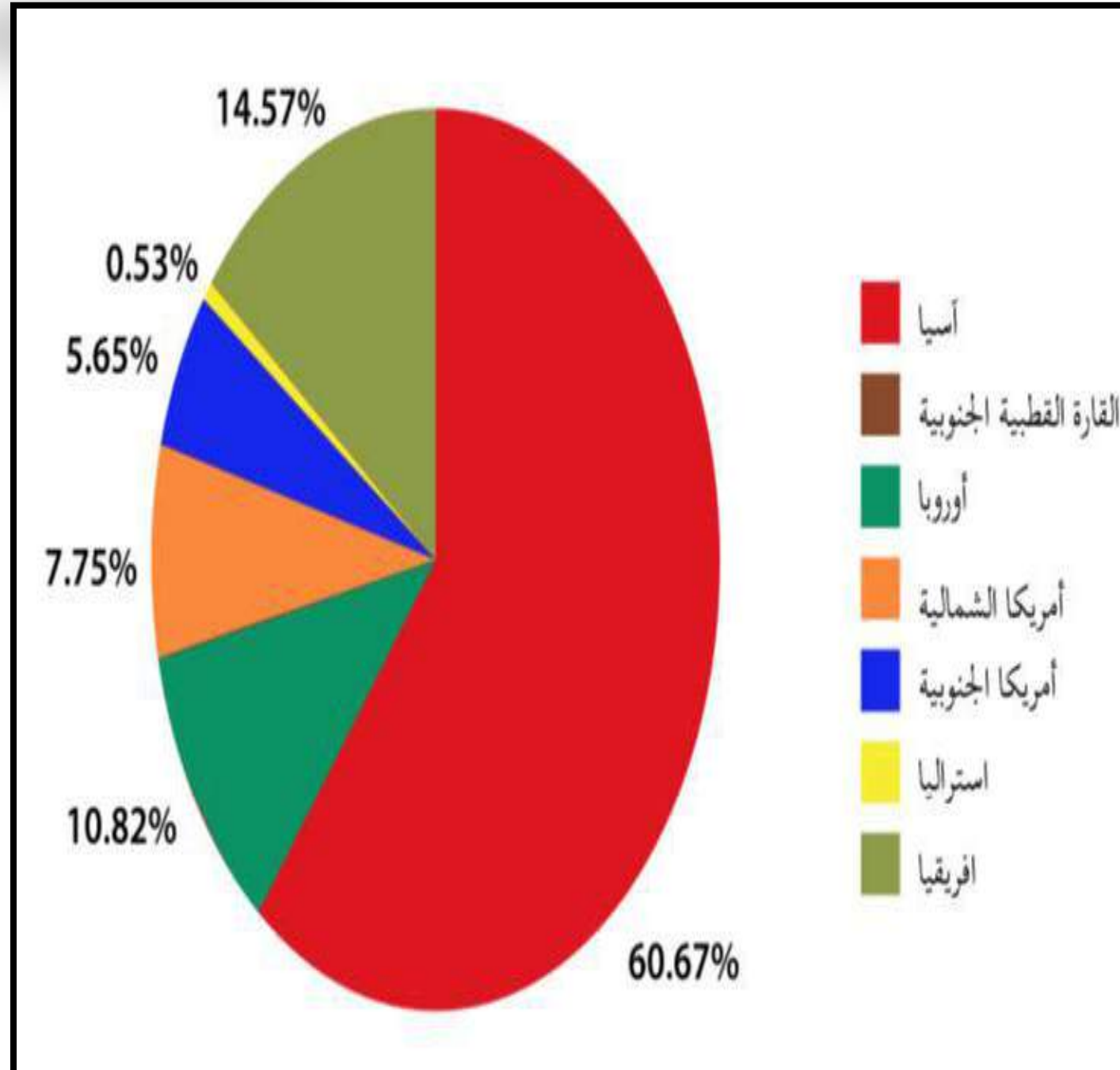
ج - اسيا

د - أمريكا الشمالية





# بالاستعانة بالشكل المقابل أقل قارات العالم سكانا :-



أ- أمريكا الجنوبية

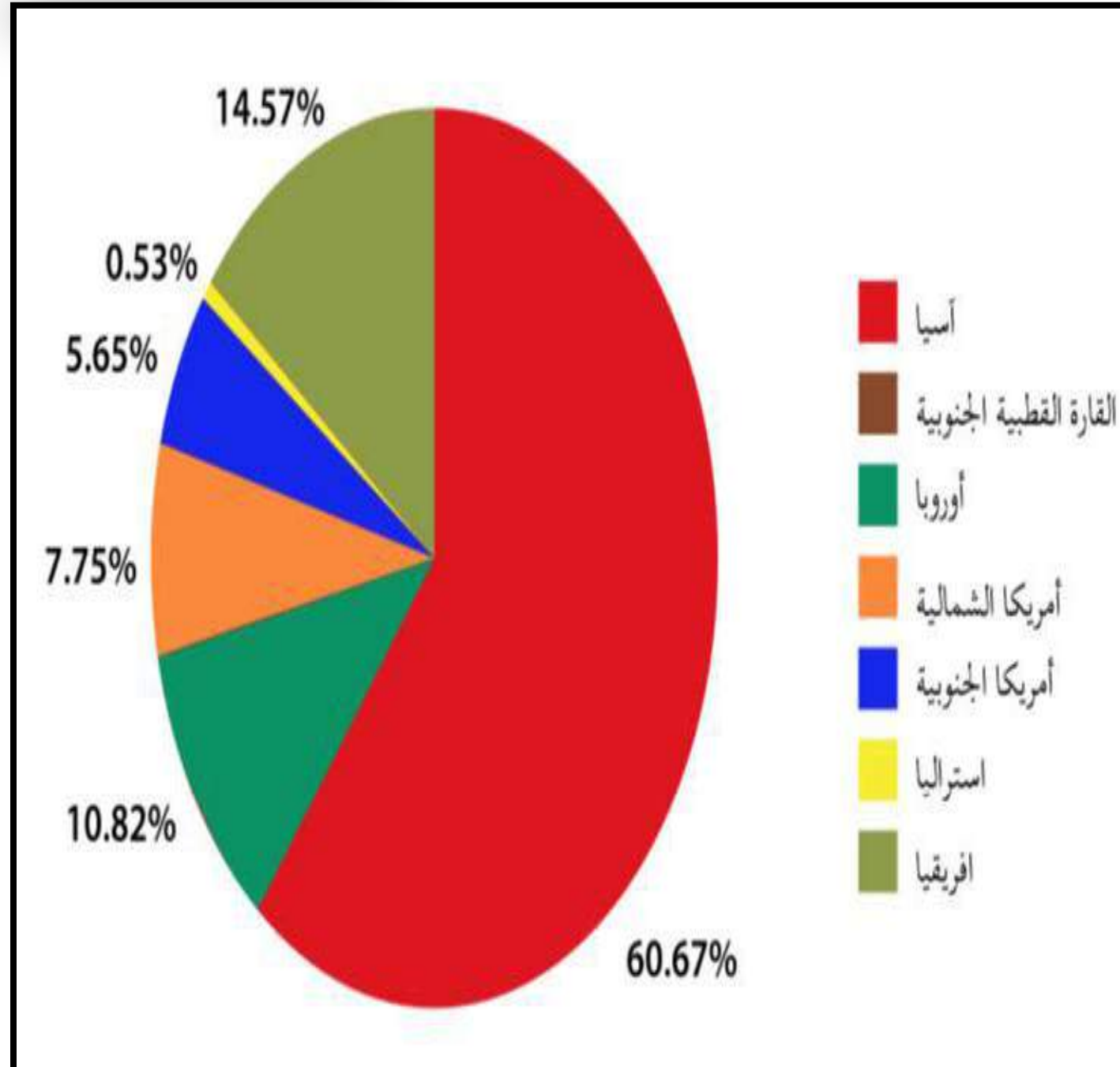
ب- استراليا

ج- أمريكا الشمالية

د - اوربا



# بالاستعانة بالشكل المقابل القارة التي تحتل المرتبة الثالثة من حيث نسبة السكان :-



أ- افريقيا

ب- اوربا

ج - اسيا

د - أمريكا الشمالية





# بالاستعانة بالشكل المقابل أقل محافظات السلطنة كثافة سكانية محافظة:-

المحافظة	عدد السكان (نسمة)	المساحة (كم <sup>2</sup> )	الكثافة السكانية (نسمة / كم <sup>2</sup> )
مَسْقَطُ	١,٤٠١,٤٥٩	٣,٧٦٢	٣٧٢,٥
جنوبُ الباطنة	٥١٨,٠٤٠	٥,٢٨٢	<b>98.1</b>
شمالُ الباطنة	٨٧٢,٠١٤	٧,٩٢٨	١١٠
الداخلية	٥٣٣,٦٧٧	٣١,٥٢٥	<b>16,9</b>
جنوبُ الشرقيّة	٣٤٩,٧٥٤	١١,٨٨٧	<b>29,4</b>
شمالُ الشرقيّة	٣٠١,٢٣٨	٢١,٦٢٣	١٤
الظاهرة	٢٣٢,٨٦٥	٣٥,٩٣٧	<b>6,5</b>
البريمي	١٢٥,٧٤٢	٧,٦١٧	١٦,٥
مسندم	٥٣,٢٢٤	١,٦٢٢	<b>32,8</b>
الوسطى	٥٩,٤٦٨	٨٣,١٣٤	٠,٧
ظفار	٤٨٦,٣٦٩	٩٨,٢٤٩	<b>5</b>

أ- ظفار

ب- البريمي

ج - الوسطى

د - مسندم

9



# بالاستعانة بالشكل المقابل اكبر محافظات السلطنة كثافة سكانية محافظة:-

المحافظة	عدد السكان (نسمة)	المساحة (كم <sup>2</sup> )	الكثافة السكانية (نسمة / كم <sup>2</sup> )
مسقط	١,٤٠١,٤٥٩	٣,٧٦٢	٣٧٢,٥
جنوب الباطنة	٥١٨,٠٤٠	٥,٢٨٢	98.1
شمال الباطنة	٨٧٢,٠١٤	٧,٩٢٨	١١٠
الداخلية	٥٣٣,٦٧٧	٣١,٥٢٥	16,9
جنوب الشرقية	٣٤٩,٧٥٤	١١,٨٨٧	29,4
شمال الشرقية	٣٠١,٢٣٨	٢١,٦٢٣	١٤
الظاهرة	٢٣٢,٨٦٥	٣٥,٩٣٧	6,5
البريمي	١٢٥,٧٤٢	٧,٦١٧	١٦,٥
مسندم	٥٣,٢٢٤	١,٦٢٢	32,8
الوسطى	٥٩,٤٦٨	٨٣,١٣٤	٠,٧
ظفار	٤٨٦,٣٦٩	٩٨,٢٤٩	5

أ- ظفار

ب- مسقط

12

ج - شمال الباطنة

د - جنوب الباطنة





# بالاستعانة بالشكل المقابل ثاني أكبر محافظات السلطنة كثافة سكانية محافظة:-

المحافظة	عدد السكان (نسمة)	المساحة (كم <sup>2</sup> )	الكثافة السكانية (نسمة/كم <sup>2</sup> )
مسقط	١,٤٠١,٤٥٩	٣,٧٦٢	٣٧٢,٥
جنوب الباطنة	٥١٨,٠٤٠	٥,٢٨٢	98.1
شمال الباطنة	٨٧٢,٠١٤	٧,٩٢٨	١١٠
الداخلية	٥٣٣,٦٧٧	٣١,٥٢٥	16,9
جنوب الشرقية	٣٤٩,٧٥٤	١١,٨٨٧	29,4
شمال الشرقية	٣٠١,٢٣٨	٢١,٦٢٣	١٤
الظاهرة	٢٣٢,٨٦٥	٣٥,٩٣٧	6,5
البريمي	١٢٥,٧٤٢	٧,٦١٧	١٦,٥
مسندم	٥٣,٢٢٤	١,٦٢٢	32,8
الوسطى	٥٩,٤٦٨	٨٣,١٣٤	٠,٧
ظفار	٤٨٦,٣٦٩	٩٨,٢٤٩	5

أ- ظفار

ب- جنوب الباطنة

ج- شمال الباطنة

د - مسندم

13



حلّ

بالاستعانة بالشكل المقابل ،  
أجب عن الأسئلة الآتية:

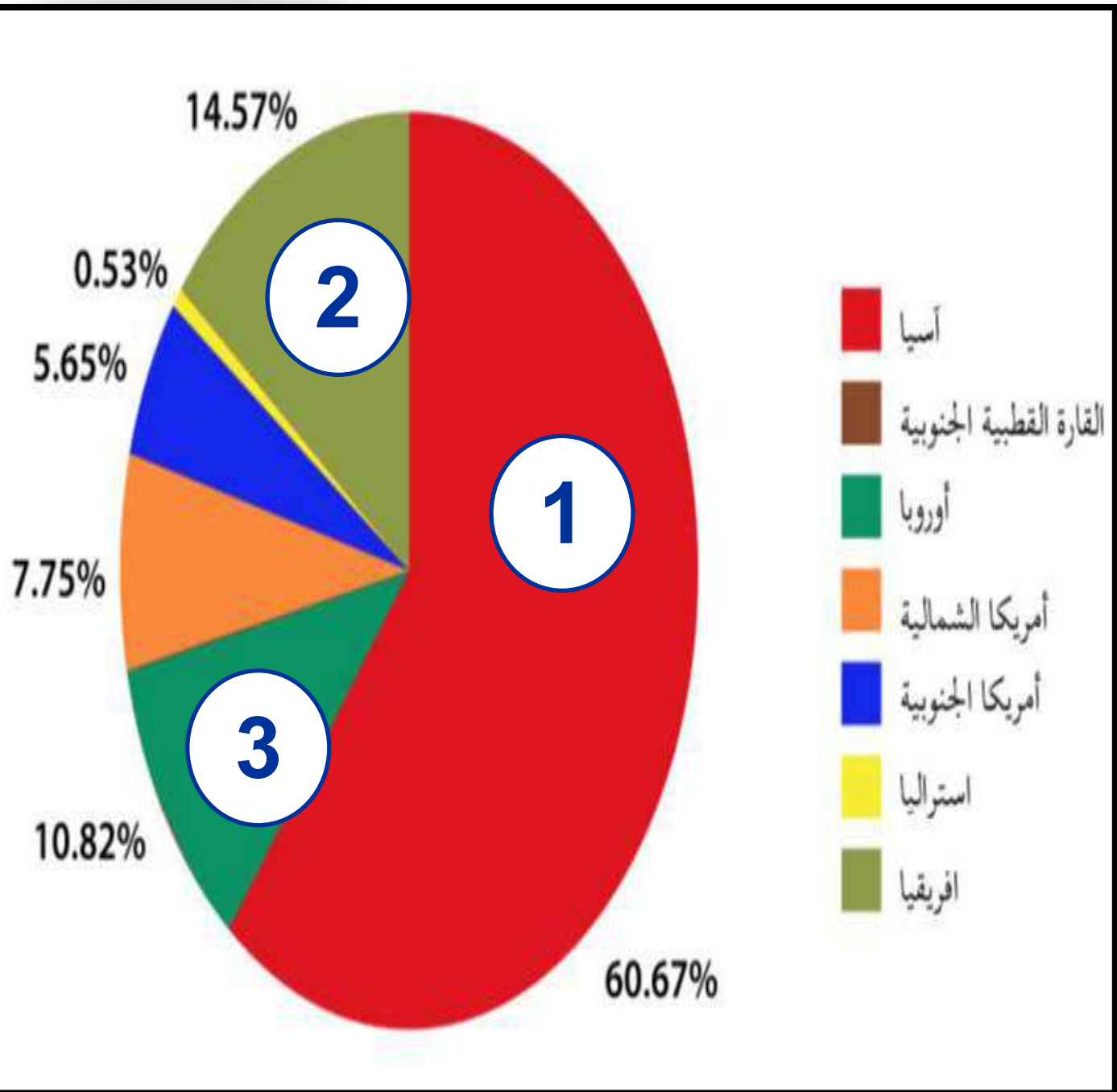
18

٢- استخراج:

أ. أكثر ثلاث قارات يتركز فيها السكان.

اسيا – افريقيا – اوربا

ب. القارة الأقل سكانًا في العالم.  
استراليا







## الخط الزمني للدول الإسلامية:

هجرة النبي  
1هـ ﷺ

وفاة النبي  
11هـ ﷺ

بداية عهد الخلفاء  
الراشدين 11هـ

نهاية عهد الخلفاء  
الراشدين 41هـ

بداية الدولة الأموية 41هـ

نهاية الدولة  
الأموية 132هـ

بداية الدولة  
العباسية 132هـ

نهاية الدولة  
العباسية 656هـ







# الفتوحات الإسلامية

**اتسعت** حركة الفتوحات الإسلامية في عصر الدولة الأموية، فامتدّت الفتوحات لتشمل **بلاد** **السند، وبلاد ما وراء النهر شرقاً،** **إلى المغرب والأندلس غرباً**

(الشكل ١)


مما أدى إلى انتشار الإسلام في المناطق المفتوحة.



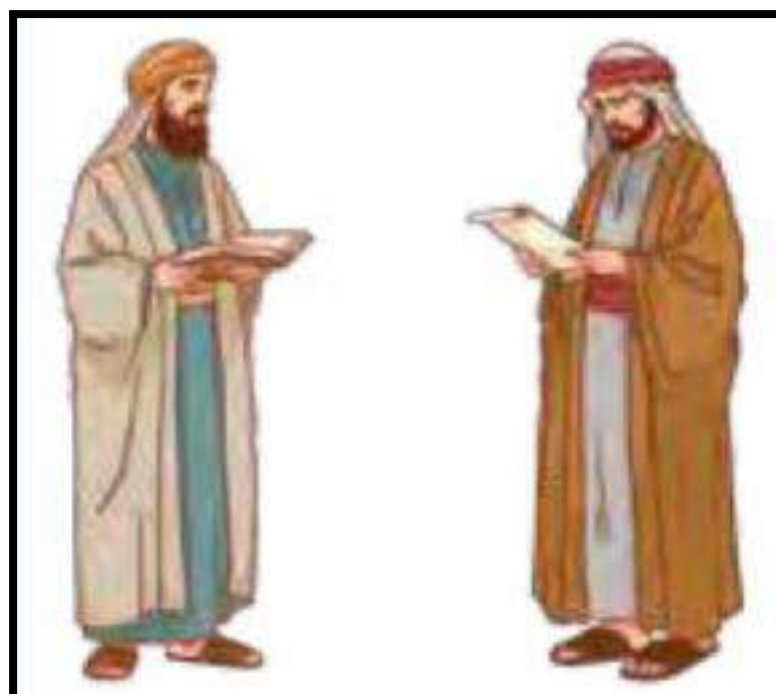
الشكل (1) امتداد الدولة الإسلامية في العصر الأموي.



العسكري



الإداري



الاقتصادي



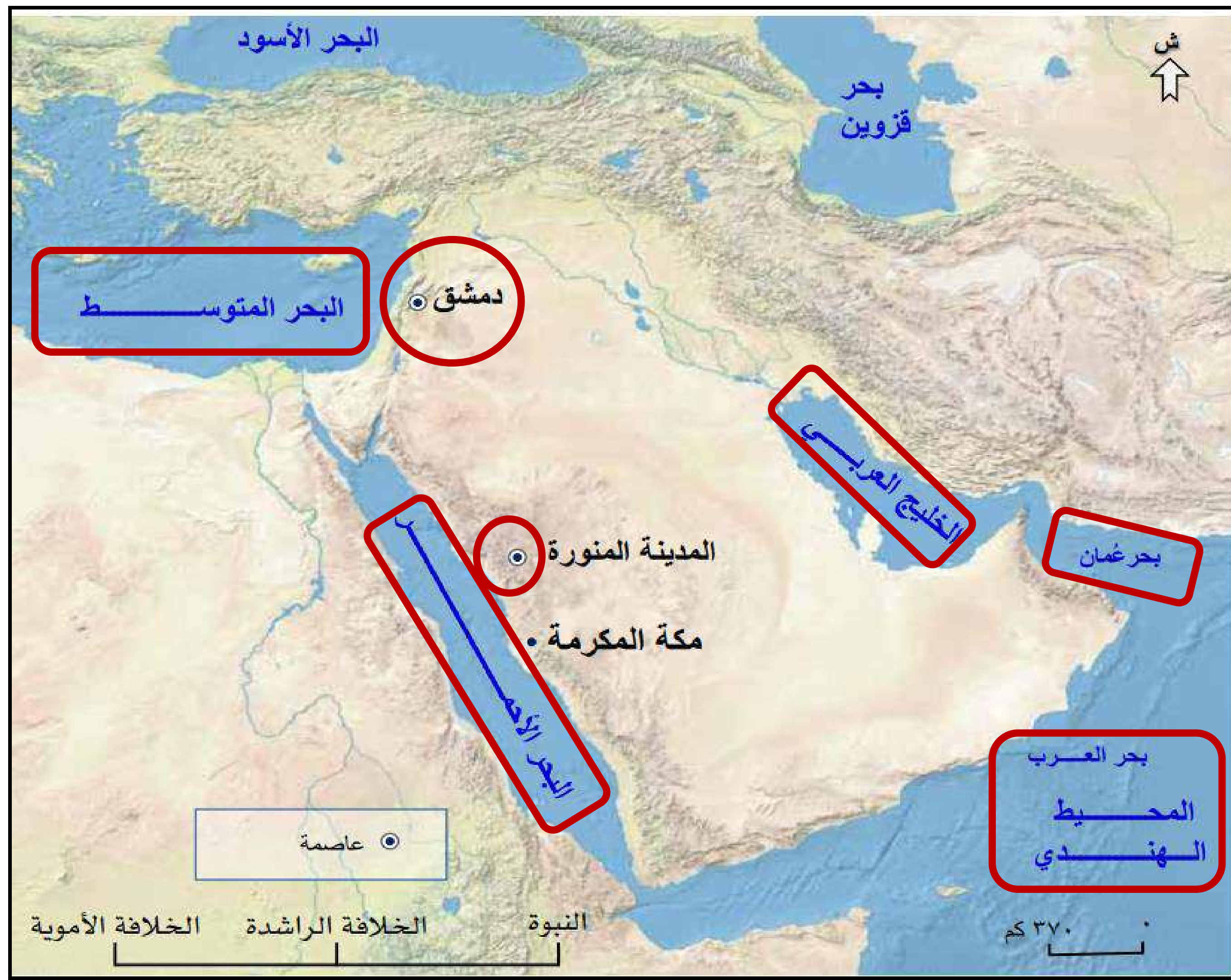
العمرائي



الثقافي









# محاولات الدولة الأموية السيطرة على عمان



تميزت عمان منذ ما قبل الإسلام

كونها دولة لها مكانتها واستقلالها

السياسي عما جاورها من الدول

الشكل (٣) موقع عمان بالنسبة للدولة الأموية.





# محاولات الدولة الاموية السيطرة على عمان

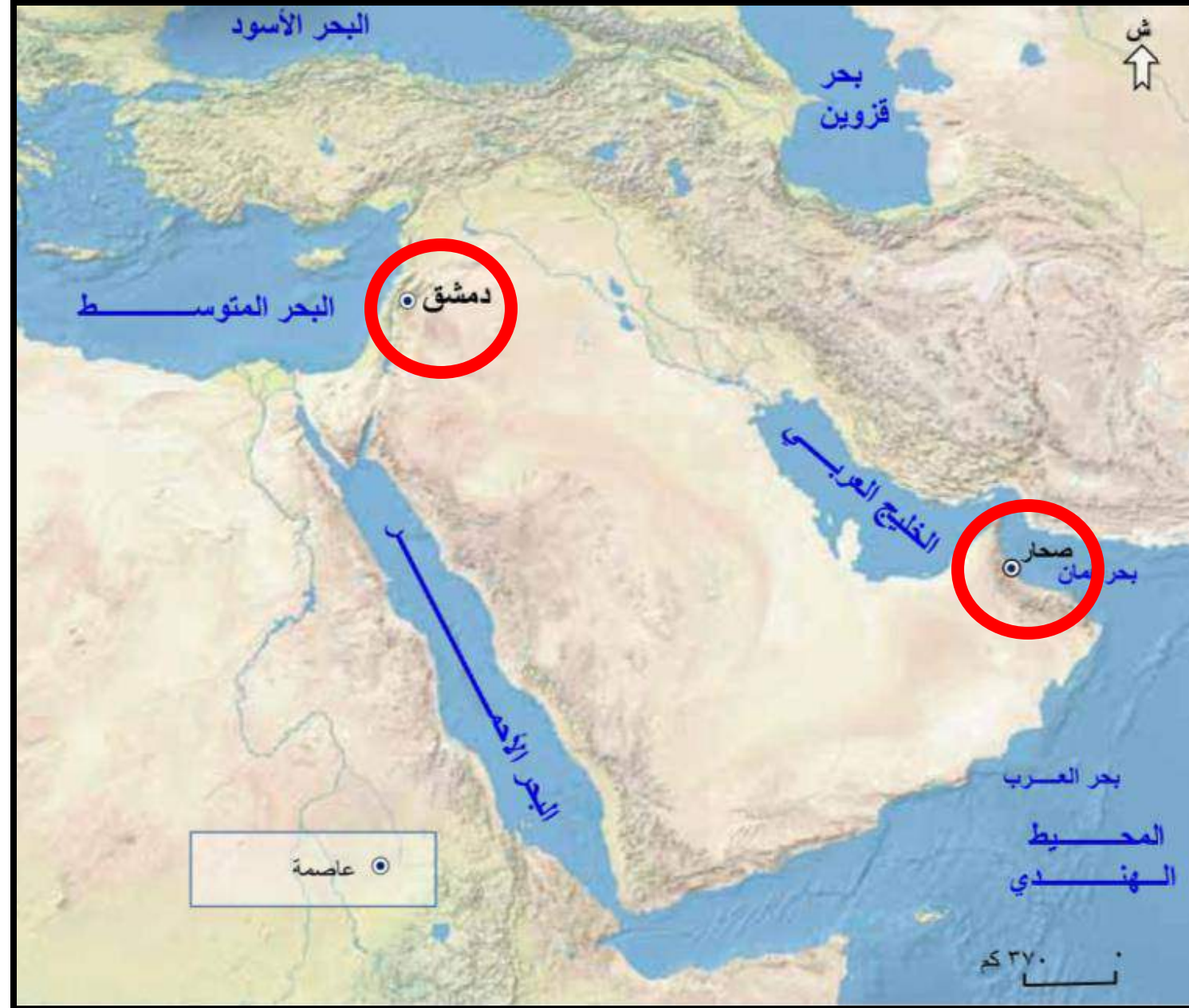
لم تكن للدولة الاموية في بداية عهدها أطماع

سياسية في السيطرة على عمان

نظرا للبعد الجغرافي بين العاصمة دمشق وعمان

استمر حكم ال جلندى لعمان بقيادة سعيد

وسليمان ابني عباد بن الجلندى حتى العام 81هـ

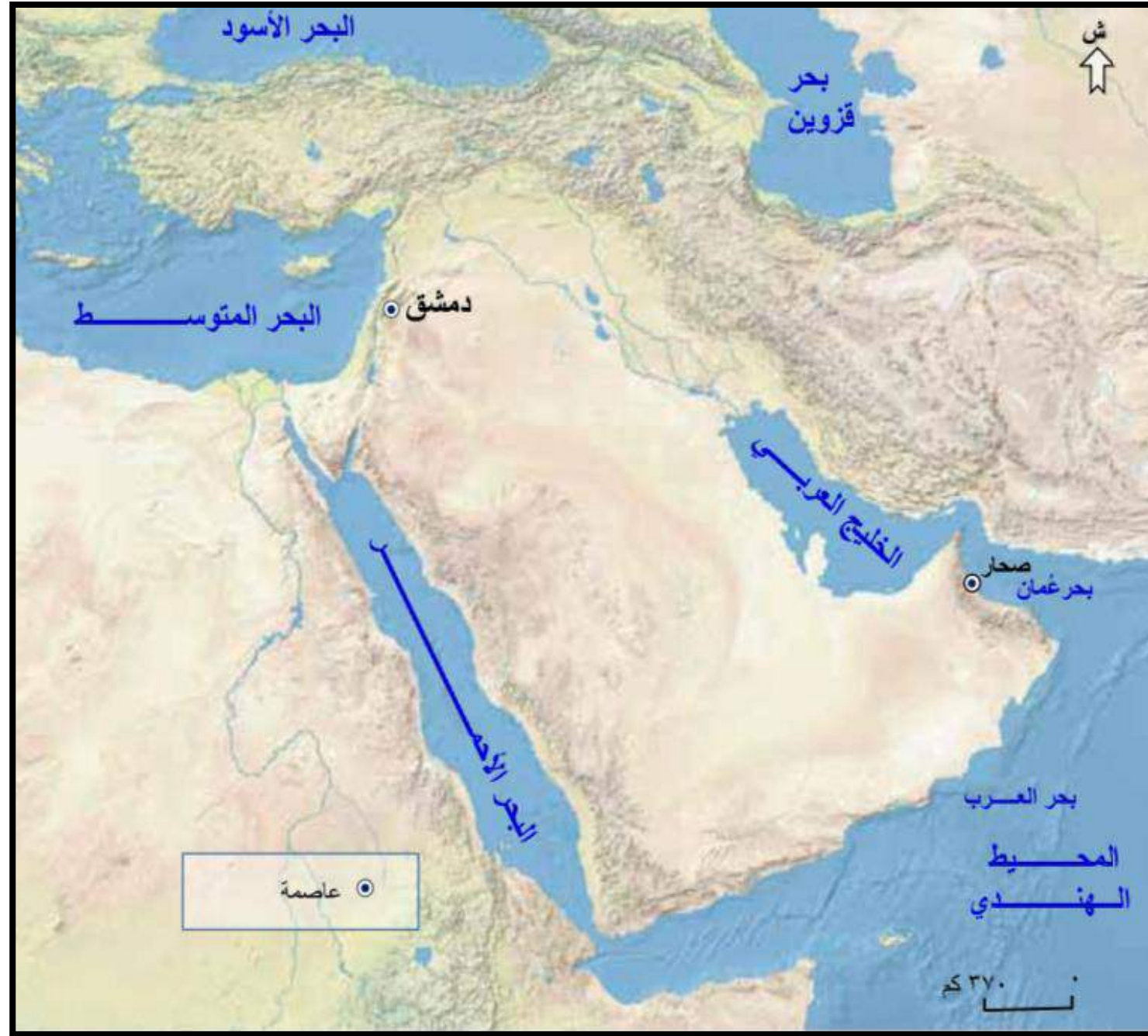


الشكل (٣) موقع عمان بالنسبة للدولة الأموية.



# محاولات الدولة الاموية السيطرة على عمان

بعد تعيين الحجاج بن يوسف الثقفي واليا على العراق بدأت الدولة الاموية تفكر جديا في السيطرة على عمان وبعد محاولات مستمرة وحمولات عسكرية متعددة أرسلها الى العراق تمكنت من انتهاء حكم آل الجلندی وأصبحت عمان جزء من الدولة الاموية



الشكل (٣) موقع عمان بالنسبة للدولة الأموية.





الشكل (٤) محاولات حملات الحجاج البرية والبحرية للسيطرة على عُمان.



ادرس الخريطة التي أمامك، ثم استنتج:



١. سبب إصرار الدولة الأموية على السيطرة على عُمان.

٢. العوامل الجغرافية التي أسهمت في فشل محاولة الأمويين في السيطرة على عُمان.

موقع عمان كمدخل للخليج

العربي والعراق من جهة الشرق

الأهمية الاقتصادية لعمان

بسبب موقعها على الطريق

التجاري القادم من المحيط

الهندي والموصل الى رأس

الخليج العربي



ادرس الخريطة التي أمامك، ثم استنتج:



١. سبب إصرار الدولة الأموية على السيطرة على عُمان.

٢. العوامل الجغرافية التي أسهمت في فشل محاولة الأمويين في السيطرة على عُمان.

وقوع عمان على البحر

فقد احتاجت الى حملات

برية وبحرية

وجود الجبال التي شكلت

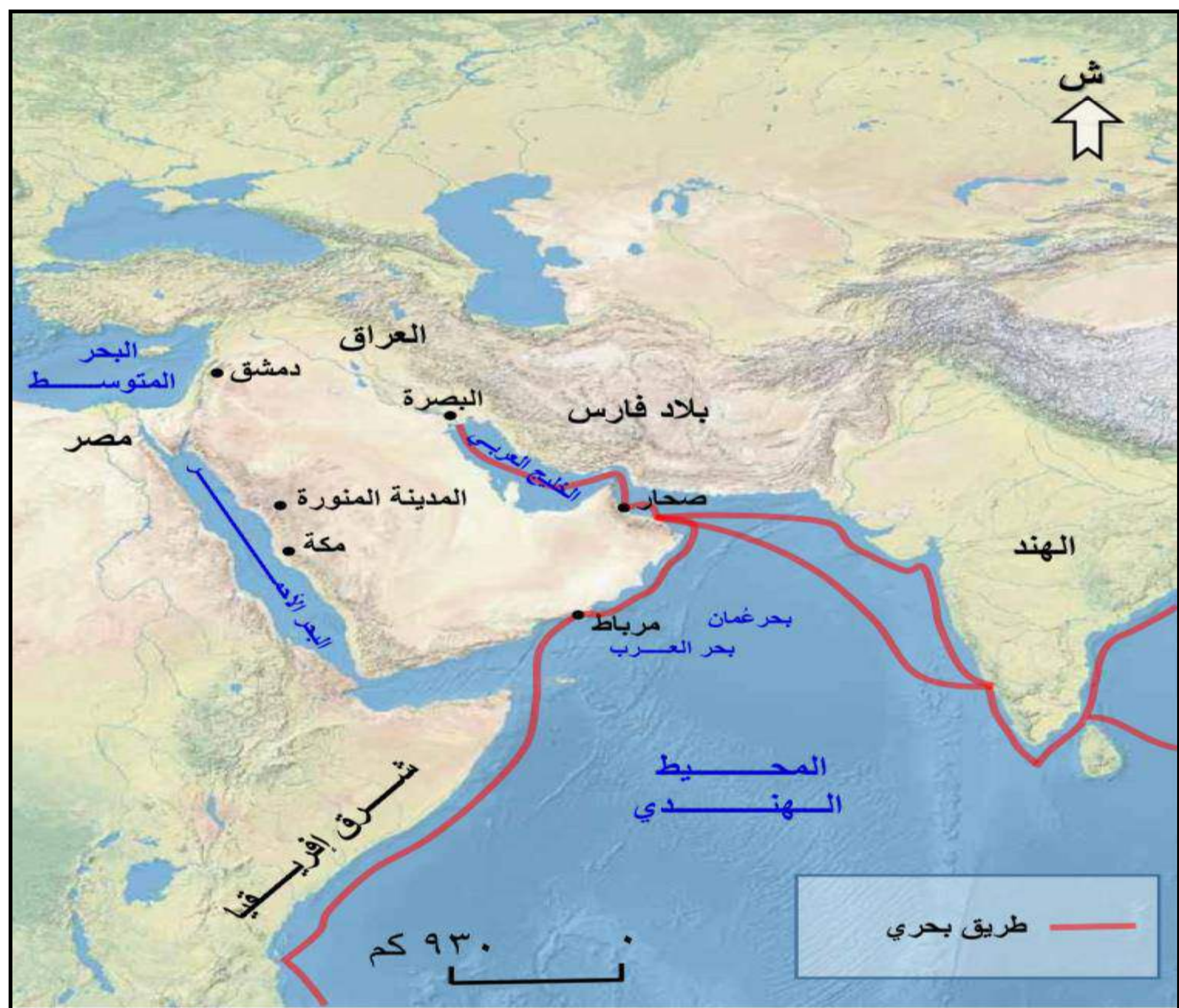
حماية في اثناء الغزو



# موقع عمان الجغرافي



## خبرة العمانيين في ركوب البحر





## ثالثًا: المجال الاقتصادي

استطاع العمانيون الوصول إلى مناطق بعيدة، كسواحل إفريقيا والهند والصين، فقد كانت عمان محورًا تجاريًا بين الخليج العربي والمحيط الهندي (الشكل ٧)، ونظرًا لأهمية عمان الاقتصادية، فقد صدرت أول عملة نقدية من دار السكة في عُمان سنة (٨١ هـ).





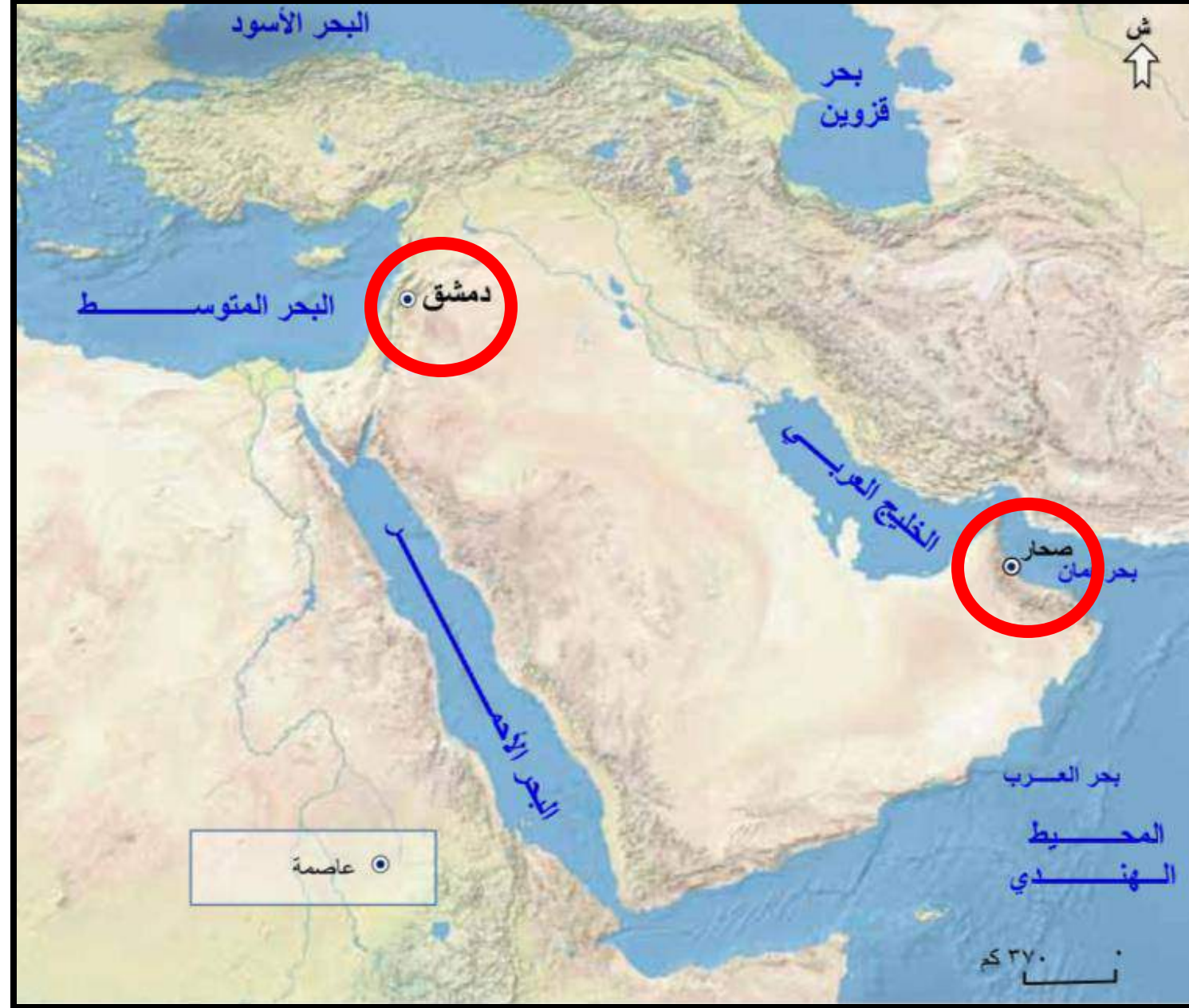
علل

س14 :-

لم تكن للدولة الاموية في بداية عهدها أطماع

سياسية في السيطرة على عمان

نظرا للبعد الجغرافي بين العاصمة دمشق وعمان



الشكل (٣) موقع عمان بالنسبة للدولة الأموية.



موقع عمان كمدخل للخليج  
العربي والعراق من جهة الشرق

الأهمية الاقتصادية لعمان  
بسبب موقعها على الطريق  
التجاري القادم من المحيط  
الهندي والموصل الى رأس  
الخليج العربي



١. سبب إصرار الدولة الأموية على السيطرة على عُمان.

٢. العوامل الجغرافية التي أسهمت في فشل محاولة الأمويين في السيطرة على عُمان.



وقوع عمان على البحر  
فقد احتاجت الى حملات  
برية وبحرية  
وجود الجبال التي شكلت  
حماية في اثناء الغزو



١. سبب إصرار الدولة الأموية على السيطرة على عُمان.

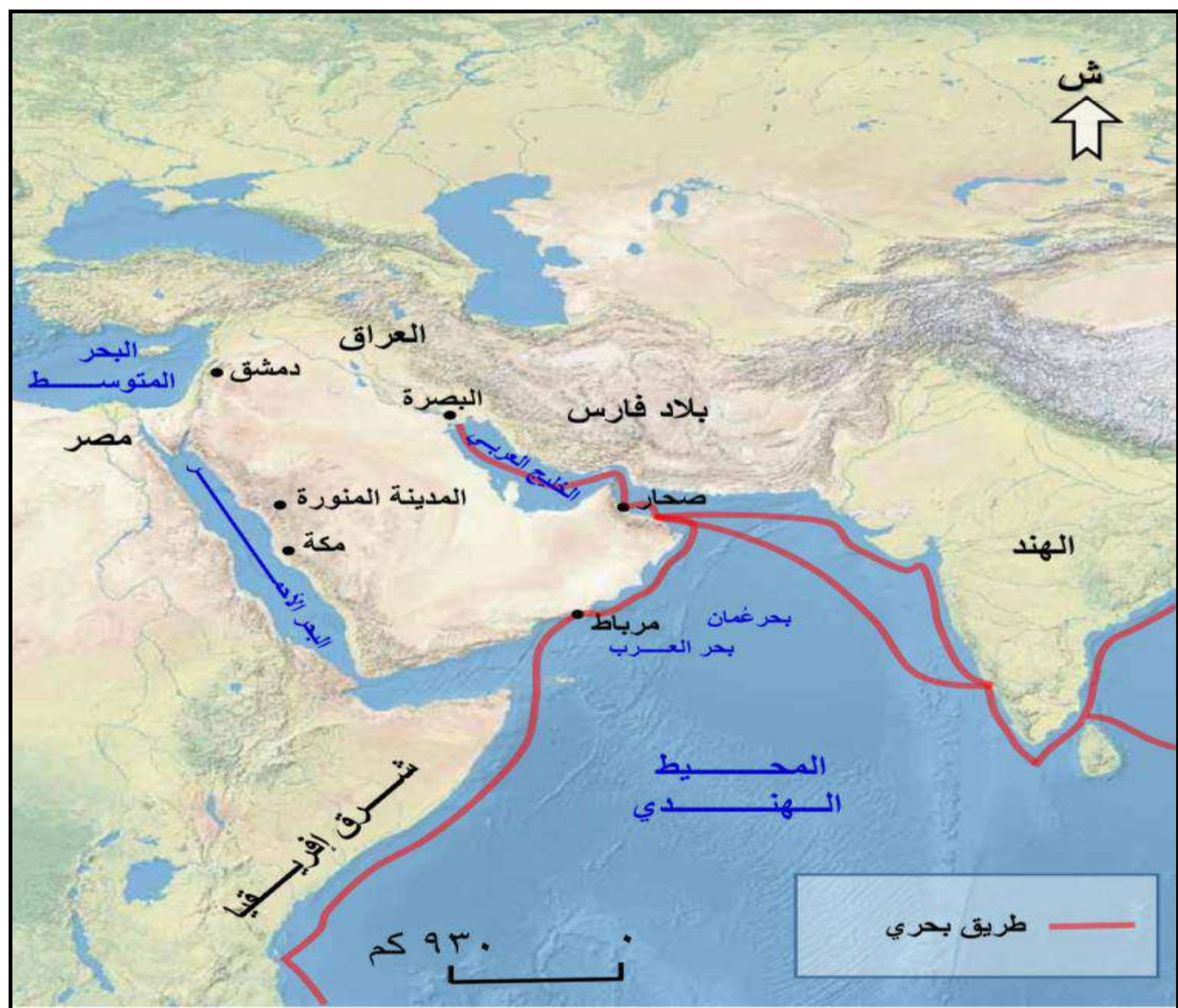
٢. العوامل الجغرافية التي أسهمت في فشل محاولة الأمويين في السيطرة على عُمان.



# موقع عمان الجغرافي



## خبرة العمانيين في ركوب البحر





المناسبات  
الوطنية.

الانتخابات.

المشاركة

في

اللقاءات بين  
الحكومة والمواطنين.

العمل  
التطوعي.

أشكال المشاركة  
المجتمعية

تتعدد أشكالُ

المشاركة المجتمعية، منها:



# صنّف

أ. صنّف الأعمال الآتية حسب أشكال المشاركة المجتمعية:



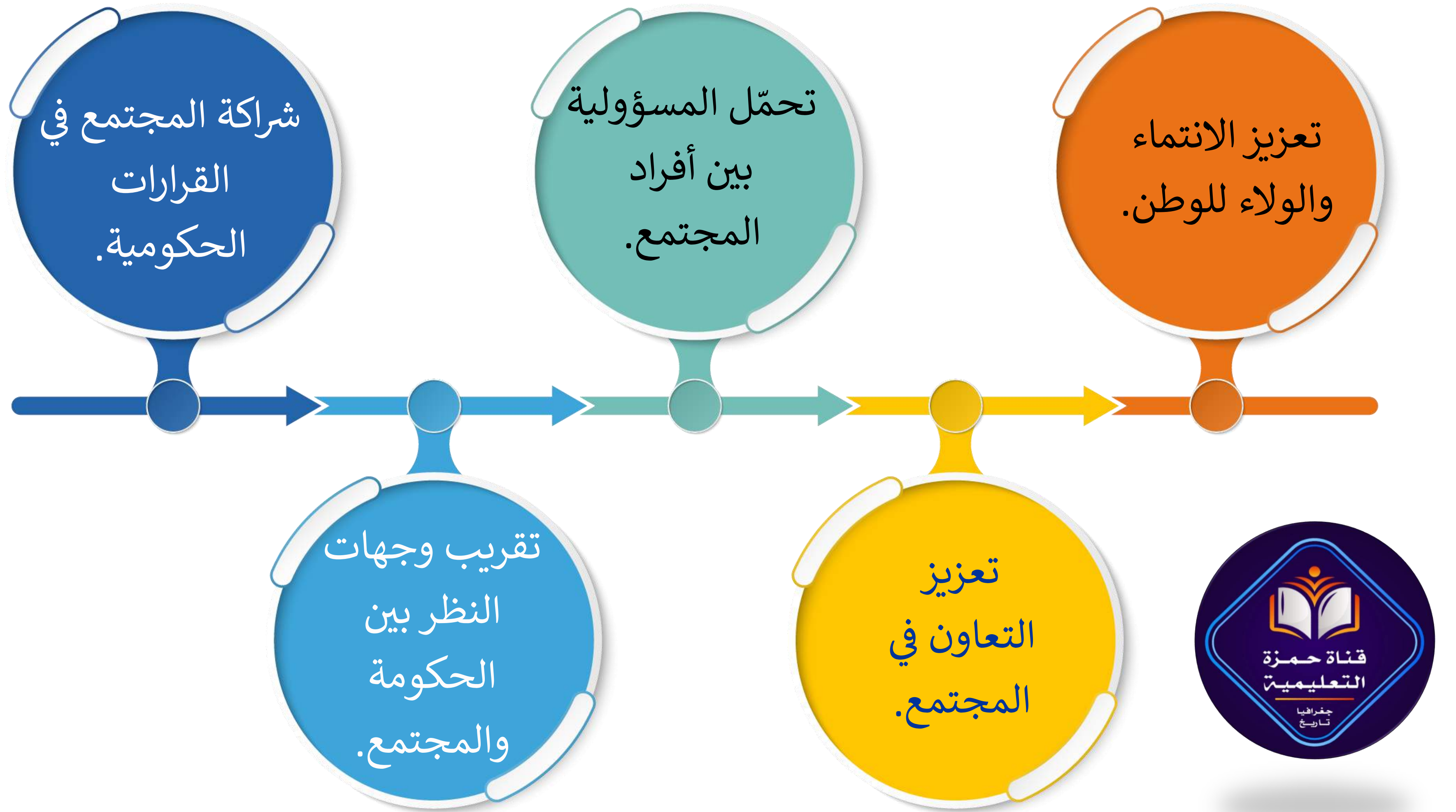
الانتخابات



العمل التطوعي



المناسبات الوطنية





## يشير الشعار المقابل الى :-



أ- جمعية الأطفال ذوي الإعاقة


ب- جمعية الرحمة لرعاية الامومة والطفولة

ج - جمعية دار العطاء

د - جمعية البيئة العمانية



# يشير الشعار المقابل الى :-



أ- جمعية البيئة العمانية

ب- جمعية الرحمة لرعاية الامومة والطفولة

ج- جمعية دار العطاء



د - جمعية الأطفال ذوي الإعاقة



## يشير الشعار المقابل الى :-



أ- جمعية الأطفال ذوي الإعاقة

ب- جمعية الرحمة لرعاية الامومة والطفولة

ج - جمعية دار العطاء

د - جمعية البيئة العمانية




قناة حمزة التعليمية




LIKE NOW

# مبادرة الخرائط

SUBSCRIBE NOW



SHARE NOW



تنفيذ / عبد النبي الفقى





# مع تحيات قناة حمزة التعليمية

# القناة الأولى في مادة الدراسات الاجتماعية وهذا وطني

قوائم التشغيل التي تم إنشاؤها

 <p>10 فديو هات</p>	 <p>دراسات اجتماعية البيانات السكانية صف سادس ..... نقطه منتسبي 25 فديو</p>	 <p>الاستيطان الريفي والحضري صف سابع فناه حمزة التعليمية فصل دراسي ثاني 21 فديو</p>
<p>فديو هات مجانية غير مدرج عرض قائمة التشغيل بالكامل</p>	<p>منتسبي فناه حمزة التعليمية صف سادس غير مدرج عرض قائمة التشغيل بالكامل</p>	<p>منتسبي فناه حمزة التعليمية صف سابع غير مدرج عرض قائمة التشغيل بالكامل</p>
 <p>هذا وطني صف ثاني عشر سوق العمل جزء اول 37 فديو</p>	 <p>الانتساب والانضمام لقناة حمزة التعليمية 13 فديو</p>	 <p>الانتساب والانضمام لقناة حمزة التعليمية 8 فديو هات</p>
<p>صف ثاني عشر فصل دراسي ثاني علي عرض قائمة التشغيل بالكامل</p>	<p>خاص - غير مدرج خامس عرض قائمة التشغيل بالكامل</p>	<p>فديو هات مراجعة مجانية علي عرض قائمة التشغيل بالكامل</p>



## قناة حمزة التعليمية

@hamzaeducation · 24.4 ألف مشترك · 508 فيديوهات

قناة متخصصة في تقديم محتوى مادة الدراسات الاجتماعية ( جغرافيا - تاريخ ) بالإضافة الى شرح شامل لمحتوى مادة هذا وطني ...المزيد

facebook.com/profile.php?id=61556963649015&mibextid=ZbWKwL و رابط واحد إضافي

إدارة الفيديوهات
تخصيص القناة



الصفحة الرئيسية
الفيديوهات
Shorts
البث المباشر
قوائم التشغيل
المنشورات
العضوية



# لا تنسونا من صالح الدعاء

قناة  
حمزة  
التعليمية

رابط  
الاشتراك  
في القناة



معناً الطريق  
للتفوق سهل



أ / عبد النبي الفقى

واتس / 79517445

