

شكراً لتحميلك هذا الملف من موقع المناهج العمانية



الاختبار النهائي الرسمي مسائي

[موقع المناهج](#) ⇨ [المناهج العمانية](#) ⇨ [الصف السادس](#) ⇨ [اجتماعيات](#) ⇨ [الفصل الثاني](#) ⇨ [الملف](#)

تاريخ نشر الملف على موقع المناهج: 2023-05-21 08:43:35

التواصل الاجتماعي بحسب الصف السادس



روابط مواد الصف السادس على تلغرام

[الرياضيات](#)

[اللغة الانجليزية](#)

[اللغة العربية](#)

[التربية الاسلامية](#)

المزيد من الملفات بحسب الصف السادس والمادة اجتماعيات في الفصل الثاني

الاختبار النهائي الرسمي مسائي	1
الاختبار النهائي الرسمي في محافظة شمال الشرقية	2
اختبارات نهائية سابقة محلولة لدرس احترام العمل وتقدير العاملين	3
اختبارات نهائية سابقة محلولة لدرس إدارة الوقت واحترام المواعيد	4
اختبارات نهائية سابقة محلولة لدرس حقوق المواطن وواجباته	5

تابع السؤال الأول:

8- المحافظة على مدارسنا من أساس وأجهزة وكتب يدل على:

- أ- الحقوق ب- العدل ج- المساواة د- الأمانة

9- الصحراء التي توجد في شمال افريقيا هي:

- أ- صحراء ثار ب- صحراء موحاف ج- صحراء أنكاما د- الصحراء الكبرى


10- يقصد بتطابق القول مع الفعل:

- أ- الكرم ب- الصدق ج- التسامح د- التواضع

11- العمل الذي يحتاج الى تأهيل دراسي عال هو:

- أ- تقليم الأشجار ب- اعمال الحفر ج- صناعة الأجهزة د- اعمال الكهرباء

12- حدد الوسيلة الأكثر توفيرا للوقت والتي تدل على التطور العلمي في الصور ادناه :





السؤال الرابع: (6 درجات)
أولا- أدرس الصورة التي امامك ثم اجب عن الأسئلة الآتية:
أ- ما العمل اليدوي الذي يقوم به الشخص في الصورة

ب- لماذا حث الإسلام على العمل؟

ثانيا: ادرس خريطة بيئة الحشائش الطويلة (السافانا) ثم اجب عن الأسئلة التي تليها:



أ- اكتب القارات التي تظهر فيها بيئة الحشائش الطويلة

1- 2- 3- 4-

ب- ينحصر التوزيع الجغرافي لبيئة الحشائش الطويلة في نطاق يقع

جنوبي مدار وشمال مدار

ج- اكتب اسم دولة عربية تظهر فيها بيئة الحشائش الطويلة

.....

السؤال الثالث: (8 درجات)

أ- اكتب اثنين من حلول صيانة التربة من الانجراف .

1-

2-

ب- ما الدليل على ادراك السلطنة الحاجة لحماية البيئة والمحافظة على التنوع الاحيائي؟

.....

.....

ج- انظر الى الصورة المقابلة ثم اجب عن الأسئلة التي تليها :
1- ما المشكلة التي تتعرض لها الغابات في الصورة ؟

.....

2- اكتب احدى المحاصيل التي تزرع بهذه الاراضي

.....



ثانيا: أ- اكمل الفراغ في العبارة الآتية:

..... قدوتنا في الأمانة والتخلق بها هو


ب- اكتب لفظ (صادق) أو (أمين) بين القوسين امام العبارات أو السلوكيات التي تعبر عنه :

1- قول الطالب الحقيقة لوالده او معلمه ()

2- المحافظة على الخدمات التي تقدمها الدولة لنا ()

ج- ما الواجب الذي ينبغي ان أقوم به تجاه وطني

وموضح في الصورة المقابلة :



من واجبي (.....)



أجب عن جميع الأسئلة الآتية

أولاً: الأسئلة الموضوعية

- السؤال الأول: ضع دائرة حول رمز الإجابة الصحيحة من بين البدائل المعطاة: - (12 درجة لكل مفردة درجة)
- 1- المحمية البرية التي تهتم بحيوان المها العربي في سلطنة عمان هي:
 - أ- السليل
 - ب- جدة الحراسيس
 - ج- رأس الحد
 - د- دربات
 - 2- الأسلوب الذي تكيف به النبات الطبيعي في الصورة المقابلة مع الجفاف في البيئة الصحراوية :
 - أ- جزور طويلة
 - ب- جزور قصيرة
 - ج- سيقان شمعية
 - د- النمو في الواحات



د-1996م

ج-1995م

- 3- عقد مؤتمر مونتريال بكندا لصون البيئة عام:
 - أ-1990م
 - ب-1994م
 - ج-1995م
 - د-1996م

- 4- كمية الامطار التي سقطت خلال شهر ابريل كما يوضحه الشكل البياني الذي امامك:



أ- 15 مليمتر

ب- 20 مليمتر

د- 10 مليمتر

ج- 5 مليمتر

- 5- الغاز الذي تطلقه النباتات في عملية التمثيل الضوئي:
 - أ- النتروجين
 - ب- الاكسجين
 - ج- ثاني أكسيد الكربون
 - د- الميثان

- 6- يمتاز المناخ في بيئة الغابات المدارية المطيرة بأنه:
 - أ- حار ورطب
 - ب- بارد ورطب
 - ج - حار وجاف
 - د- بارد وجاف

- 7- المساحة التي تغطيها الغابات في الكرة الأرضية تصل الى :
 - أ- الربع
 - ب- النصف
 - ج- الثلث
 - د- السدس

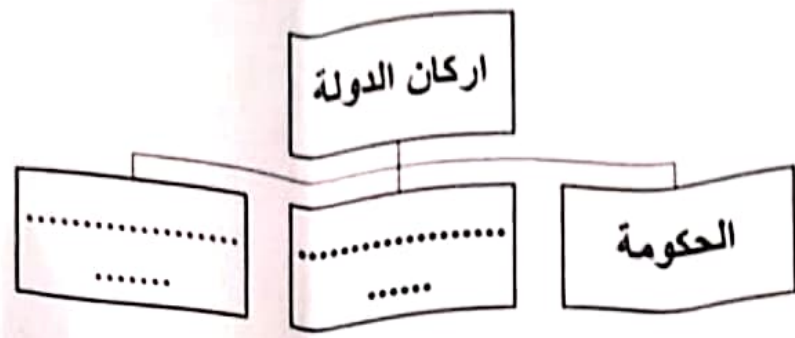
السؤال الخامس:

أولاً: أ- دلل على اهتمام القطاع الخاص بإنشاء مشروعات رائدة لحفز الشباب العمالي على العمل في القطاع الخاص .

.....
.....
.....

ب- اكتب صفة واحدة من صفات المواطن الصالح

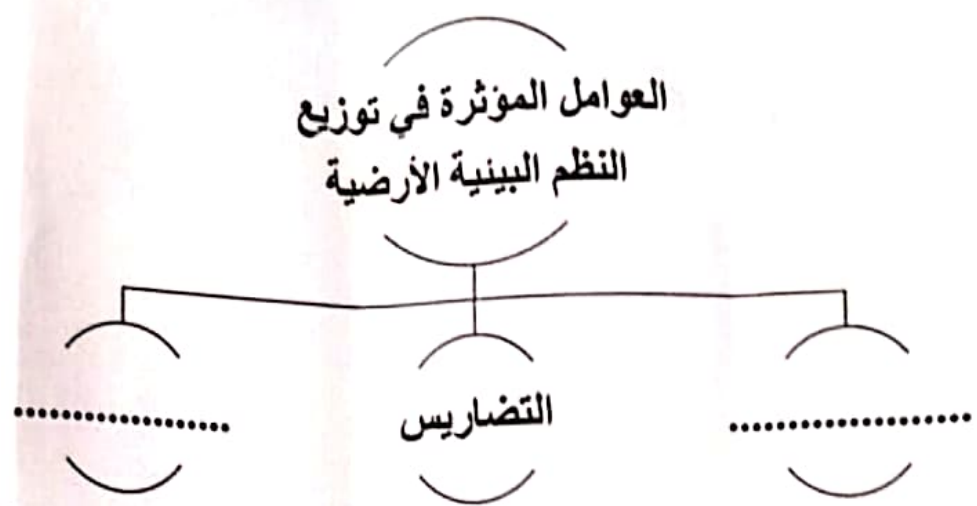
ج- اكمل المخطط التالي :



ثانياً: أ- اكتب إحدى فوائد الغلاف الحيوي :

.....

ب - اكمل المخطط الآتي:



(3)

المادة: الدراسات الاجتماعية الصف: السادس الدور الأول (فترة مسائية) الفصل الدراسي الثاني -العام الدراسي 2023/2022م

السؤال الثاني: (8 درجات)

أولاً: أ- انسب الاعمال التي بين القوسين الى اسم النبي الذي عمل بها:

1- النبي نوح عليه السلام (صنع الدروع ، النجارة)

2- النبي داؤود عليه السلام (.....)

ب- اكتب أسفل الصورتين السلوك المرغوب والسلوك غير المرغوب.



ج- إقرأ حديث الرسول عليه الصلاة والسلام ثم اجب عما يليه:
قال الرسول الكريم (إن الله يحب إذا عمل أحدكم عملاً أن يتقنه)
ماذا تقول للذين لا يؤدون اعمالهم بإتقان؟

ثانياً: أ- ادرس الشكل المقابل ثم سمي أجزائه حسب الأرقام الموضحة عليه:



1-

2-

3-

4-

كتب عن فائدة الجزء رقم (3) للإنسان

ما اسم هذه الشجرة