

تم تحميل هذا الملف من موقع المناهج العُمانية



* للحصول على أوراق عمل لجميع الصفوف وجميع المواد اضغط هنا

<https://almanahj.com/om>

* للحصول على أوراق عمل لجميع مواد الصف الخامس اضغط هنا

<https://almanahj.com/om/5>

* للحصول على جميع أوراق الصف الخامس في مادة رياضيات ولجميع الفصول, اضغط هنا

<https://almanahj.com/om/5math>

* للحصول على أوراق عمل لجميع مواد الصف الخامس في مادة رياضيات الخاصة بالفصل الثاني اضغط هنا

<https://almanahj.com/om/5math2>

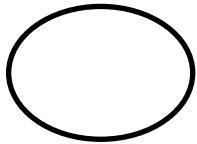
* لتحميل كتب جميع المواد في جميع الفصول للصف الخامس اضغط هنا

<https://almanahj.com/om/grade5>

* لتحميل جميع ملفات المدرس مدرسة يقاء للتعليم الأساسي اضغط هنا

للتحدث إلى بوت على تلغرام: اضغط هنا

https://t.me/omcourse_bot



اختبار قصير (١) للصف الخامس

اسم الطالبة.....

(١) عند رمي قطعة نقود معدنية حوط احتمال ظهور الصورة

مستحيل مرجح متساو غير مرجح مؤكد [١]

(٢) اكتبى المنوال لمجموعات البيانات التالية :

٩ ، ٧ ، ٣ ، ٦ ، ٧ ، ٥ [١]

(٣) قرب العدد ٦,٦٥ لأقرب عدد كامل

[١]

(٤) يوضح الجدول الاتي كتل بعض الاشخاص

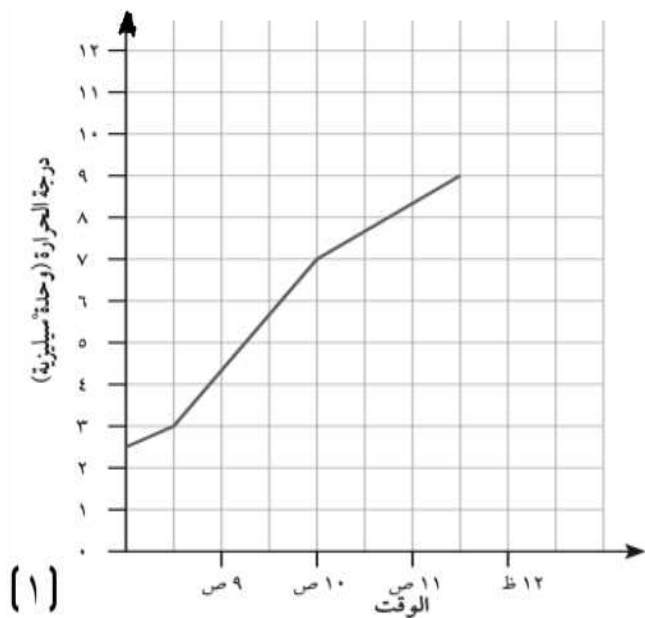
رتب كتل الأشخاص من الأخف الي الأثقل

الاسم	ناصر	محمد	موسى	علي
الكتلة	٤,٥	٤٠,٥	٤,١٩	٩,١٤

الأخف الأثقل

_____ ، _____ ، _____ ، _____

(٥) ارسم خطا مستقيما طوله ٣٠ ملليمتر [١]



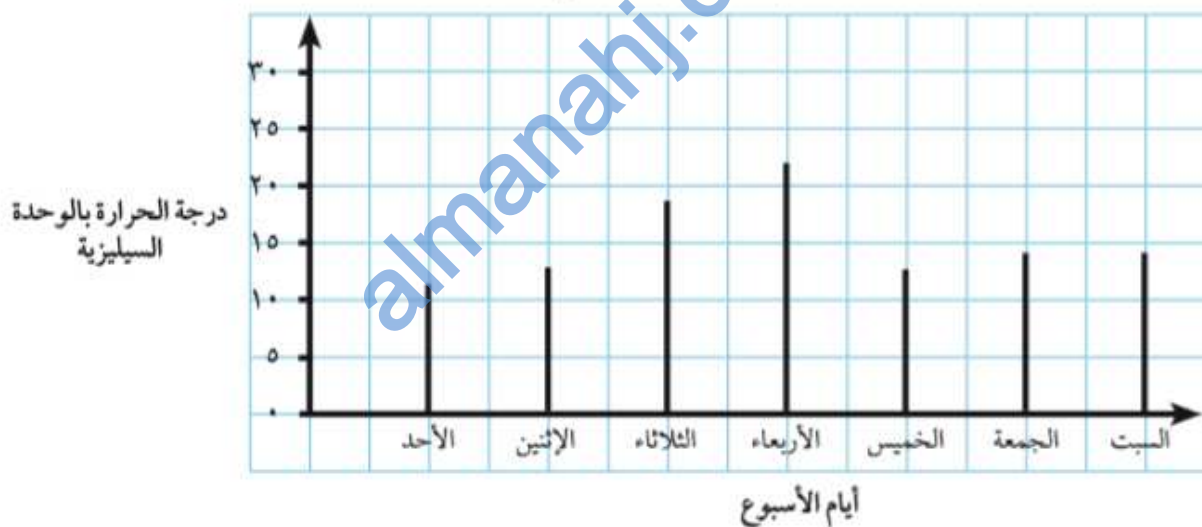
٤) يعرض الرسم البياني الخطي المقابل التغيرات التي حدثت بدرجة الحرارة خلال فترة صباحية باردة . وصلت درجة الحرارة إلى ١١°س في الساعة ١٢:٠٠ ظهراً . وضح ذلك على الرسم البياني .

(يظهر الرسم البياني درجة الحرارة في منتصف نهار كل يوم من ايام الاسبوع

حوط اليوم الذي كانت فيه أعلى درجة حرارة

الأحد الاثنين الثلاثاء الأربعاء الخميس

درجة الحرارة في منتصف النهار على مدار أسبوعٍ واحدٍ



صل كلُّ مُربّعٍ بالقيمة الصحيحة

١٠

١٢

١٤

١٦

١٨

٢٠

٥٠٪ من ٢٠

١٠٪ من ١٨٠

١٠٠٪ من ١٤