

## شكراً لتحميلك هذا الملف من موقع المناهج العمانية



## اختبار قصير ثاني حديث نموذج ثاني

موقع المناهج ⇨ المناهج العمانية ⇨ الصف الخامس ⇨ اجتماعيات ⇨ الفصل الأول ⇨ الملف

تاريخ نشر الملف على موقع المناهج: 18:38:29 2023-12-06 | اسم المدرس: غالية الهاشمية

## التواصل الاجتماعي بحسب الصف الخامس



## روابط مواد الصف الخامس على تلغرام

[الرياضيات](#)

[اللغة الانجليزية](#)

[اللغة العربية](#)

[التربية الاسلامية](#)

## المزيد من الملفات بحسب الصف الخامس والمادة اجتماعيات في الفصل الأول

|   |   |
|---|---|
| <a href="#">اختبار قصير ثاني حديث</a>                               | 1 |
| <a href="#">بنك الأسئلة الموضوعية للمنهج نموذج حديث مع الإجابات</a> | 2 |
| <a href="#">كتيب أنشطة المادة مصنف حسب الدروس</a>                   | 3 |
| <a href="#">اختبار قصير ثاني نموذج حديث</a>                         | 4 |
| <a href="#">شرح الدرس الثالث من الوحدة الثانية بطريقة السؤال</a>    | 5 |

## سلطنة عمان

## وزارة التربية والتعليم

المديرية العامة للتربية والتعليم بمحافظة جنوب الشرقية

مدرسة منبع الخير للتعليم الأساسي (3-5)

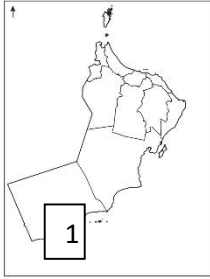
## الإختبار القصير الثاني لمادة الدراسات الاجتماعية للصف الخامس

للعام الدراسي 2024/2023م

السؤال الأول : اختر الإجابة الصحيحة من بين البدائل المعطاة . (5 درجات)

1- طبيب عربي مشهور قبل الإسلام هو :

أ- مصقلة بن رقة      ب- ابن حذيم      ج- جواس بن حيان الازدي      د- هناعه بن مالك

2- يشير الرقم (1) في الخريطة الى ميناء قديم في عمان وهو ميناء :

أ- قلهاث      ب- صحرار

ج- سمهرم      د- دبا

3- الشكل الصحيح الذي يمثل أقسام العرب الباقية :

أ- القحطانيون / العدنانيون

ب- القحطانيون / طسم

ج- العدنانيون / العماليق

د- العماليق / طسم

4- الديانة الأكثر انتشارا في منطقة شبه الجزيرة العربية قبل الإسلام هي :

أ- اليهودية      ب- الوثنية      ج- الحنيفية      د- النصرانية

5- هاجرت قبائل الازد الى عمان من :


أ- العراق      ب- بلاد الشام      ج- بلاد فارس      د- اليمن

السؤال الثاني : اجب عما يلي ( 6 درجات)


1- من عوامل التنوع الثقافي في عمان قبل الإسلام:

أ- .....، ب- .....

2- سم الصناعات التي عرفها العمانيون قبل الإسلام اسفل الصورة :



ب- .....

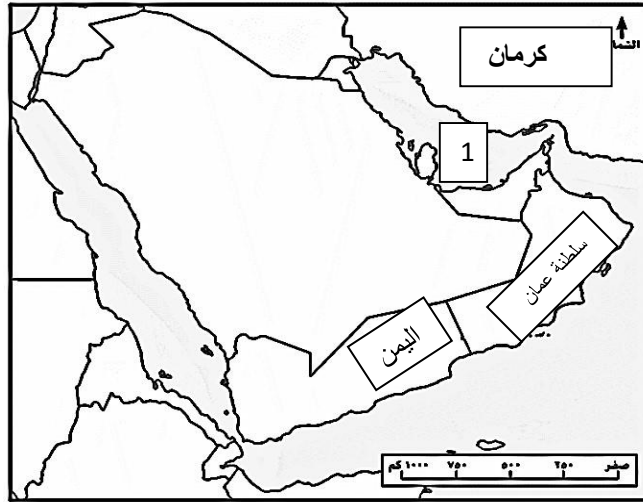


أ- .....

3- معركة سلوت هي .....

4- من حكام عمان قبل الإسلام .....

السؤال الثالث: أ- انظر الى الخريطة ، ثم اجب عما يلي . ( 4 درجات )



1- يشير رقم (1) في الخريطة الى مسطح مائي هو .....

2- ظلل في الخريطة المنطقة التي امتد اليها حكم العمانيين قبل الإسلام خارج عمان.

3- من الممالك القديمة التي قامت في بلاد اليمن هي .....

ب- النشاط الاقتصادي الذي تقوم عليه الحياة البدوية هو .....

إعداد معلمة المادة: أ. غالية الهاشمية

