

مراجعة الوحدة الأولى معالجة البيانات ملف 2



تم تحميل هذا الملف من موقع المناهج العمانية

موقع فايلاتي ← المناهج العمانية ← الصف الخامس ← رياضيات ← الفصل الثاني ← ملفات متنوعة ← الملف

تاريخ إضافة الملف على موقع المناهج: 2026-02-07 14:08:26

ملفات اكتب للمعلم اكتب للطالب | اختبارات الكترونية | اختبارات | حلول | عروض بوربوينت | أوراق عمل
منهج انجليزي | ملخصات وتقارير | مذكرات وبنوك | الامتحان النهائي | للمدرس

المزيد من مادة
رياضيات:

إعداد: مؤيد الهطالي

التواصل الاجتماعي بحسب الصف الخامس



صفحة المناهج
العمانية على
فيسبوك

المزيد من الملفات بحسب الصف الخامس والمادة رياضيات في الفصل الثاني

دفتر مراجعة المادة نحو التميز والتفوق ملف 2	1
مراجعة الوحدة الأولى معالجة البيانات ملف 2	2
تميز دمج أسئلة امتحانية سابقة 2025 و 2026	3
الكراسة الامتحانية الشاملة	4
ملخص شامل للمفاهيم والمهارات الأساسية البيانات والكسور والنسب المئوية	5

(المراجعة للصف الخامس)
الوحدة الأولى
(معالجة البيانات)



حوط المنوال لمجموعة البيانات الآتية :

الفيل ، الأسد ، الزرافة ، الأسد ، النمر

النمر

الزرافة

الأسد

الفيل

الجدول المجاور يوضح عدد الزوار
لمعرض السيارات خلال ٥ أيام
اكتب عدد الزوار لهذا المعرض
في يوم الثلاثاء

اليوم	الأصوات
السبت	
الأحد	
الاثنين	
الثلاثاء	
الأربعاء	

تمثل
| = ١٠ زوار

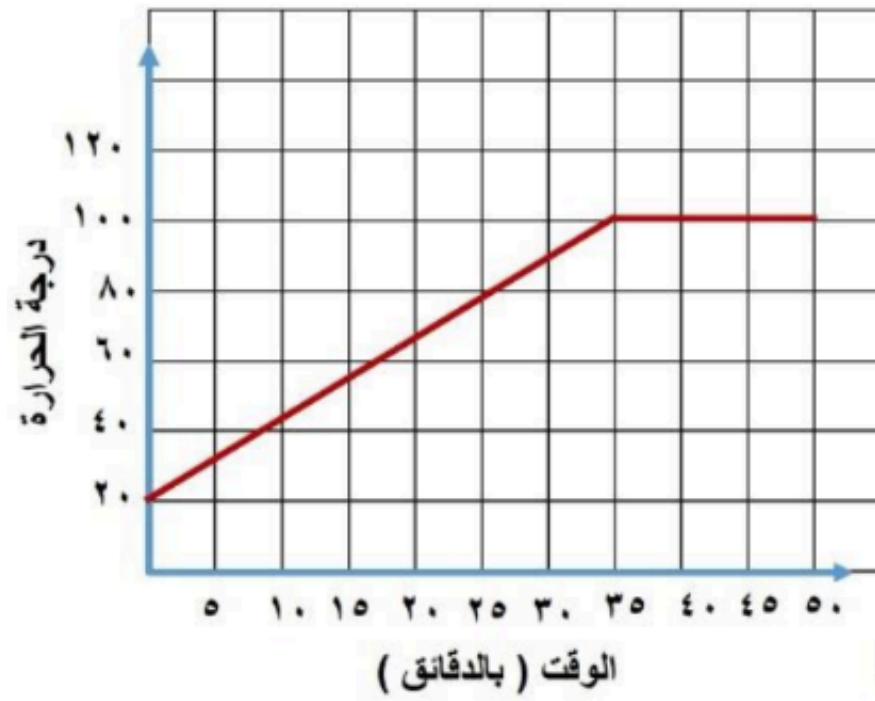
زائر _____

عند رمي حجر نرد منتظم ذو ٦ أوجه.

صل احتمال الأحداث في العمود الأول مع فرصة حدوثها في العمود الثاني.

مستحيل
غير مرجح
متساو
مرجح
مؤكد

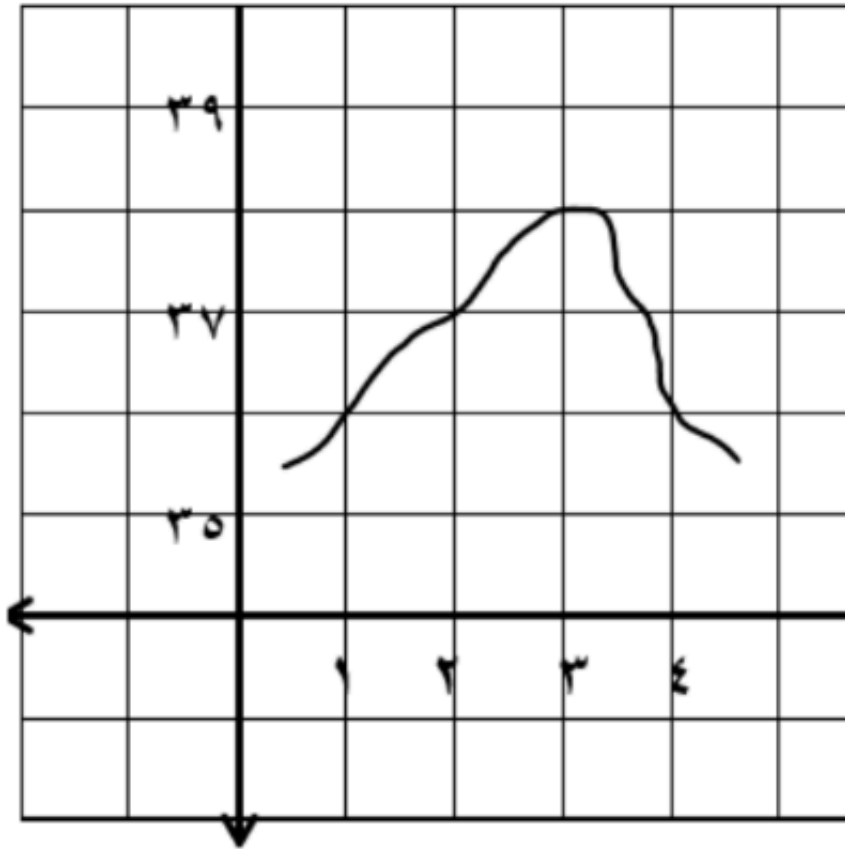
ظهور عدد زوجي
ظهور عدد أكبر من ٧
ظهور عدد أقل من ٢



الرسم البياني الخطي المجاور يوضح ارتفاع درجة حرارة الماء (بالدرجة السيليزية) في اناء الطبخ.
أكتب الوقت الذي وصلت فيه درجة الحرارة ٨٠° س.

دقيقة _____

درجة الحرارة



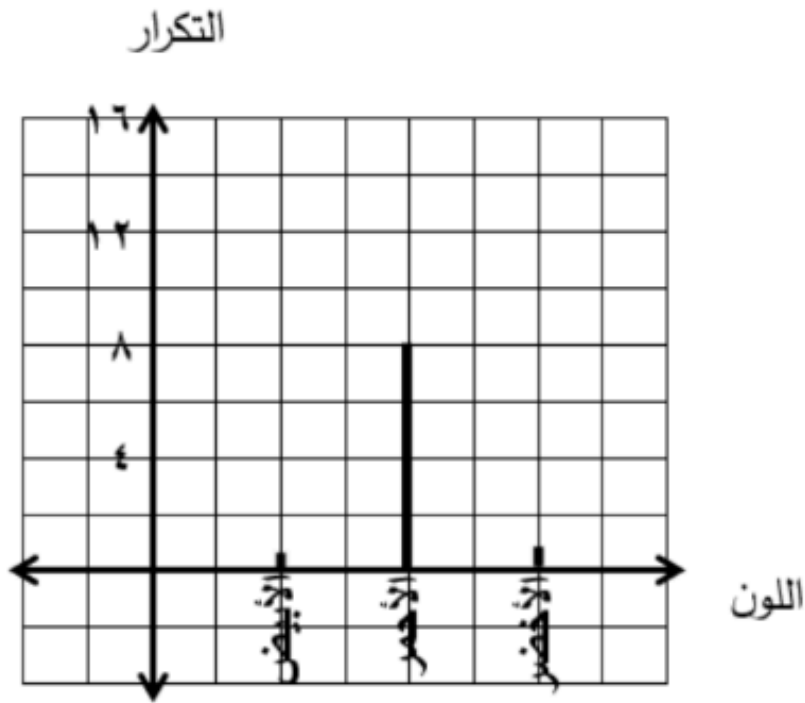
يمثل الرسم البياني المجاور درجات الحرارة في أربع مدن.

أكمل الجدول الآتي من الرسم :

المدينة	١	٢	٣	٤
درجة الحرارة		٣٧		

الجدول الآتي يوضح اللون المفضل لدى طلاب الصف الخامس.

اللون	الأبيض	الأحمر	الأخضر
التكرار	١٦	٨	١٠

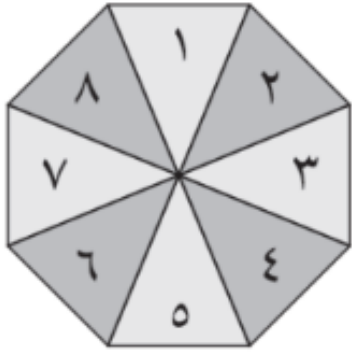


اكمل الرسم البياني لعرض هذه البيانات.

تقول سارة :

عند دوران القرص فإن احتمال الحصول على عدد أكبر من ٨ حدث مؤكد.
هل ما تقوله ساره صحيح؟ نعم ☐ لا ☐

فسر ذلك.



حوط المنوال لمجموعة ألوان الكرات.

" أحمر ، أخضر ، أحمر ، أصفر ، أزرق ، أزرق ، أحمر "

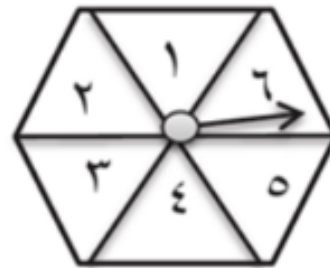
أصفر

أخضر

أحمر

أزرق

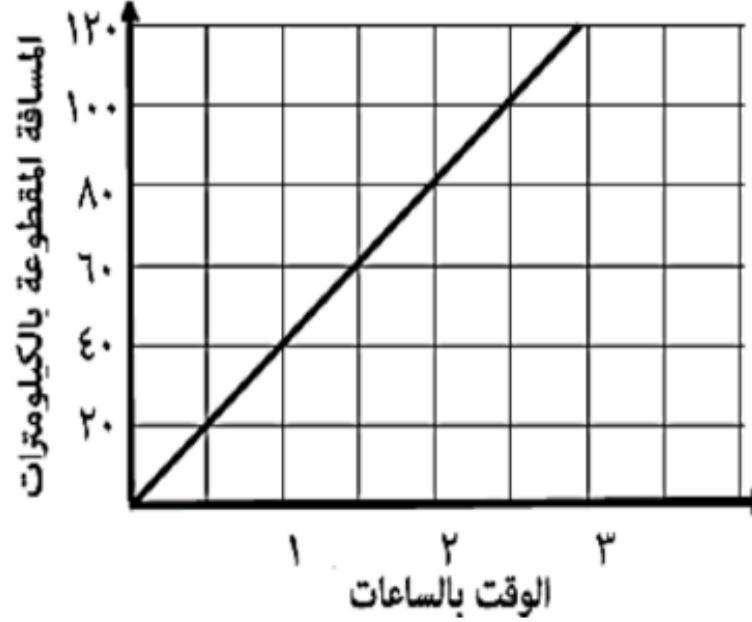
اكتب احتمال وقوف المؤشر على عدد يقبل القسمة على ٣ عند تدوير القرص الآتي



" عند رمي حجر نرد ذو ستة أوجه
ضع علامة (✓) في المكان المناسب.

العبارة	صواب	خطأ
ظهور العدد ٧ هو حدث مؤكد		
ظهور العدد ٣ هو حدث غير مرجح		
ظهور عدد زوجي هو حدث متساو		

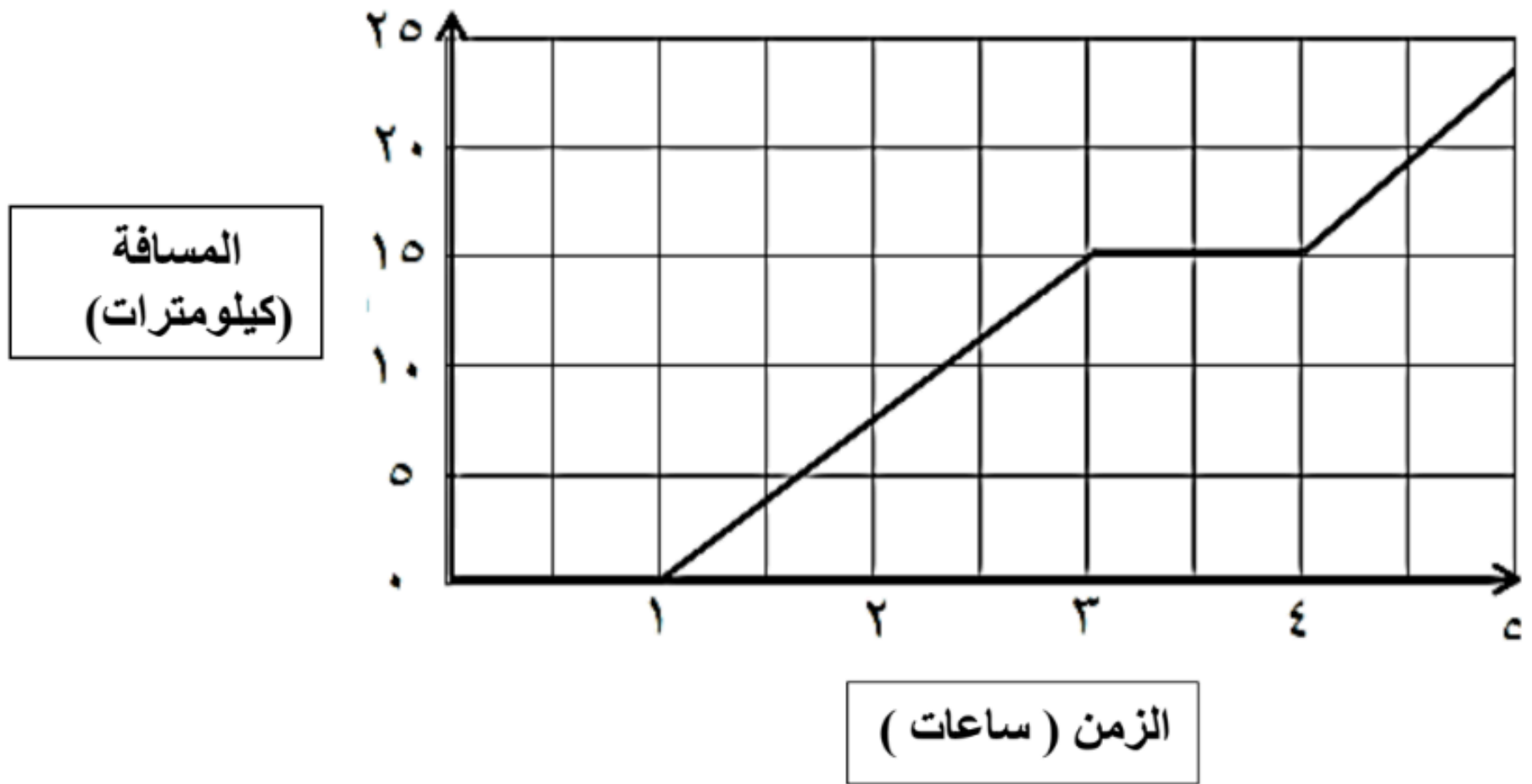
يوضح الرسم البياني الآتي المسافة التي قطعتها سيارة تسير بسرعة ٤٠ كم في الساعة
اكتب الوقت الذي تستغرقه السيارة لقطع مسافة ٦٠ كم.



" لا يوجد منوال للقيم الآتية ٦ ، ٧ ، ١٢ ، ١٠ ، ٤ ، ٨ "

فسر ذلك

يوضح الرسم البياني الخطي الآتي المسافة التي قطعها محمد خلال مدة من الزمن.



• اكتب المدة الزمنية التي توقف فيها محمد.

• اكتب المسافة التي قطعها محمد خلال رحلته.

الجدول الآتي يعرض عدد الزوار لأحدى الحدائق خلال أربعة أيام من الأسبوع.

عدد زوار المتحف	الأيام
3	الأحد
4	الاثنين
2	الثلاثاء
3	الأربعاء

يمثل : ١٠ أشخاص

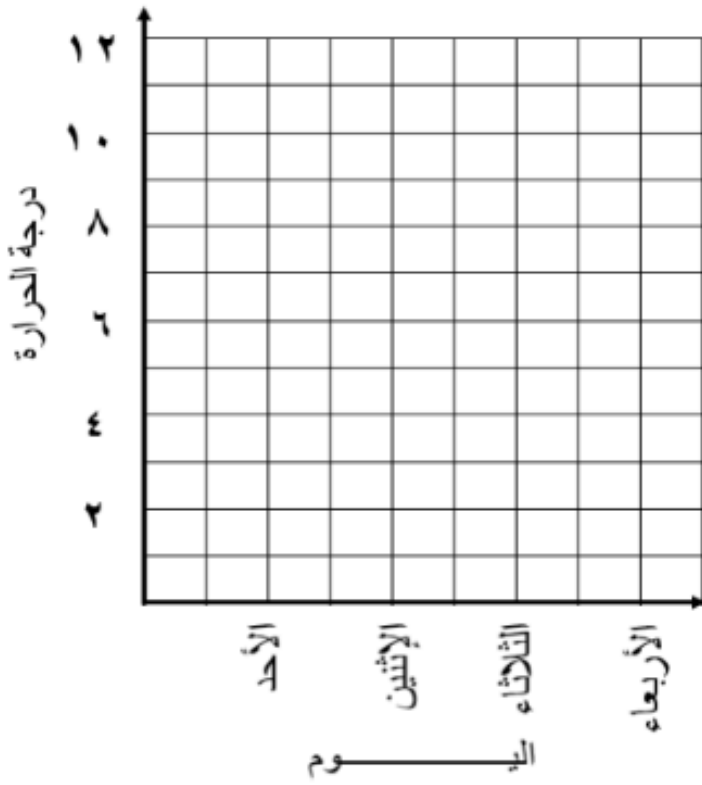
بكم يزيد عدد الزوار يوم الاثنين عن يوم الثلاثاء ؟

زائر

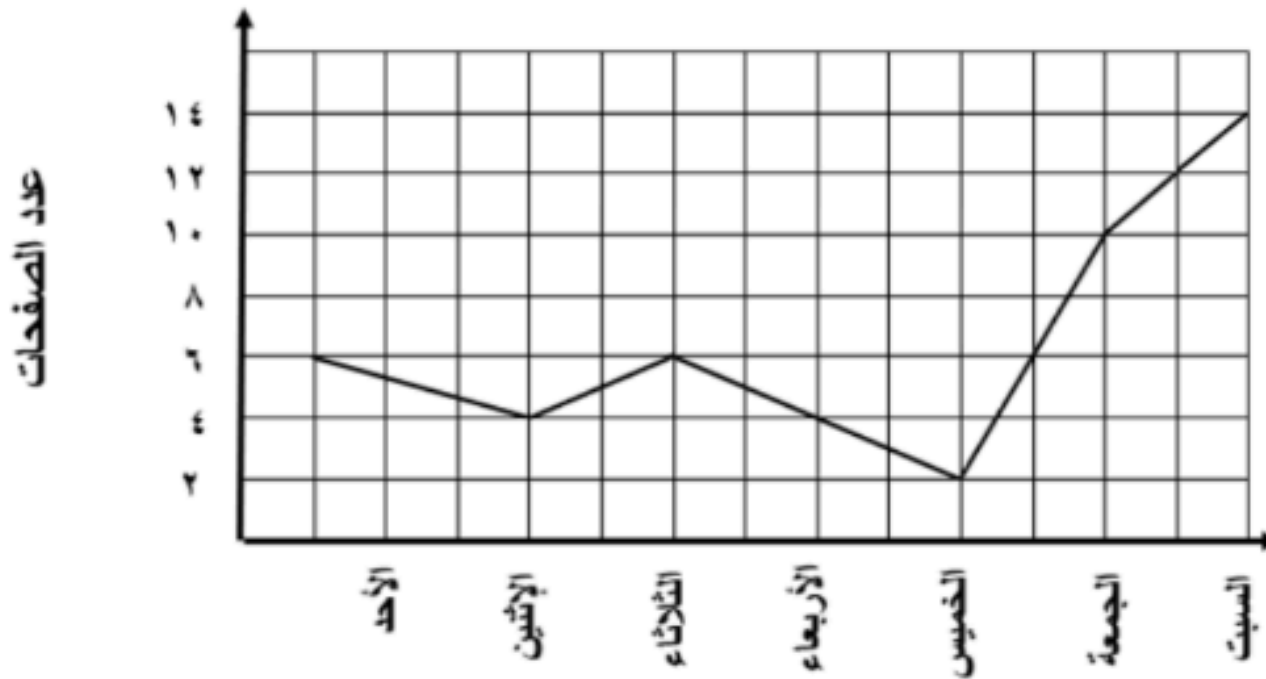
الجدول الآتي يبين درجات الحرارة في الجبل
الأخضر لمدة أربعة أيام

اليوم	درجة الحرارة
الأحد	٧
الاثنين	٩
الثلاثاء	٨
الأربعاء	١٢

ارسم رسماً بيانياً خطياً لعرض هذه المعلومات




يظهر الرسم البياني عدد الصفحات التي يقرأها طارق من كتاب ما.



- أوجد مجموع عدد الصفحات التي يقرأها في يومي الاثنين والأربعاء.....صفحات

من الرسم البياني المجاور



ضع علامة (✓) في المكان المناسب

العبارة	صواب	خطأ
عدد الطلبة الذين اختاروا المسابقة (س-ج) يساوي نصف عدد الذي اختاروا حفظ القرآن الكريم		
الفرق بين عدد الطلبة الذين اختاروا نشاط كرة القدم والذين اختاروا نشاط ركوب الدراجات يساوي تقريبا ٢٠		

أكمل باستخدام الكلمات (مستحيل ، غير مرجح ، متساو، مرجح، مؤكد)

ظهور العدد ٨ عند رمي حجر نرد سداسي الأوجه _____

اختيار كرة لونها أزرق من كيس مملوء بالكرات الزرقاء _____