

شكراً لتحميلك هذا الملف من موقع المناهج العمانية



بنك الأسئلة الموضوعية للمنهج نموذج حديث مع الإجابات

موقع المناهج ⇨ المناهج العمانية ⇨ الصف الخامس ⇨ اجتماعيات ⇨ الفصل الأول ⇨ الملف

تاريخ نشر الملف على موقع المناهج: 30-11-2023 16:13:00 | اسم المدرس: باسم بن هلال الكندي

التواصل الاجتماعي بحسب الصف الخامس



روابط مواد الصف الخامس على تلغرام

[الرياضيات](#)

[اللغة الانجليزية](#)

[اللغة العربية](#)

[التربية الاسلامية](#)

المزيد من الملفات بحسب الصف الخامس والمادة اجتماعيات في الفصل الأول

[كتيب أنشطة المادة مصنف حسب الدروس](#)

1

[اختبار قصير ثاني نموذج حديث](#)

2

[شرح الدرس الثالث من الوحدة الثانية بطريقة السؤال](#)

3

[اختبار قصير لدرس حصاد عمان قبل الإسلام](#)

4

[شرح درس شبه الجزيرة العربية قبل الإسلام بطريقة السؤال
والجواب](#)

5



سلطنة عُمان

المديرية العامة للتربية والتعليم بمحافظة جنوب الباطنة
مدرسة الخليل بن شاذان للتعليم الأساسي (5-9)

بنك الأسئلة الموضوعية لمنهج الدراسات الاجتماعية للفصل الخامس / الفصل الدراسي الأول

2023-2024م



إعداد: أ. باسم بن هلال الكندي
إشراف: أ. بدر بن عبد الله الحراصي

إجمالي الأسئلة : 70 سؤال + نموذج الإجابة

* أسئلة الوحدة الأولى : علم الخرائط ...التطور التاريخي وإحداثيات الموقع (عدد الأسئلة : 38)

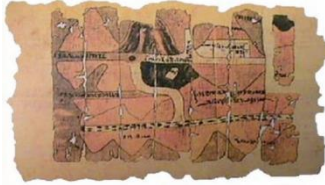
1- العلم الذي يهتم بفن رسم الخرائط وصناعتها:

- أ- الفلك ب- الطب ج- الرياضيات د- الخرائط



2- الحضارة التي رَسَمَت خريطة الأرض التي أمامك هم:

- أ- المصرية ب- الرومانية ج- البابلية د- الإغريقية



3- المادة التي استخدمها المصريون لرسم خرائطهم والتي تُمثِّلُه الصورة التي أمامك:

- أ- ورق البردي ب- الصلصال المحروق ج- الرمل د- قطع الجلد



4- الرقم الذي يُشير إلى الحضارة التي رَسَمَت خرائطها وفق أسسٍ علميةٍ دقيقةٍ:

- أ- (1) ب- (2) ج- (3) د- (4)

5- الهيئة العُمانية التي قامت بمعالجة خريطة الإدريسي وترميمها:

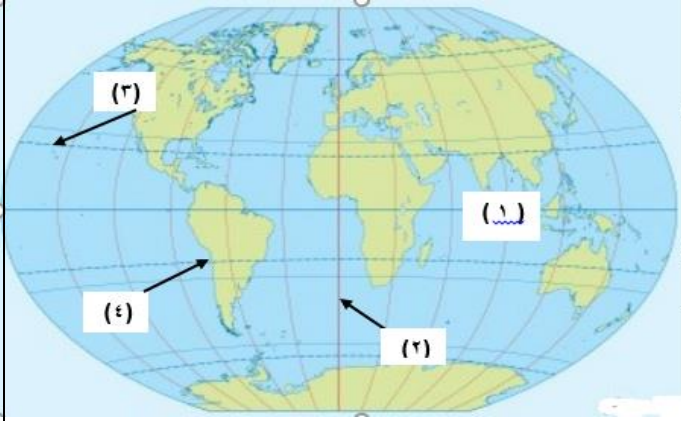
- أ- هيئة المعادن ب- هيئة البيئة ج- هيئة الطيران المدني د- هيئة الوثائق والمحفوظات الوطنية

6- المفهوم الذي يُطلق على جزء من محصول الأرض أو مبلغ مالي تحصلُ عليه الدولة من المزارعين مقابل زراعة أراضيها :

- أ- خطوط الطول ب- ضريبة الأرض الزراعية ج- دوائر العرض د- علم الخرائط

7- الحضارة التي قام شعبها بتوضيح خطوط الطول ودوائر العرض في خرائطهم:

- أ- البابليون ب- الإغريق ج- الرومان د- المسلمون



8- الرقم الذي يُشير إلى دائرة الاستواء في الشكل المُقابل:

أ- (1) ب- (2) ج- (3) د- (4)

9- الحضارة التي رَسَم شعبها خرائط لمواقع المناجم والطرق المؤدية إليها للبحث عن المعادن:

أ- الرومانية ب- المصرية ج- البابلية د- الإغريقية

10- عدد خطوط الطول:

أ- 90 خط ب- 180 خط ج- 360 خط د- 400 خط



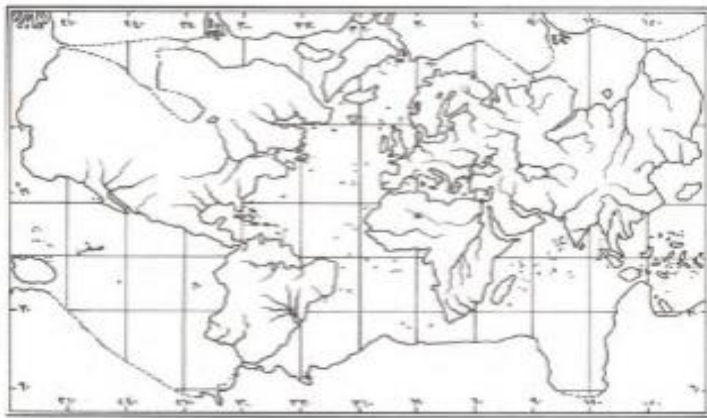
11- الجغرافي المسلم الذي رَسَم خريطة العالم التي أمامك:

أ- المسعودي ب- الإدريسي

ج- المقدسي د- ابن حوقل

12- درجة خط الطول الرئيس (خط غرينتش) تبلغ :

أ- صفر ب- 23.5 ج- 66.5 د- 90



13- الحضارة التي رَسَم شعبها الخريطة المُقابلة:

أ- الإسلامية ب- الإغريقية

ج- المصرية د- الأوروبية

14- إذا كانت الساعة 8 مساءً على خط غرينتش، فستكون الساعة في مسقط والتي تبعد 60 خط طول شرق خط غرينتش:

أ- الرابعة صباحًا ب- السادسة صباحًا ج- العاشرة صباحًا د- الثانية عشر صباحًا

إعداد: أ. باسم بن هلال الكندي (2) إشراف: أ. بدر بن عبد الله الحراصي

15- الرقم الذي يُشير إلى الحضارة التي رسمَ شعبُها خرائطُها على لوحات من الصلصال المحروق:



أ- (1) ب- (2) ج- (3) د- (4)

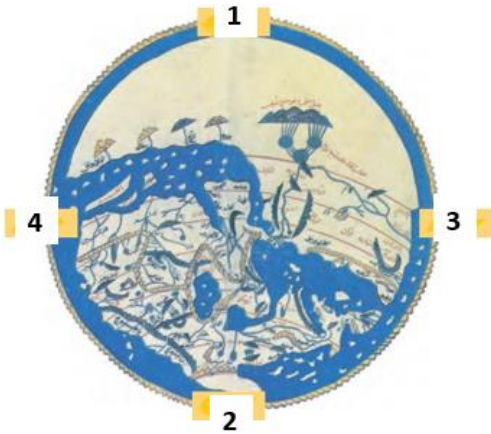
16- الفرق الزمني بين كل خط طول والذي يليه:

أ- دقيقتين ب- أربع دقائق ج- نصف ساعة د- ساعة واحدة

17- الملاح العُماني صاحب كتاب (الفوائد في أصول علم البحر والقواعد):

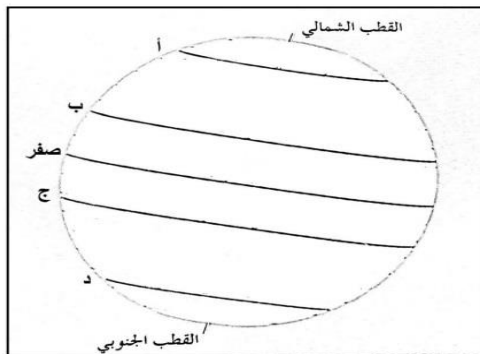
أ- سليمان المهري ب- ناصر بن علي الخضوري ج- أحمد بن ماجد د- الإدريسي

18- الرقم الذي يُشير إلى جهة الشمال في خريطة الأرض التي رسمها الجغرافي الإدريسي:



أ- (1) ب- (2)

ج- (3) د- (4)



19- الدائرة العرضية التي يُشير إليها الرمز (ج) :

أ- مدار الجدي ب- دائرة الاستواء
ج- مدار السرطان د- الدائرة القطبية الشمالية

20- عدد خطوط الطول التي تقع شرق خط غرينتش:

أ- 90 خط ب- 100 خط ج- 180 خط د- 360 خط

21- الدولة التي تحتل المرتبة الثالثة في شبه الجزيرة العربية من حيث المساحة:

أ- سلطنة عُمان ب- اليمن ج- السعودية د- الإمارات

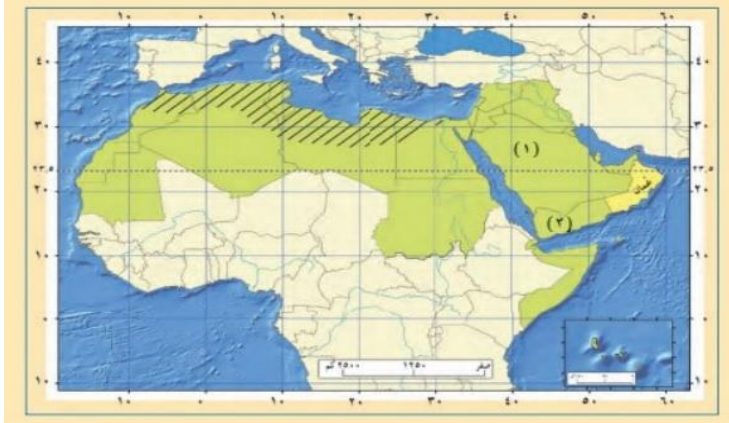
22- الدولة العربية التي تمر بها دائرة الاستواء في الخريطة المُقابلة:

أ- الجزائر

ب- سلطنة عُمان

ج- اليمن

د- الصومال

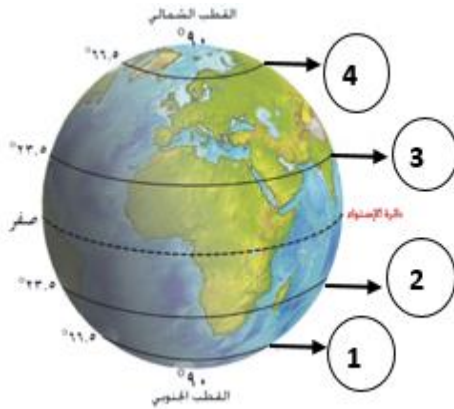


23- الدولة التي تحتل المرتبة الأولى في شبه الجزيرة العربية من حيث المساحة:

أ- سلطنة عُمان ب- اليمن ج- السعودية د- الإمارات

24- عدد دوائر العرض التي تُحيط بالكرة الأرضية:

أ- 90 دائرة ب- 180 دائرة ج- 360 دائرة د- 4 دوائر



25- الدائرة العرضية التي يُشير إليها الرقم (3) في الشكل المُقابل:

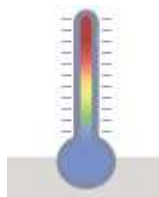
أ- مدار السرطان ب- الدائرة القطبية الجنوبية

ج- مدار الجدي د- الدائرة القطبية الشمالية

26- الشكل الذي يُعبر على أن خطوط الطول تُفيدنا في معرفة التوقيت في العالم:



د



ج



ب



أ

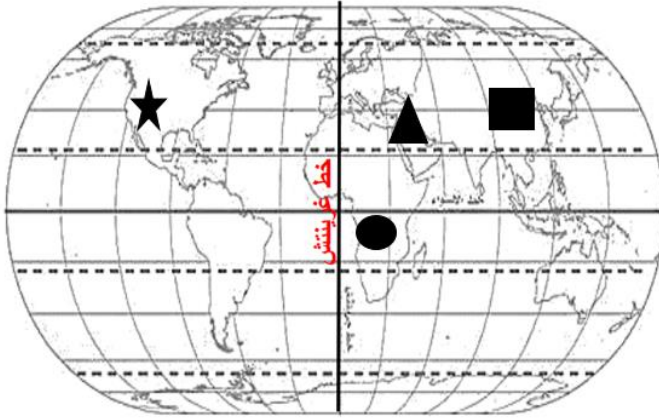
27- المنطقة الحرارية التي تقع فيها سلطنة عُمان:

أ- الباردة ب- المعتدلة الشمالية ج- الحارة د- المعتدلة الجنوبية

28- المفهوم الذي يُطلق على موقع المكان بالنسبة لخطوط الطول ودوائر العرض:

أ- علم الخرائط ب- الموقع الجغرافي ج- الضريبة الزراعية د- الموقع الفلكي

29- الرمز الذي يشير إلى المدينة التي ستكون مُتقدّمة في التوقيت عن بقية هذه المدن في الشكل المُقابل:

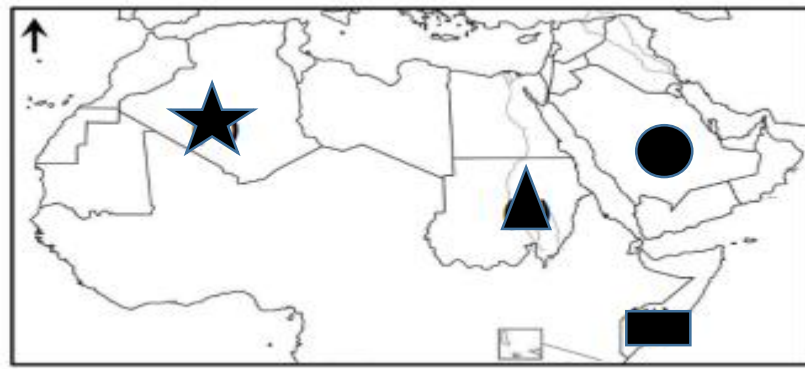


أ- ▲
ب- ■
ج- ●
د- ★

30- تُقيدنا دوائر العرض في معرفة:

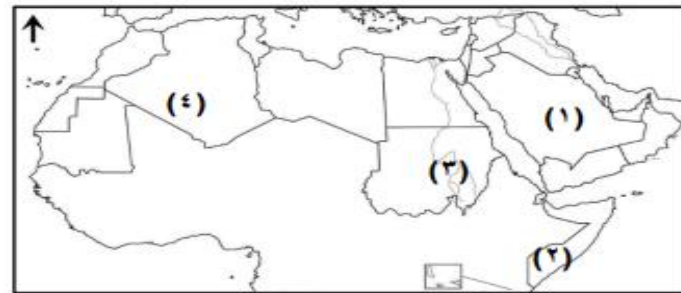
أ- التوقيت الزمني ج- التضاريس ج- المناخ د- تلوث البيئة

31- الرمز الذي يُشير إلى الدولة العربية التي تمر بها دائرة الاستواء:



أ- ●
ب- ★
ج- ■
د- ▲

32- الرقم الذي يُشير إلى الدولة العربية التي يمر بها خط غرينتش:



أ- (1)

ب- (2)

ج- (3)

د- (4)

33- المرتبة التي تحتلها سلطنة عُمان من حيث المساحة بالنسبة لشبه الجزيرة العربية:

أ-الأولى ب- الثانية ج- الثالثة د- الرابعة

34-الترتيب الصحيح لدول شبه الجزيرة العربية من حيث المساحة الأكبر فالأصغر:

السعودية	1
عُمان	2
اليمن	3

اليمن	1
السعودية	2
عُمان	3

السعودية	1
اليمن	2
عُمان	3

عُمان	1
السعودية	2
اليمن	3

د

ج

ب

أ

35-دائرة العرض التي تمر بها سلطنة عُمان:

أ-دائرة الاستواء ب-مدار الجدي ج- خط غرينتش د- مدار السرطان

36-العام الذي أطلقت فيه وزارة الدفاع الأمريكية نظام تحديد المواقع العالمي:

أ-1973 م ب- 1983 م ج- 1993 م د- 2003 م

37-الرمز الذي يُشير إلى الصورة التي تُعبر عن استخدام نظام تحديد المواقع العالمي في مجال الملاحة البحرية:



د



ج



ب



أ

38-الإحداثيات الصحيحة للنقطة (أ) في الخريطة :

خط طول	دائرة عرض
50 شرقاً	30 شمالاً

ب

خط طول	دائرة عرض
50 شرقاً	10 جنوباً

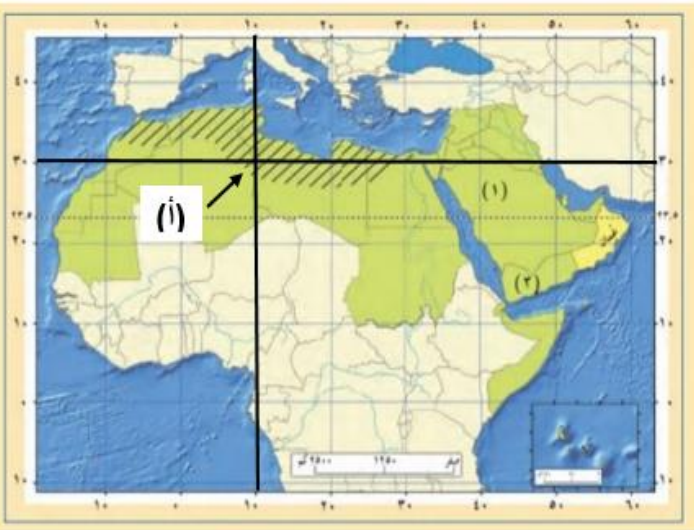
أ

خط طول	دائرة عرض
10 شرقاً	30 شمالاً

د

خط طول	دائرة عرض
40 شرقاً	30 شمالاً

ج



*الوحدة الثانية: شبه الجزيرة العربية وُعمان قبل الإسلام: (عدد الأسئلة 26)

1- الأسرة الحاكمة في عُمان قُبيلَ الإسلام:

أ- آل الجلندی ب- بني حنيفة ج- الرومان د- قريش

2- النشاط الاقتصادي الذي اشتهرت به واحة اليمامة الصحراوية في شبه الجزيرة العربية قبل الإسلام:

أ- التجارة ب- الزراعة ج- الرعي د- الصناعة

3- ملة سيدنا إبراهيم عليه السلام:

أ- اليهودية ب- النصرانية ج- الحنيفة د- الوثنية

4- الصورة التي تُشير إلى نشاط الرعي الذي مارسه سكان الجزيرة العربية قبل الإسلام:



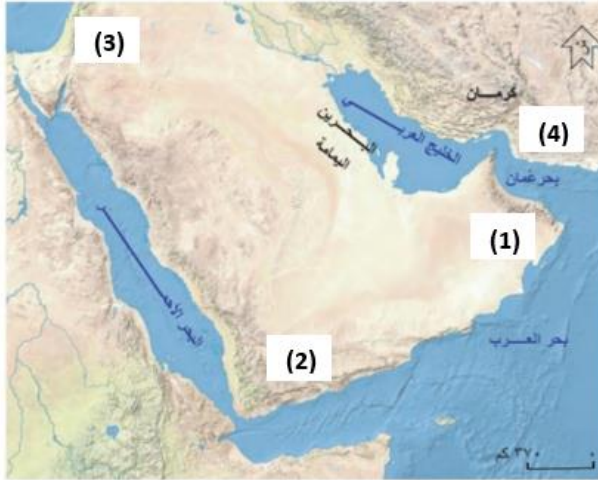
د

ج

ب

أ

5- الرقم الذي يشير في الخريطة المُقابلة إلى الدولة العربية التي قامت فيها ممالك، منها معين وسبأ:



ب- (2)

أ- (1)

د- (4)

ج- (3)

6- طبيب عربي مشهور كان يُضرب به المثل في الطب:

أ- ابن حذيم ب- ابن البيطار ج- الرازي د- ابن سينا

7- خطيب عُماني قبل الإسلام اشتهر بالفصاحة والبلاغة:

أ- العاص بن وائل ب- مصقلة بن رقة ج- كعب بن سور د- عمرو بن العاص

8- ملك من ملوك عُمان حكمها قبل الإسلام:

أ- مصقلة بن رقة ب- ابن حذيم ج- عبد عر بن معولة بن شمس د- العاص بن وائل

إشراف: أ. بدر بن عبد الله الحراصي

(7)

إعداد: أ. باسم بن هلال الكندي

9- من القيم الحميدة التي اتَّصفَ بها العرب:

أ- الخيانة ب- الكذب ج- نصره المظلوم ج- الجُبْن

10- الدولة العربية التي قامت فيها عددٌ من الممالك منها، سبأ ومعين:

أ- عُمان ب- مصر ج- اليمن د- الجزائر

11- المخطط الصحيح الذي يُمثِّل أقسام العرب:



(ب)



(أ)



(د)



(ج)

12- الرقم الذي يُشير إلى بلاد فارس في الخريطة التي أمامك:

أ- (1) ب- (2) ج- (3) د- (4)



13- المعركة التي انتصرَ فيها العُمانيون على الفرس بقيادة مالك بن فهم:

أ- ذي قار ب- سلوت ج- اليرموك د- بدر

14-الرقم الذي يُشير إلى المحافظة العُمانية التي يوجد بها فلج مالك في الخريطة المُقابلة:



أ- (1)

ب- (2)

ج- (3)

د- (4)

15-المدينة العُمانية التي اتخذها الفرس قاعدة لهم عندما دخلوا عُمان:

أ-مسقط

ب- صُحار

ج- نزوى

د- منح



16- المسطح المائي المُشار إليه بالرقم (1) هو :

أ- الخليج العربي

ب- البحر الأحمر

ج- بحر العرب

د- بحر عُمان

17-ملك عُماني استطاع طرد الفرس من عُمان واتَّخذ من مدينة قلّهات عاصمة له:

أ-مالك بن فهم

ب- عبدُ عزّ بن معولة بن شمس

ج- مصقلة بن رقبة

د- هناعه بن مالك بن فهم

18- الولاية التي يقع فيها فلج مالك:

أ-نزوى

ب- إزكي

ج- منح

د- سمائل

19-الشهر الذي كان يُقام في يومه الأخير سوق دبا:

أ-محرم

ب- رجب

ج- رمضان

د- ذو الحجة



20-الميناء العُماني التاريخي الذي تُمثله الصورة التي أمامك:

أ- صحار

ب- دبا

ج-سمهرم

د- صور

إعداد: أ. باسم بن هلال الكندي

(9)

إشراف: أ. بدر بن عبد الله الحراصي

21-العصر الذي عاش فيها الشاعر العُماني جواسُ بنُ حَيَّانَ الأزدي:

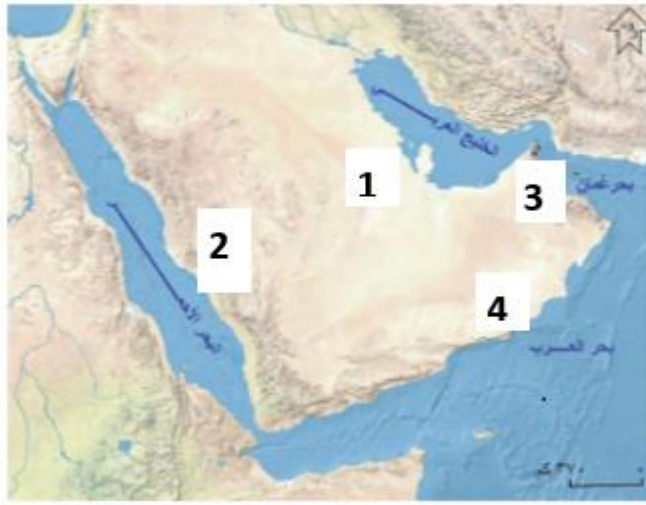
- أ-الجاهلي ب- الأموي ج- العباسي د- الفاطمي



22-الصورة التي تُعبّر عنها الصورة المقابلة والتي عرفتها عُمان منذ القدم:

- أ-المعدنية ب- الزجاجية ج- الفخارية د- النسيج

23-سوق يُعد أحد أسواق عُمان الأدبية قديما ومُشار إليه بالرقم (4) :



- أ-سوق دبا ب- سوق صحار

- ج- سوق الشَّحَر د- سوق مسقط

24-القوة الأجنبية التي نجح مالك بن فهم من طردها من عُمان:

- أ-الهنود ب- الرومان ج- الأحباش د- الفرس

25-منطقة فارسية حكمها سُليمة بن مالك بن فهم:

- أ-اليمامة ب- سلوت ج- كرمان د- البحرين

26-الرمز الذي يُشير إلى الترتيب الصحيح لحُكام عُمان قبل الإسلام من الأقدم إلى الأحدث:

1	مالك بن فهم
2	عبدُ عز بن معولة
3	ملوك آل الجلندی
4	هناة بن مالك

1	مالك بن فهم
2	هناة بن مالك
3	عبدُ عز بن معولة
4	ملوك آل الجلندی

1	هناة بن مالك
2	مالك بن فهم
3	عبد عز بن معولة
4	ملوك آل الجلندی

1	عبدُ عز بن معولة
2	مالك بن فهم
3	هناة بن مالك
4	ملوك آل الجلندی

د

ج

ب

أ

*الوحدة الثالثة: وَطَنِي عُمانُ... انتماءً وولاءً: (عدد الأسئلة: 6)

1-المنظمة العالمية التي قامت بإدراج عدد من الشخصيات العُمانية ضمن الشخصيات المؤثرة عالمياً:

أ-اليونيسيف ج- الفاو ج- اليونسكو د- الجات

2-المصطلح الذي يُطلق على تقديم مبالغ مالية كمساهمة لعملٍ خيري مفهوم:

أ-نصح ب- انتماء ج- تبرُّع د- الوطن

3-المفهوم الذي يُطلق على المشاركة في اختيار الشخص المناسب الذي يخدم بلدك:

أ-انتخاب ب- تشجيع ج- الوحدة الوطنية د- المواطن



4-الصورة المُقابلة تُعبّر عن مظهر من مظاهر الانتماء والولاء للوطن:

أ-المشاركة في الأعمال التطوعية ب- الاجتهاد في طلب العلم
ج-الدفاع عن الوطن د- تنظيف ساحة المدرسة



5-العام الذي تم فيه افتتاح المعلم الحضاري العُماني الذي تُمثّله الصورة المُقابلة:

أ-2020 م ب- 2021 م ج- 2022 م د- 2023 م

6-الرمز الذي يُشير إلى الصورة التي تُمثّل طلب العلم كمظهر من مظاهر الانتماء والولاء للوطن:



د



ج



ب



أ

نموذج الإجابة

***إجابات أسئلة الوحدة الأولى:**

<u>8</u>	<u>7</u>	<u>6</u>	<u>5</u>	<u>4</u>	<u>3</u>	<u>2</u>	<u>1</u>	رقم السؤال
أ	ج	ب	د	أ	أ	ج	د	رمز الإجابة
<u>16</u>	<u>15</u>	<u>14</u>	<u>13</u>	<u>12</u>	<u>11</u>	<u>10</u>	<u>9</u>	رقم السؤال
ب	ج	د	د	أ	أ	ج	ب	رمز الإجابة
<u>24</u>	<u>23</u>	<u>22</u>	<u>21</u>	<u>20</u>	<u>19</u>	<u>18</u>	<u>17</u>	رقم السؤال
ب	ج	د	أ	ج	أ	ب	ج	رمز الإجابة
<u>32</u>	<u>31</u>	<u>30</u>	<u>29</u>	<u>28</u>	<u>27</u>	<u>26</u>	<u>25</u>	رقم السؤال
د	ج	ج	ب	د	ج	ب	أ	رمز الإجابة
		<u>38</u>	<u>37</u>	<u>36</u>	<u>35</u>	<u>34</u>	<u>33</u>	رقم السؤال
		د	ج	أ	د	ب	ج	رمز الإجابة

***إجابات أسئلة الوحدة الثانية:**

رقم السؤال	1	2	3	4	5	6	7	8
رمز الإجابة	أ	ب	ج	د	ب	أ	ب	ج
رقم السؤال	9	10	11	12	13	14	15	16
رمز الإجابة	ج	ج	أ	د	ب	ب	ب	د
رقم السؤال	17	18	19	20	21	22	23	24
رمز الإجابة	أ	ج	ب	ج	أ	أ	ج	د
رقم السؤال	25	26						
رمز الإجابة	أ	ب						

***إجابات الوحدة الثالثة:**

رقم السؤال	1	2	3	4	5	6
رمز الإجابة	أ	ج	أ	ج	د	ج