

شكراً لتحميلك هذا الملف من موقع المناهج العمانية



أسئلة الاختبار الرسمي شمال الشرقية

[موقع المناهج](#) ⇨ [المناهج العمانية](#) ⇨ [الصف الخامس](#) ⇨ [اجتماعيات](#) ⇨ [الفصل الأول](#) ⇨ [الملف](#)

تاريخ نشر الملف على موقع المناهج: 06:42:00 2023-01-11

التواصل الاجتماعي بحسب الصف الخامس



روابط مواد الصف الخامس على تلغرام

[الرياضيات](#)


[اللغة الانجليزية](#)

[اللغة العربية](#)

[التربية الاسلامية](#)

المزيد من الملفات بحسب الصف الخامس والمادة اجتماعيات في الفصل الأول

| | |
|---|---|
| ملخص شامل للمادة من مذكرة المتميز | 1 |
| ملخص شرح درس ملامح من حياة العُمانيين قبل الإسلام | 2 |
| ملخص درس الموقع الفلكي مع الحل | 3 |
| اختبار قصير أول نموذج ثالث | 4 |
| اختبار قصير أول نموذج ثاني | 5 |



تابع السؤال ١٠٠٠ :
 التجارة التي كانت تنشط في فترة ظهور الإسلام بالميناء المشار إليه بالرقم (١) على الخريطة
 الآتية :
 أ- الزيتون ب- العاج ج- اللبان د- الذهب



٨- المصطح المائي الذي سيعبره خالد في رحلته البحرية من دولة الإمارات إلى دولة الكويت :
 أ- بحر عمان ب- الخليج العربي ج- البحر المتوسط د- بحر العرب



٩- المجال الذي يرمز إليه شعار جائزة السلطان قابوس طيب الله ثراه الموضح في الصورة المقابلة :
 أ- الثقافة والعلوم ب- حماية البيئة ج- العمل التطوعي د- الإجادة الحرفية

د- الإسكان

١٠- الجهة الحكومية التي تعمل على صرف معاش شهري لفئات معينة من المواطنين :
 أ- الصحة ب- التنمية الاجتماعية ج- التربية والتعليم



١١- مظهر العمل الاجتماعي الموضح في الصورة المقابلة :
 أ- العرس العمالي ب- موسم الحصاد ج- السبلة العمالية د- التعاون

بطاقة تعريفية عن مدينة صما
 - تقع في محافظة البريمي
 - تميزت بأنها واحة زراعية
 - تقع على طرق التجارة البعيدة
 - عرفت ببوابة عمان الشمسية

المدينة العمالية التي ورد ذكرها في البطاقة التعريفية:
 أ- البريمي ب- مرباط

الآية: قَالَ تَعَالَى (وَتَعَاوَنُوا عَلَى الْبِرِّ وَالتَّقْوَىٰ وَلَا تَعَاوَنُوا عَلَى الْإِلْمِ وَالْعُدْوَانِ) سورة المائدة: ٢ بعد قراءتك للآية القرآنية اجب عن الأسئلة الآتية:
١- عرف المقصود بالتعاون؟

ب- وضح أهمية التعاون؟

ج- من خلال الآية القرآنية أيهما تشجع زملائك عليه :
(التعاون على البر والتقوى)
(التعاون على الإثم والعدوان)

اختر الإجابة الصحيحة


ثانياً: ١- أمامك خريطة توضح طرق النقل البحرية والبرية لمدينة عمانية ادرسها جيداً ثم اجب عن الأسئلة الآتية :

١- ضع دائرة على عاصمة عمان في فترة ظهور الإسلام؟

ب- ارتبطت العاصمة بمدينة تؤام بطريق :

() بري () بحري / اختر الإجابة الصحيحة

ج- اكتب على الخريطة بحر عمان؟

د- يشير الرمز  في مفتاح الخريطة إلى



٢- قام طلبة الصف الخامس بحملة لتنظيف الشواطئ ما نوع العمل
لذي قام به الطلبة؟

ثالثاً: أذكر اثنين لكل من:-

أ- الديانات التي أعتنقها سكان شبه الجزيرة العربية قبيل الإسلام؟

١- ٢-

ب- خدمات الرعاية والتنمية الاجتماعية المقدمة لفئات المجتمع العماني من قبل وزارة التنمية الاجتماعية؟

١- ٢-

السؤال الثالث / اجب عن الأسئلة الآتية:

أولاً: قال تعالى (وَتَعَاوَنُوا عَلَى الْبِرِّ وَالتَّقْوَىٰ وَلَا تَعَاوَنُوا عَلَى الْإِثْمِ وَالْعُدْوَانِ) سورة المائدة: ٢ بعد قراءة الآية القرآنية اجب عن الأسئلة الآتية:

١- عرف المقصود بالتعاون؟

ب- وضح أهمية التعاون؟

ج- من خلال الآية القرآنية أيهما تشجع زملائك عليه :

() التعاون على البر والتقوى

() التعاون على الإثم والعدوان

اختر الإجابة الصحيحة

فسر إجابتك:

ثانياً: ١- أمامك خريطة توضح طرق النقل البحرية والبرية لمدينة عمانية ادرسها جيداً ثم اجب عن الأسئلة الآتية :




١- ضع دائرة على عاصمة عمان في فترة ظهور الإسلام؟

ب- ارتبطت العاصمة بمدينة تؤام بطريق :

() بري () بحري / اختر الإجابة الصحيحة

ج- اكتب على الخريطة بحر عمان؟

د- يشير الرمز  في مفتاح الخريطة إلى



٢- قام طلبة الصف الخامس بحملة لتنظيف الشواطئ ما نوع العمل

الذي قام به الطلبة؟

.....

ثالثاً: أذكر اثنين لكل من:

أ- الديانات التي أعتنقها سكان شبه الجزيرة العربية قبيل الإسلام؟

١- ٢-

ب- خدمات الرعاية والتنمية الاجتماعية المقدمة لفئات المجتمع العماني من قبل وزارة التنمية الاجتماعية

١- ٢-

اجب عن الأسئلة الآتية:
١- ما هي المشكلة التي تواجهها مصر في ضوء العبارة السابقة اجب عن الأسئلة الآتية:

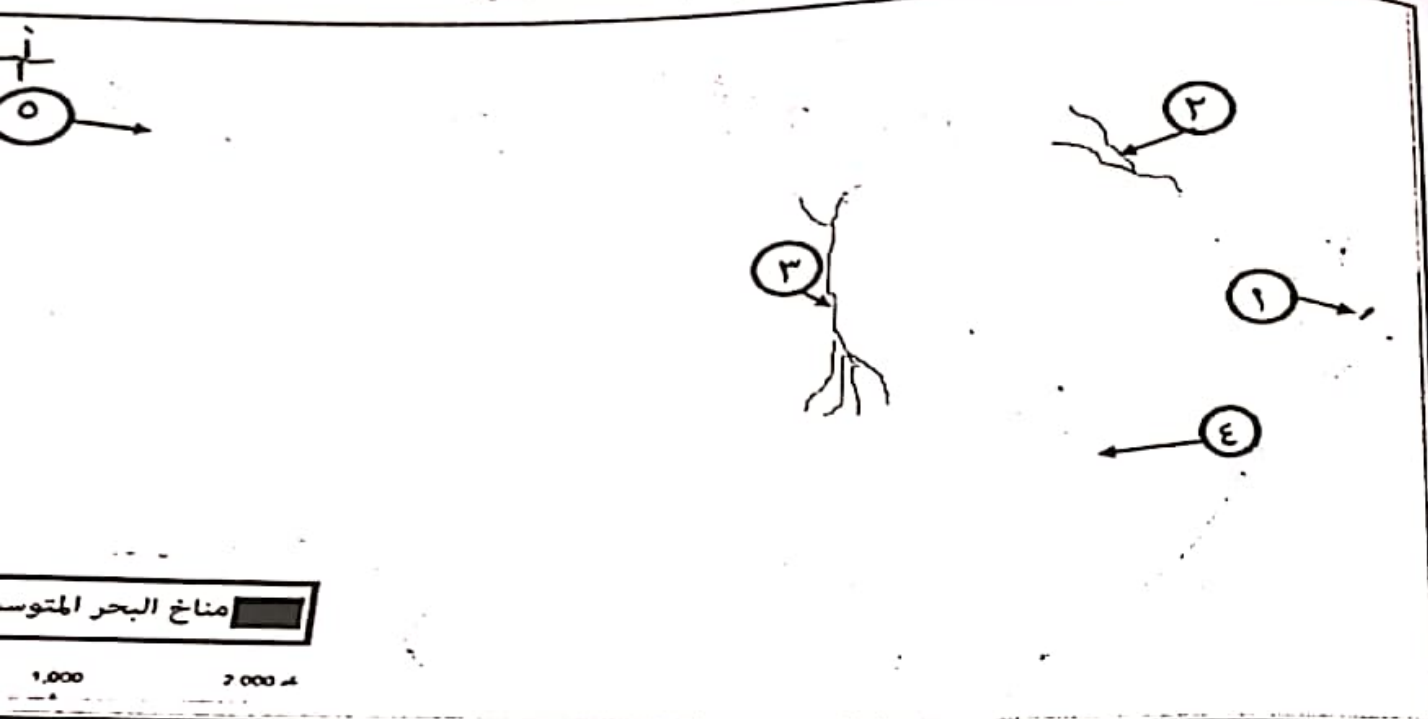
١- ما الحلول المتبعة للحد من المشكلة ؟

٢- واجبك كمواطن اتجاه المشكلة والحد منها ؟

ثانياً:

١- ما النتيجة المترتبة على كثرة استخدام الإنسان للأسمدة الكيماوية والمبيدات الحشرية على التربة ؟

ثالثاً: ادرس خريطة الوطن العربي الصماء التي أمامك جيداً ثم اجب عن الأسئلة الآتية:



أ- الرقم الدال على الدولة التي يظهر فيها مناخ البحر المتوسط.....



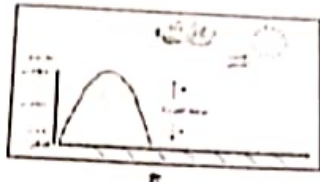

ب- خرج محمد من ميناء السلطان قابوس في رحلة بحرية متجه إلى جمهورية مصر المضيقة المائي الذي سيعبره يش.....

ج- أكتب على الخريطة البحر المتوسط في مكانه الصحيح ؟

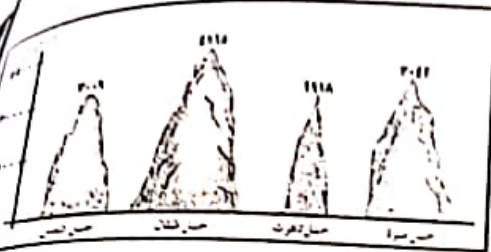
د- نوع السهل المشار إليه بالرقم (٣)

انتهت الأسئلة مع الدعاء للجميع بالتوفيق والنجاح.

أجب عن جميع الأسئلة الآتية
السؤال الأول: ضع دائرة حول رمز الإجابة الصحيحة لكل مفردة من المفردات الآتية:
١- الشكل الصحيح الذي يوضح العلاقة بين عامل الارتفاع ودرجة الحرارة:



٢- الجبل الذي يحتل المرتبة الثالثة من حيث الارتفاع:
أ- مرة
ب- تاهرت
ج- طبقال
د- شمس



٣- الشخصية العمانية التي تولت القضاة في مدينة البصرة في عهد الخليفة عمر بن الخطاب:

أ- زهير بن قرضم
ب- كعب بن سور
ج- كعب بن برشة
د- عمرو بن العاص

الرمز المستخدم الذي يصف الحالة الجوية لمحافظة ظفار حسب الرمز الموضح في الخريطة المقابلة:

أ- زهير بن قرضم
ب- كعب بن سور
ج- كعب بن برشة
د- عمرو بن العاص

أ- زهير بن قرضم
ب- كعب بن سور
ج- كعب بن برشة
د- عمرو بن العاص

أ- زهير بن قرضم
ب- كعب بن سور
ج- كعب بن برشة
د- عمرو بن العاص

أ- زهير بن قرضم
ب- كعب بن سور
ج- كعب بن برشة
د- عمرو بن العاص

هر الذي بلغت فيه درجة الحرارة ٤٠ في فهود حسب الجدول التالي :

| الشهر | يناير | فبراير | مارس | أبريل | مايو | يونيو | يوليو | أغسطس | سبتمبر | أكتوبر | نوفمبر | ديسمبر |
|---------------------------|-------|--------|------|-------|------|-------|-------|-------|--------|--------|--------|--------|
| متوسط هجات الحرارة (س) | ٢٥ | ٢٦ | ٢٩,٥ | ٣٤,٧ | ٣٩,٦ | ٤٠ | ٣٨ | ٣٥,٦ | ٣٥,٦ | ٣٤,٦ | ٣٠,٣ | ٢٦,٨ |
| ظفار (مليترات) | ١٣,٢ | ١٤ | ١٦,٤ | ١١,٣ | ٠ | ١٠,٩ | ٣,٤ | ١,٦ | ٠ | ٠,٨ | ١,٦ | ١٦,٥ |

أ- زهير بن قرضم
ب- كعب بن سور
ج- كعب بن برشة
د- عمرو بن العاص

أ- زهير بن قرضم
ب- كعب بن سور
ج- كعب بن برشة
د- عمرو بن العاص

أ- زهير بن قرضم
ب- كعب بن سور
ج- كعب بن برشة
د- عمرو بن العاص

تي توضح مشكلة الرعي الجائر التي تتعرض لها النباتات الطبيعية:



أ- زهير بن قرضم
ب- كعب بن سور
ج- كعب بن برشة
د- عمرو بن العاص


أ- زهير بن قرضم
ب- كعب بن سور
ج- كعب بن برشة
د- عمرو بن العاص

أ- زهير بن قرضم
ب- كعب بن سور
ج- كعب بن برشة
د- عمرو بن العاص

السؤال الرابع / اجب عن الأسئلة الآتية:

أولاً: ١- انصب الصفات التالية للشخصيات العمانية الواردة بين القوسين في الجدول التالي:
(كعب بن برشه الطاحي - زهير بن قرضم المهري - كعب بن سور الأزدي - مصقلة بن رقة)

| الصفة | الشخصية العمانية |
|---|------------------|
| متحدث باللغة الفارسية | |
| اشتهر بالخطابة والفصاحة والبلاغة | |
| حب الاستطلاع والبحث عن المعرفة | |
| اشتهر بالشجاعة والعدل والدعوة إلى السلم | |



ثانياً: ادرس الصورة التي امامك ثم اجب عن الأسئلة الآتية :

أ- اسم المظهر الاجتماعي الموضح في الصورة

ب- وضح دور كلا من الرجال والنساء في هذا المظهر :

| الرجال | الأطفال والنساء |
|--------|-----------------|
| | |

- من خلال دراستك لأنواع النباتات الطبيعية قارن بين النوعين الواضحين في الصورة في الجدول التالي :

| وجه المقارنة | الشكل (أ) شجرة همدان | الشكل (ب) الغاف |
|--------------|----------------------|-----------------|
| النوع | أ- | ب- |
| الخصائص | ج- | د- |

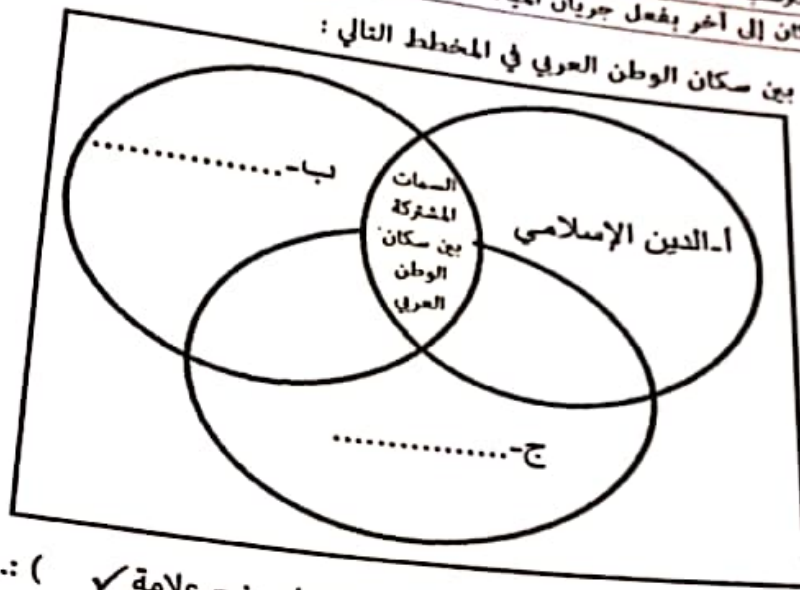
السؤال الثاني / اجب عن الأسئلة الآتية:
أولاً: ١- اكتب اسم المصطلح الصحيح أمام كل عبارة من العبارات في الجدول الآتي:

(الانجراف - تدهور خصوبة التربة - الدلتا)

أ. تكوينات فيضيه ترسب عند مصبات الأنهار

ب. نقل التربة من مكان إلى آخر بفعل جريان المياه السطحية

٢- ضع السمات المشتركة بين سكان الوطن العربي في المخطط التالي:



ثانياً: ١- ميز خصائص التربة التالية حسب نوع التربة التي تنتمي إليها بوضع علامة ✓ () :

| الخصائص | تربة البحر المتوسط | التربة الصحراوية | التربة الفيضية |
|--------------------------------|--------------------|------------------|----------------|
| تفتقر للعناصر الغذائية | | | |
| غنية بالمواد العضوية والمعدنية | | | |
| تنتشر على منحدرات الجبال | | | |
| تنتشر فيها زراعة النخيل | | | |

صنف مظاهر العمل الاجتماعي التالية إلى أعمال على مستوى المجتمع المحلي وأعمال دولية:

(المساعدة في تنظيف القرية - مساعدة حكومة السلطنة للهند عند حدوث فيضانات)

أعمال دولية

أعمال مجتمعية

أ-
ب-

ادرس الشكل المقابل ثم أجب عن الأسئلة الآتية:

الشبكة

أ-

ب-

