

نشاط صفي للعباقرة أوراق عمل استقصاء أطوال الظل



تم تحميل هذا الملف من موقع المناهج العمانية

موقع فايلاتي ⇨ المناهج العمانية ⇨ الصف الخامس ⇨ علوم ⇨ الفصل الثاني ⇨ ملفات متنوعة ⇨ الملف

تاريخ إضافة الملف على موقع المناهج: 18:58:41 2026-02-08

ملفات اكتب للمعلم اكتب للطالب ا اختبارات الكترونية ا اختبارات ا حلول ا عروض بوربوينت ا أوراق عمل
منهج انجليزي ا ملخصات وتقارير ا مذكرات وبنوك ا الامتحان النهائي ا للمدرس

المزيد من مادة
علوم:

إعداد: حنان السعيدية

التواصل الاجتماعي بحسب الصف الخامس



صفحة المناهج
العمانية على
فيسبوك

المزيد من الملفات بحسب الصف الخامس والمادة علوم في الفصل الثاني

نشاط صفي للعباقرة أوراق عمل دوران الأرض حول الشمس

1

نشاط صفي للعباقرة هل الشمس تتحرك

2

نشاط صفي للعباقرة إستكشاف النجوم

3

نشاط صفي للعباقرة إكتشاف النظام الشمسي

4

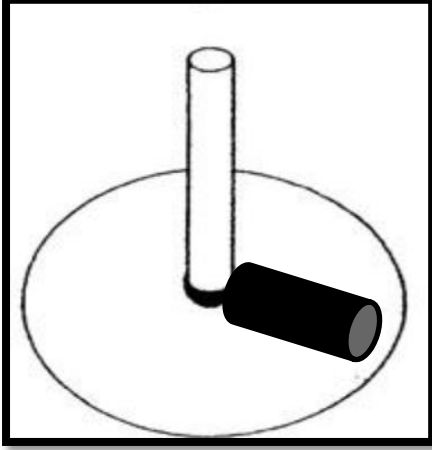
ملخص علوم الضوء وخصائصه دمج

5

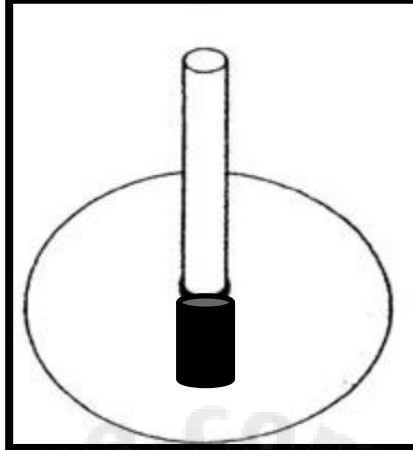
نشاط صفى لعباقرة العلوم (استقصاء أطوال الظل؟)

الاسم: الصف: ٥ / مدة النشاط: ٥ دقائق

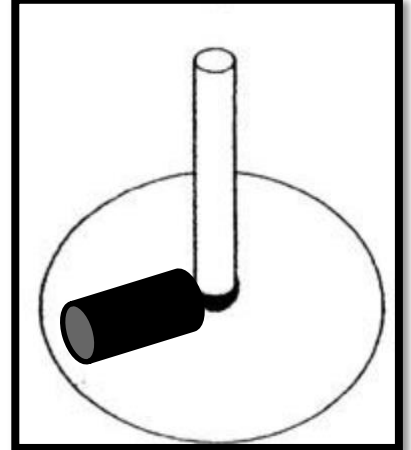
- الاشكال التالية عبارة ساعات شمسية (المزولة) .. ادرس الاشكال وأجب عن الاتي :



الشكل ٣



الشكل ٢



الشكل ١

أ- الشكل الذي يمثل الساعة ١٢ مساءً .. (ظل الاجابة الصحيحة)

٣ ○

٢ ○

١ ○

فسر اجابتك:


ب- في اعتقادك ما سبب تقارب طول الظل في الشكل (١) والشكل (٣)؟

.....

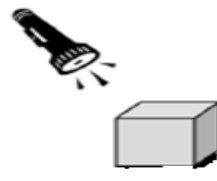
- تدرس عيبر العلاقة بين طول الظل وموقع مصدر الضوء.. ادرس الشكل واجب عن الاتي :



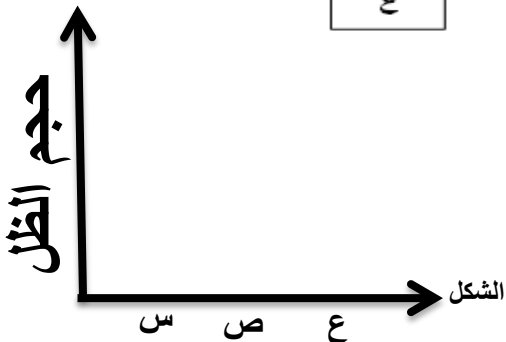
ع



ص



س



أ- مثل حجم الظل بيانياً..

ب- الساعة ٧ صباحاً يمثلها الشكل.....