

اختبار قصير الأول أغلفة الأرض والمجموعة الشمسية والمشكلات البيئية



تم تحميل هذا الملف من موقع المناهج العمانية

موقع فايلاتي ⇨ المناهج العمانية ⇨ الصف الخامس ⇨ اجتماعيات ⇨ الفصل الثاني ⇨ ملفات متنوعة ⇨ الملف

تاريخ إضافة الملف على موقع المناهج: 2026-01-30 16:13:03

ملفات اكتب للمعلم اكتب للطالب | اختبارات الكترونية | اختبارات | حلول | عروض بوربوينت | أوراق عمل
منهج انجليزي | ملخصات وتقارير | مذكرات وبنوك | الامتحان النهائي | للمدرس

المزيد من مادة
اجتماعيات:

التواصل الاجتماعي بحسب الصف الخامس



صفحة المناهج
العمانية على
فيسبوك

المزيد من الملفات بحسب الصف الخامس والمادة اجتماعيات في الفصل الثاني

مراجعة الوحدة الأولى كوكب الأرض الأغلفة والموارد الطبيعية

1

مراجعة مهمة أسئلة

2

مقارنة شاملة لمكونات ومفهوم أغلفة كوكب الأرض

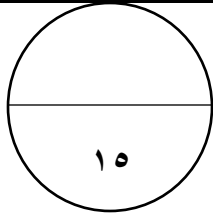
3

ملخص الوحدات 1 و 2 و 3 المجرة والموارد النظام السياسي والتاريخ الإسلامي

4

تقرير النظام الأساسي للدولة في سلطنة عُمان وأهميته المجتمعية

5



سلطنة عمان

وزارة التربية والتعليم


المديرية العامة للتربية والتعليم بمحافظة الباطنة شمال

مدرسة الضياء للتعليم الأساسي ح ٢

الاختبار القصير (١) لمادة الدراسات الاجتماعية الصف الخامس الفصل الدراسي الثاني للعام الدراسي

الاسم : الصف : الخامس /

السؤال الأول: اختاري الاجابه الصحيحه من بين البدائل المعطاه : (٥ درجات)

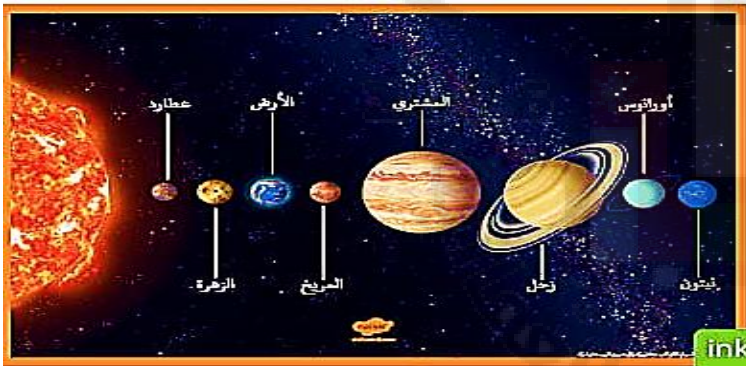


١- الصورة المقابله تمثل الغلاف :

أ. المائي ب. الحيوي ج. الجوي د. الصخري

٢- جميع ما يلي من مكونات الغلاف الجوي ما عدا :

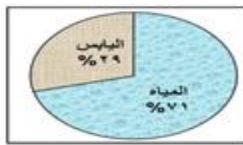
أ. المعادن ب. الاكسجين ج. النيتروجين د. بخار الماء




٣- الكوكب الأقرب الى الشمس :

أ. المريخ ب. الأرض ج. الزهرة د. عطارد

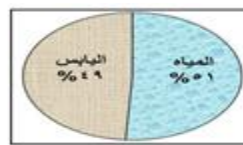
٤- اختاري الشكل الصحيح الذي يمثل النسبة الصحيحة للماء واليابسة على سطح الأرض :




د.



ج.



ب.



أ.

٥- تمثل الصورة التالية مشكلة وهي :

أ_ الامطار الحمضية ب- الانهيارات الأرضية
ج- تلوث المياه د - تدهور الغطاء النباتي



السؤال الثاني: (٦ درجات)

أولاً: اكتب امام الجمل التاليه ما يناسبها من مصطلحات :

المصطلح	تعريفه
.....	تجمع عدد كبير جدا من النجوم والسحب والغازات على شكل شريط حلزوني مضئ في السماء
.....	هو كل ما موجود في الطبيعة ويستفيد منه الانسان والكاننات الحية الأخرى

٢- صفني الموارد الطبيعية التالية في أغلفة كوكب الأرض في الجدول التالي:

(المعادن _ الحيوانات _ الاكسجين _ المياه العذبة)

الغلاف	الجوي	الصخري	المائي	الحيوي
الموارد				



٣- ادرس الشكل المقابل ثم اجيبي عما يلي :

أ-ما اسم المنجز العماني الذي تمثله الصورة التالية

ب-متى تأسست هذه الجمعية

السؤال الثالث : (٤ درجات)

١- ادرس الشكل الذي امامك (دورة الماء في الطبيعة)

ثم اجيبي عما يلي :

أ-أكملي البيانات الناقصة في الصورة التالية التي تمثل دورة الماء في الطبيعة

٢ من خلال الشكل الذي أمامك اجيب عما يلي :

أ _ استنتجي العلاقة بين الغلاف المائي والغلاف الصخري

.....

ب _ الشكل الناتج بعد العلاقة

انتهت الأسئلة مع تمنياتي للجميع بالنجاح

