

شكراً لتحميلك هذا الملف من موقع المناهج العمانية



أسئلة درس ملامح من حياة العمانيين قبل الإسلام

موقع المناهج ⇨ المناهج العمانية ⇨ الصف الخامس ⇨ اجتماعيات ⇨ الفصل الأول ⇨ الملف

تاريخ نشر الملف على موقع المناهج: 2023-11-23 06:39:27

التواصل الاجتماعي بحسب الصف الخامس



روابط مواد الصف الخامس على تلغرام

[الرياضيات](#)

[اللغة الانجليزية](#)

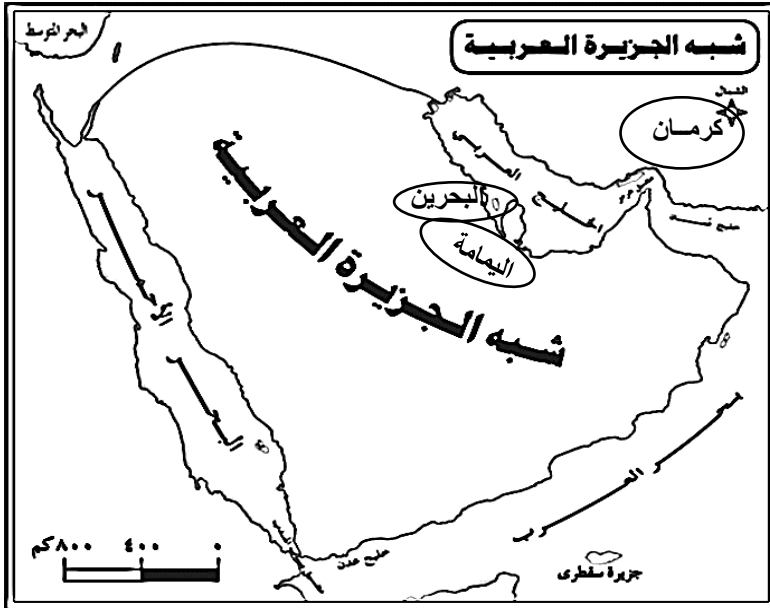
[اللغة العربية](#)

[التربية الاسلامية](#)

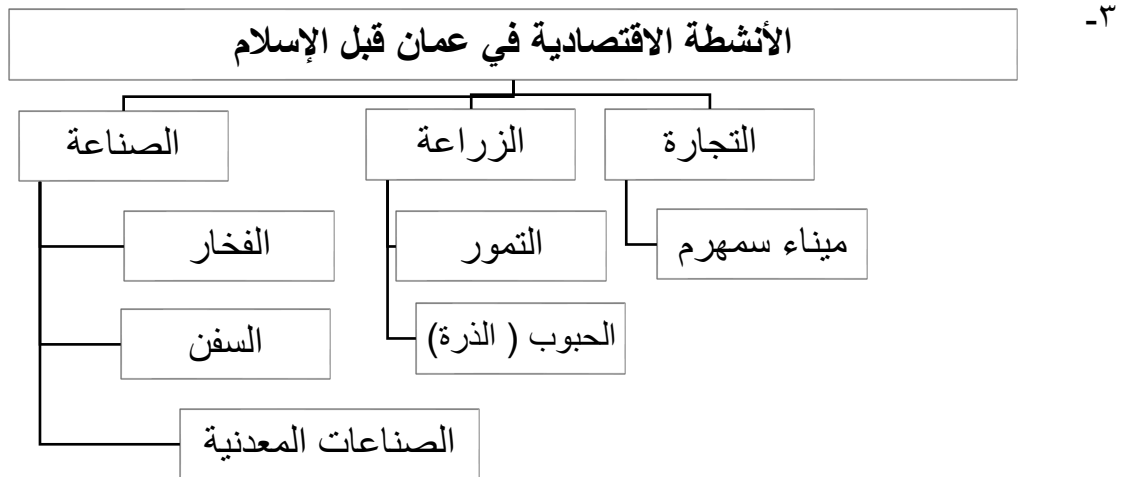
المزيد من الملفات بحسب الصف الخامس والمادة اجتماعيات في الفصل الأول

واحب منزلي نموذج حديد ثاني	1
واحب منزلي نموذج حديد	2
ملخص شامل للمادة من مذكرة المتميز	3
ملخص شرح درس ملامح من حياة العمانيين قبل الإسلام	4
ملخص درس الموقع الفلكي مع الحل	5

١- أبرز حكام عُمان قبل الإسلام



- ٢- المناطق التي امتد إليها حكم العمانيين قبل الإسلام في عهد أبناء مالك بن فهم:
- (كرمان (إيران)
 - اليمامة (السعودية)
 - -البحرين)



٤- فسر: ازدهار الاقتصاد عند العمانيين منذ القدم . بسبب الموقع الجغرافي المتميز لعمان.

٥- ما دور الموانئ العمانية في ازدهار الاقتصاد قديماً. تعد الموانئ قنوات عبور للبضائع القادمة من الخارج فهي تعتبر الملتقى التجاري لعمان بالدول الأخرى وتسهل التبادل التجاري وبالتالي تنويع مصادر الدخل.

٦- عدد عوامل التنوع الثقافي في عمان قبل الإسلام؟

- التواصل التجاري مع المناطق الأخرى .
- استقرار بعض التجار كالهنود والفرس والأفارقة في عمان.
- الهجرات العربية.

٧- الديانة السائدة في عمان قبل الإسلام؟ الديانة الوثنية (عبادة الأصنام)

٨- دلل على ما يلي:

- أ- اهتمام العمانيين قبل الإسلام بالبعث والخلود.
اهتمامهم وعنايتهم بالموتى .
- ب- براعة العمانيون في فن النقش والرسومات الصخرية.
تسجيلهم لتفاصيل مظاهر حياتهم والتعبير عن أفكارهم في الصخور .



٩- ادرس الصورة التي أمامك ثم أجب عن ما يلي:

- أ- ما اسم الفن الذي توضحه الصورة؟
فن النقش والرسومات الصخرية
- ب- ما أهمية هذا العمل؟
تسجيل تفاصيل مظاهر حياتهم والتعبير عن أفكارهم من خلال هذا الفن.

١٠- علل: ازدهار الحياة الأدبية عند العمانيين قبل الإسلام.

بسبب وجود الأسواق التجارية المشهورة في عمان التي كانت تمثل ملتقى للشعراء والأدباء.



١١- أشهر الأسواق الأدبية في عمان قبل الإسلام؟

١. سوق دبا
٢. سوق صحار
٣. سوق الشحر

١٢- شخصيات عمانية برزت قبل الإسلام:

جواس بن حيان الأزدي	من شعراء عمان في العصر الجاهلي
الملك الجلندي	من ملوك عمان قبل الإسلام وهو والد ملكي عمان عند ظهور الإسلام

السؤال الأول :ضع دائرة حوال الرمز الدال على الإجابة الصحيحة من بين البدائل المعطاة:

١- من ملوك عمان قبل الإسلام وهو والد ملكي عمان عند ظهور الإسلام.
أ- جيفر ب- مالك ج- الجلندي د- هناة

٢- المنطقة الفارسية التي حكمها سليمة بن مالك بن فهم:
أ- اليمامة ب- البحرين ج- الشحر د- كرمان

٣- الديانة السائدة في عمان قبل الإسلام:
أ- الوثنية ب- الحنيفية ج- النصرانية د- اليهودية

٤- الرقم الذي يشير في الخريطة المقابلة إلى المحافظة العمانية التي يقع فيها ميناء سمهرم:



- أ- ١
ب- ٢
ج- ٣
د- ٤

٥- أبرز المحاصيل الزراعية التي زرعها العُمانيون قبل الإسلام :

أ- الفواكه ب- الشعير ج- الذرة د- البهارات

٦- الرقم (١) في الخريطة يشير إلى أحد الأسواق التجارية المشهورة في عمان :



- أ- صحار
ب- دبا
ج- الشحر
د- مرباط

٧- الشخصية العمانية الذي حكم منطقة كرمان الفارسية زمن حكم هناة بن مالك:

أ- مالك بن فهم ب- سليمة بن مالك ج- جواس بن حيان د- عبد بن الجلندی

٨- أحد شعراء عمان في العصر الجاهلي:

أ- جواس بن حيان ب- سليمة بن مالك ج- جيفر بن الجلندی د- هناة بن مالك

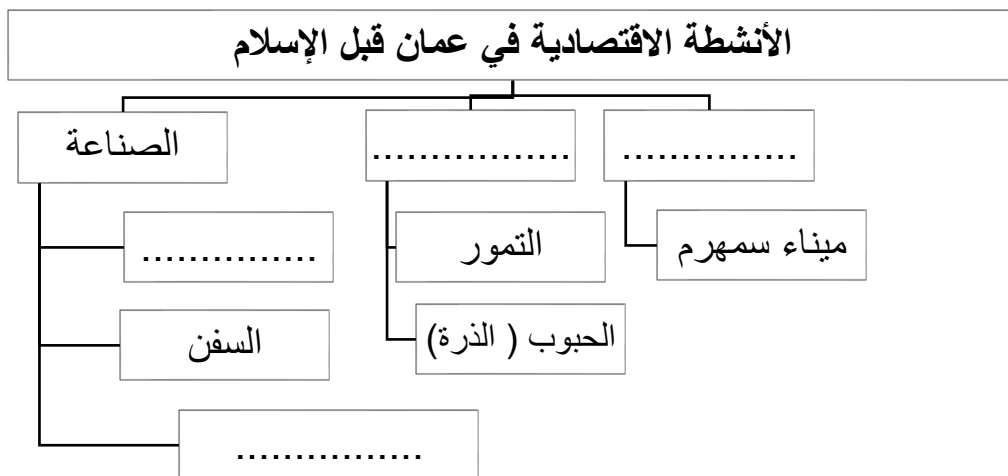
السؤال الثاني : أجب عن الأسئلة الآتية:

١- دلل على ما يلي:

أ- اهتمام العمانيين قبل الإسلام بالبعث والخلود.

ب- براعة العمانيون في فن النقش والرسومات الصخرية.

٢- أكمل المخطط الآتي والذي يوضح الأنشطة الاقتصادية في عمان قبل الإسلام:



٣- ما النتيجة المترتبة على انتشار الأسواق التجارية الأدبية في عمان قديما .

٤- أذكر أشهر الأسواق الأدبية في عمان قديما ؟

٥- عدد عوامل التنوع الثقافي في عمان قبل الإسلام.



٦- ادرس الصورة التي أمامك ثم أجب عن ما يلي:

أ- ما اسم الفن الذي توضحه الصورة؟

.....

ب- ما أهمية هذا العمل؟

.....

٧- علل ما يلي:



أ- ازدهار التجارة عند العمانيين منذ القدم .

.....

ب- ازدهار الحياة الأدبية في عمان قبل الإسلام.

.....

٨- سم الصناعات التي عرفها العمانيون قبل الإسلام أسفل الصور الآتية :



(.....)

(.....)

(.....)

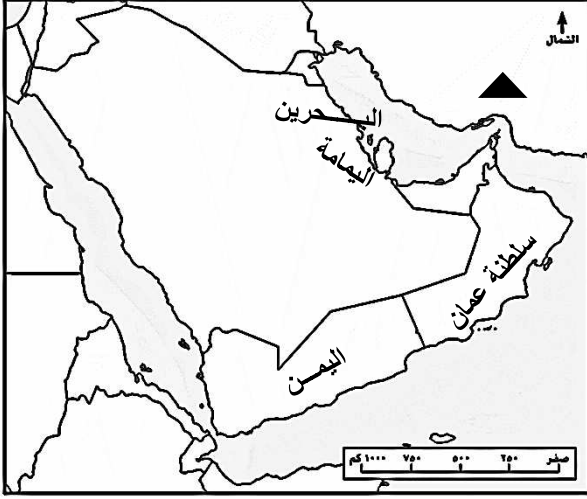
٩- أكتب اسم الشخصية العمانية ما بين القوسين بما يناسبها من العبارات الآتية:

(الملك الجندى - جواس بن حيان الأزدي)

من شعراء عمان في العصر الجاهلي
من ملوك عمان قبل الإسلام وهو والد ملكي عمان عند ظهور الإسلام

مهارة قراءة الخريطة:

أولاً: ادرس خريطة شبه الجزيرة العربية ثم أجيب عن الأسئلة التي تليها:



١- المنطقة التي حكمها سليمة بن مالك والمشار إليها بالرمز ▲.

٢- ضع دائرة حول المناطق التي امتد إليها حكم العمانيين قبل الإسلام خارج عمان .

٣- ظلل الدولة العربية التي يوجد بها ميناء سمهرم قديماً.



ثانياً: ادرس خريطة عمان (صماء) ثم أجيب عن الأسئلة التي تليها:

١- اكتب الأرقام الدالة على موقع الأسواق الآتية:

سوق صحار	
سوق الشحر	
سوق دبا	

٢- وقع المحافظة العمانية التي يوجد بها ميناء سمهرم قديماً.

٣- المسطح المائي الذي يطل عليه الميناء رقم ٣.