

شكراً لتحميلك هذا الملف من موقع المناهج العمانية



الاختبار النهائي الرسمي في محافظة شمال الباطنة

[موقع المناهج](#) ⇨ [المناهج العمانية](#) ⇨ [الصف الخامس](#) ⇨ [رياضيات](#) ⇨ [الفصل الثاني](#) ⇨ [الملف](#)

تاريخ نشر الملف على موقع المناهج: 14-05-2023 06:58:05

التواصل الاجتماعي بحسب الصف الخامس



روابط مواد الصف الخامس على تلغرام

[الرياضيات](#)

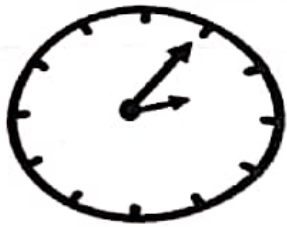
[اللغة الانجليزية](#)

[اللغة العربية](#)

[التربية الاسلامية](#)

المزيد من الملفات بحسب الصف الخامس والمادة رياضيات في الفصل الثاني

الاختبار النهائي الرسمي في محافظة شمال الباطنة مسائي	1
نموذج إجابة الامتحان النهائي الرسمي بمحافظة جنوب الباطنة	2
نموذج إجابة الامتحان الرسمي النهائي الفترة الصباحية	3
الاختبار النهائي الرسمي في محافظة شمال الشرقية	4
الاختبار النهائي الرسمي في محافظة الداخلية	5



مساءً

يقول محمد إذا كان المنوال للأعداد التالية هو العدد ٥ فإن قيمة ☐ يساوي ٣

☐ ، ٣ ، ٥ ، ٢ ، ٥ ، ٣

هل ما يقوله محمد صحيح؟

☐ نعم

☐ لا

فسر اجابتك
رتب الاطوال التالية ترتيباً تنازلياً (من الأكبر الى الأصغر)
٩٠٠ مل ، ١٨٠٠ مل ، ٢٠٠٠ مل ، ٣ لتر

الأصغر

الأكبر

$\frac{1}{3}$ من ١٢ يساوي

٦:٢٤

إذا كانت الساعة التي أمامك متقدمة ب ١٨ دقيقة.

حوط على الوقت الصحيح:

٦:٤٢

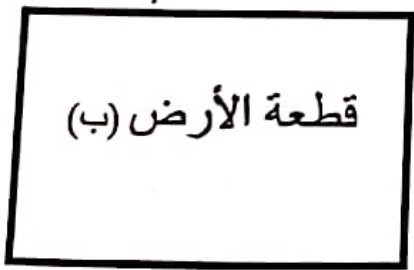
٦:٢٤

٦:٠٦

٦:٠٠

أراد محمد تغطية إحدى قطع الأرض التالية بالعشب الصناعي

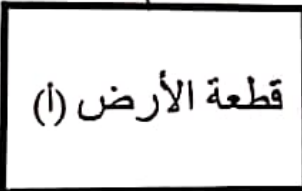
٣٠ م



قطعة الأرض (ب)

٢٠ م

٢٠ م



قطعة الأرض (أ)

١٠ م

يهما تحتاج الى مساحة أقل من العشب؟

درجة

٧

(٤)

المادة: الرياضيات

الدور الأول - الفصل الدراسي الثاني - العام الدراسي ١٤٤٤ هـ - ٢٠٢٢/٢٠٢٣ م
الصف: الخامس

(١٥)

يملك سعيد ٢٢,٧٥٠ ريال عماني، وأعطاه والده ١٦,٥٠٠ ريال عماني كم المبلغ الذي أصبح عند سعيد.

(١٦)

أمامك نمط من الدوائر الرمادية والبيضاء
أكمل ما يلي:

ريال.....



نسبة الدوائر الرمادية إلى الدوائر البيضاء هي

أكمل ما يلي:

٢,٧ سم = ملم

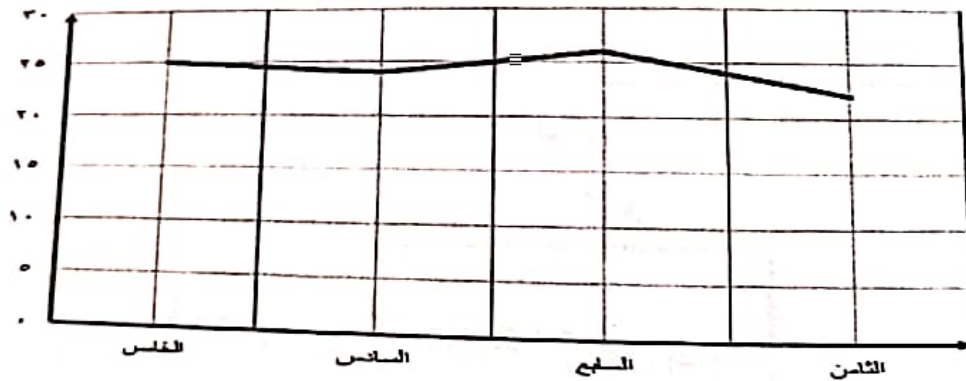
٥٠ ملم = سم

حدد نوع الزاوية إذا كانت (حادّة أو قائمة أو منفرجة)



نوع الزاوية

الرسم البياني يمثل أعداد الطلاب في إحدى المدارس :




فسر لماذا هذا الرسم غير مناسب؟

الدرجة

٦

(٣)

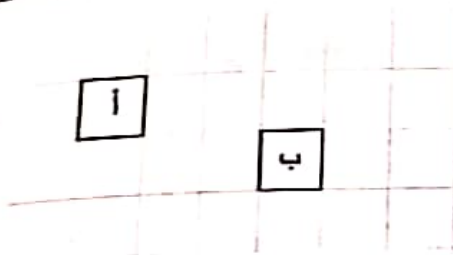
المادة: الرياضيات
 الفصل الدراسي الثاني - العام الدراسي ١٤٤٤ هـ - ٢٠٢٢/٢٠٢٣ م
 الدور الأول - الصف: الخامس



حوط على الشهر الأعلى في درجة الحرارة:

مارس إبريل يونيو يوليو

١١. صف الانسحاب الذي يحرك المربع أ إلى المربع ب



مساحة المستطيل المقابل يساوي ١٢ سم^٢
 أوجد طوله بالسنتيمتر.

٢ سم



أكمل الجدول بما يناسبه

		عدد خطوط التماثل

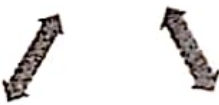
نيك المخطط التالي:

ل ستظهر النسبة ٢٠ % في المخطط؟

نعم ☐

لا ☐

٢
٥



0,4

0,4

فسر إجابتك؟

.....

جـ

٧

(٢)

المادة : الرياضيات

الدور الأول - الفصل الدراسي الثاني - العام الدراسي ١٤٤٤ هـ - ٢٠٢٢/٢٠٢٣ م الصف: الخامس

حوط ناتج العملية $9 \div 4$ في صورة عدد كسري:

$\frac{1}{8}$

$\frac{1}{4}$

$\frac{1}{2}$


$\frac{2}{4}$

يرفع الأذان لصلاة العصر الساعة ٣:٢٧ م، ويرفع الأذان لصلاة المغرب ٦:٤٧ م احسب المدة الزمنية بين الأذانين؟

المدة الزمنية هي:

جمع حمد معلومات عن عدد الأشجار في مزرعته حسب الجدول التالي:

النوع	نخيل	ليمون	عنب
العدد	٨	٥	٣



اكمل البيانات الناقصة في الأعمدة مستعينا بالجدول.

صل كل عدد من العمود الأول بتقريبه الصحيح في العمود الثاني:

٣

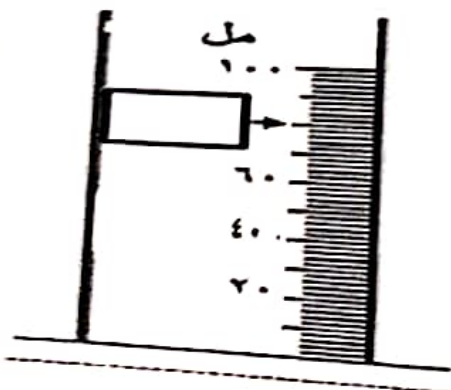
٤

٥

٤,٧٤ لأقرب عدد كامل

٤,٣٨ لأقرب عدد كامل

مل المربع الفارغ بالقياس الصحيح في الشكل التالي:



جدة