

تم تحميل هذا الملف من موقع المناهج العُمانية



* للحصول على أوراق عمل لجميع الصفوف وجميع المواد اضغط هنا

<https://almanahj.com/om>

* للحصول على أوراق عمل لجميع مواد الصف الخامس اضغط هنا

<https://almanahj.com/om/5>

* للحصول على جميع أوراق الصف الخامس في مادة لغة عربية ولجميع الفصول, اضغط هنا

<https://almanahj.com/om/5arabic>

* للحصول على أوراق عمل لجميع مواد الصف الخامس في مادة لغة عربية الخاصة بـ الفصل الثاني اضغط هنا

<https://almanahj.com/om/5arabic2>

* لتحميل كتب جميع المواد في جميع الفصول للـ الصف الخامس اضغط هنا

<https://almanahj.com/om/grade5>

للتحدث إلى بوت على تلغرام: اضغط هنا

https://t.me/omcourse_bot

انجازي الثاني

١٥ دقيقة
للمعلم

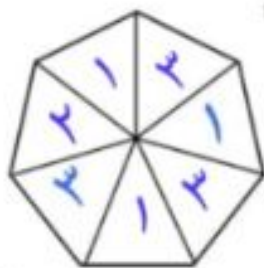


الاحتمال + الرسم البياني الخطي + إيجاد المنوال

المعلم الثاني الثاني

اسم الذكية : من الصف : خامس ()

أجبني عن جميع الأسئلة التالية في المكان المخصص للإجابة:

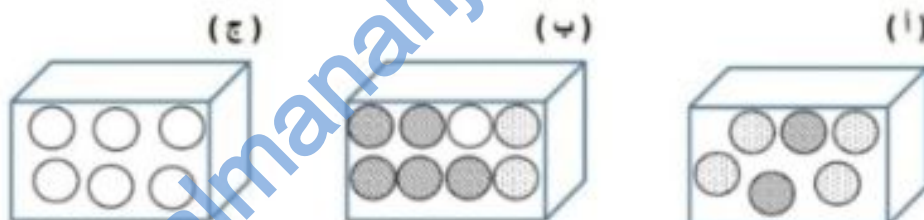


[٢]

(١) الدوار الذي أمامك سباعي منتظم ، اكتب الأرقام ١ أو ٢ أو ٣ أو ٤ بحيث تكون عبارات الاحتمال التالية صحيحة :

- تتساوى فرصة ظهور الأرقام ١ و ٣
- من المستحيل ظهور الرقم ٤
- يكون ظهور العدد ٢ هو الأقل فرصة .

(٢) أمامك ثلاثة صناديق (أ) ، (ب) ، (ج) بها مجموعة من الكرات : (البيضاء والمنقطة والمخططة) ، طلب منك أخذ كرة من أحد الصناديق دون النظر إليها .



صل كل عبارة في العمود الأول بما يناسبها في العمود الثاني :



[٢]

انجازي الثاني



الاحتمال + الرسم البياني الخطي + إيجاد المنوال

رسمي الثاني

مل كتابة الألوان في المربعات بحيث يكون المنوال لهذه الألوان هو اللون الأحمر :

أصفر أحمر أخضر أصفر أحمر أخضر أحمر

ت بدور بجمع بيانات طالبات صفها حول الفاكهة المفضلة لديهن ودونت النتائج

الفاكهة	المانجو	الموز	الرمان	التفاح	الفراولة
التكرار	٤	٦	٣	٧	٦

الجدول المقابل :

المنوال لهذه البيانات .

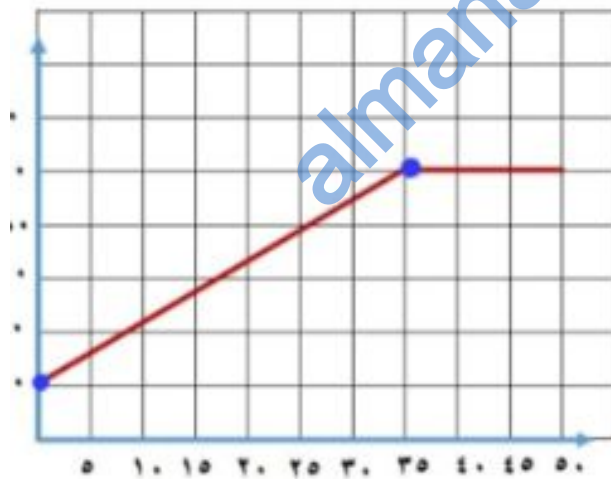
1

..... التفاح

رسم الخطي البياني المقابل يوضح

اع درجة حرارة الماء (بالدرجة

يليزية) في اناء الطبخ على نار هادئة .



كم كانت درجة حرارة الماء قبل وضعه

على النار ؟ ٢٠°س

اكتب الوقت الذي وصلت فيه درجة حرارة

الماء إلى ١٠٠°س .

..... دقيقة ٣٥

2

تأكدي بأنه بالجد والاجتهاد والإصرار والعزيمة ستحققين النجاح والتفوق

