

شكراً لتحميلك هذا الملف من موقع المناهج العمانية



أسئلة تدريبية على درس شبه الجزيرة العربية قبل الإسلام من الوحدة الثانية

[موقع المناهج](#) ⇨ [المناهج العمانية](#) ⇨ [الصف الخامس](#) ⇨ [اجتماعيات](#) ⇨ [الفصل الأول](#) ⇨ [الملف](#)

تاريخ نشر الملف على موقع المناهج: 07:26:13 2023-11-23

التواصل الاجتماعي بحسب الصف الخامس



روابط مواد الصف الخامس على تلغرام

[الرياضيات](#)

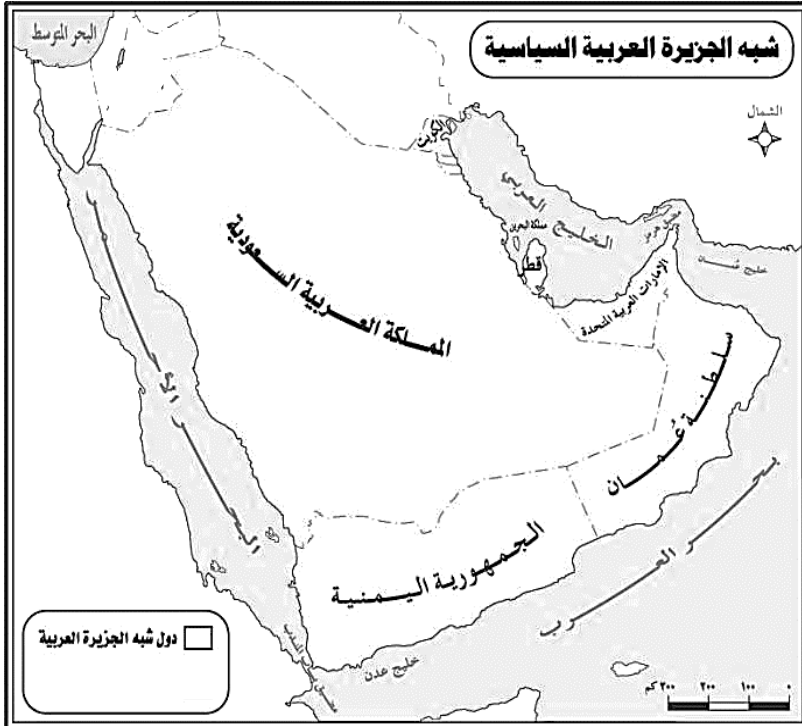
[اللغة الانجليزية](#)

[اللغة العربية](#)

[التربية الاسلامية](#)

المزيد من الملفات بحسب الصف الخامس والمادة اجتماعيات في الفصل الأول

أسئلة درس عمان قبل الإسلام	1
أسئلة درس ملامح من حياة العمانيين قبل الإسلام	2
واحب منزلي نموذج جديد ثاني	3
واحب منزلي نموذج جديد	4
ملخص شامل للمادة من مذكرة المتميز	5



١- أذكر موقع عمان بالنسبة
لشبه الجزيرة العربية؟
تقع عمان في الجزء الجنوب
الشرقي من شبه الجزيرة
العربية .

٢- عدد الدول التي تتكون منها
شبه الجزيرة العربية ؟
سلطنة عمان- الإمارات-
السعودية - قطر - البحرين-
الكويت- اليمن .

٣- عدد المسطحات المائية التي
تحيط بشبه الجزيرة العربية؟

الخليج العربي- بحر عمان- بحر العرب- البحر الأحمر

٤- أذكر أنظمة الحكم والإدارة في شبه الجزيرة العربية قبل الإسلام؟

أ- الدول والممالك (عمان - اليمن)

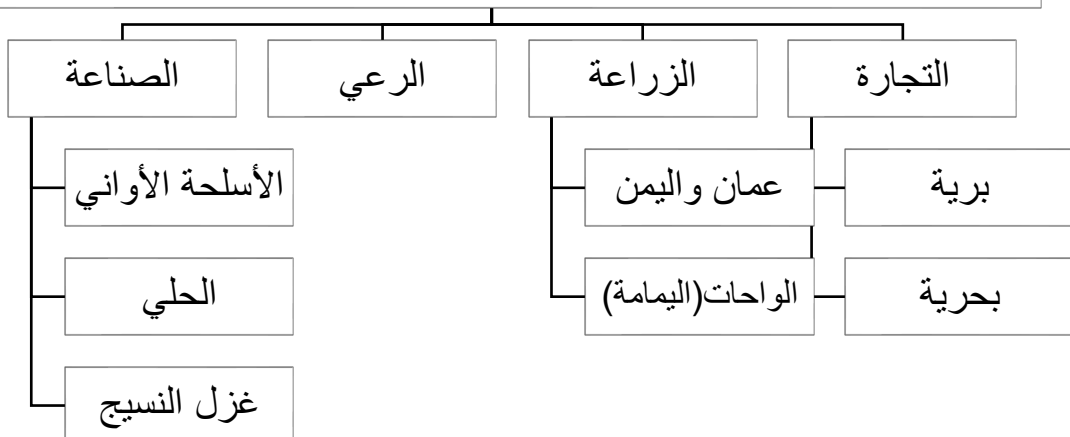
ب- الحكم القبلي (قبيلة قريش)

٥- سم بعض الملوك الذين حكموا عمان قبل الإسلام؟

أ- آل الجلندی

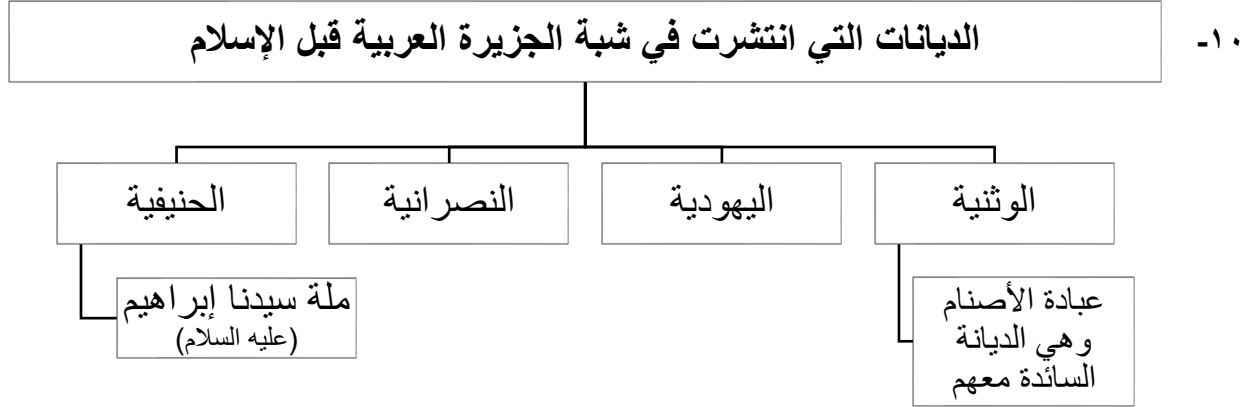
ب- عبد عز بن معولة بن شمس

٦- الأنشطة الاقتصادية التي مارسها سكان شبه الجزيرة العربية قبل الإسلام



- ٧- ما النشاط الاقتصادي النشاط الاقتصادي الذي مارسه قبيلة قريش قبل الإسلام ؟
التجارة
- ٨- علل : تنوع الأنشطة الاقتصادية التي مارسها سكان شبه الجزيرة العربية قديماً.
بسبب تنوع طبيعة الأرض والمناخ

- ٩- علل / تعدد الديانات في شبه الجزيرة العربية .
بسبب التواصل الحضاري مع الدول المجاورة لشبه الجزيرة العربية



- ١١- فسر: حج القبائل العربية إلى مكة قبل الإسلام.

لتقديم القرابين للأصنام الموجودة في مكة.

- ١٢- عدد العلوم التي نبغ فيها العرب قبل الإسلام؟

- اللغة العربية (الشعر – النثر - الخطابة)
- الطب
- الفلك

- ١٣- شخصيات عربية كان لها أثرا فكريا قبل الإسلام.

مصقلة بن رقة	شخصية عمانية نبغت في مجال الخطابة ومكان مشهورا بالفصاحة والبلاغة قبل الإسلام
ابن حذيم	طبيب عربي مشهور كان يضرب فيه المثل في الطب قبل الإسلام

- ١٤- أنماط الحياة الاجتماعية في شبه الجزيرة العربية قبل الإسلام:

- الحياة الحضرية
- الحياة البدوية

- ١٥- ما الصفات التي اتصف بها العرب قبل الإسلام؟

الشجاعة – الكرم- التعاون- نصره المظلوم



- ١٦- صف الحياة الاجتماعية في شبه الجزيرة العربية قبل الإسلام؟

تجمع بين نمط البداوة والنمط الحضري

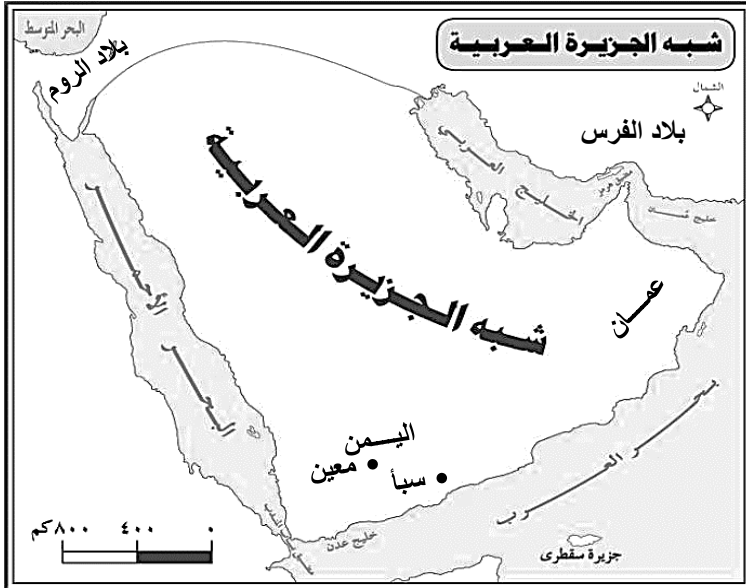
١٧- عدد المناطق التي أستقر فيها سكان المناطق الحضرية ؟

القرى – المدن – الواحات الزراعية

١٨- قارن بين الحياة البدوية والحضرية من خلال الجدول الآتي:

الحياة الحضرية	الحياة البدوية	
		
الاستقرار (المدن والقرى والواحات الزراعية)	التنقل من مكان إلى آخر	طبيعة الحياة
بيوت ثابتة	الخيام	نوع المسكن
الزراعة والتجارة والصناعة	الرعي	النشاط الاقتصادي

١٩- أدرس خريطة شبه الجزيرة العربية المقابلة واستنتج منها ما يلي:



أ- ما الدول والممالك التي قامت في شبه

الجزيرة العربية قبل الإسلام؟

- دولة عمان (حكمها مالك بن فهم ثم أولاده وحكمها بعد ذلك معولة بن شمس وأبناءه من بعده)
- ممالك اليمن مثل (معين – سبأ)

ب- الدول المجاورة لشبه الجزيرة العربية :

- الفرس
- الروم

ج- الدولة المجاورة لشبه الجزيرة العربية من الشمال الغربي؟

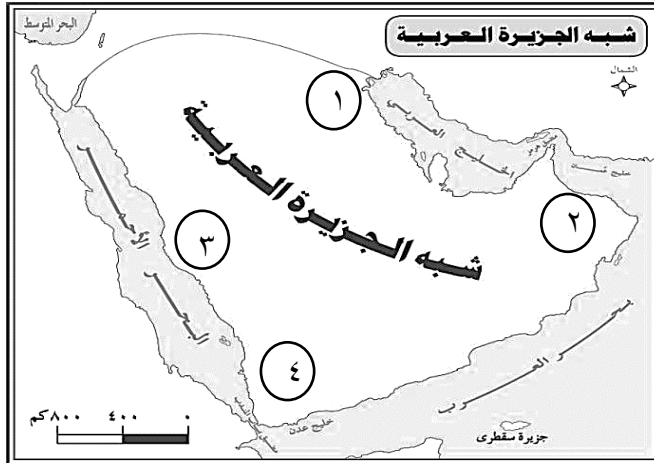
الروم

٢٠ - ما نوع العلاقات التي تربط شبه الجزيرة بدولتي الروم والفرس؟

علاقات سياسية واقتصادية

السؤال الأول :ضع دائرة حوال الرمز الدال على الإجابة الصحيحة من بين البدائل المعطاة:

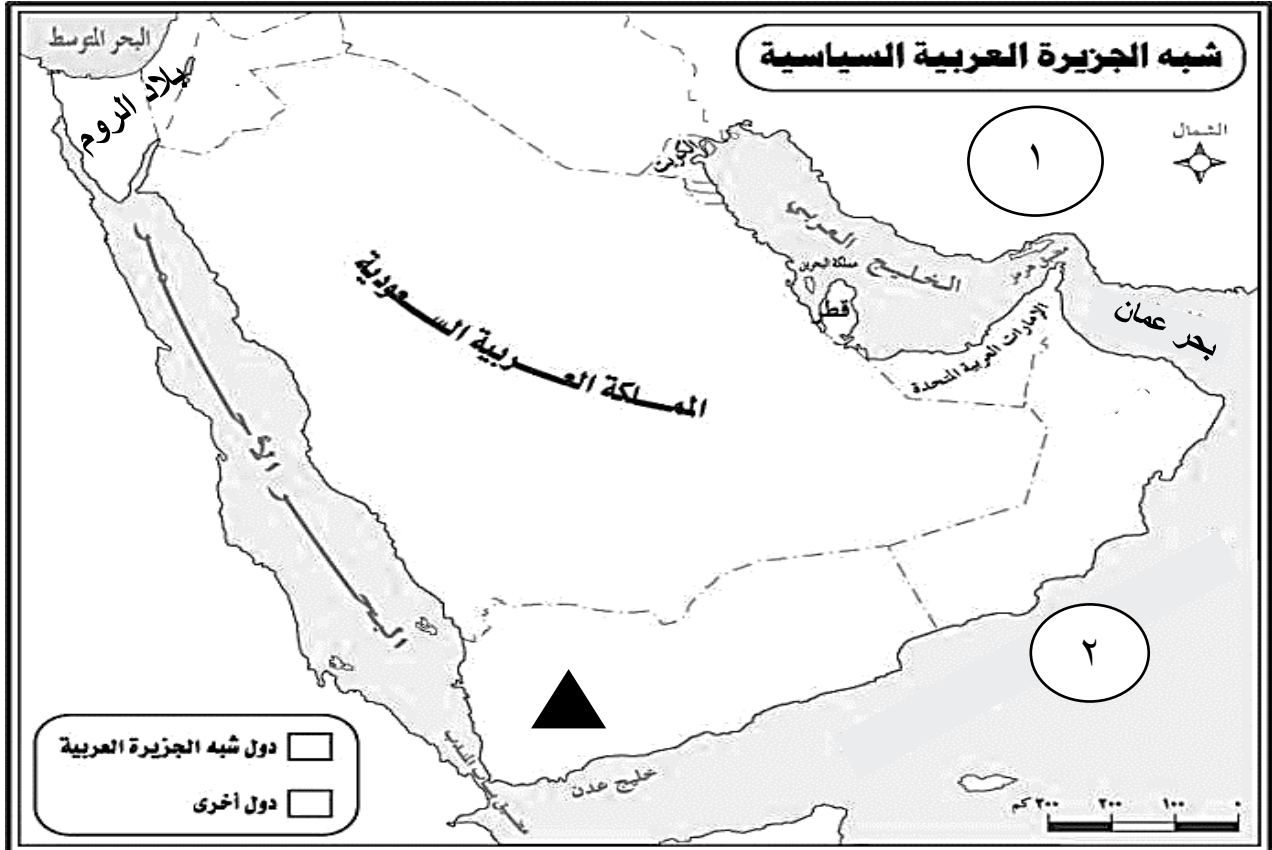
- ١- واحة مارس فيها العرب الزراعة في شبه الجزيرة العربية قبل الإسلام:
 أ- مكة المكرمة ب- عمان ج- اليمامة د- اليمن
- ٢- خطيب عمان عاش قبل الإسلام كان مشهوراً بالفصاحة والبلاغة:
 أ- كعب بن سور ب- المهلب بن أبي صفرة ج- زياد بن المهلب د- مصقلة بن رقة
- ٣- الديانة السائدة في شبه الجزيرة العربية قبل الإسلام:
 أ- الوثنية ب- اليهودية ج- النصرانية د- الحنيفية
- ٤- طبيب عربي كان يضرب به المثل في الطب قبل الإسلام:
 أ- ابن سينا ب- الرازي ج- ابن جزي د- ابن رشد
- ٥- القبيلة التي مارست نظام الحكم القبلي في مكة المكرمة:
 أ- قريش ب- تميم ج- طي د- ذبيان
- ٦- الدولة العربية التي حكمتها ممالك قديمة مثل سبأ ومعين :
 أ- السعودية ب- عمان ج- الكويت د- اليمن
- ٧- الرقم الذي يشير إلى موقع قبيلة قريش في الخريطة المقابلة :



- أ- ١
- ب- ٢
- ج- ٣
- د- ٤

- ٨- ملة سيدنا إبراهيم عليه السلام:
 أ- اليهودية ب- الحنيفية ج- النصرانية د- الوثنية
- ٩- النشاط الاقتصادي الذي يمارسه سكان الحياة البدوية :
 أ- الزراعة ب- التجارة ج- الصناعة د- الرعي

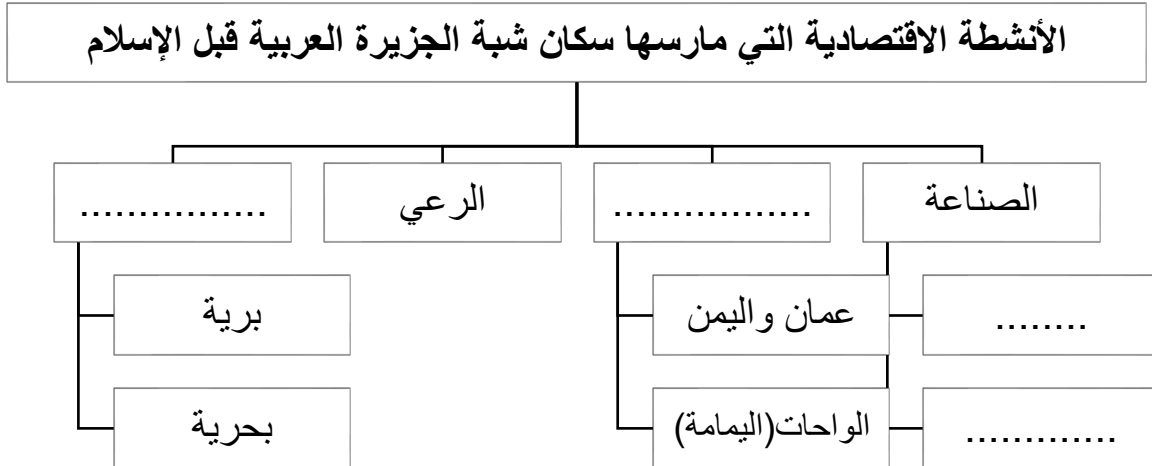
السؤال الثاني : أدرس خريطة شبه الجزيرة العربية ثم أجب عن الأسئلة التي تليها :





- ١- وقّع على الخريطة سلطنة عمان.
- ٢- لَوّن دول شبه الجزيرة العربية.
- ٣- المسطح المائي الذي يحد شبه الجزيرة العربية من جهة الغرب.
- ٤- الدولة التي تجاور شبه الجزيرة العربية قبل الإسلام والمشار إليها بالرقم (١) في الخريطة.
- ٥- المسطح المائي المشار إليه بالرقم (٢) في الخريطة.
- ٦- الجهة الفرعية التي تقع فيها بلاد الروم بالنسبة لشبه الجزيرة العربية.
- ٧- عدّد الممالك التي قامت في الدولة المشار إليه في الخريطة بالرمز ▲
- ٨- نوع العلاقة التي ربطت العرب قبل الإسلام بالدولة المشار إليها بالرقم (١)؟
- ٩- الدولة العربية التي تقع في أقصى الجنوب الشرقي من شبه الجزيرة العربية .

السؤال الثالث: أجب عن الأسئلة الآتية:

أولاً: أكمل المخطط الآتي :



ثانياً: قارن بين الصورتين من خلال الجدول الآتي:

وجه المقارنة		
		
نمط الحياة الاجتماعية		
نوع المسكن		
النشاط الاقتصادي		

ثالثاً: صنف الشخصيات التاريخية ما بين القوسين حسب العبارة التي تناسبها:

(ابن حذيم - عبد عز بن معولة بن شمس - مصقلة بن رقبة - مالك بن فهم)

شخصية عمانية نبغت في مجال الخطابة ومكان مشهورا بالفصاحة والبلاغة قبل الإسلام
طبيب عربي مشهور كان يضرب فيه المثل في الطب قبل الإسلام
ملوك عمان قبل الإسلام

رابعاً : أذكر اثنين من كل ما يلي:

أ- أنظمة الحكم والإدارة في شبه الجزيرة العربية قبل الإسلام.

.....
.....

ب- الممالك التي قامت في اليمن قديماً.

.....
.....


ج- العلوم التي نبغ فيها العرب قبل الإسلام.

.....
.....

د- القيم الحميدة التي اتصف بها العرب قديماً

.....
.....

خامساً : ادرسي الصورة التي أمامك ثم أجيب عن الأسئلة التي تليها:



١- ما الديانة التي تظهر بالصورة المقابلة؟

.....

٢- ما أسباب وجود الأصنام حول الكعبة ؟

.....

٣- عدد الديانات الأخرى التي ظهرت في شبه الجزيرة العربية قديماً؟

.....

.....

.....

٤- علل : حج القبائل العربية إلى مكة المكرمة قبل الإسلام.

.....

سادساً : أكتبي نوع النشاط الاقتصادي الذي مارسه العرب قبل الإسلام تحت الصور الآتية :



(.....) (.....) (.....)