

شكراً لتحميلك هذا الملف من موقع المناهج العمانية



نموذج اختبار قصير

موقع المناهج ← المناهج العمانية ← الصف الخامس ← علوم ← الفصل الأول ← الملف

تاريخ نشر الملف على موقع المناهج: 08:03:01 2023-11-23

التواصل الاجتماعي بحسب الصف الخامس



روابط مواد الصف الخامس على تلغرام

[الرياضيات](#)

[اللغة الانجليزية](#)

[اللغة العربية](#)

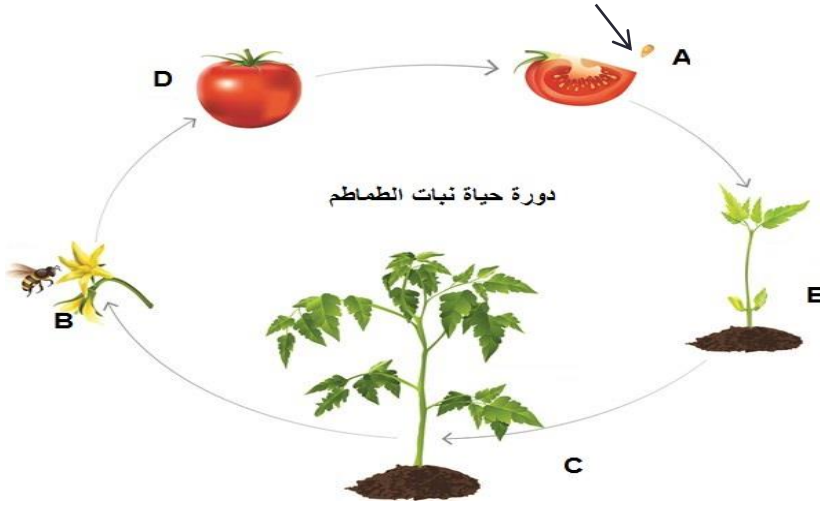
[التربية الاسلامية](#)

المزيد من الملفات بحسب الصف الخامس والمادة علوم في الفصل الأول

امتحان قصير ثاني	1
نموذج اختبار قصير ثاني	2
اختبار قصير أول نموذج ثالث	3
اختبار قصير أول نموذج ثاني	4
اختبار قصير أول	5

إختبار قصير في مادة العلوم للصف الخامس

١- درس أحمد مختلف مراحل دورة حياة نبات الطماطم الذي زرعه في حديقة منزله ثم رسمها كما يوضح الرسم (أ) المرفق.



أ- سم العملية التي يمثلها الرمز B

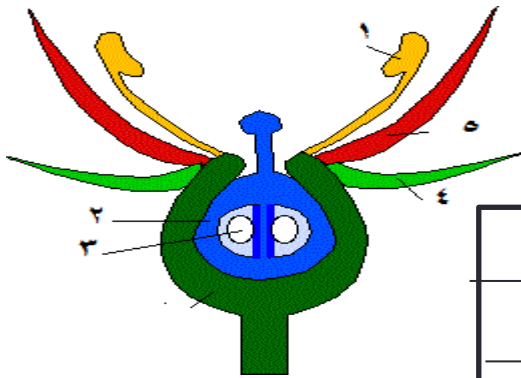
ب- حدد من خلال الرسم كلا من الرمز الذي يمثل الثمرة والبذرة:

-الثمرة:.....

-البذرة:.....

٢- الرسم (ب) يمثل زهرة نبات الطماطم ويحاول أحمد ربط كل جزء بوظيفته

ساعده في ذلك بتوصيل جزء الزهرة بوظيفته :



الوظيفة

الجزء


تكوين البذرة	
حماية الزهرة	
استقبال حبوب اللقاح	
تكوين الثمرة	

٣ و ١

٢

(٢)

٣ - أي من بين الزهرتين التاليتين يحدث لها إخصاب؟ فسر إجابتك



(ص)

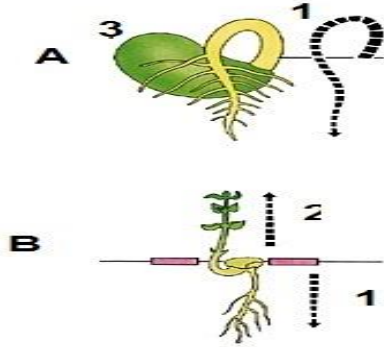
(س)



٤- تنتثر الثمار بذورها في المثال الذي توضحه الصورة عن طريق:

- الحيوان ☐ الماء ☐ الرياح ☐ بنفسها (١) ☐

٥- عند نقع لبذرة الفاصوليا في الماء ليلا مثل فهد النتيجة كما في الرسم (B):



أ- أي جزء من نبات الفاصوليا ينمو أولاً؟

درجة.....

ب- بالمقارنة بالرسم (A) فإن الجزء (٣) ضمّر وتلاشى.

لماذا؟

درجة.....

٦- في التجربة (A) غير الطالب وضع (١) إلى الأعلى

فكانت النتيجة عكسية كما ترى:

- ماالفرضية التي يريد إثباتها؟

(١).....

٧- ضع علامة (✓) أو (x) امام العبارة الصحيحة مما يلي :-

صح خطأ (١)

<input type="checkbox"/>	<input type="checkbox"/>
--------------------------	--------------------------

(أ) لايتأثر نمو النبات بكمية الضوء المسلطة عليه

<input type="checkbox"/>	<input type="checkbox"/>
--------------------------	--------------------------

(ب) تبقى النباتات خضراء حتى في غياب الضوء

لفترة طويلة

٨- اكمل الجمل الاتيةمستعينا بالكلمات الموجودة بالجدول

تنتفخ - تمتص - مخزون الغذاء - دافء

عند حدوث عملية الانبات فإن البذور تحتاج الىالماء و.....(١)