

ورقة عمل حول درس النسبة والتناسب



تم تحميل هذا الملف من موقع المناهج العمانية

موقع فايلاتي ← المناهج العمانية ← الصف الخامس ← رياضيات ← الفصل الثاني ← ملفات متنوعة ← الملف

تاريخ إضافة الملف على موقع المناهج: 2025-04-01 12:34:49

ملفات اكتب للمعلم اكتب للطالب | اختبارات الكترونية | اختبارات | حلول | عروض بوربوينت | أوراق عمل
منهج انجليزي | ملخصات وتقارير | مذكرات وبنوك | الامتحان النهائي | للمدرس

المزيد من مادة
رياضيات:

التواصل الاجتماعي بحسب الصف الخامس



صفحة المناهج
العمانية على
فيسبوك

الرياضيات

اللغة الانجليزية

اللغة العربية

التربية الاسلامية

المواد على تلغرام

المزيد من الملفات بحسب الصف الخامس والمادة رياضيات في الفصل الثاني

كراسة أنا أستطيع	1
كتيب مراجعة المادة	2
ملخص وتمارين على درس المثلثات (٢)	3
ملخص وتمارين على درس الزوايا	4
تحضير دروس المادة	5




النسبة : مقارنة جزء بجزء آخر.

التناسب: مقارنة جزء بالكل.

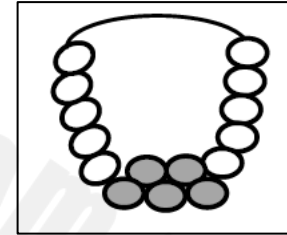
سؤال تحدي:

صنعت سلمى مشروب التفاح بالعسل بمواصفات تكفي ٨ أشخاص

أكمل الشكل المقابل:

لترات العسل	لترات التفاح
	مشروب يكفي ١٦ شخص
	١ مشروب يكفي ٨ أشخاص
	٣ مشروب يكفي ٤ أشخاص

مثال:



(١) انظر إلى الخرز في العقد.

(أ) ما الكسر الذي يمثل عدد الخرز الرمادي؟

(ب) ما نسبة الخرز الرمادي إلى الأبيض؟

تمرين:

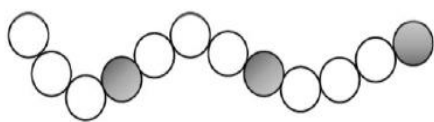
يحتاج عمر ١٥ برتقالة لتحضير عصير ل (٥) أشخاص.

اشترت مريم عقد به ٥ خرزات ذهبية و ٨ خرزات زرقاء. احسب عدد البرتقال التي يحتاجها لتحضير عصير ل (١٠).

تمرين:

اكتب الكسر الذي يمثل الخرز الأزرق من مجموع خرزات العقد.

الواجب:



(٢) أمامك نمط من الدوائر الرمادية والدوائر البيضاء

أكمل ما يلي :

(أ) الكسر الذي يُعبر عن عدد الدوائر البيضاء هو

(ب) نسبة الدوائر الرمادية إلى الدوائر البيضاء هي

[٢]