

اختبار قصير حول مراحل الإنبات وعوامل نمو النبات



تم تحميل هذا الملف من موقع المناهج العمانية

موقع فايلاتي ← المناهج العمانية ← الصف الخامس ← علوم ← الفصل الثاني ← ملفات متنوعة ← الملف

تاريخ إضافة الملف على موقع المناهج: 2026-01-30 14:31:13

ملفات اكتب للمعلم اكتب للطالب | اختبارات الكترونية | اختبارات | حلول | عروض بوربوينت | أوراق عمل
منهج انجليزي | ملخصات وتقارير | مذكرات وبنوك | الامتحان النهائي | للمدرس

المزيد من مادة
علوم:

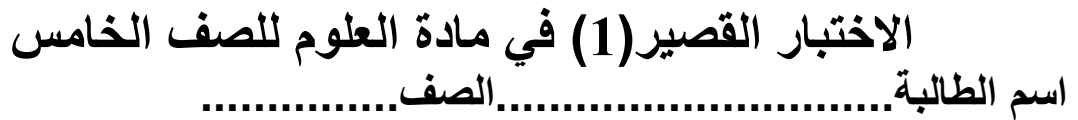
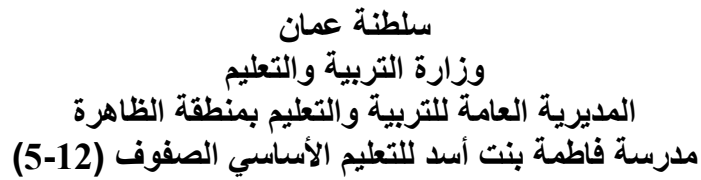
التواصل الاجتماعي بحسب الصف الخامس



صفحة المناهج
العمانية على
فيسبوك

المزيد من الملفات بحسب الصف الخامس والمادة علوم في الفصل الثاني

اختبار تجريبي شامل الضوء النظام الشمسي والكون	1
اختبار قصير عن بنية البذرة وعوامل الإنبات لنبات الفول	2
اختبارات قصيرة الضوء المرايا والظلال	3
مراجعة شاملة لمفاهيم النباتات دورة الماء الضوء والظل	4
منهج كامبردج أسئلة تدريبية شاملة لوحدات النباتات وحالات المادة	5



1) جزء من البذرة الذي ينمو ليعطي نباتا جديدا يسمى: ظل الإجابة الصحيحة (درجة)

☐ الندبة ☐ مخزون الغذاء ☐ غلاف البذرة ☐ الجنين

(3) الجزء الذي يربط البذرة بالثمرة في الشكل المقابل يشار إليه بالرمز: (درجة)



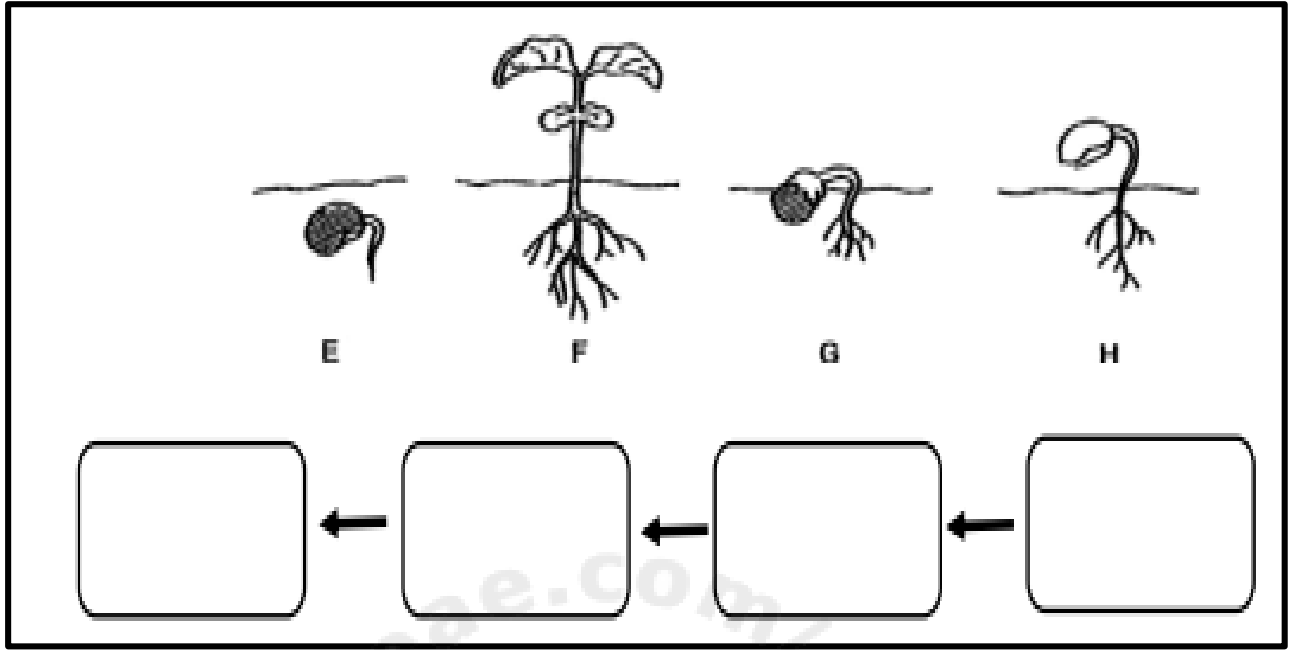
السؤال الثاني :

(درجة)

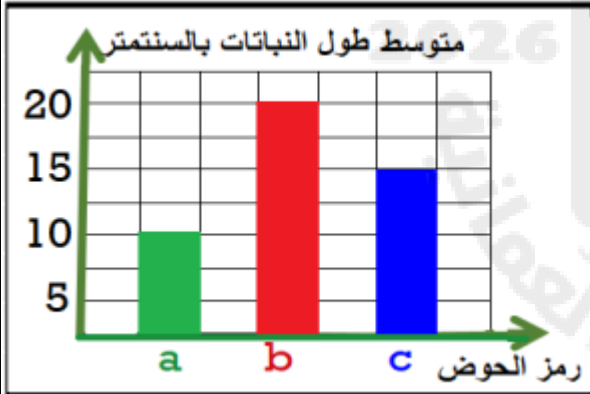
2- ماذا نتوقعي أن يحدث إذا كانت البذرة لا تحتوي على جنين ؟ (درجة)

السؤال الثالث:

1- باستخدام المخطط أمامك رتبي مراحل الانبات بشكل صحيح:



2- أجيب عن الأسئلة التالية من خلال دراسة التمثيل البياني بالأعمدة.



(أ) أي النباتات نمت بشكل أفضل ؟ (درجة)

(ب) كم يبلغ طول النبتة الأقل نمواً؟ (درجة)

(ج) اقترح سببا لعدم نمو النبتة رقم (a) بالشكل الصحيح؟ (درجة)

3- يوضح المخطط التالي دراسة تأثير عامل الماء على انبات البذور :



(أ) الوعاء الذي لن تنبت فيه البذور أبدا هو: (درجة)

فسر اجابتك (درجة)

انتهت الأسئلة مع تمنياتي للعبقريات بالنجاح والتفوق