

## امتحان تجريبي مرفوق بنموذج الإجابة 2024-2025



### تم تحميل هذا الملف من موقع المناهج العمانية

موقع فايلاتي ← المناهج العمانية ← الصف الخامس ← اجتماعيات ← الفصل الثاني ← ملفات متنوعة ← الملف

تاريخ إضافة الملف على موقع المناهج: 2025-05-27 11:18:02

ملفات اكتب للمعلم اكتب للطالب | اختبارات الكترونية | اختبارات | حلول | عروض بوربوينت | أوراق عمل  
منهج انجليزي | ملخصات وتقارير | مذكرات وبنوك | الامتحان النهائي | للمدرس

المزيد من مادة  
اجتماعيات:

### التواصل الاجتماعي بحسب الصف الخامس



الرياضيات



اللغة الانجليزية



اللغة العربية



التربية الاسلامية



المواد على تلغرام

صفحة المناهج  
العمانية على  
فيسبوك

### المزيد من الملفات بحسب الصف الخامس والمادة اجتماعيات في الفصل الثاني

تجميع اختبارات نهائية لسنة ٢٠٢٣-٢٠٢٤ مع نماذج الإجابة

1

تجميع امتحانات نهائية من سلسلة فيثاغورث

2

مراجعة عامة في الدراسات الاجتماعية مع نماذج امتحانية سابقة بمحافظة جنوب الشرقية

3

ملخص درس عمان في عهد الرسول (ص)

4

ملخص درس شخصيات عمانية في عهد الرسول محمد (ص)

5

**امتحان مادة الدراسات الاجتماعية للصف الخامس**  
**اختبار تجريبي - الفصل الدراسي الثاني**  
**للعام الدراسي ١٤٤٥/١٤٤٦ هـ - ٢٠٢٤/٢٠٢٥ م**

● عدد صفحات أسئلة الامتحان: ٦ صفحات	● زمن الامتحان: (ساعة ونصف)
● الدرجة الكلية للامتحان: ٤٠ درجة	● الإجابة في الدفتر نفسه.
	● تكتب الإجابة بالقلم الأزرق أو الأسود

اسم الطالب	
المدرسة	الصف

التوقيع بالاسم		الدرجة		السؤال
اسم المراجع	اسم المصحح	بالأرقام	بالحروف	
				أولاً: الأسئلة الموضوعية (١-١٢)
				ثانياً: الأسئلة المقالية ١٣
				١٤
				١٥
				١٦
مراجعة الجمع	جمعه			المجموع
				المجموع الكلي

(١)

المادة: الدراسات الاجتماعية الصف: الخامس - اختبار تجريبي الفصل الدراسي الثاني - العام الدراسي ٢٠٢٤-٢٠٢٥ م

## أجب عن جميع الأسئلة الآتية

### أولاً: الأسئلة الموضوعية:

ظل الشكل (□) المقترن بالإجابة الصحيحة لكل مفردة من المفردات الآتية:

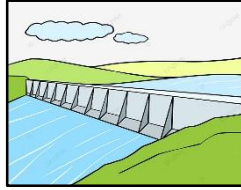
١- الكوكب الذي يتميز بوجود حلقات حوله:

□ المشتري □ زحل □ أورانوس □ نبتون

٢- أحد عناصر الغلاف الحيوي:



□



□



□



□

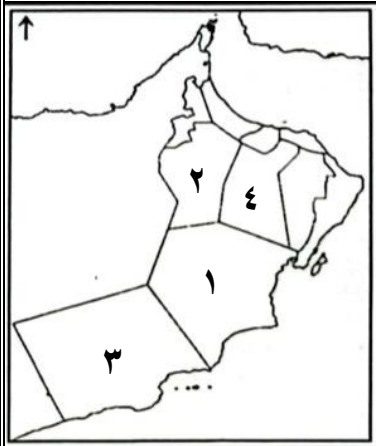
٣- المشكلة البيئية التي تعبر عنها الصورة المقابلة:

□ الانهيارات الأرضية □ تدهور الغطاء النباتي  
□ تلوث المياه □ الأمطار الحمضية



٤- حق المواطن الذي نص عليه النظام الأساسي للدولة كما توضحه الصورة التي أمامك:

□ الأمن والأمان □ الرعاية الصحية  
□ التعبير عن الرأي □ التعليم



٥- الرقم الذي يشير إلى المحافظة التي توجد بها محطة للطاقة الشمسية في خريطة سلطنة عمان المقابلة:

□ ١ □ ٢  
□ ٣ □ ٤

٦- خصصت سلطنة عُمان يوماً للمرأة العمانية في شهر أكتوبر من كل عام بتاريخ:

□ ١٦ □ ١٧  
□ ١٨ □ ١٩

## تابع أولاً: الأسئلة الموضوعية:

٧- البطاقة المعرفية المقابلة تشير إلى كلمة جلالة السلطان هيثم بن طارق ضمن رؤية عمان:

٢٠٣٠ ☐٢٠٢٠ ☐٢٠٥٠ ☐٢٠٤٠ ☐

سنعملُ على ... توزيع عادلٍ لمقدَّراتِ  
التَّمتيةِ بينَ المُحافظاتِ، وحمايةِ مواردنا  
الطَّبيعيةِ وبيئتنا المتفرَّدة.

٨- الصفة التي تمتع بها كعب بن برشة أنه كان يتحدث اللغة:

الصينية ☐الهندية ☐الفارسية ☐الإنجليزية ☐

٩- آخر غزوات الرسول محمد (صلى الله عليه وسلم) حدثت في السنة التاسعة للهجرة:

الخنق ☐تبوك ☐أحد ☐بدر ☐

١٠- مبعوث رسول الله محمد (صلى الله عليه وسلم) الذي حمل رسالته إلى ملكي عمان جيفر وعبد ابني الجلندي:

أبو بكر الصديق ☐عمرو بن العاص ☐عثمان بن عفان ☐عمر بن الخطاب ☐

١١- تعبّر الصورة المقابلة عن أحد واجبات المواطن:

احترام العادات والتقاليد ☐الالتزام بالأخلاق الحسنة ☐الالتزام بالأنظمة والقوانين ☐مشاركة الأسرة في أعمالها ☐

١٢- الدول التي كانت تابعة للدولة الإسلامية في عهد الرسول محمد (صلى الله عليه وسلم) كما تشير

إليها الأرقام (٣، ٢، ١) في الخريطة:

١- الإمامة ٢- اليمن ٣- عُمان ☐١- الإمامة ٢- عُمان ٣- اليمن ☐١- عُمان ٢- اليمن ٣- الإمامة ☐١- عُمان ٢- الإمامة ٣- اليمن ☐

(٣)

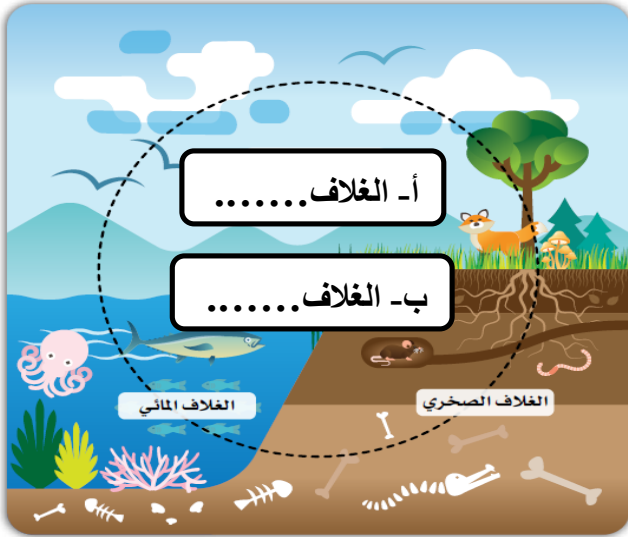
المادة: الدراسات الاجتماعية الصف: الخامس - اختبار تجريبي الفصل الدراسي الثاني - العام الدراسي ٢٠٢٤-٢٠٢٥ م

### ثانياً: الأسئلة المقالية:

١٣ أ- اكتب اسم المفهوم/المصطلح المناسب أمام العبارات التالية في الجدول الآتي:

٨

م	العبارات	المفهوم/المصطلح
١	موجودة بكميات محدودة في الأرض وتنفذ مع استهلاكها.	.....
٢	كل ما هو موجود في الطبيعة، ويستفيد منه الإنسان والكائنات الحية الأخرى.	.....



ب- ادرس الشكل المقابل ثم أجب عن الأسئلة الآتية:

- ١- استكمل الشكل بكتابة ما يشير إليه الرمز أ، ب.
- ٢- استنتج أهمية الغلاف المشار إليه بالرمز (أ).

.....  
.....

(ج)

- ١- اكتب النسب المئوية الآتية في الشكل المقابل بما يناسب:  
(٢٩% ، ٧١%)



- ٢- اذكر العملية المسؤولة عن حركة المياه واستمراريتها في النظام الأرضي.

.....

٦

١٤ أ- اكتب اسم الشخصية العمانية التي تدل عليها العبارة:

م	العبارة	اسم الشخصية
١	مستشار ملكي عمان جيفر وعبد ابني الجلندي، اسلم على يد الرسول (صلى الله عليه وسلم).	.....
٢	شارك في الفتوحات الإسلامية، عُرف بفصاحة اللسان، والشجاعة.	.....

(٤)

المادة: الدراسات الاجتماعية الصف: الخامس - اختبار تجريبي الفصل الدراسي الثاني - العام الدراسي ٢٠٢٤-٢٠٢٥ م

تابع ثانياً: الأسئلة المقالية:

١٤ ب- أدرس الصور التي أمامك ثم أجب عن الآتي:



- ١- اكتب رقم الصورة التي تمثل مسجد الشواذنة .....
- ٢- سمّ الصحابي الذي بنى المسجد المشار إليه بالرقم (١) .....

ج) ادرس النص الآتي جيداً ثم أجب عن الأسئلة الآتية:

"تأسست عُمان وترسّخ وجودها الحضاري بتضحيات أبنائها، وبذلهم الغالي والنفيس من أجل الحفاظ على عزّتها ومنعتها، وبإخلاصهم في أداء واجباتهم الوطنية".

١- من قائل النص السابق؟ .....

٢- استخرج من النص السابق واجبك كمواطن تجاه وطنك.

١٥ أ- صنف الموارد الطبيعية المتجددة في الجدول الآتي:

(أشجار الغابات المقطوعة، المياه الجوفية)

موارد تتجدد بسرعة	موارد تتجدد ببطء
.....	.....

ب - اذكر ما يأتي:

١- صفة تحلّى بها صالح بن المتوكل.

٢- مدينة عمانية ساحلية في جنوب عمان ذات أهمية تجارية.

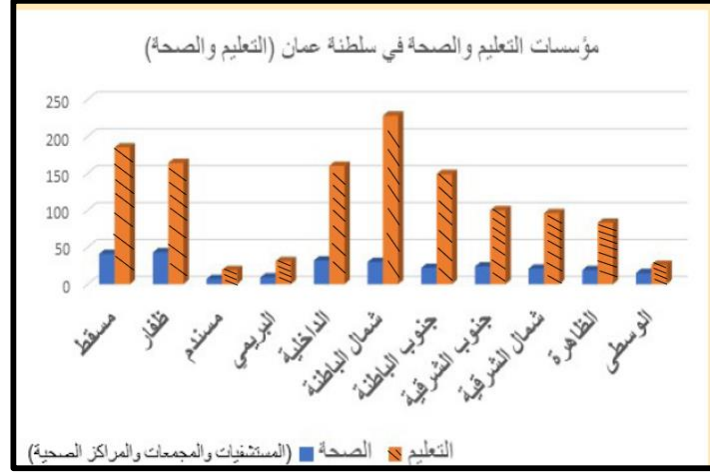
٣- أحد العلوم التي حرص العثمانيون على تعلمها في عهد الرسول (صلى الله عليه وسلم).

(٥)

المادة: الدراسات الاجتماعية الصف: الخامس - اختبار تجريبي الفصل الدراسي الثاني - العام الدراسي ٢٠٢٤-٢٠٢٥ م

تابع ثانياً: الأسئلة المقالية:

١٥ ج- أدرس الشكل الذي يمثل مؤسسات التعليم والصحة في سلطنة عمان جيداً ثم أجب عن الأسئلة الآتية:



- سمّ ما يلي:

- ١- المحافظة التي تحتل المرتبة الأولى من حيث توفر مؤسسات التعليم.....
- ٢- المحافظة الأقل في عدد المؤسسات الصحية .....

٧

١٦ أ- أمامك خريطة اتجاه هجرة الرسول (صلى الله عليه وسلم) ادرسها جيداً ثم أجب عن الآتي:



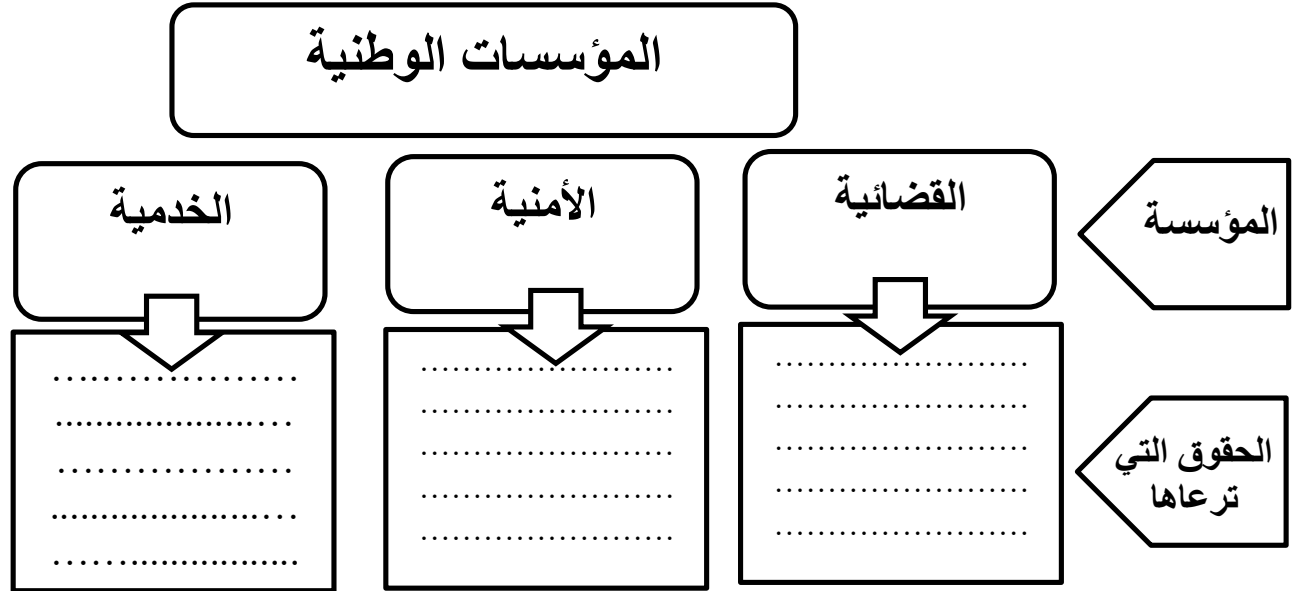
- ١- ضع دائرة على عاصمة الدولة الإسلامية في عهد الرسول (صلى الله عليه وسلم).
- ٢- ارسـم باستخدام الرمز (←) مسار هجرة الرسول (صلى الله عليه وسلم) إلى المدينة المنورة.
- ٣- اكتب الخليج العربي في مكانه الصحيح على الخريطة.



تابع ثانياً: الأسئلة المقالية:

(١٦) ب- أكمل المخطط الآتي بما يناسبه:

(حفظ الأمن داخل الوطن، تقدم خدماتها للمواطنين حسب اختصاصاتها، حفظ حقوق المواطنين من أي اعتداء أو ضرر)



ج- (تعد السدود إحدى الطرق لاستدامة الموارد المائية في سلطنة عمان) في ضوء العبارة السابقة أجب عن الآتي: أراد المعلم القيام برحلة تعليمية مدرسية إلى أحد السدود. اقترح اسم سد في محافظة مسقط تنصح المعلم وطلبته بزيارته.

.....

**انتهت الأسئلة مع الدعاء للجميع بالتوفيق والنجاح**

إعداد الأستاذة: أميرة العوينية

إشراف الأستاذة: مريم المطوع



نموذج إجابة امتحان مادة الدراسات الاجتماعية الصف الخامس  
 اختبار تجريبي - الفصل الدراسي الثاني  
 للعام الدراسي ١٤٤٥/١٤٤٦ هـ - ٢٠٢٤/٢٠٢٥ م

تنبيه: نموذج الإجابة في ( ٤ ) صفحات الدرجة الكلية: ( ٤٠ ) درجة

أولاً: إجابة الأسئلة الموضوعية:

إجابة الأسئلة الموضوعية (١-١٢)

المفردة	الإجابة	الدرجة	الصفحة
١	زحل	١	١٨
٢		١	٢٤
٣	الانهيارات الأرضية	١	٣١
٤	التعبير عن الرأي	١	٨١
٥	٢	١	٤١
٦	١٧	١	٩٥
٧	٢٠٤٠	١	٤١
٨	الفارسية	١	٦٨
٩	تبوك	١	٥٦
١٠	عمرو بن العاص	١	٦٠
١١	مشاركة الأسرة في أعمالها	١	٨٤
١٢	١- اليمامة ٢- عُمان ٣- اليمن	١	٥٧
المجموع		١٢ درجة	

(٢)

تابع- نموذج إجابة امتحان مادة الدراسات الاجتماعية للصف الخامس للعام الدراسي ٢٠٢٤/٢٠٢٥ م  
اختبار تجريبي - الفصل الدراسي الثاني  
ثانيا: إجابة الأسئلة المقالية:

إجابة السؤال المقال ١٣				
الدرجة الكلية: ( ٨ ) درجات				
الصفحة	الدرجة	الإجابة الصحيحة	الفرقة	الدرجة
٣٧	١	الموارد غير المتجددة	١	أ
٢٠	١	الموارد الطبيعية	٢	
٢٨	٢ (لكل مفردة درجة)	أ- الغلاف الجوي ب- الغلاف الحيوي	١	ب
٢٧	١	مصدر للأكسجين، وتحدث فيه مظاهر الطقس.	٢	
٢٣	٢ (لكل نسبة درجة)		١	ج
٢٢	١	دورة الماء في الطبيعة	٢	

( ٣ )

تابع- نموذج إجابة امتحان مادة الدراسات الاجتماعية للصف الخامس للعام الدراسي ٢٠٢٤/٢٠٢٥ م  
اختبار تجريبي - الفصل الدراسي الثاني

تابع ثانيا: إجابة الأسئلة المقالية:

إجابة السؤال المقالي ١٤ الدرجة الكلية: ( ٦ ) درجات				
الدرجة	المفردة	الإجابة الصحيحة	الدرجة	الصفحة
أ		<div> <div>١- مستشار ملكي عمان جيفر وعبد، اسلم على يد الرسول(صلى الله عليه وسلم).</div> <div>٢- شارك في الفتوحات الإسلامية، عُرف بفصاحة اللسان، والشجاعة.</div> </div>	٢ لكل مفردة درجة	٦٨ ٦٩
ب	١	٢	١	٦٣
	٢	مازن بن غضوبة	١	٥٩
ج	١	جلالة السلطان هيثم بن طارق	١	٨٥
	٢	الإخلاص في أداء واجباتي الوطنية، التزم بواجباتي واحرص على تنفيذها ( ما يفيد المعنى)	١	

إجابة السؤال المقالي ١٥ الدرجة الكلية: ( ٧ ) درجات				
الدرجة	المفردة	الإجابة الصحيحة	الدرجة	الصفحة
أ		<div> <div>موارد تتجدد بسرعة</div> <div>موارد تتجدد ببطء</div> <div>المياه الجوفية</div> <div>أشجار الغابات المقطوعة</div> </div>	٢	٣٧
ب	١	الإخلاص ، الشجاعة (يكتفى بواحدة)	١	٧٠
	٢	مرباط	١	٦٥
	٣	علوم الشريعة الإسلامية/ علوم اللغة (يكتفى بواحدة)	١	٦٣
ج	١	شمال الباطنة	١	٨٣
	٢	مسندم	١	٨٣

(٤)

تابع- نموذج إجابة امتحان مادة الدراسات الاجتماعية للصف الخامس للعام الدراسي ٢٠٢٤/٢٠٢٥ م  
اختبار تجريبي - الفصل الدراسي الثاني

تابع ثانيا: إجابة الأسئلة المقالية:

إجابة السؤال المقالي ١٦		الدرجة الكلية: ( ٧ ) درجات							
الدرجة	الصفحة	الإجابة الصحيحة	الدرجة						
أ	٥٢	<p>١- يضع دائرة على المدينة المنورة.</p> <p>٢- يرسم (←) من مكة المكرمة إلى المدينة المنورة.</p> <p>٣- يكتب الخليج العربي في مكانه الصحيح</p> 	٣ درجات (لكل مفردة درجة)						
ب	٩٠	<p>المؤسسات الوطنية</p> <table border="1"> <tr> <td>الخدمية</td> <td>الأمنية</td> <td>القضائية</td> </tr> <tr> <td>تقدم خدماتها للمواطنين حسب اختصاصاتها.</td> <td>حفظ الأمن داخل الوطن</td> <td>حفظ حقوق المواطنين من أي اعتداء أو ضرر</td> </tr> </table> <p>المؤسسة الحقوق التي ترعاها</p>	الخدمية	الأمنية	القضائية	تقدم خدماتها للمواطنين حسب اختصاصاتها.	حفظ الأمن داخل الوطن	حفظ حقوق المواطنين من أي اعتداء أو ضرر	٣ درجات (لكل مفردة درجة)
الخدمية	الأمنية	القضائية							
تقدم خدماتها للمواطنين حسب اختصاصاتها.	حفظ الأمن داخل الوطن	حفظ حقوق المواطنين من أي اعتداء أو ضرر							
ج	٤٢	<p>سد وادي ضيقة بمحافظة مسقط. ( يعطى الطالب الدرجة إذا ذكر اسم سد آخر صحيح).</p>	١						

نهاية نموذج الإجابة