

شكراً لتحميلك هذا الملف من موقع المناهج العمانية



أسئلة درس عمان قبل الإسلام

موقع المناهج ⇨ المناهج العمانية ⇨ الصف الخامس ⇨ اجتماعيات ⇨ الفصل الأول ⇨ الملف

تاريخ نشر الملف على موقع المناهج: 07:17:53 2023-11-23

التواصل الاجتماعي بحسب الصف الخامس



روابط مواد الصف الخامس على تلغرام

[الرياضيات](#)

[اللغة الانجليزية](#)

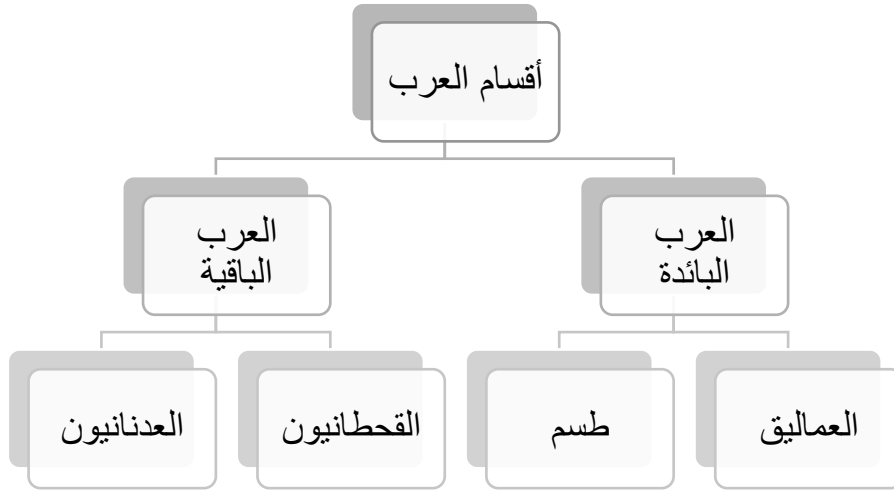
[اللغة العربية](#)

[التربية الاسلامية](#)

المزيد من الملفات بحسب الصف الخامس والمادة اجتماعيات في الفصل الأول

أسئلة درس ملامح من حياة العُمانيين قبل الإسلام	1
واحب منزلي نموذج حديد ثاني	2
واحب منزلي نموذج حديد	3
ملخص شامل للمادة من مذكرة المتميز	4
ملخص شرح درس ملامح من حياة العُمانيين قبل الإسلام	5

١- العرب الذين سكنوا عُمان منذ القدم:



٢- علل : تسمية عُمان بهذا الاسم.

نسبة إلى عُمان بن سبأ وكذلك نُسب إلى واد في اليمن يقال له عُمان.

٣- ما العرب البائدة ؟

هم القبائل الذين لم يبق أحد منهم.

٤- علل: سكن العديد من الأقوام عمان منذ القدم.

بسبب موقع عمان الاستراتيجي وأهميته وكثرة الموارد والاستقرار .

٥- الأسباب التي أدت إلى هجرة القبائل العربية قديما من شبه الجزيرة العربية؟

أ- الصراعات والحروب

ب- التنافس على الموارد الاقتصادية .

٦- أشهر القبائل العربية التي سكنت عُمان ؟

قبيلة الأزد .

٧- وضح مسار هجرة قبائل الأزد إلى عمان ؟

مسار هجرة قبائل الأزد إلى عمان



٨- من القائد الذي ترأس هجرة قبيلة الأزد ؟

مالك بن فهم

- ٩- ما الفلج الذي قام بشقه مالك بن فهم ؟
فلج مالك في ولاية منح بمحافظة الداخلية .
- ١٠- ما النتيجة المترتبة على الموقع الاستراتيجي لعُمان الواقع على طرق التجارة الرئيسية قديماً؟
جعلها محط أطماع القوى الخارجية ومنها (الفرس)

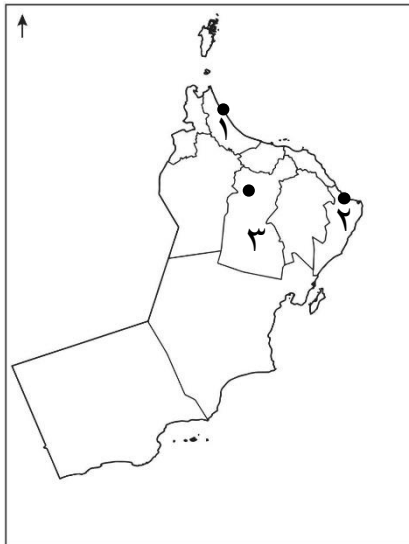
١١- علل: مواجهة العمانيين للفرس في صحار .
بسبب اتخاذهم صحار قاعدة لهم.

١٢- دلل على قوة العمانيين في مواجهة الفرس.
تحقيق النصر في موقعة سلوت والنجاح في طردهم نهائياً من عُمان .

١٣- مراحل طرد الفرس من عُمان في عهد مالك بن فهم.



١٤- ما النتيجة المترتبة على امتلاك مالك بن فهم صفات العزة والمنعة ؟
تقدير الناس له ورفع شأنه حتى أصبح ملكاً على عُمان.



١٥- تحديد المواقع التي ذكرت في الدرس:

- ١- مدينة صحار (محافظة شمال الباطنة)
- ٢- قلعات (تابعة لولاية صور) محافظة جنوب الشرقية
- ٣- سلوت (يقع في ولاية بهلاء) محافظة الداخلية

السؤال الأول :ضع دائرة حوال الرمز الدال على الإجابة الصحيحة من بين البدائل المعطاة:

- ١- المصطلح الذي يطلق على القبائل التي لم يبق منهم أحد :
 أ- العرب البائدة ب- القحطانيون ج- العرب الباقية د- العماليق
- ٢- القبائل التي تصنف من العرب البائدة :

القحطانيون
العدنانيون

د-

العماليق
القحطانيون

ج-

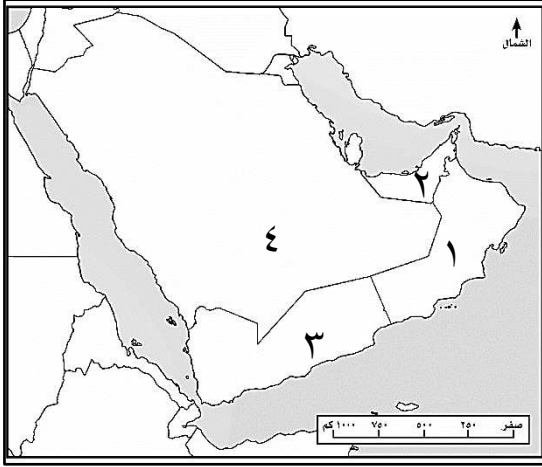
طسم
العماليق

ب-

طسم
العدنانيون

أ-

- ٣- الرقم الذي يشير إلى الدولة العربية التي يوجد بها واد عُمان والتي ينسب إليه تسميتها بهذا الاسم:



أ- ١

ب- ٢

ج- ٣

د- ٤

- ٤- أصول القبائل المنتشرة في عُمان في الوقت الحاضر:

طسم
القحطانيون

د-

القحطانيون
العدنانيون

ج-

العماليق
القحطانيون

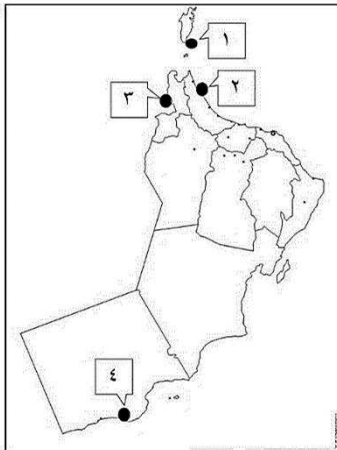
ب-

طسم
العدنانيون

أ-

- ٥- الولاية العمانية التي شق فيها مالك بن فهم الفلج المعروف بإسمه:
 أ- نزوى ب- بهلاء ج- الحمراء د- منح

- ٦- الرقم الذي يشير إلى المدينة العمانية التي اتخذها الفرس قاعدة لهم في عهد مالك بن فهم:



أ- ١

ب- ٢

ج- ٣

د- ٤

- ٧- المدينة العمانية التي أخذها مالك بن فهم عاصمة له :
 أ- مسقط ب- صحار ج- نزوى د- قلهاث
 ٨- موقعة حدثت بين الأزد والفرس وانتصر فيها الأزد وطرد الفرس نهائيا من عُمان:
 أ- سلوت ب- منح ج- صحار د- الشحر
 ٩- المحافظة العمانية التي حدثت فيها موقعة سلوت:
 أ- الظاهرة ب- الداخلية ج- الوسطى د- ظفار

السؤال الثاني أجيب عن الأسئلة التالية:

- ١- علل ما يلي:
 أ- تسمية عُمان بهذا الاسم منذ القدم.

 ب- هجرة القبائل العربية قديما من أواسط شبه الجزيرة العربية وجنوبها.

 ج- كانت عمان تمثل محط أطماع القوى الخارجية وخاصة الفرس.

 ٢- ما النتيجة المترتبة على تمتع مالك بن فهم للعزة والمنعة.

 ٣- صنف القبائل الآتية حسب أصولها من خلال الجدول التالي::
 (طسم - القحطانيون- العدنانيون - العماليق)

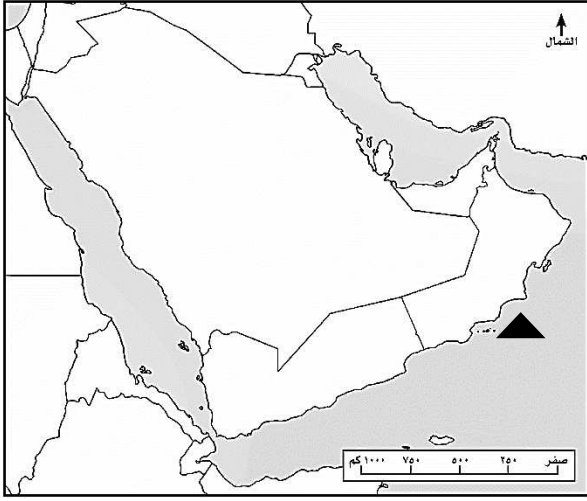
العرب البائدة	العرب الباقية

- ٤- أكتب اسم الشخصية ما بين القوسين مقابل العبارات الآتية:
 (مالك بن فهم- دارا بن دارا - عمان بن سبأ - هناعه بن مالك)
 (أرسل جيشا لمساعدة الفرس ضد الأزد في صحار.
 (أحد القادة في معركة سلوت تولى حكم عمان بعد أبيه.
 (ينسب إليه تسمية عمان بهذا الاسم.
 (ملك عمان استطاع طرد الفرس من عمان بشكل كامل.

٥- قارن بين مراحل طرد الفرس من عُمان من خلال الجدول الآتي:

المرحلة الأولى (سلوت)	المرحلة الثانية (صحار)	
		المحافظة / الولاية
		النتيجة

السؤال الثالث: (مهاره قراءة الخريطة)



أولاً: ادرس خريطة شبه الجزيرة العربية ثم أجيب عن الأسئلة التي تليها:

١- وقع على الخريطة سلطنة عمان .

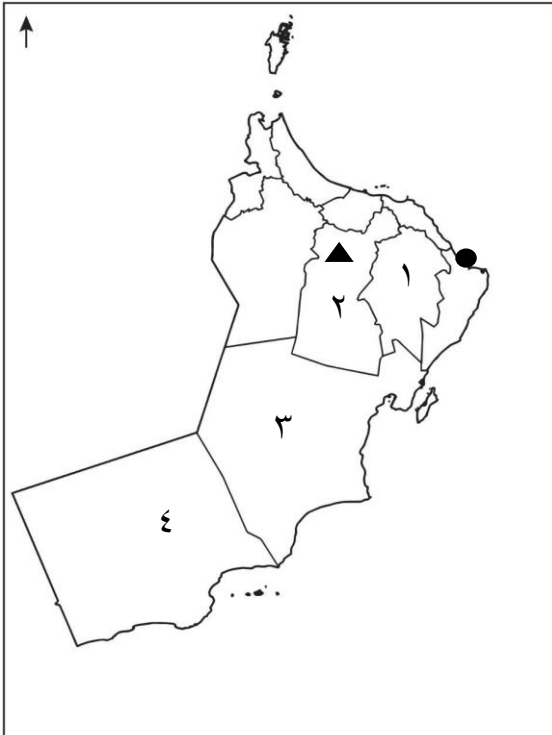
٢- حدد مسار هجرة قبائل الأزدي إلى عمان.

٣- ظلل الدولة العربية التي هاجرت منها قبيلة الأزدي.

٤- اسم المسطح المائي المشار إليه بالرمز . ▲

.....

ثانياً: ادرس خريطة عمان (صماء) ثم أجيب عن الأسئلة التي تليها:



١- الرقم الذي يشير إلى المحافظة العمانية التي يقع فيها

فلج مالك.(.....)

٢- الرمز الذي يشير إلى موقعة سلوت.(.....)

٣- الرمز الذي يشير إلى عاصمة عمان في عهد مالك بن

فهم.(.....)

٤- ظلل المحافظة العمانية التي تقع فيها المدينة التي اتخذها

الفرس قاعدة لهم قبل الإسلام.