

تم تحميل هذا الملف من موقع المناهج العمانية



ملخص آخر شامل لوحدات المنهج

موقع فايلاتي ← المناهج العمانية ← الصف الخامس ← اجتماعيات ← الفصل الأول ← ملخصات وتقارير ← الملف


تاريخ إضافة الملف على موقع المناهج: 11:21:11 2024-12-12

ملفات اكتب للمعلم اكتب للطالب | اختبارات الكترونية | اختبارات | حلول | عروض بوربوينت | أوراق عمل
منهج انجليزي | ملخصات وتقارير | مذكرات وبنوك | الامتحان النهائي | للمدرس

المزيد من مادة
اجتماعيات:

التواصل الاجتماعي بحسب الصف الخامس

صفحة المناهج
العمانية على
فيسبوك



الرياضيات

اللغة الانجليزية

اللغة العربية

التربية الاسلامية

المواد على تلغرام

المزيد من الملفات بحسب الصف الخامس والمادة اجتماعيات في الفصل الأول

تقرير عن متحف عمان عبر الزمن

1

تقرير عن الملاح أحمد بن ماجد

2

تقرير عن نظام تحديد المواقع العالمية

3

تقرير عن هيئة الوثائق والمحفوظات

4

تقرير عن المسعودي

5



مدرسة أليسة بنت خبيب 7-5 للتعليم الأساسي

ملخص الدراسات الاجتماعية

للمنصف الخامس

الفصل الدراسي الأول

2024

إعداد: أبتسام راشد المقبالية

الوحدة الأولى

2025

2024

ملخص الدرس الأول : تطور علم الخرائط

أهم الحضارات و الشعوب التي اهتمت بعلم الخرائط

البابليون :

- أنواع الخرائط :** خرائط تفصيلية لسهل العراق
- الهدف من رسمها :** تقدير الضريبة الزراعية بشكل دقيق
- المادة التي رسموا عليها :** الصلصال المحروق
- ما هو مصدر الصلصال المحروق ؟** مادة الطين المترسبة على جانبي نهر دجلة و الفرات



ما المقصود بكل من :

- 1- علم الخرائط ؟
 - 2- ضريبة الأرض الزراعية ؟
- علم يهتم بفن رسم الخرائط و صنعها
جزء من محصول الأرض أو مبلغ مالي
تحصل عليه الدولة من المزارعين مقابل زراعة أراضيها.

المصريون :

- أنواع الخرائط :** مساحة تفصيلية للأراضي الزراعية + خرائط لمواقع المناجم و الطرق المؤدية لها

- الهدف من رسمها :** تقدير الضريبة الزراعية + اهتمامهم بالبحث عن المعادن

- المادة التي رسموا عليها :** ورق البردي

- ما هو مصدر ورق البردي ؟** نبات اسمه البردي ينمو على ضفاف نهر النيل

- فسر :** على الرغم من براعة المصريين في رسم الخرائط فإنه لم يعثر على نماذج من خرائط العالم لهم ؟

- بسبب اعتمادهم على ورق البردي سريع التلف



كيف كانت الشعوب القديمة ترسم خرائطها ؟

- كان بعض الشعوب يرسمون أشكالاً مبسطة

- عدد المواد التي استخدمها الشعوب القديمة لرسم الخرائط ؟**

- الرمال / جدران الكهوف / قطع الجلد
- لماذا كان يرسم الشعوب القديمة أشكالاً مبسطة ؟**
- لتوضيح الطرق و الاتجاهات التي يسلكونها

الاغريق :

- ما مميزات خرائط الاغريق ؟**

- أولى المحاولات لرسم الخرائط وفق أسس علمية دقيقة
- اشتملت خرائطهم على رسم قارات العالم في تلك الفترة

الرومان

- ما مميزات خرائط الرومان ؟**

- وضحوا خطوط الطول و دوائر العرض على خرائطهم.

مقارنة بين خريطة الادريسي و خريطة العالم اليوم

خريطة العالم	الادريسي	الاتجاهات
دقيقة و صحيحة	غير دقيقة و معكوسة الاتجاهات	
القارات أصغر و البحار أكبر	القارات أكبر و البحار أصغر	مساحة البحار و القارات



فسر : تطور علم الخرائط اليوم و تمثيل الظواهر الطبيعية و البشرية رقمياً ؟

- بسبب تقدم العلوم المختلفة و ظهور التقنيات الحديثة مثل نظام تحديد المواقع العالمي

- فسر تنوع المواد التي رسمت عليها الخرائط عند الشعوب و الحضارات القديمة ؟**

- بسبب استخدام المواد المتاحة و المتوفرة عند كل حضارة

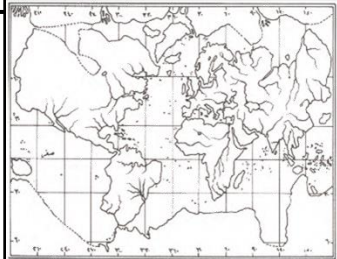
- اقترح طرقاً للمحافظة على الخرائط من التلف ؟**
- نقلها إلى خرائط إلكترونية + وضع بعض المواد الحافظة لها

الأوروبيون

- فسر تطور علم الخرائط عند الأوروبيين ؟**
- لأنهم استفادوا من الفكر الإسلامي

- ما مميزات الخرائط عند الأوروبيين ؟**

- * خرائط دقيقة توضح المناطق و القارات المكتشفة
- * تراعى الدقة في الاتجاهات.



المسلمون :

- عدد العوامل التي أسهمت في تطور علم الخرائط عند المسلمين ؟**

- 1- ارتباط العديد من العبادات في الإسلام بتحديد الوقت و الاتجاهات مثل الصلاة / الصوم / الحج
- 2- ازدهار النشاط التجاري و الرحلات الجغرافية مثل جمع معلومات عن الطرق و المدن
- 3- اتساع مساحة الدولة الإسلامية
- 4- تعريب العلوم نتيجة اتصال المسلمين بالشعوب الأخرى (ترجمة العلوم من الهند و الاغريق و الفرس إلى العربية)

- أذكر أهم الجغرافيون المسلمون في تطوير علم الخرائط ؟**
- الادريسي و المسعودي

- ما أهم الاعمال التي قام بها الادريسي و المسعودي في مجال تطور علم الخرائط ؟**

- قاموا بتصحيح المعلومات الواردة في الخرائط الاغريقية و الرومانية

مميزات خرائط المسلمين ؟

- الدقة و استخدام الألوان و الخطوط و الأشكال الهندسية .

- ما اسم المؤسسة التي قامت بمعالجة خريطة الادريسي و ترميمها ؟**

- هيئة الوثائق و المحفوظات الوطنية

ما هو الفرق في التوقيت الزمني بين كل خط طول و الذي يليه؟
٤ دقائق

ما هو عدد خطوط الطول التي تمثل ساعة واحدة؟
١٥ خط



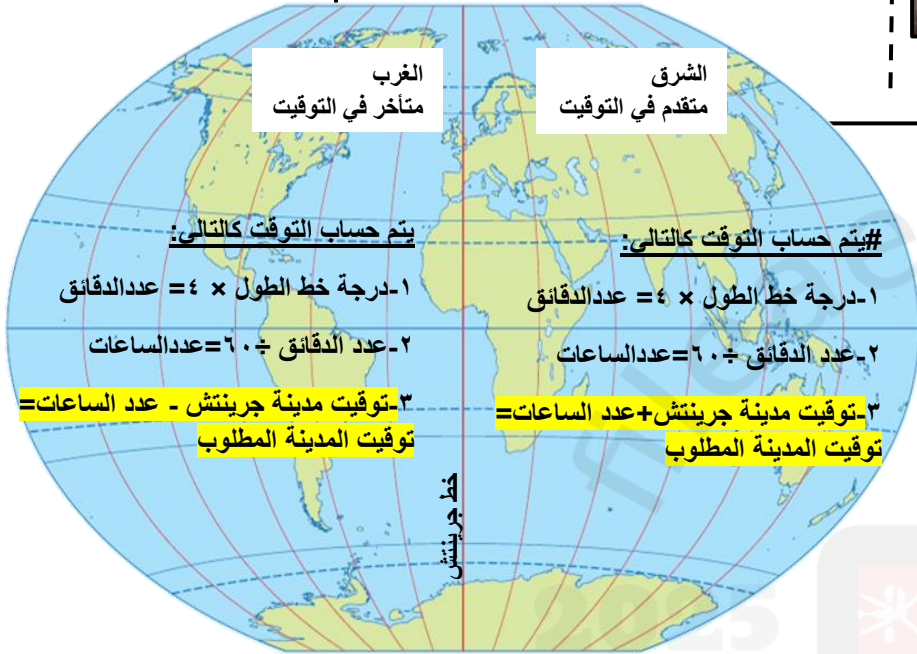
ما أهم أعمال أحمد بن ماجد؟
وصف خطوط الطول و دوائر العرض
و وصف طريقة تحديد القبلة

ما اسم كتاب أحمد بن ماجد؟
الفوائد في أصول علم البحر و
القواعد

#ما المقصود بشبكة خطوط الطول و دوائر العرض؟
خطوط و دوائر وهمية ليست موجودة في الحقيقة وضعها
العلماء لمساعدتهم في تحديد المواقع بدقة على الأرض

فسر: تسمية خط الطول الرئيس بخط جرينتش؟
نسبة إلى مدينة جرينتش في إنجلترا و التي يمر بها الخط

فسر تسمية خطوط الطول ودوائر العرض بهذا الاسم؟
لان خطوط الطول رسمت عمودية بينما رسمت دوائر
العرض بشكل افقي



يتم حساب التوقيت كالتالي:

#يتم حساب التوقيت كالتالي:

١-درجة خط الطول $\times ٤ =$ عدد الدقائق

١-درجة خط الطول $\times ٤ =$ عدد الدقائق

٢-عدد الدقائق $\div ٦٠ =$ عدد الساعات

٢-عدد الدقائق $\div ٦٠ =$ عدد الساعات

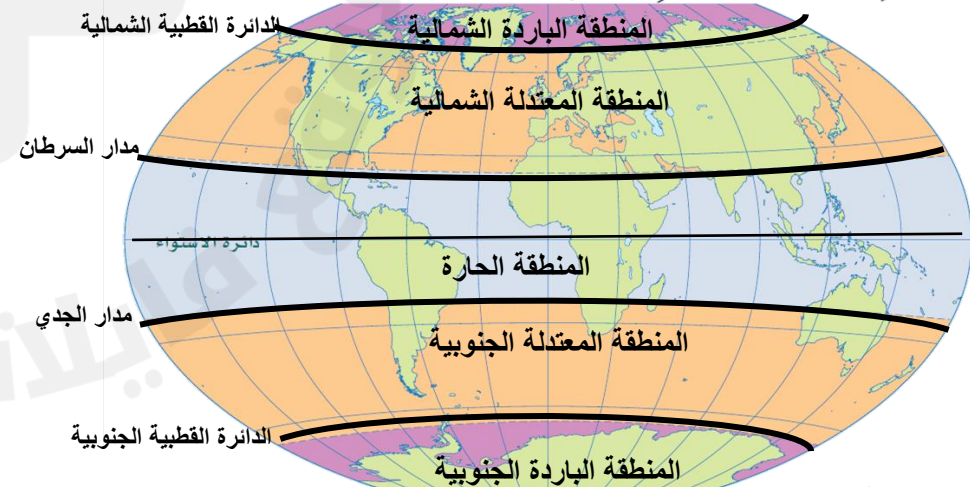
٣-توقيت مدينة جرينتش - عدد الساعات =
توقيت المدينة المطلوب

٣-توقيت مدينة جرينتش + عدد الساعات =
توقيت المدينة المطلوب

خط الطول

اسم المنطقة الحرارية	الامتداد	أمثلة من الدول
المنطقة الحارة	تمتد من مدار السرطان إلى مدار الجدي	سلطنة عمان أندونيسيا موريتانيا
المنطقة المعتدلة	الشمالية (من مدار السرطان إلى الدائرة القطبية الشمالية) الجنوبية (من مدار الجدي إلى الدائرة القطبية الجنوبية)	جنوب أفريقيا إيطاليا فرنسا اسبانيا
المنطقة الباردة	الشمالية (من الدائرة القطبية الشمالية إلى القطب الشمالي) الجنوبية (من الدائرة القطبية الجنوبية إلى القطب الجنوبي)	روسيا فنلندا كندا السويد

المقارنة	خطوط الطول	دوائر العرض
التعريف	أنصاف دوائر وهمية تلتقي عند القطبين	دوائر مكتملة تحيط بالكرة الأرضية
الخط الرئيس	جرينتش (درجته صفر)	دائرة الاستواء (درجتها صفر)
العدد	٣٦٠ خط ١٨٠ شرق جرينتش ١٨٠ غرب جرينتش	١٨٠ دائرة ٩٠ شمال الاستواء ٩٠ جنوب الاستواء
الأهمية	١-تحديد المواقع (شرق و غرب جرينتش) ٢-تحديد التوقيت الزمني	١-تحديد المواقع (شمال و جنوب الاستواء) ٢-معرفة المناخ



ملخص الدرس الثالث : الموقع الفلكي

##ما المقصود بالموقع الفلكي ؟

موقع المكان بالنسبة إلى خطوط الطول و دوائر العرض.

##ما المقصود بشبكة الاحداثيات الجغرافية ؟

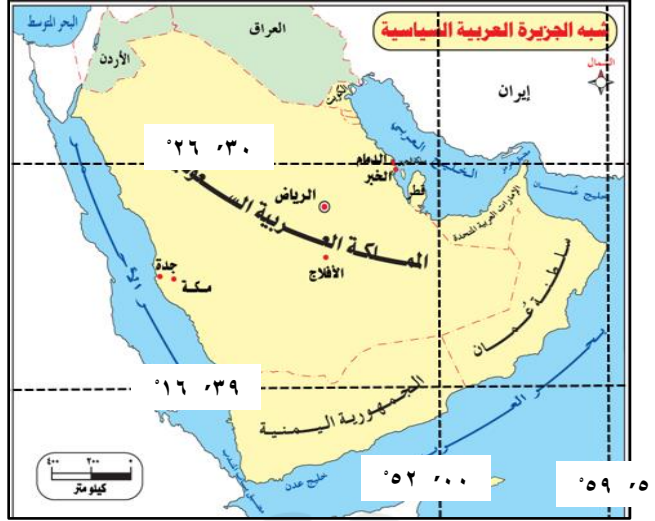
هي رسم خطوط الطول و دوائر العرض على الكرة الأرضية

##ما أهمية رسم شبكة الاحداثيات الجغرافية ؟

تحديد أي موقع على الأرض بدقة عالية

أكتب أحد أهم صيغ كتابة الاحداثيات الجغرافية ؟

ثانية	دقيقة	درجة
°	'	°



##ما هي الدولة العربية التي يمر بها خط جرينتش؟

الجزائر

ما هي الدولة العربية التي يمر بها دائرة الاستواء؟

الصومال

##فسر ما يلي :

تشابه التوقيت في السعودية و اليمن ؟

لأنهما تقعان على خط الطول نفسه

اعتدال المناخ في دول الوطن العربي المطلة على البحر المتوسط؟

لوقوعها في المنطقة المعتدلة

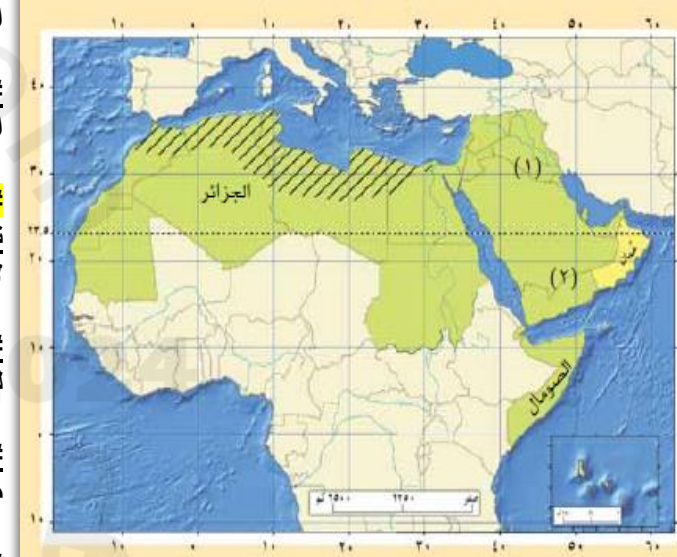
##ما أهمية معرفة الموقع الفلكي لمنطقة معينة؟

معرفة المناخ و التوقيت الزمني للمنطقة

##ما هي الدول التي يمر عليها خط ٣٠ شرقاً؟مصر+السودان

##ما هي الدول التي تمر عليها دائرة عرض ٢٠ شمالاً؟

عمان +السعودية + الجزائر + مورتانيا +السودان



##كيف يتم تحديد الموقع الفلكي لأي مكان على الخريطة؟

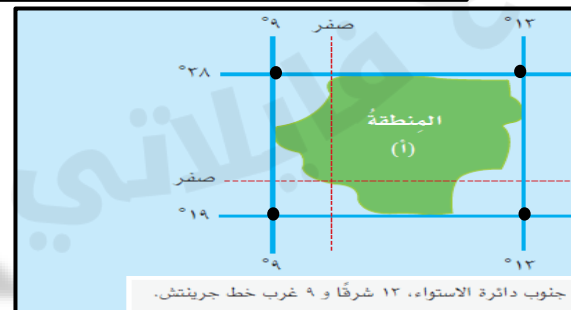
أولاً :تحديد خطوط الطول و دوائر العرض التي تمر

عند نهاية المنطقة

ثانياً :نضع دوائر عند نقاط تقاطع خطوط الطول و

دوائر العرض

ثالثاً : تسجيل الاحداثيات



إعداد :

ابتسام المقبالية
مدرسة انيسة بنت
خشب

##ترتيب الدول في شبه الجزيرة العربية من الأكبر إلى الأصغر؟



ما هي المرتبة التي تحتلها عمان من حيث المساحة ؟ الثالثة

##ما هو الموقع الفلكي لسلطنة عمان ؟

خطوط الطول	تمتد بين خطي طول (٥٢ ٠٠) و (٥٩ ٠٥) شرقاً
دوائر العرض	تمتد بين دائرتي عرض (١٦ ٣٩) و (٢٦ ٣٠) شمالاً

عدد الولايات التي يمر بها مدار السرطان في عمان ؟

مسقط +العامرات +فجاء +وادي المعاول +الرساق +عبري

##ما المقصود بجهاز تحديد المواقع العالمي ؟

جهاز يعمل وفق نظام عالمي لتحديد المواقع باستخدام الأقمار الصناعية

ما هي الجهة التي أطلقت هذا الجهاز؟

وزارة الدفاع الأمريكية

##في أي سنة تم اطلاق جهاز تحديد المواقع ؟

١٩٧٣م

ما السبب الرئيسي لظهور هذا الجهاز لأول مرة؟

الاستخدامات العسكرية

##عدد استخدامات جهاز تحديد المواقع العالمي ؟

-الاستخدامات العسكرية +الملاحة البحرية +الاستدلال بالطرق البرية

##ما هي العوامل التي تؤثر على دقة رصد جهاز تحديد المواقع ؟

المباني العالية و الأشجار و الجبال

##علل :انخفاض دقة رصد جهاز تحديد المواقع في بعض المناطق

الجبليّة و الغابات

لأن الجبال و الأشجار تعيق وصول الإشارة إلى جهاز الاستقبال

##ما هي وسيلة الانسان قديماً لمعرفة المواقع و الاتجاهات؟ النجوم

الوحدة الثانية

2025

2024

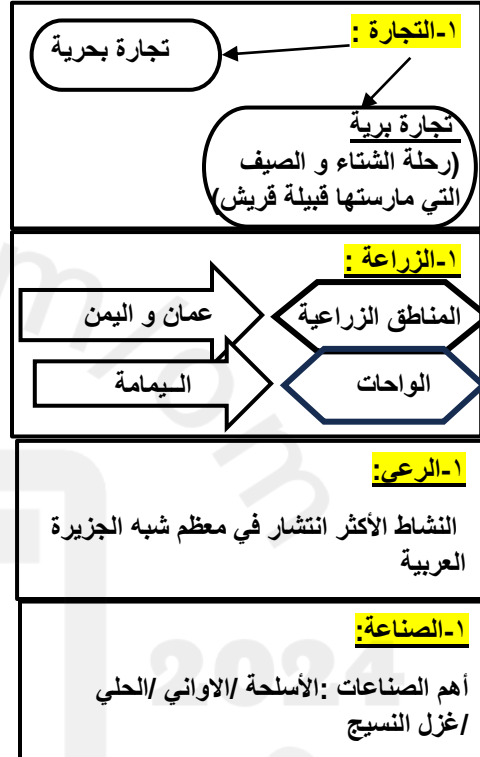
الحياة السياسية

ما هي أنظمة الحكم السائدة في شبه الجزيرة قبل الإسلام؟

نظام الحكم	مثال عليه
الدول	عمان أمثله على حكامه عبد عز بن معولة + آل الجلندي)
ممالك	اليمن (سبأ/ معين /حمير
قبيلة	قريش في مكة

الحياة الاقتصادية

عدد الأنشطة التي مارسها سكان شبه الجزيرة العربية قبل الإسلام؟



تفسر :تنوع الأنشطة الاقتصادية التي مارسها سكان شبه الجزيرة العربية قديما؟
بسبب تنوع البيئات و تنوع الموارد الطبيعية

الحياة الدينية و الفكرية

١- الحياة الدينية :

عدد أهم الديانات التي اعتنقها سكان شبه الجزيرة العربية؟
*الوثنية(يقدمون للاصنام القرابين و يحجون إليها عند الكعبة + الأكثر انتشار)
*اليهودية
*النصرانية
*الحنيفية (ملة سيدنا إبراهيم و هي الأقل انتشار)

تفسر تعدد الديانات في شبه الجزيرة العربية
بسبب التواصل الحضاري مع الدول المجاورة

تفسر حج القبائل العربية إلى مكة
لأنهم يقدسون الكعبة و يعتبرون الحج مناسبة دينية و اجتماعية و اقتصادية حيث يلتقون للتجارة و العبادة

٢- الحياة الفكرية

بماذا تميزت الحياة الفكرية للعرب؟
*بالبصاحة و البلاغة فظهر الشعراء و الخطباء مثل الخطيب العماني مصقلة بن رقة
*تميزوا في العلوم الأخرى كعلم الطب و الفلك مثل ابن حذيم الذي ضرب به المثل في الطب

الحياة الاجتماعية

اسم النمط	البداوة	الحضري
الاستقرار	التنقل من مكان لآخر	يستقر فيه بين القرى و المدن و الواحات
نوع المسكن	خيام متحركة	بناء ثابت من الطين و الطوب
النشاط الاقتصادي	الرعي	الزراعة التجارة

عدد القيم و الاخلاق الحميدة التي اتصف بها العرب ؟
الشجاعة /الكرم /التعاون /نصرة المظلوم

الدول في شبه الجزيرة العربية و الأقاليم المجاورة

عدد أهم الدول التي قامت في شبه الجزيرة العربية قبل الإسلام ؟
عمان دولة يحكمها مالك بن فهم وولاده و بعدها معولة بن شمس و أولاده

عدد أهم الممالك التي قامت في اليمن ؟
معين /حمير /سبأ

عدد أهم الدول المجاورة لشبه الجزيرة العربية ؟
الروم و فارس

ما هي العلاقات التي ربطت بين شبه الجزيرة العربية ؟
علاقات متنوعة منها السياسية و الاقتصادية

تفسر سبب وجود الروم في المنطقة العربية ؟
لطمعها في خيرات المنطقة و رغبة في التوسع



ملخص الدرس الثاني : عمان قبل الإسلام

عدد الاقوام العرب الذين سكنوا عمان منذ القدم ؟

أولا سكنها :

مثل : العماليق + طسم

العرب البائدة

من هم ؟
قبائل لم يبقى منهم أحد

ثانيا : سكنها :

مثل : العدنانيون + القحطانيون

العرب
الباقية

أصل القبائل المنتشرة
بعمان اليوم

قارن بين مراحل طرد الفرس من عمان بقيادة مالك بن فهم :

المقارنة	المكان	النتيجة
المواجهة الأولى	سلوت (الداخلية)	انتصار الأزد + طلب الفرس الصلح و أن يخرجوا بعد مده
المواجهة الثانية	صحار (شمال الباطنة)	انتصار الأزد + خروج الفرس نهائيا من عمان

من أهم قادة معركة سلوت و تولى حكم عمان بعد أبيه؟
هناة بن مالك بن فهم

ما أهم صفات مالك بن فهم و التي جعلت العمانيون يختارونه ملكا
لهم؟
العزة و المنعة

عدد القيم التي دعا مالك إليها قومه عند الحرب ضد الفرس؟
الصبر / الشجاعة / الدفاع عن النفس و الوطن / الاتحاد و التعاون

علل ما يلي (فسر)

سبب تسمية عمان منذ القدم بهذا الاسم ؟
نسبة إلى عمان بن سبا / نسبة إلى وادي في اليمن اسمه عمان

سكن عدد من الأقوام عمان منذ الهجرة ؟
بسبب الموقع الاستراتيجي لعمان / الاستقرار / تنوع الموارد فيها

هاجرت قبائل من وسط و جنوب شبه الجزيرة العربية منهم قبيلة الأزد إلى عمان ؟
الصراعات و الحروب / التنافس على الموارد الاقتصادية

طمع القوى الخارجية في عمان ؟
بسبب موقعها الاستراتيجي الواقع في ملتقى الطرق التجارية .

مواجهة العمانيين للفرس في صحار؟
لأن الفرس اتخذوا من صحار قاعدة لهم

فسر سبب وقوع المواجهة الثانية بين مالك بن فهم و الفرس؟
لأن ملك الفرس دارا بن دار أرسل إلى الفرس في صحا جيشا لمساعدتهم ضد الفرس.

* من أين بدأت هجرة قبيلة الأزد؟
من جنوب شبه الجزيرة العربية (اليمن)

* عدد الأماكن التي مر بها مالك بن فهم في هجرته ؟
الشحر + برهوت

* من الذي كان يسيطر على عمان قبل دخول مالك إليها ؟
الفرس

* ما هي قاعدة الفرس في عمان ؟
صحار

* ما هي عاصمة مالك بن فهم في عمان ؟
قلهات

* في أي ولاية و محافظة يوجد فلج مالك ؟
في ولاية منح في محافظة الداخلية

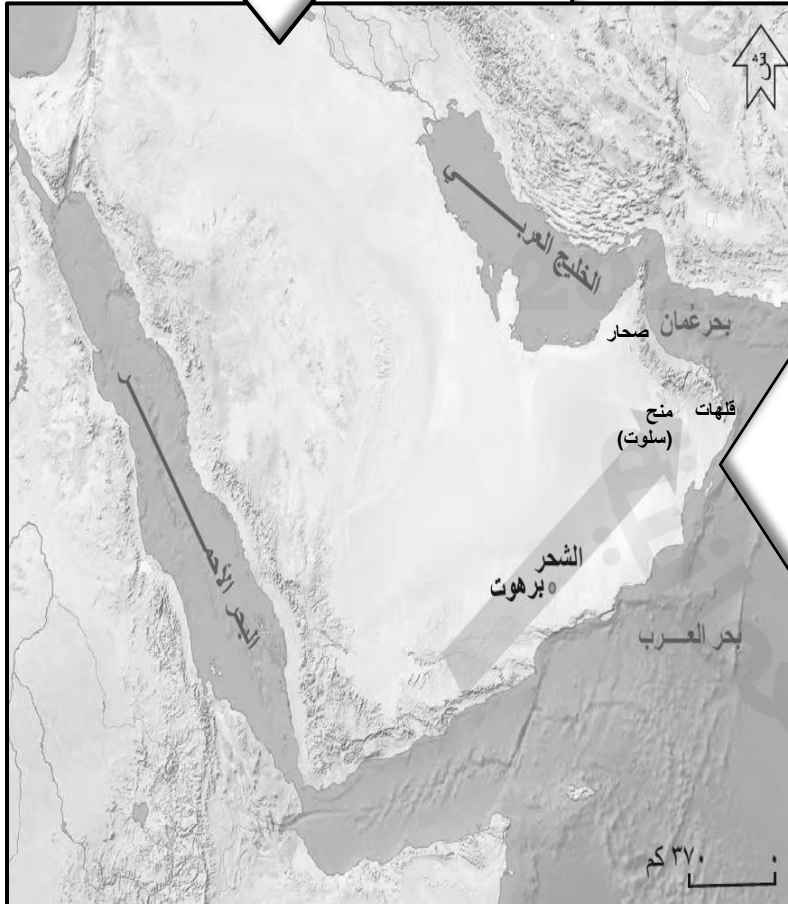
إعداد : ابتسام المقبلية مدرسة أنيسة بنت خبيب

ترتيب الأحداث :

- (١) دخول الفرس إلى عمان
- (٢) هجرة الأزد بقيادة مالك بن فهم إلى عمان
- (٣) معركة سلوت بين الفرس و الأزد
- (٤) عقد الصلح بين الفرس و الأزد
- (٥) إرسال دارا ملك الفرس جيشا للفرس في صحار
- (٦) المعركة الثانية بين الفرس و الأزد في صحار
- (٧) خروج الفرس نهائيا من عمان

من هم الأزد المهاجرين إلى عمان ؟
مالك بن فهم و قومه

ماذا أطلق على الأزد المهاجرين إلى عمان ؟
أزد عمان

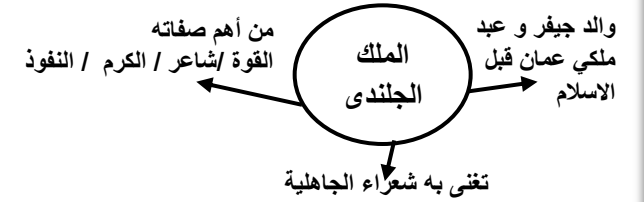


الحياة السياسية

عدد ملوك عمان من قبيلة الأزد الذين اشتهروا ببأسهم وقوتهم قبل الإسلام ؟

١-مالك بن فهم ٢-هناة بن مالك ٣-عبد عز بن معولة ٤-ملوك آل الجلندی

#من هو الملك الجلندی؟



اعطى دليل على :

ازدهار الحياة في عمان و شهرتها بين الأقاليم المجاورة تحت حكم قبيلة الأزد (قوة عمان السياسية قبل الإسلام) ؟

- ١-أرسل هناة بن مالك جيشا لمساعدة أخيه سليمة الذي حكم كرمان في فارس
- ٢-توسع ملكهم ليمتد إلى اليمامة و البحرين
- ٣-تميز عهد عبد عز بن معولة بالقوة حتى انه كان يستطيع التغلب على أي جيش كان يواجهه

الحياة الاقتصادية

قسر عمل العمانيون في التجارة منذ القدم ؟ بسبب الموقع الجغرافي لعمان

الأنشطة القتصادية التي عمل فيها العمانيون

التجارة	الزراعة	الصناعة
أمثلة على السلع التجارية العمانية : اللبن - الأسماك - اللؤلؤ - المعنديات أهم الموانئ العمانية : ١-ميناء سمهرم في محافظة ظفار #دلل على أهمية ميناء سمهرم ؟ ان الحكومة العمانية تهتم بموقعه الأثري في الوقت الحالي ٢-ميناء دبا في محافظة مسندم #دلل على أهمية ميناء دبا ؟	أمثلة على أبرز المزروعات العمانية : ١-التمور ٢- الحبوب مثل (الذرة)	أهم الصناعات العمانية ١-صناعة الفخار ٢- صناعة السفن ٣- الصناعات المعدنية

كان يأتيه التجار من السند و الهند و الصين و أهل المشرق و المغرب
#ما الطريقة المعمول بها لشراء السلع فيها؟ المساومة

ما هو دور الموانئ العمانية في ازدهار الاقتصاد قديما ؟

تلعب دورا مهما خاصة في عملية نقل و تبادل السلع التجارية العالمية حيث كانت السفن تأتي محملة بالسلع من الهند و الصين و غيرها من الأقاليم المجاورة قاصدة الموانئ العمانية .

الحياة الثقافية

#فسر تميزت عمان قبل الإسلام بالتنوع الثقافي (عوامل التنوع الثقافي) ؟

- ١-التواصل التجاري مع المناطق الأخرى ٢-استقرار بعض التجار الهنود و الفرس و الفارقة في عمان
- ٣-الهجرات العمانية

المجال الأدبي

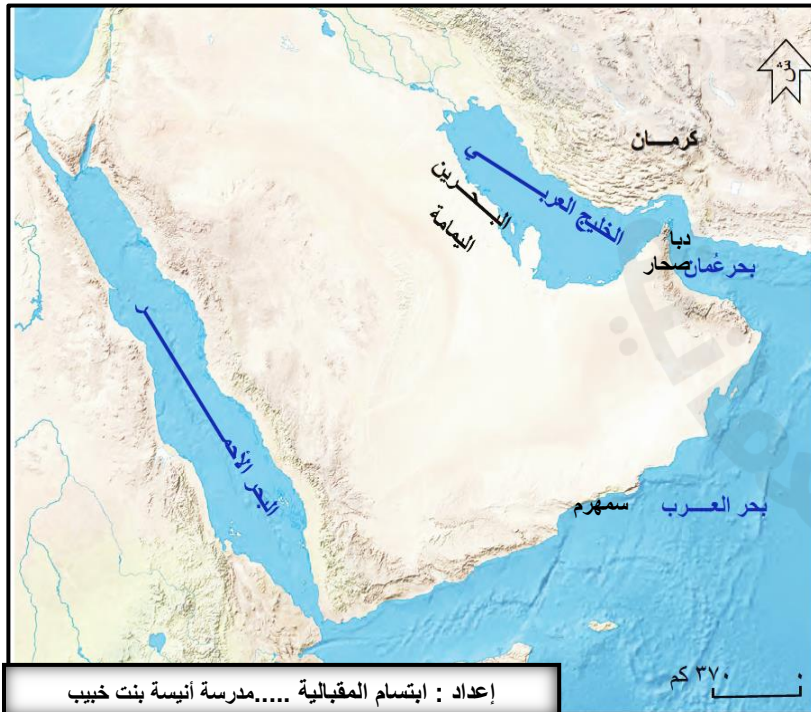
- ١-فن النقش و الرسومات الصخرية
#ما أهمية فن النقش و الرسومات ؟
يسجلون تفاصيل مظاهر حياتهم +
يعبرون عن أفكارهم
#صف ملامح حياة العمانيين من خلال فن النقش و الرسومات؟
يتضح انهم كانوا يمارسون الزراعة خاصة النخيل و كذلك الرعي و التنقل
#اقترح طرقا للمحافظة على هذا الفن ؟
١-سن القوانين لحمايتها / الحفاظ عليها في المتاحف

٢-الأسواق الأدبية

- #علل :ازدهار الحياة الأدبية ؟**
بسبب النقاء الشعراء و الأدباء من مختلف الأقاليم فيها
#ما هي الأسواق الأدبية ؟
الأسواق التي كان يلتقي فيها الشعراء و الأدباء فيلقون أشعارهم و يتنافسون بينهم في أوقات معينة من السنة
عدد أهم الأسواق الأدبية في عمان ؟
الشحر / دبا / صحار
#من شعراء عمان في العصر الجاهلي؟
جواس بن حيان

المجال الديني

- ١-المعتقدات الدينية (الوثنية)
هي الأكثر شيوعا في عمان
- ٢-بعض الأفكار الدينية
(الاعتقاد بالبعث و الخلود بعد الموت)
#فسر سبب اهتمام و عناية العمانيون بالموتى قبل الإسلام ؟
بسبب اعتقادهم بالبعث و الخلود



الوحدة الثالثة

2025

2024

##ما المقصود بالانتماء و الولاء للوطن ؟

شعور الفرد بالحب تجاه وطنه فيعطي خدمته و بانه.

##عدد العناصر التي يرتبط بها الفرد ؟

الوالدين + الاسرة + المنزل + المجتمع + المدرسة + الوطن

##عدد أهم ما يعزز شعور الارتباط بالوطن ؟

الأسرة + المدرسة

##عدد العناصر التي تشمل الشعور بالانتماء و الولاء ؟

الوطن + السلطان + أفراد المجتمع

##علل : نبادر لخدمة الوطن ؟

ليتقدم و يزدهر

##النشيد الوطني لعمان :

##لمن ندعو في النشيد الوطني ؟ و لماذا؟

جلالة السلطان هيثم و الشعب و الوطن

و بأن يحفظهم و يديم عليهم العز

##لماذا نحرص على ترديد النشيد الوطني في الطابور ؟

حبا للوطن و للقائد و الاعتزاز بأمجاد الوطن

من أقوال القائد : (إننا إذ نعاهد الله عزوجل على أن نكرس حياتنا

من أجل عمان و أبناء عمان)

##متى ألقى السلطان هيثم هذا الخطاب ؟

فبراير ٢٠٢٠ م

##كيف نفتدي بجلالة السلطان ؟

بان نكرس جهودنا لخدمة عمان و أن نخلص في العمل من أجله

##أذكر رمزا من رموز الوطن ؟

قائد عمان السلطان هيثم بن طارق

ما الدليل على حبنا لجلالة السلطان ؟

طاعته و الولاء له

##عدد أهمية الانتماء و الولاء للوطن و كيف يتم تحقيقه؟

الأهمية و المكسب	كيف تتحقق
المحافظة على الثقافة و الحضارة العمانية	الالتزام بثقافة المجتمع
التلاحم بين أبناء الوطن	التعاون و التكاتف
الأمان و الاستقرار	العيش بطمأنينة و سلام

##عدد طرق المحافظة على الثقافة العمانية ؟

الالتزام بالزي العماني

الاعتزاز باللغة العربية

المحافظة على العادات و التقاليد العمانية

##ما سم المنظمة التي تمكنت عمان من إدراج

شخصيات عمانية فيها ؟

اليونسكو

##ما أهمية هذا العمل ؟

لان هولاء جزء من الحضارة و الثقافة و الحضارة

العمانية التي يجب المحافظة عليها

##عدد اثنين من الشخصيات التي أدرجت في هذا

البرنامج ؟

احمد بن ماجد / ابن الذهبي

##اذكر مثال على تحقيق التلاحم بين

أبناء عمان ؟

رؤية عمان ٢٠٤٠

##ما الهدف من رؤية عمان ٢٠٤٠ ؟

أن يكون المجتمع العماني قويا و

متماسكا



##اذكر أمثلة على ما يلي :

١- الأعمال التي تعبر فيها عن حبك لوالديك و

أخوتك؟

احترام الوالدين / المساعدة في أعمال المنزل

/التعاون مع الأخوة

٢- الأعمال التي تعبر فيها عن حبك لمدرستك ؟

المحافظة على مرافق المدرسة

الاهتمام بنظافة المدرسة

احترام المعلم و الطلاب

لماذا نقوم بتنظيف الأماكن السياحية بعد زيارتها ؟

لأننا نشعر بالانتماء و الولاء لوطننا و بسبب

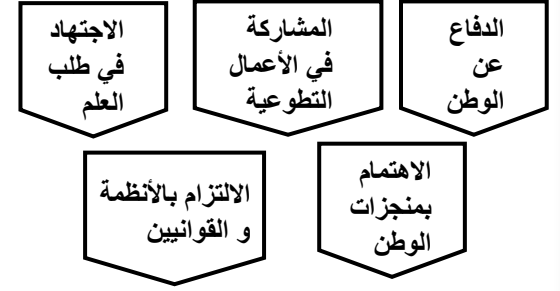
الاخلاق الطيبة التي نتحلى بها

ملخص الدرس الثاني : مظاهر الانتماء والولاء للوطن

##ما المقصود بمظاهر الانتماء والولاء للوطن؟

أعمال نقوم بها لا نرجو مقابلا لها أو عائد وإنما حبا و وفاء للوطن

##عدد مظاهر الانتماء والولاء للوطن ؟



##كيف يسهم الاجتهاد في طلب العلم في خدمة الوطن ؟

- من خلال ما يلي
- ١- مراجعة الدروس و التحضير لها باستمرار
- ٢- التفوق
- ٣- زيادة القدرات العلمية والعملية

و بالتالي خدمة الوطن

##ما أهمية الاجتهاد في طلب العلم ؟

يوسع مدارك الفرد و يعطيه أفكار إبداعية فتسهم في رفعة و تقدم الوطن

##فسر: يجب على الفرد الالتزام بأنظمة و

القوانين ؟

لان الالتزام بها يؤدي إلى القيام بواجبه تجاه وطنه و الحصول على حقوقه كاملة

##اذكر أمثلة على القوانين و الأنظمة التي يجب

على الفرد الالتزام بها ؟

قوانين و أنظمة المرور
قوانين و أنظمة المدرسة

##ما هي وسائل الدفاع عن الوطن ؟



##كيف تدافع عن وطنك إذا وجدت أحدهم يقول أن تاريخ عمان بدأ

حديثاً؟

أخبره بأن تاريخ عمان قديم جدا حيث استقر فيها العرب الباقية و اسسوا حضارة بها و منهم مالك بن فهم

##عدد أهم منجزات وطني عمان ؟

القلاع و الحصون
الافلاج
الملاحة البحرية
المتاحف (متحف عمان عبر الزمان + المتحف الوطني)
الأسواق القديمة / المواقع الأثرية

##ما هو دور الفرد اتجاه هذه المنجزات ؟

ينبغي عليه المحافظة عليها و صيانتها و تطويرها .

##فسر: يجب الاهتمام و تطوير المنجزات الوطنية ؟

لأنها تعبر عن ثقافة الوطن و تاريخه و لكي تبقى مستقبلا للأجيال القادمة

##اقترح طرقا للحفاظ على الأماكن التراثية و تطويرها ؟

وضع القوانين الصارمة لعدم العبث بها
تطويرها وجعلها أماكن جاذبة للسياحة

من خلال الصورة المقابلة :

##ما اسم المنجز العماني ؟

متحف عمان عبر الزمان

##ما أهمية هذا المنجز ؟ صرح شامخ يسعى

لتعزيز الانتماء و الاعتزاز الوطني

##متى تم افتتاح هذا المتحف ؟ ٢٠٢٣ م

أين يقع المتحف ؟ في ولاية منح في الداخلية

##ما المقصود بالعمل التطوعي ؟

عمل الخير و التعاون بين أفراد المجتمع لخدمة وطنهم و تحسين حياة الآخرين .

##عدد أمثلة على العمل التطوعي ؟

المشاركة في حملات التنظيف للشواطئ و الأماكن العامة
مساعدة الفقراء و الأيتام و ذوي الإعاقة
تقديم المساعدة للمتضررين من الأعاصير

##وضح أهمية العمل التطوعي للفرد و للمجتمع؟

الفرد	المجتمع
قال تعالى : فمن تطوع خيرا فهو خير له كسب الأجر و الثواب في الآخرة	بناء الوطن و تحسين حياة الآخرين

##أذكر أهم المؤسسات الخيرية في سلطنة عمان ؟

مؤسسة عهد

##ما أهداف مؤسسة عهد ؟

دعم العمل المجتمعي و الإنساني لخدمة المسنين و الأيتام

ما هي الحالة التي تشهد فيها العمانيون مثالا رائع على عمل الخير و

التعاون ؟

الحالة المدارية (إعصار شاهين)

من أقوال السلطان هيثم (نود أن تشيد بدور كافة الجهات الحكومية و

الخاصة و الأهلية

##في أي عام القي السلطان هذا الخطاب و ما المناسبة ؟

في أكتوبر ٢٠٢١ م /الحالة المدارية إعصار شاهين

##ما هي الأدوار التي قام بها الأفراد و المؤسسات في هذه الحالة المدارية؟

حملات التنظيف للطرق و المنازل

حملات التبرع للمتضررين

##عدد أمثلة أخرى لمظاهر الانتماء و

الولاء للوطن؟

١-التبرع

٢-المشاركة في الانتخابات

٣-تشجيع منتخب البلاد

