

تجميع اختبارات نهائية لسنة ٢٠٢٣-٢٠٢٤ مع نماذج الإجابة



تم تحميل هذا الملف من موقع المناهج العمانية

موقع فايلاتي ⇨ المناهج العمانية ⇨ الصف الخامس ⇨ اجتماعيات ⇨ الفصل الثاني ⇨ ملفات متنوعة ⇨ الملف

تاريخ إضافة الملف على موقع المناهج: 2025-05-27 11:08:43

ملفات اكتب للمعلم اكتب للطالب ا اختبارات الكترونية ا اختبارات ا حلول ا عروض بوربوينت ا أوراق عمل
منهج انجليزي ا ملخصات وتقارير ا مذكرات وبنوك ا الامتحان النهائي للمدرس

المزيد من مادة
اجتماعيات:

التواصل الاجتماعي بحسب الصف الخامس



صفحة المناهج
العمانية على
فيسبوك

الرياضيات

اللغة الانجليزية

اللغة العربية

التربية الاسلامية

المواد على تلغرام

المزيد من الملفات بحسب الصف الخامس والمادة اجتماعيات في الفصل الثاني

تجميع امتحانات نهائية من سلسلة فيثاغورث	1
مراجعة عامة في الدراسات الاجتماعية مع نماذج امتحانية سابقة بمحافظة جنوب الشرقية	2
ملخص درس عمان في عهد الرسول (ص)	3
ملخص درس شخصيات عمانية في عهد الرسول محمد (ص)	4
تجميع اختبارات قصيرة أولى	5



المديرية العامة للتربية والتعليم بمحافظة شمال الباطنة

امتحان مادة: الدراسات الاجتماعية (الفترة الصباحية)

للمصف: الخامس الأساسي

للعام الدراسي ١٤٤٥هـ - ٢٠٢٣/٢٠٢٤م

الدور الاول - الفصل الدراسي الثاني

● زمن الامتحان: (ساعة ونصف) ● عدد صفحات أسئلة الامتحان: (٧) صفحات.

● الإجابة في الدفتر نفسه.

			اسم الطالب
	الصف / الشعبة		المدرسة

التوقيع بالاسم		الدرجة		السؤال
المصحح الثاني	المصحح الأول	بالحروف	بالأرقام	
				١
				٢
				٣
				٤
				٥
مراجعة الجمع	جمعه			المجموع
			٤٠	المجموع الكلي

أجب عن جميع الأسئلة الآتية

السؤال الأول: ضع دائرة حول رمز الإجابة الصحيحة لكل مفردة من المفردات الآتية:

١- الحزام الذي يحمي كوكب الأرض من الأشعة الضارة:

- أ. الهيدروجين. ب. الأكسجين. ج. الأوزون. د. النيتروجين.



٢- العبارة التي تشير إلى بند اتفاقية حقوق الطفل الواضح في الصورة المقابلة:

- أ. الحماية من أداء الأعمال الخطرة. ب. التعليم والتأهيل.
ج. التمتع بمستوى صحي عالي. د. رعاية ذوي الإعاقة.

٣- الشخصية التي رافقت الصحابي مازن بن غصوبة في رحلته إلى المدينة المنورة:

- أ. كعب بن برشة. ب. صالح بن المتوكل. ج. سلمة بن عباد. د. أبو صفرة المتكي.

٤- الجهة التي تقع فيها المدينة المنورة بالنسبة لمكة المكرمة حسب الخريطة التي أمامك:



- أ. الشمال. ب. الجنوب.
ج. الشرق. د. الغرب.

٥- أول غزوات الرسول محمد (ﷺ):

- أ. تبوك. ب. أحد. ج. بدر. د. الخندق.

تابع السؤال الأول:

٦- العام الميلادي الذي تأسست فيه الجمعية الفلكية العُمانية:

٢٠٠٨.د

٢٠٠٧.ج

٢٠٠٦.ب

٢٠٠٥.أ

٧- الجدول الصحيح الذي يبين أمثلة للموارد الطبيعية غير المتجددة:

النفط
الغاز
المعادن

.د

النفط
الغاز
طاقة الشمس

.ج

الحيوانات
الفحم
المعادن

.ب

المياه
الفحم
المعادن

.أ

٨- الجزيرة التي أوصى الإمام الصلت بن مالك قادة الاسطول البحري العُماني بحماية حقوق المسلمين فيها:

.د. الحلايبات.

.ج. الديمانيات.

.ب. سقطرى.

.أ. مصيرة.

٩- الشكل الصحيح الذي يمثل النسب المئوية لتوزيع الماء واليابسة على سطح الأرض:



.ب



.أ



.د



.ج


تابع السؤال الاول:

١٠- المجال الذي تحتفل به سلطنة عُمان يوم ١٧ أكتوبر من كل عام:

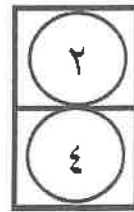
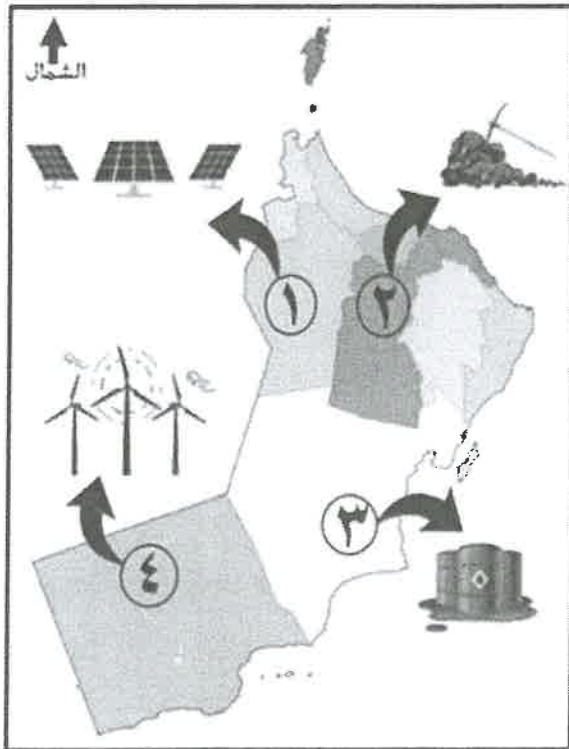
- أ. التراث. ب. الشباب. ج. المعلم العُماني. د. المرأة العُمانية.

١١- المنطقة التي أرسل الرسول محمد (ﷺ) الرسالة المقابلة لحكامها:

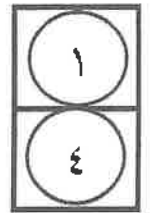
- أ. العراق. ب. عُمان. ج. اليمن. د. البحرين.



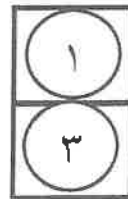
١٢- الشكل الصحيح الذي يشير إلى أرقام الموارد الطبيعية غير المتجددة في الخريطة التي أمامك:



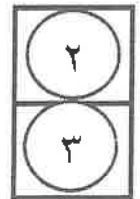
ب.



أ.



د.



ج.



(٤)

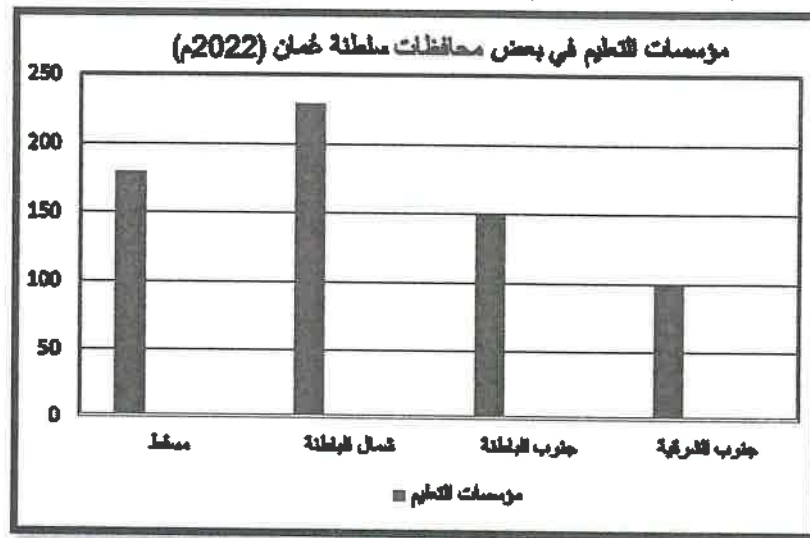
امتحان مادة الدراسات الاجتماعية للصف الخامس-الدور الأول-الفصل الدراسي الثاني-العام الدراسي ٢٠٢٣/٢٠٢٤م (الفترة الصباحية)

السؤال الثاني:

أولاً: أكتب المفهوم الدال على العبارات في الجدول الآتي:

أ	ما يحصل عليه المواطن من الدولة والمجتمع، وفقاً للقانون وثقافة المجتمع.
ب	استعمال الموارد الطبيعية بشكل متوازن للحفاظ عليها وضمان استمرارية الحياة.
ج	دخول المناطق غير المسلمة الإسلام، لتصبح جزءاً من الدولة الإسلامية أو تابعة لها.

ثانياً: أدرس الشكل البياني الذي امامك، ثم أجب عن الأسئلة التي تليه.



أ- ما المحافظة التي تأتي في المرتبة الثانية من حيث عدد مؤسسات التعليم؟

ب- كم يبلغ عدد مؤسسات التعليم في محافظة جنوب الشرقية؟

ثالثاً: صنف المؤسسات الوطنية العُمانية الآتية: (المحكمة العليا / شرطة عُمان السلطانية / مستشفى صحار)

حسب اختصاصاتها في الجدول الآتي:

م	الاختصاص	المؤسسة الوطنية العُمانية
أ	تقديم الرعاية الصحية
ب	المحافظة على الأمن داخل الوطن
ج	حفظ حقوق المواطنين بالقضاء العادل



يتبع/٥

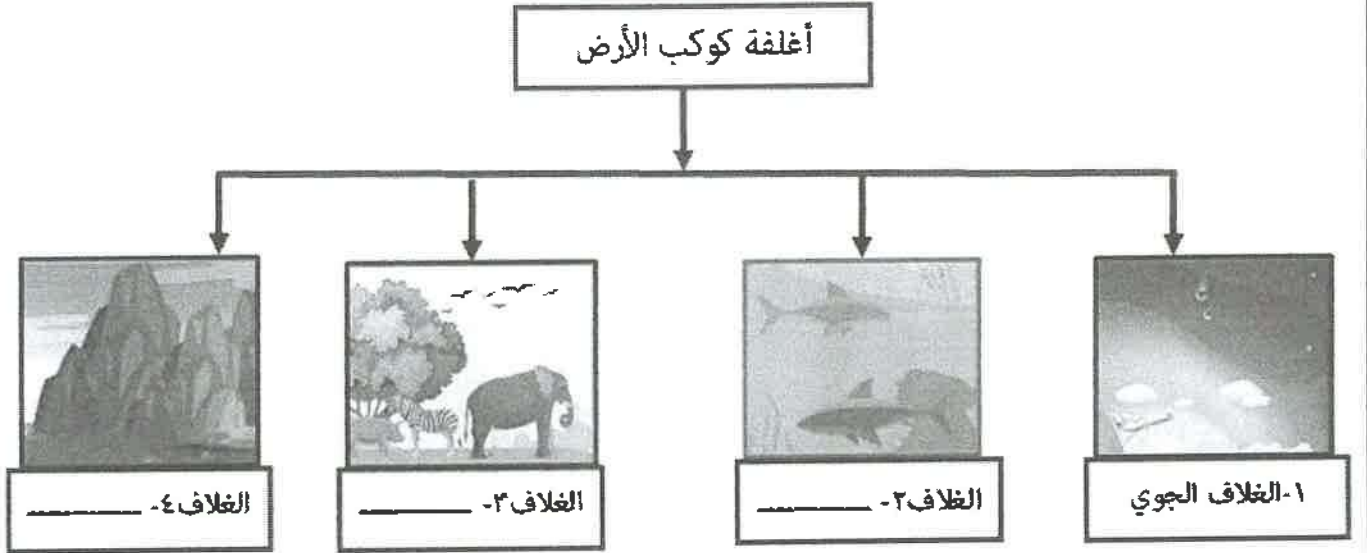
السؤال الثالث:

أولاً: اذكر:

أ- المدينة التي كانت ميناء اقتصادي رئيسي بجنوب عُمان عند ظهور الإسلام.

ب - الولاية العُمانية التي يقع فيها سد وادي ضيقة.

ثانياً: أ - أمامك مخطط لأغلفة كوكب الأرض، ادرسه جيداً ثم أكمل ما تمثله الأرقام (٢ ، ٣ ، ٤) :



ب- علّل: تمتص جذور النباتات المعادن الموجودة في التربة.

ثالثاً: انسب الأعمال في الجدول الى الشخصيات التي قامت بها:

(مسلية بن هزان الحداني - المهلب بن ابي صفرة)

م	الأعمال	الشخصية
أ	تولى قيادة عدة جيوش في عهد الدولة الإسلامية.
ب	ترأس الوفد العُماني لرؤية الرسول محمد (ﷺ).

السؤال الرابع:


أولاً: عدد:

أ- اثنان من أدوار المسجد في عهد الرسول محمد (ﷺ).

ب - مثالين من الأنشطة الاقتصادية التي ازدهرت بالمدن العُمانية في عهد الرسول محمد (ﷺ).

ثانياً: أمامك صور تمثل بعض المشكلات البيئية الناجمة عن الممارسات الخاطئة ، اكتب أسفل كل صورة المشكلة التي تمثلها :

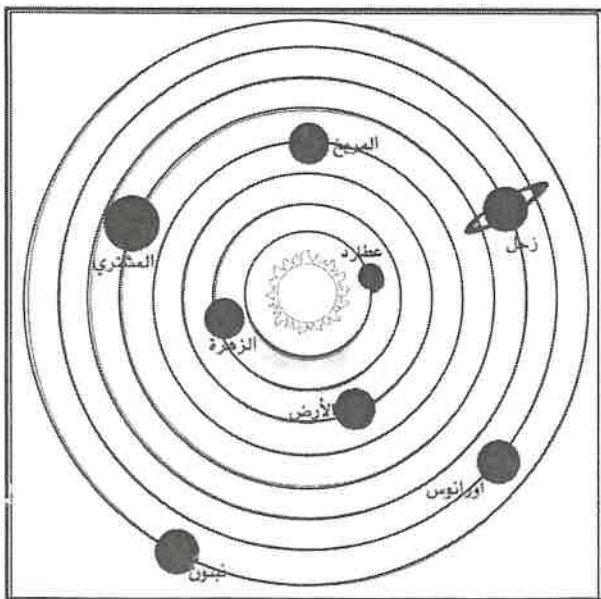
(الأمطار الحمضية - الانهيارات الأرضية)



ب -



أ -



ثالثاً:- أدرس الشكل المقابل، ثم أجب عن الأسئلة الآتية:

أ- ما ترتيب كوكب الزهرة في المجموعة الشمسية ؟

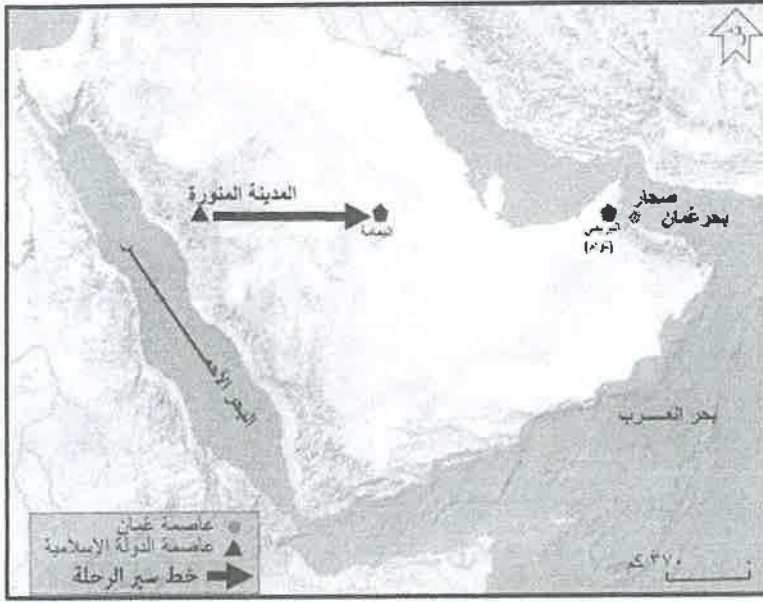
ب- استنتج من الشكل أكبر كواكب المجموعة الشمسية.

السؤال الخامس:

أولاً: أدرس الخريطة الآتية، ثم أجب عن

الأسئلة التي تليها:

- أ- ارسم دائرة على موقع عاصمة الدولة الإسلامية.
 ب- أكمل بالرسم خط سير رحلة عمرو بن العاص إلى عُمان.
 ج- اكتب اسم الخليج العربي في موقعه الصحيح.



ثانياً: اقرأ النص التالي، ثم اجب عن الأسئلة التي تليه:

إنَّ ممَّا نفخر به، أنَّ المواطنين والمقيمين على أرض عُمان العزيزة يعيشون بفضل الله في ظل دولة القانون والمؤسسات. دولة تقوم على مبادئ الحرية والمساواة وتكافؤ الفرص، قوامها العدل، كرامة الأفراد وحقوقهم وحياتهم فيها مصانةً، بما في ذلك حرية التعبير التي كفلها النظام الأساسي للدولة.

أ- من قائل هذا النص؟

ب- استخرج من النص اثنين من مبادئ حقوق الإنسان في وطننا الغالي عُمان.

ج- ضع خط تحت المفهوم الذي يعتبر الوثيقة الرسمية التي تعرّف بالدولة، ونظام الحكم فيها.

5



امتحان الصف الخامس
للعام الدراسي ١٤٤٤ هـ - ٢٠٢٣ / ٢٠٢٤ م
الفصل الدراسي الثاني - الدور الأول / الفترة الصباحية

- عدد صفحات أسئلة الامتحان: (٧) صفحات.
- الإجابة في الورقة نفسها.

- المادة: الدراسات الاجتماعية
- زمن الإجابة: ساعة ونصف فقط

اسم الطالب	
الشعبة	

تعليمات الامتحان:

- أجب عن جميع الأسئلة في الفراغ المخصص في ورقة الأسئلة.
- وضح كل خطوات حلك في دفتر الأسئلة.
- تأكد من اكتمال صفحات أسئلة الامتحان وفق العدد الموضح أعلاه.

السؤال	الدرجة		التوقيع بالاسم	
	بالأرقام	بالحروف	المصحح الأول	المصحح الثاني
١				
٢				
٣				
٤				
٥				
المجموع			جمعه	مراجعة الجمع
المجموع الكلي	٤٠			

(١)


امتحان الصف: الخامس المادة: الدراسات الاجتماعية الفصل الثاني-الدور: الأول
للعام الدراسي ١٤٤٤ / ١٤٤٥ هـ - ٢٠٢٣ / ٢٠٢٤ م

١٢

أجب عن جميع الأسئلة:

السؤال الأول : ضع دائرة حول رمز الإجابة الصحيحة من بين البدائل :

١ - شخصية عُمانية في عهد الرسول ﷺ يمثل أعمالها الشكل الآتي:



ب - كعب بن برشة الطاحي
د - صحرار بن العباس العبدي

أ - أبو صفرة العتكي
ج - سلمة بن عياذ الأزدي

٢ - السنة الهجرية التي حدثت فيها أول غزوة في الإسلام وشارك فيها الرسول ﷺ:
أ - الأولى
ب - الثانية
ج - الثالثة
د - الرابعة

٣ - الغلاف الأرضي الذي تحدث فيه الظاهرة الطبيعية في الشكل المقابل:

أ - الجوي
ب - الحيوي

ج - الصخري
د - المائي



(٢)

امتحان الصف: الخامس المادة: الدراسات الاجتماعية الفصل الثاني-الدور: الأول
للعام الدراسي ١٤٤٤ هـ - ٢٠٢٣/٢٠٢٤ م

تابع/ السؤال الأول:

٤ - المؤسسة التي تشرف على المبادرة الموضحة
في الصورة المقابلة:

أ - وزارة التربية والتعليم ب - وزارة العمل

ج - الهيئة العامة للمياه د - هيئة البيئة



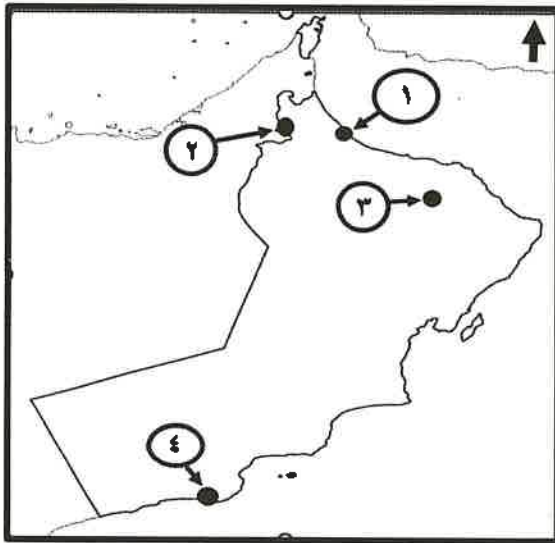
المبادرة الوطنية لزراعة عشرة ملايين شجرة بريّة
National Initiative For Plantation Of 10 Million Wild Trees

٥ - واجب يؤديه المواطن العماني ويعبر عن انتمائه للوطن:

أ - الشعور بالأمن والأمان ب - التعبير عن الرأي

د - الرعايا الصحيّة

ج - احترام العادات والتقاليد

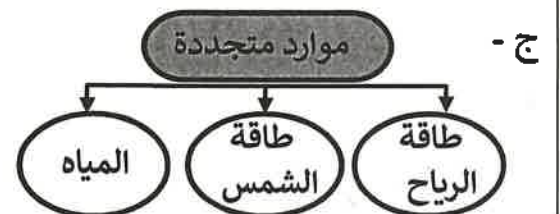
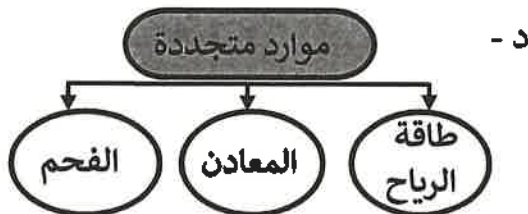
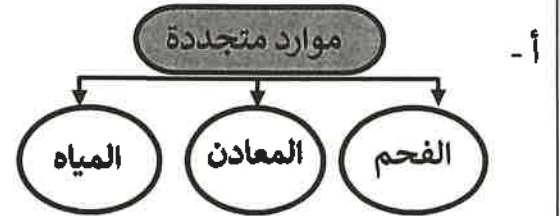
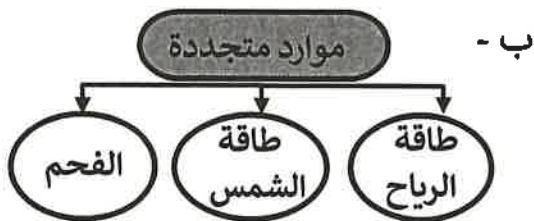


٦ - الرقم الذي يشير إلى موقع المدينة التي ينتمي
إليها أول من أسلم من أهل عُمان في الخريطة المقابلة:

أ - ١ ب - ٢

ج - ٣ د - ٤

٧ - المخطط الصحيح الذي يوضح أمثلة الموارد الطبيعية المتجددة:



(٣)

امتحان الصف: الخامس المادة: الدراسات الاجتماعية الفصل الثاني-الدور: الأول
للعام الدراسي ١٤٤٤ هـ - ٢٠٢٣/٢٠٢٤ م

تابع السؤال الأول:

٨ - يُحتفى بيوم المرأة العمانية في سلطنة عُمان:
أ - ١٧ أكتوبر ب - ١٧ نوفمبر ج - ١٨ أكتوبر د - ١٨ نوفمبر

٩ - الولاية العمانية التي يوجد بها مسجد الشواذنة:
أ - صحار ب - سمائل ج - دبا د - نزوى

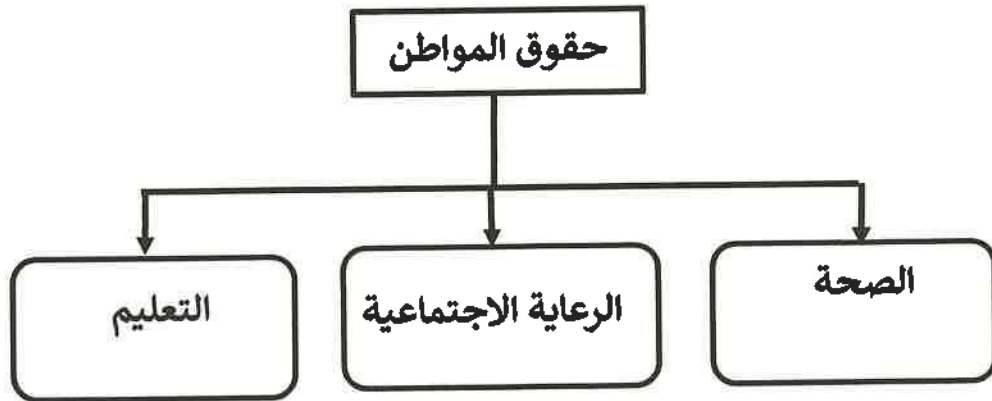
١٠ - الكوكب الذي تنطبق عليه المعلومات الواردة أمامك:

١ - الترتيب الثالث في النظام الشمسي
٢ - يطلق عليه الكوكب المائي
٣ - يتميز بوجود حياة

١ - عطارد ب - الزهرة
ج - المريخ د - الأرض

١١ - النسبة المئوية التي تغطيها المياه من مساحة الأرض :
أ - ٧٠ ب - ٧١ ج - ٧٢ د - ٧٣

١٢ - المؤسسات التي تُقدم للمواطن العماني الحقوق الموضحة في الشكل الآتي :



أ - القضائية ب - الأمنية ج - الخدمة د - الدينية

يتبع ٤

(٤)

امتحان الصف: الخامس المادة: الدراسات الاجتماعية الفصل الثاني-الدور: الأول
للعام الدراسي ١٤٤٤ هـ - ٢٠٢٣/٢٠٢٤ م

السؤال الثاني :

١٢

أولاً : أ) اكتب اسم المصطلح الدال على العبارات الآتية:

م	العبرة	المصطلح
١	كتاب أو وثيقة وضعها الرسول صلى الله عليه وسلم، وُضِّح فيها الحقوق والواجبات لسكان المدينة المنورة.
٢	حركة الماء من سطح الأرض إلى الغلاف الجوي ثم عودته مرة أخرى.

ب) عدد اثنين من الفوائد الاقتصادية للموارد الطبيعية:

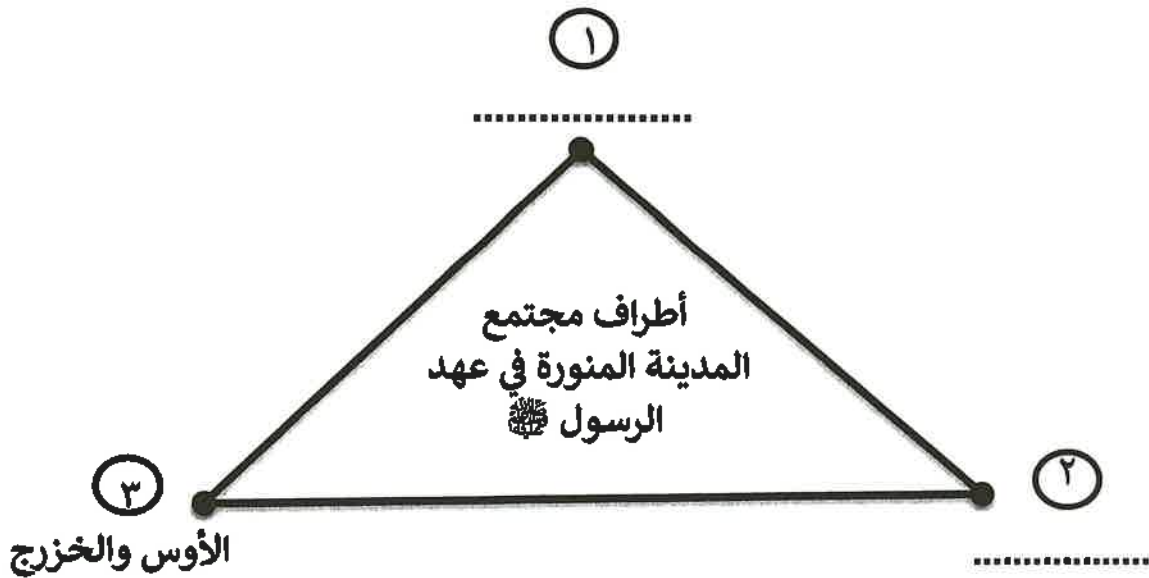
-
-

ج) علل : أقرّ الرسول ﷺ جيفر و عبد أبناء الجلندی على مُلك عُمان .

.....

.....

ثانياً : أ) أكمل المخطط الآتي والذي يوضح أطراف مجتمع المدينة المنورة في عهد الرسول ﷺ.



ب) ما الاسم الذي أطلقه الرسول ﷺ للقبيلتين في الفئة (٣) بعد المؤاخاة بينها؟

(٥)

امتحان الصف: الخامس المادة: الدراسات الاجتماعية الفصل الثاني-الدور: الأول
للعام الدراسي ١٤٤٤ هـ - ٢٠٢٣/٢٠٢٤ م

السؤال الثالث :


أولاً: صنف العبارات التي تمثل أهمية أغلفة كوكب الأرض لما يناسبها:

٨


مصدر للمعادن - مصدر للأكسجين - مصدر للثروة الحيوانية - مصدر للمياه العذبة

الغلاف الجوي	الغلاف الحيوي	الغلاف الصخري	الغلاف المائي
.....

ثانياً: أكمل الشكل الآتي بكتابة الأدوار التي يؤديها المسجد في عهد الرسول ﷺ:



ثالثاً: أمامك شكلان يوضحان بعض مكونات أغلفة كوكب الأرض ، ادرسهما ثم أجب عن التالي:



ما الشكل الذي يوضح التفاعل بين الغلاف الحيوي والصخري؟

أ

اختر الرمز الصحيح

ب

علل إجابتك:

(٦)

امتحان الصف: الخامس المادة: الدراسات الاجتماعية الفصل الثاني-الدور: الأول
للعام الدراسي ١٤٤٤ هـ - ٢٠٢٣/٢٠٢٤ م

لسؤال الرابع :

أولاً : أكتب أرقام ثلاث عبارات صحيحة فقط تنطبق على الجمعية المبين شعارها
في الصورة المقابلة:

(١) تخدم جميع فئات المجتمع

(٢) أنشئت عام ١٩٩٥ م

(٣) تخدم ذوي الإعاقة

(٤) مقرها في صلالة

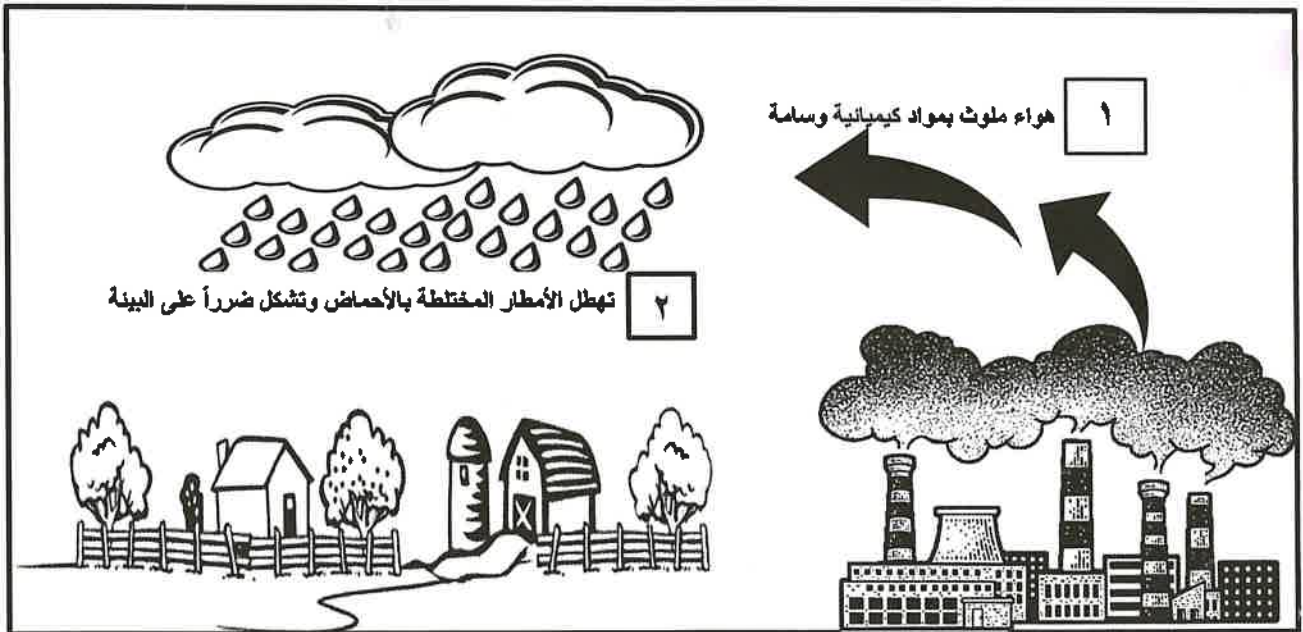
(٥) أنشئت عام ٢٠٠٥ م

(٦) مقرها في مسقط



أرقام العبارات
الصحيحة

ثانياً: أمامك شكل يوضح إحدى المشكلات التي تحدث في أغلفة كوكب الأرض، ادرسه ثم أجب عن
الأسئلة التالية:



١- اسم المشكلة المشار إليها بالرقم (٢):

٢- استخرج سبباً للمشكلة من خلال الرقم (١)

٣- اقترح حلاً واحداً للتقليل من أضرار هذه المشكلة على البيئة:

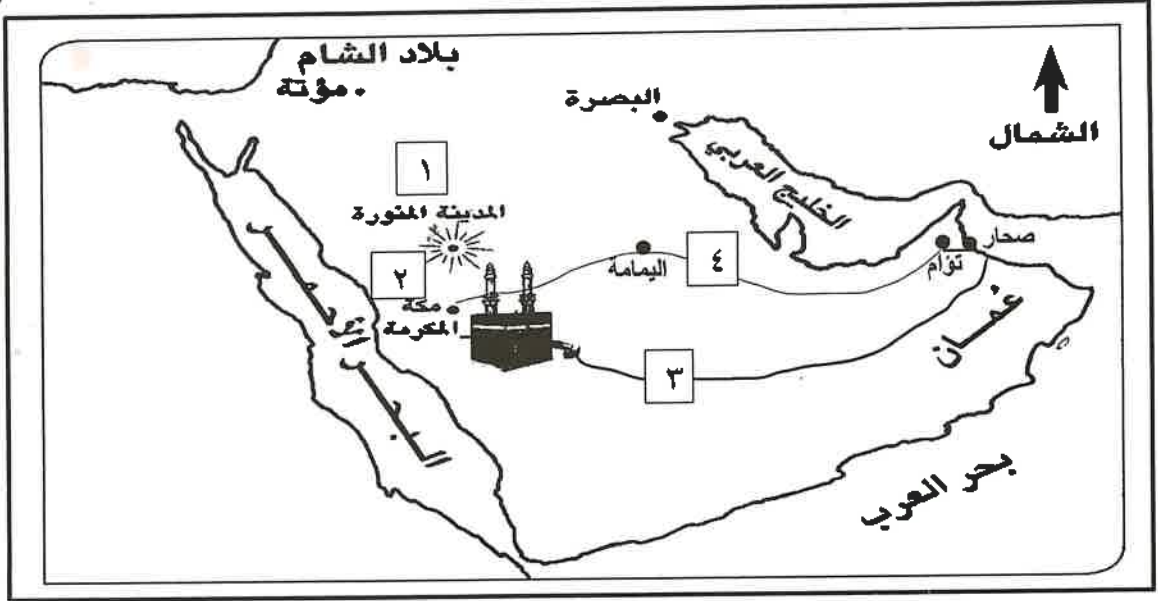
(٧)

امتحان الصف: الخامس المادة: الدراسات الاجتماعية الفصل الثاني-الدور: الأول
للعام الدراسي ١٤٤٤ هـ - ٢٠٢٣/٢٠٢٤ م

٦

السؤال الخامس:

أولاً: استخراج من الخريطة الأرقام التي تُشير إلى ما يلي:



- أ - الرقم الذي يُشير إلى عاصمة الدولة الإسلامية في عهد الرسول.....
ب - الرقم الذي يُشير إلى اسم المدينة التي هاجر منها الرسول ﷺ متجهاً إلى المدينة المنورة.....
ج - الرقم الذي يُشير إلى خط سير عمرو بن العاص لدعوة أهل عمان إلى الإسلام.....

ثانياً: ادرس الصور (١ و ٢) ثم أجب عن الأسئلة الآتية:



٢



١

- أ- ما الواجب الوطني الذي قام به الطالب في الصورة (١)؟.....
ب - ما رأيك في سلوكيات الطالب في الصورة (٢)؟.....
ج- ما النصيحة التي تقدمها للحد من هذا التصرف.....

"انتهت الأسئلة ... كل الأمنيات بالتوفيق والسداد"



سلطنة عُمان
وزارة التربية والتعليم

امتحان مادة الدراسات الاجتماعية
للفيف الخامس الأساسي - الفيف الصباحت
للعام الدراسي 1445هـ - 2024/2023 م
الدور الأول - الفصل الدراسي الثاني

- زمن الامتحان: (ساعة ونصف)
- عدد صفحات أسئلة الامتحان: (5) صفحات.
- الإجابة في الدفتر نفسه.

اسم الطالب		
الصف	المدرسة	

التوقيع بالاسم		الدرجة		السؤال
المصحح الثاني	المصحح الأول	بالأرقام	بالحروف	
				1
				2
				3
				4
				5
مراجعة الجمع	جمعه			المجموع
		40		المجموع الكلي

المراقب (1)	التوقيع	
المراقب (2)	التوقيع	

أجب عن جميع الأسئلة الآتية

السؤال الأول:

12

ضع دائرة حول رمز الإجابة الصحيحة لكل مفردة من المفردات الآتية:

1- الكوكب الذي يحتل المرتبة الثالثة في المجموعة الشمسية:

- أ- عطارد ب- الأرض ج- المريخ د- الزهرة

2- المقر الرئيسي للجمعية العُمانية للأشخاص ذوي الإعاقة:

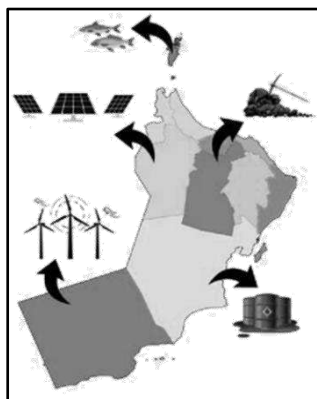
- أ- مسقط ب- الرستاق ج- نزوى د- صحار

3- من المشكلات البيئية في الغلاف الحيوي:

- أ- الأمطار الحمضية ب- تلوث المياه ج- تدهور الغطاء النباتي د- الانهيارات الأرضية

4- أول غزوة في الإسلام:

- أ- أحد ب- تبوك ج- الخندق د- بدر



5- المحافظة التي يتوافر فيها الأسماك حسب الخريطة المقابلة:

- أ- الوسطى ب- مسندم ج- الظاهرة د- الداخلية

6- يطلق على أتباع الرسول صلى الله عليه وسلم الذين هاجروا من مكة إلى المدينة:


- أ- الأنصار ب- المهاجرين ج- الصحابة د- التابعين

7- عدد كواكب المجموعة الشمسية:

- أ- 5 ب- 6 ج- 7 د- 8

8- الكوكب الذي يمثل الشكل المقابل:

- أ- المريخ ب- الأرض ج- المشتري د- زحل



9- العمل الأول الذي قام به الرسول صلى الله عليه وسلم بعد وصوله إلى المدينة المنورة:

- أ- بناء المسجد ب- المؤاخاة ج- الصحيفة د- حماية الدولة

تابع السؤال الأول:

10- اليوم الذي خصته سلطنة عُمان للاحتفال بيوم المرأة العمانية:

د- 17 ديسمبر

ج- 17 نوفمبر

ب- 17 أكتوبر

أ- 17 سبتمبر



11- حق الطفل الذي تمثله الصورة المقابلة:

أ- حماية الطفل من أداء الأعمال الخطرة

ب- تمتع الطفل بالمساواة

ج- حق الطفل في التمتع بمستوى صحي عال

د- حق للطفل في التعبير عن رأيه ومشاعره بحرية

12- شخصية عمانية عرف بالإخلاص والشجاعة ورافق مازن بن غضوبه في رحلته للمدينة المنورة:

أ- أبو صفرة العتكي ب- سلمة بن عباد الأزدي ج- صالح بن المتوكل د- كعب بن برشة الطاحي

8

السؤال الثاني:

أجب عن جميع الأسئلة الآتية:-

1- اكتب أمام كل عبارة المصطلح /المفهوم الذي يعبر عنه فيما يلي:

المصطلح / المفهوم	العبارة
أ-	تجمع عدد كبير من النجوم والسحب والغازات على شكل شريط حلزوني مضيء في السماء.
ب-	كتاب أو وثيقة وضعها الرسول صلى الله عليه وسلم وضح فيها الحقوق والواجبات لسكان المدينة المنورة.
ج-	ما يجب على المواطن القيام به تجاه الدولة والمجتمع وفقا لقانون وثقافة المجتمع.

2- علل لما يأتي:

أ-اهتمام الرسول محمد صلى الله عليه وسلم بتطبيق مبدأ المؤاخاة في مجتمع المدينة المنورة.

.....
.....

ب-سبب البرودة الشديدة على كوكب نبتون.

.....
.....

3- ادرس الشعار التالي ثم اجب عما يلي:

أ-ما اسم الجمعية التي يمثلها الشعار المقابل؟


.....

ب-متى تأسست هذه الجمعية؟

.....

ج-اذكر اختصاص هذه الجمعية؟

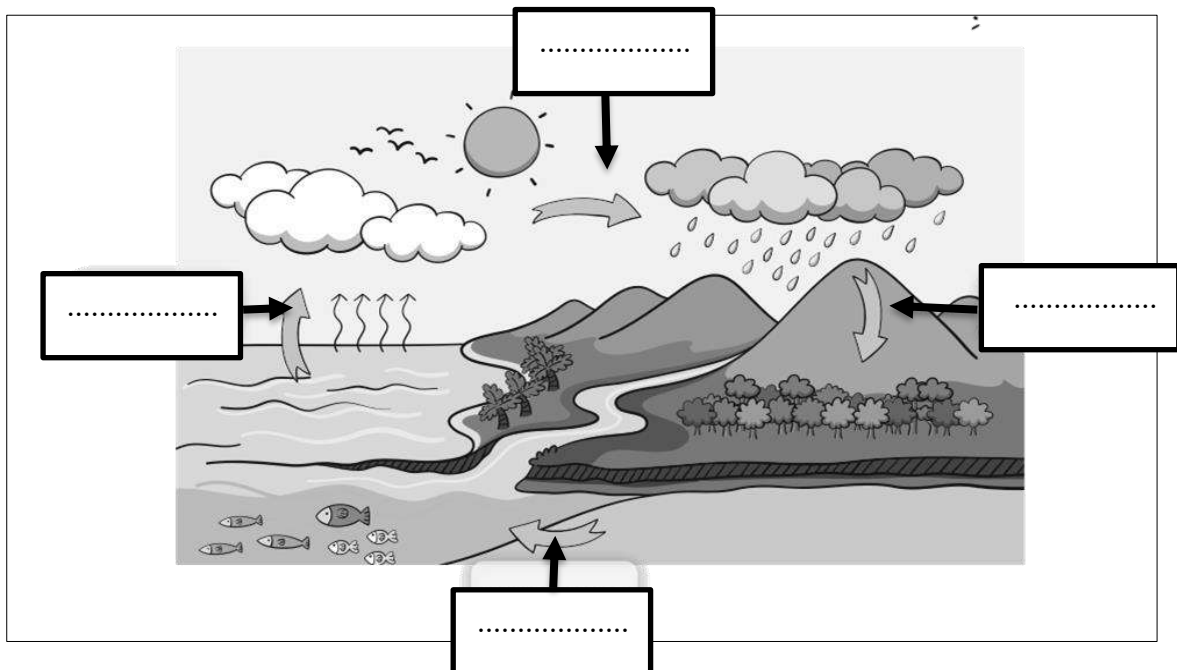
.....



السؤال الثالث:

8

1- يوضح الشكل أدناه مراحل دورة الماء في الطبيعة. أكتب اسم كل مرحلة في مكانها المناسب.



2- اذكر عنصرين لكل مما يلي:

أ- سكان المدينة المنورة في عهد الرسول صلى الله عليه وسلم؟

1- 2-

ب- مكونات الغلاف الحيوي؟

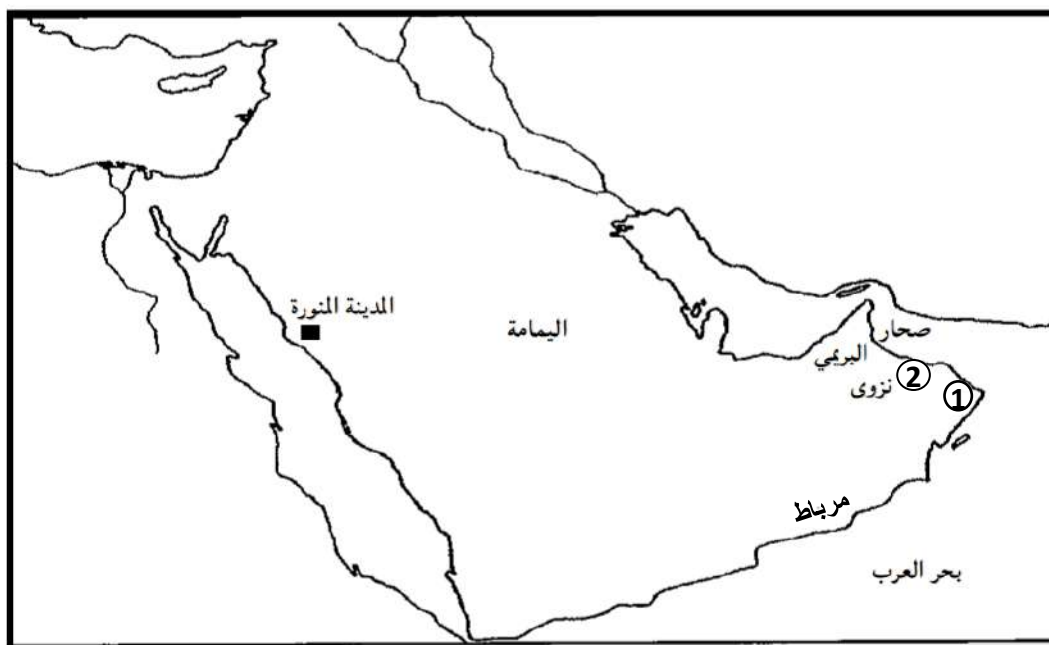
1- 2-

3- صنف العبارات التالية إلى حقوق وواجبات وذلك بوضع إشارة (✓) عند الخيار الصحيح:

العبارات	حقوق	واجبات
أ- إنشاء المدارس والجامعات والمعاهد		
ب- اهتمام الطالب بدروسه والمذاكرة باستمرار		
ج- مشاركة الأسرة في أعمالها		
د- حرية التعبير عن الرأي بما لا يسيء للآخرين		

السؤال الرابع:

1- ادرس خريطة شبه الجزيرة العربية ثم أجب عما يلي:



أ- استخرج من الخريطة:

1- ميناء رئيسي في جنوب عمان وكان له دور مهم في النشاط التجاري

2- رقم المدينة التي ينتمي إليها أول من أسلم من عمان

3- المدينة التي اتخذها الرسول عاصمة للدولة الإسلامية

4- المدينة العمانية التي بني فيها مسجد الشواذنة

ب- اكتب المواقع التالية على الخريطة: (البحر الأحمر - الخليج العربي)

2- صنف الموارد الطبيعية التالية إلى موارد متجددة وموارد غير متجددة:

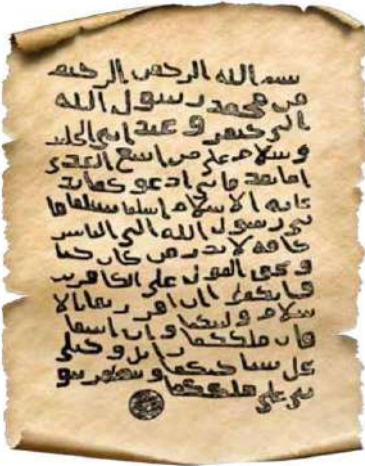
(النفط - الحيوانات - الرياح - الغاز الطبيعي - المياه - الفحم)

الموارد المتجددة	الموارد غير المتجددة

السؤال الخامس:

6

1- أمامك صورة رسالة الرسول صلى الله عليه وسلم لمليكي عمان ادرسها جيداً ثم اجب عما يليها:-
أ- من الذي حمل رسالة الرسول صلى الله عليه وسلم إلى مليكي عمان؟



ب- من كان مليكي عمان في تلك الفترة؟


ج- ماهي المدينة العمانية التي حظيت باستقبال رسالة الرسول صلى الله عليه وسلم؟

2- صنف المؤسسات الوطنية التالية إلى المجال المختصة فيه:

(المؤسسات القضائية - المؤسسات الأمنية - المؤسسات الخدمية)

المجال المختصة فيه	المؤسسات
أ- تقديم الخدمات للمواطنين حسب اختصاصاتها	
ب- حفظ حقوق المواطنين من أي اعتداء أو ضرر	
ج- حفظ الأمن داخل الوطن لينعم المواطن بالرخاء	

3- أمامك صورة لأحد المشكلات البيئية التي تحدث لأحد أغلفة كوكب الأرض. ادرسها جيداً ثم اجب عما يلي:



أ- ما المشكلة البيئية التي تعبر عنها الصورة؟

ب- اكتب تعريفاً للمشكلة؟

ج- سم الغلاف الأرضي التي تحدث فيه هذه المشكلة؟

انتهت الأسئلة مع الدعاء للجميع بالتوفيق والنجاح.



سلطنة عُمان
وزارة التربية والتعليم

امتحان مادة الدراسات الاجتماعية
للفيف الخامس الأساسي - الفيفر المسائية
للعام الدراسي 1445هـ - 2024/2023 م
الدور الأول - الفصل الدراسي الثاني

- زمن الامتحان: (ساعة ونصف)
● الإجابة في الدفتر نفسه.
● عدد صفحات أسئلة الامتحان: (5) صفحات.

			اسم الطالب
	الصف		المدرسة

السؤال	الدرجة		التوقيع بالاسم	
	بالأرقام	بالحروف	المصحح الأول	المصحح الثاني
1				
2				
3				
4				
5				
المجموع			جمعه	مراجعة الجمع
المجموع الكلي	40			

المراقب (1)		التوقيع	
المراقب (2)		التوقيع	

أجب عن جميع الأسئلة الآتية

12

السؤال الأول:

ضع دائرة حول رمز الإجابة الصحيحة لكل مفردة من المفردات الآتية:

1- الكوكب الذي يحتل المرتبة الأولى في المجموعة الشمسية:

- أ- عطارد ب- الأرض ج- المريخ د- الزهرة

2- إذا علمت أن نسبة اليابس 29% على الكرة الأرضية فإن نسبة الماء تشكل:

- أ- 71% ب- 30% ج- 31% د- 32%

3- جميع ما يلي موارد متجددة ما عدا:

- أ- النبات ب- الرياح ج- الشمس د- النفط

4- آخر غزوة شارك فيها الرسول صلى الله عليه وسلم:

- أ- أحد ب- تبوك ج- الخندق د- بدر

5- المفهوم الذي يطلق على دخول المناطق غير المسلمة الإسلام لتصبح جزءاً من الدولة الإسلامية:

- أ- الغزوة ب- الصحيفة ج- الهجرة د- الفتوحات الإسلامية

6- عدد أغلفة كوكب الأرض:

- أ- 2 ب- 3 ج- 4 د- 5

7- العمل الأول الذي قام به الرسول صلى الله عليه وسلم بعد وصوله إلى المدينة المنورة:

- أ- الصحيفة ب- المؤاخاة ج- بناء المسجد د- حماية الدولة

8- شخصية عمانية كان يتحدث الفارسية وقارئاً في الكتب السماوية:

- أ- أبو صفرة العتكي ب- كعب بن برشه الطاحي ج- سلمة بن عباد الأزدي د- صالح بن المتوكل

9- العام الذي انضمت فيه سلطنة عمان إلى اتفاقية حقوق الطفل:

- أ- 1994 ب- 1995 ج- 1996 د- 1997

تابع السؤال الأول:



- 10- حق الطفل الذي تمثله الصورة المقابلة:
 أ- حماية الطفل من أداء الأعمال الخطرة
 ب- تمتع الطفل بالمساواة
 ج- حق الطفل في التمتع بمستوى صحي عال
 د- يحق للطفل التعبير عن رأيه ومشاعره بحرية

- 11- من المشكلات البيئية في الغلاف الحيوي:
 أ- الأمطار الحمضية ب- تلوث المياه ج- تدهور الغطاء النباتي د- الانهيارات الأرضية

- 12- المقر الرئيسي للجمعية الفلكية العمانية للأشخاص ذوي الإعاقة:

- أ- مسقط ب- الرستاق ج- نزوى د- صحار

السؤال الثاني:

أولاً: اكتب أمام كل عبارة المصطلح / المفهوم الذي يعبر عنه فيما يلي:

المصطلح / المفهوم	العبارة
أ-	هي الموارد الموجودة بكميات محدودة في الأرض وتنفذ مع استهلاكها
ب-	الكتب التي أنزلها الله تعالى على الرسل والأنبياء لتكون هداية ورحمة للناس
ج-	ما يحصل عليه المواطن من الدولة والمجتمع وفقاً للقانون وثقافة المجتمع.

ثانياً: علل لما يأتي:

أ- اضطر المسلمون بقيادة الرسول صلى الله عليه وسلم إلى خوض العديد من المعارك.

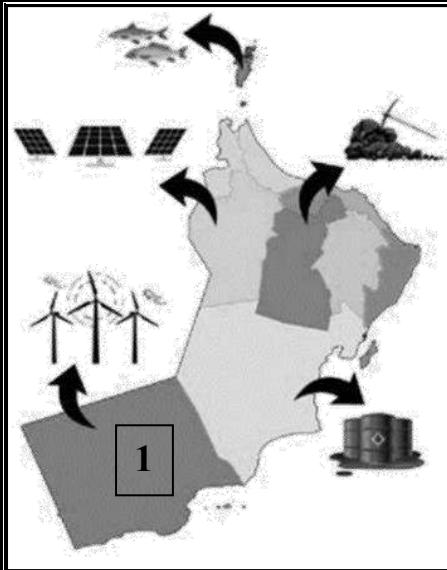
.....

.....

ب- ارتفاع درجة الحرارة على كوكب عطارد.

.....

.....



ثالثاً: ادرس الصورة المقابلة ثم اجب عما يلي:

أ- ما الطاقة المستخدمة في محطة توليد الكهرباء التي يشير إليها الرقم (1)؟

.....

ب- متى تم افتتاح هذه المحطة؟

.....

ج- في أي محافظة توجد هذه المحطة؟

.....

السؤال الثالث:

أولاً: ادرس الصورة التالية ثم اجب عن الأسئلة:

أ- ما اسم الغلاف الذي تشير إليه الصورة المقابلة؟


.....

ب- ما هو المورد الطبيعي الذي توضحه الصورة؟

.....

ج- نوع المورد الطبيعي:

(متجدد - غير متجدد) اختر الإجابة الصحيحة



ثانياً: تأمل الآية الكريمة ثم اجب عما يلي:

قال الله تعالى "إذن للذين يقاتلون بأنهم ظلموا وإن الله لنصرهم لقدير"

أ- ما الأمر الذي أذن الله تعالى للمسلمين القيام به؟

.....

ب- اذكر الوعد الذي وعده الله تعالى عباده المسلمين؟

.....

ثالثاً: صنف الموارد الطبيعية التالية إلى موارد متجددة وموارد غير متجددة:

(النفط - الحيوانات - الرياح - الغاز الطبيعي - المياه - الفحم)

الموارد المتجددة	الموارد غير المتجددة

السؤال الخامس:

6

أولاً: أقرأ النص التالي ثم اجب عما يلي:

"خرجت أسرة لقضاء وقت ممتع في إحدى الحدائق العامة في سلطنة عمان وفي أثناء جلوسهم قام الأطفال بقطف الأزهار"

أ- ما رأيك في السلوك الذي قام به الأطفال؟ ولماذا؟

ب- اكتب نصيحة تقدمها لهؤلاء الأطفال؟

ثانياً: صنف المؤسسات الوطنية التالية إلى المجال المختصة فيه:

(المؤسسات القضائية - المؤسسات الأمنية - المؤسسات الخدمية)

المؤسسات	المجال المختصة فيه
	أ- تقديم الخدمات للمواطنين حسب اختصاصاتها
	ب- حفظ حقوق المواطنين من أي اعتداء أو ضرر

ثالثاً: أمامك صورة لإحدى المشكلات البيئية التي تحدث لأحد أغلفة كوكب الأرض. ادرسها جيداً ثم اجب عما يلي:



أ- ما المشكلة البيئية التي تعبر عنها الصورة؟

ب- سم الغلاف الأرضي التي تحدث فيه هذه المشكلة؟

انتهت الأسئلة مع الدعاء للجميع بالتوفيق والنجاح.



سلطنة عُمان
وزارة التربية والتعليم

امتحان مادة الدراسات الاجتماعية
للفف الخامس الأساسي
للعام الدراسي 1445هـ - 2024/2023 م
الدور الثاني - الفصل الدراسي الثاني

- زمن الامتحان: (ساعة ونصف)
- عدد صفحات أسئلة الامتحان: (5) صفحات.
- الإجابة في الدفتر نفسه.

			اسم الطالب
	الصف		المدرسة

التوقيع بالاسم		الدرجة		السؤال
المصحح الثاني	المصحح الأول	بالحروف	بالأرقام	
				1
				2
				3
				4
				5
مراجعة الجمع	جمعه			المجموع
			40	المجموع الكلي

	التوقيع		المراقب (1)
	التوقيع		المراقب (2)

أجب عن جميع الأسئلة الآتية

12

السؤال الأول:

ضع دائرة حول رمز الإجابة الصحيحة لكل مفردة من المفردات الآتية:

1- عدد كواكب المجموعة الشمسية:

- أ- 5 ب- 6 ج- 7 د- 8

2- إذا علمت أن نسبة الماء 71% على الكرة الأرضية فإن نسبة اليابس تشكل:

- أ- 29% ب- 30% ج- 31% د- 32%

3- الكوكب الذي يتميز بوجود الحياة عليه:

- أ- المشتري ب- الأرض ج- زحل د- نبتون


4- الغلاف الأرضي الذي تحدث فيه مشكلة الأمطار الحمضية:

- أ- الصخري ب- الجوي ج- المائي د- الحيوي


5- الصورة التي تمثل مورد طبيعي غير متجدد:



د-



ج-



ب-



أ-

6- عاصمة الدولة الإسلامية في عهد الرسول صلى الله عليه وسلم:

- أ- المدينة المنورة ب- مكة المكرمة ج- اليمامة د- تبوك

7- أول غزوة في الإسلام خاضها المسلمون وانتصروا فيها:

- أ- أحد ب- تبوك ج- بدر د- الخندق

8- الصحابي الذي حمل رسالة الرسول صلى الله عليه وسلم إلى ملكي عمان ليدعوهم للإسلام كما موضح في

الصورة:



أ- عمرو بن العاص ب- مازن بن غضوبة

ج- صحرار بن العباس د- المهلب بن أبي صفرة

9- المقر الرئيسي لجمعية الأشخاص ذوي الإعاقة:

- أ- صحرار ب- نزوى ج- الرستاق د- مسقط

تابع السؤال الأول:

9- المقر الرئيسي لجمعية الأشخاص ذوي الإعاقة:

أ- صحرار ب- نزوى ج- الرستاق د- مسقط

10- مؤسسة وطنية تعمل على حفظ الأمن داخل الوطن:

أ- القضائية ب- الخدمية ج- الأمنية د- التعليمية

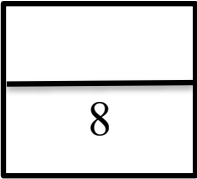
11- شخصية عمانية كان مستشارا لملي عمان عبد وجيفر:

أ- كعب بن برشه الطاحي ب- أبوصفرة العتكي ج- سلمة بن عباد الازدي د- صالح بن المتوكل



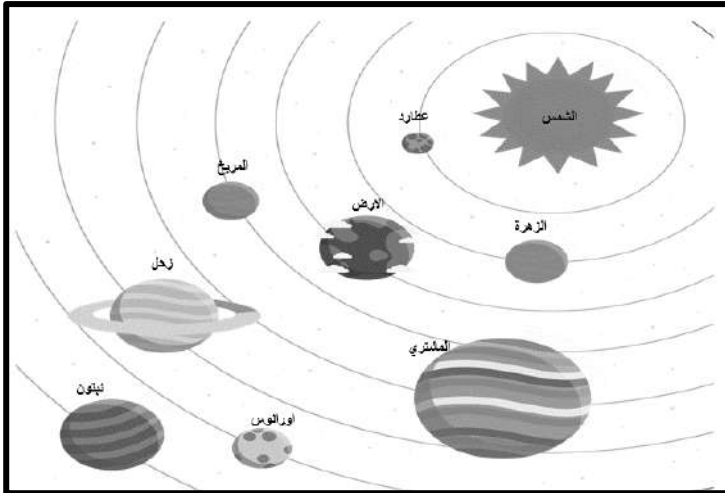
12- حق الطفل الذي تمثله الصورة المقابلة:

أ- حماية الأطفال من أداء الأعمال الخطرة
ب- تمتع الأشخاص ذوي الإعاقة بحياة كريمة
ج- حق الطفل في التمتع بمستوى صحي عالي
د- يحق للطفل التعبير عن رأيه ومشاعره بحرية



السؤال الثاني:

أولاً: ادرس الشكل جيداً ثم أجب عما يلي:



أ- الكوكب الأقرب إلى الشمس

(-----)

ب- أكبر كوكب في المجموعة الشمسية

(-----)

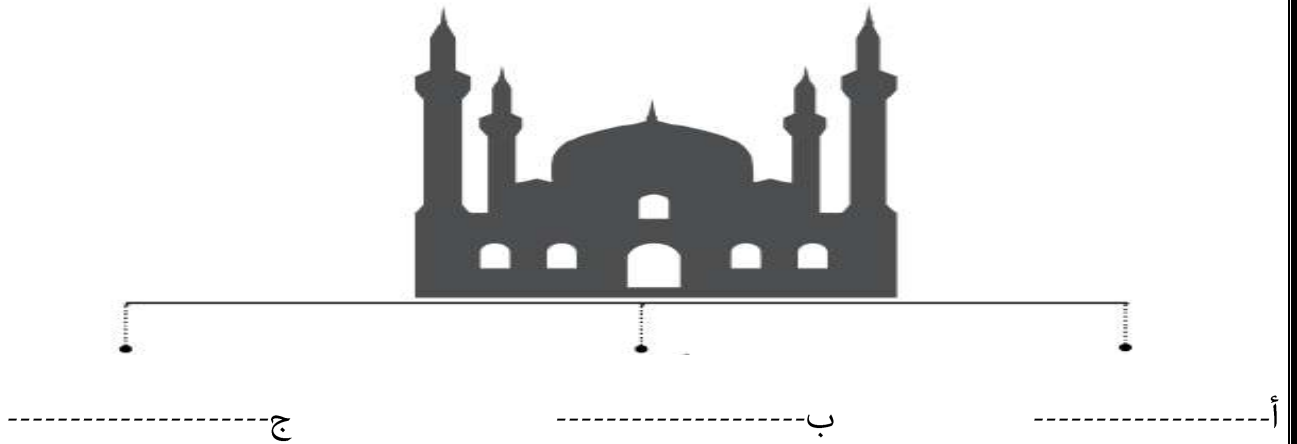
ج- الكوكب الذي يتميز بحلقات حوله

(-----)

ثانياً: صنف العبارات التالية الى حقوق وواجبات وذلك بوضع اشارة (✓) عند الخيار الصحيح:

العبارات	حقوق	واجبات
أ- الرعاية الصحية		
ب- احترام العادات والتقاليد		
ج- الالتزام بالأخلاق الحسنة		
د- التعليم		

ثالثاً: أكمل مخطط أدوار المسجد في عهد الرسول صلى الله عليه وسلم:



السؤال الثالث:

أولاً: ادرس الصورة التالية ثم أجب عن الأسئلة:

أ- ما اسم الغلاف الذي تشير إليه الصورة التالية؟

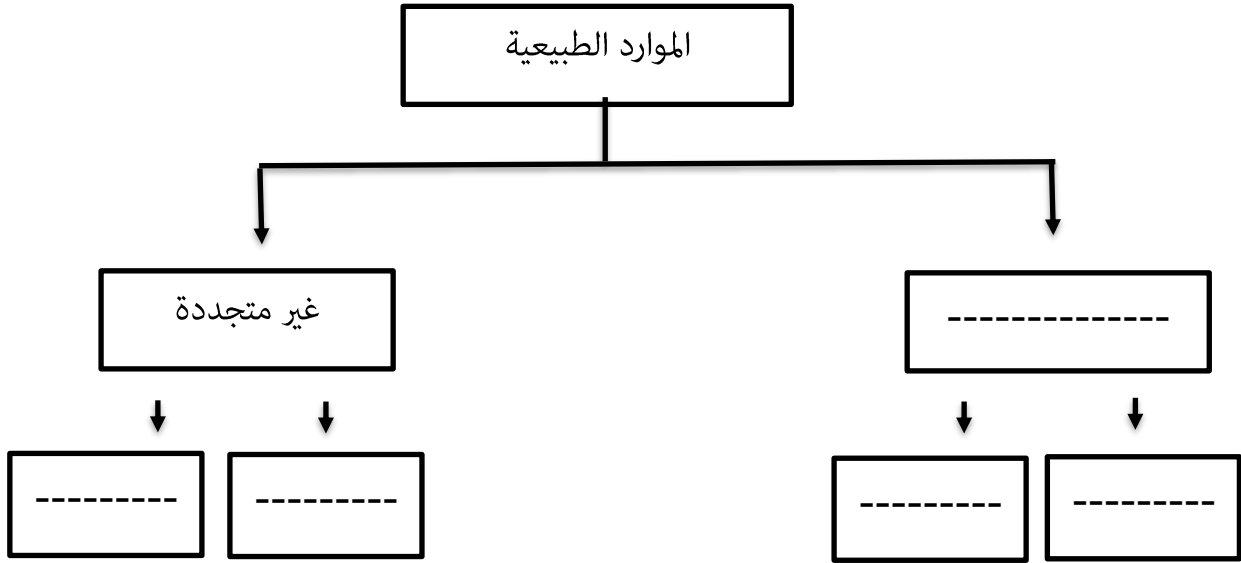
ب- ما هو المورد الطبيعي الذي توضحه الصورة؟

ج- نوع المورد الطبيعي:

(متجدد - غير متجدد) اختر الإجابة الصحيحة



ثانياً: أكمل الخريطة المفاهيمية التالية:



ثالثاً: تأمل الآية الكريمة ثم اجب عما يلي:

قال الله تعالى "إذن للذين يقاتلون بأنهم ظلموا وإن الله لنصرهم لقدير"
أ- ما الأمر الذي أذن الله تعالى للمسلمين القيام به؟

ب- اذكر الوعد الذي وعده الله تعالى عباده المسلمين؟

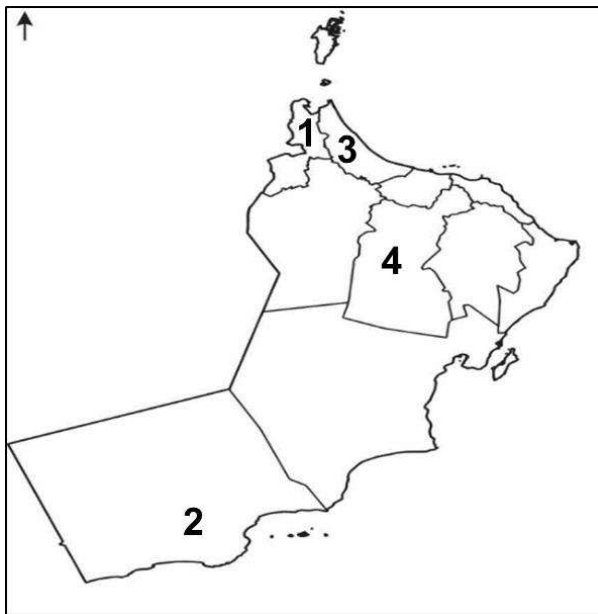
السؤال الرابع:

أولاً: أمامك خريطة سلطنة عمان ادرسها جيداً ثم أجب عن الآتي:

أ- ما اسم الميناء الرئيسي في جنوب عمان
والمشار اليه بالرقم (2)؟

ب- ما اسم المدينة العمانية التي يشير اليها
الرقم (1) والتي سميت قديماً باسم (توأم)؟

ج- اكتب على الخريطة موقع: بحر عمان



ثانياً: صنف المدن العمانية التالية الى المجالات التي اشتهرت بها عند ظهور الإسلام:
(صحار - سمائل - مرباط - البريمي)

المجالات	المدن
ا-ينتمي اليها اول من أسلم من اهل عمان ولها دور في انتشار الإسلام في عمان	
ب-كانت عاصمة عمان وهناك وصلت رسالة الرسول صلى الله عليه وسلم	

ثالثاً: بصفتك مواطن صالح اكتب واجبك تجاه ما يلي:
أ-النشيد السلطاني

ب-الممتلكات العامة

السؤال الخامس:

6

أولاً: أقرأ النص التالي ثم اجب عما يلي:
"خرجت أسرة لقضاء وقت ممتع في احدى الشواطئ في سلطنة عمان وفي اثناء جلوسهم قام الأطفال برمي الأوساخ على الأرض"
أ-ما رأيك في السلوك الذي قام به الأطفال ولماذا؟

ب-اكتب نصيحة تقدمها لهؤلاء الأطفال؟

ثانياً: عرف المقصود بكل من:

أ-الموارد الطبيعية

ب-الصحيفة

ثالثاً: عدد اثنين من عناصر الغلاف الحيوي؟

أ-

ب-

انتهت الأسئلة مع الدعاء للجميع بالتوفيق والنجاح.



المديرية العامة للتربية والتعليم بمحافظة ظفار

امتحان مادة: الدراسات الاجتماعية

الصف: الخامس

للعام الدراسي ١٤٤٥ هـ - ٢٠٢٣/٢٠٢٤ م

الدور الأول - الفصل الدراسي الثاني

صباحي

- زمن الامتحان: (ساعة ونصف) ● عدد صفحات أسئلة الامتحان: (٦) صفحات.
- الإجابة في الدفتر نفسه.

اسم الطالب		
الصف	المدرسة	

الدرجة		التوقيع بالاسم		السؤال
بالأرقام	بالحروف	المصحح الأول	المصحح الثاني	
				١
				٢
				٣
				٤
				٥
		جمعه	مراجعة الجمع	المجموع
				المجموع الكلي

(١)

المادة: الدراسات الاجتماعية - الصف: الخامس - الدور الأول
امتحان نهاية الفصل الدراسي الثاني ١٤٤٥ هـ / ٢٠٢٣ م - ٢٠٢٤ م
أجب عن جميع الأسئلة الآتية

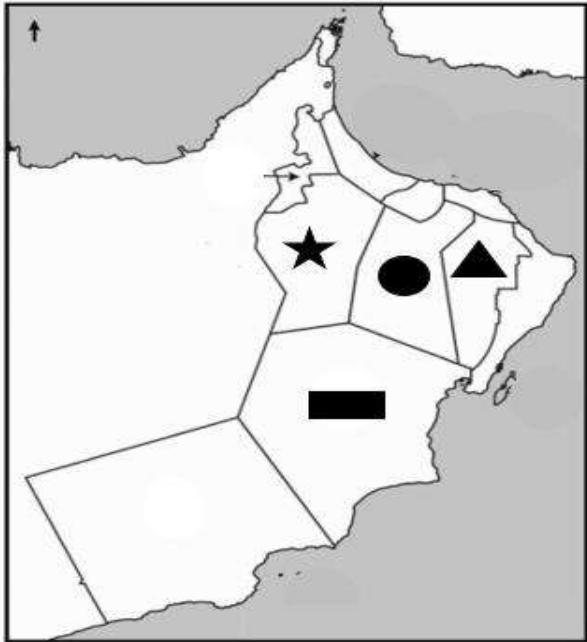
السؤال الأول: ضع دائرة حول رمز الإجابة الصحيحة لكل مفردة من المفردات الآتية: (١٢ درجة)

- ١- أكبر كواكب المجموعة الشمسية حجماً كوكب:
أ - عطارد ب- الزهرة ج - الأرض د- المشتري
- ٢- العام الميلادي الذي تأسست فيه الجمعية الفلكية العمانية:
أ - ٢٠٠٧ ب- ٢٠٠٨ ج - ٢٠٠٩ د- ٢٠١٠



٣- تشير الصورة التي أمامك إلى أحد مشكلات الغلاف:

- أ - الصخري ب- المائي
ج -الجوى د- الحيوي



٤- رمز المحافظة التي تشتهر بإنتاج النفط:

- أ - ▲
ب- ●
ج - ■
د- ★

٥- من الموارد المتجددة التي تحتاج إلى فترة زمنية طويلة لكي تتجدد:

- أ - التربة ب- الثروة الحيوانية ج - المياه الجوفية د- الثروة السمكية

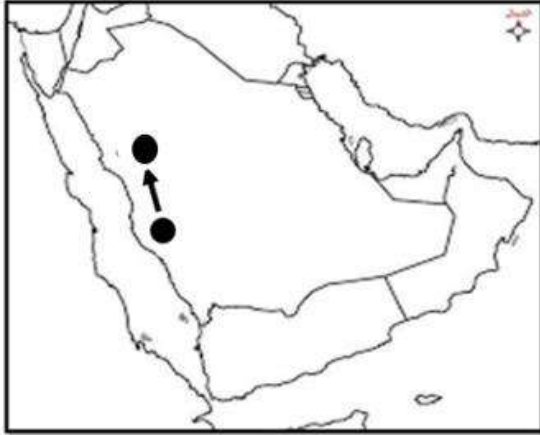
(٢)

المادة: الدراسات الاجتماعية - الصف: الخامس - الدور الأول
امتحان نهاية الفصل الدراسي الثاني ١٤٤٥ هـ / ٢٠٢٣ م - ٢٠٢٤ م

٦- أول غزوة خاضها المسلمون وانتصروا فيها:

- أ - غزوة تبوك ب- غزوة أحد ج - غزوة الخندق د- غزوة بدر

٧- الاتجاه الذي سلكه الرسول ﷺ وأصحابه في هجرتهم من مكة إلى المدينة:



أ - الشمال

ب- الجنوب

ج - الشرق

د- الغرب

٨ - أول مسجد بُني في عُمان:

- أ - الشواذنة ب- سعال ج - المضمار د- النصر

٩- تشير الصفات الواردة في النص أمامك إلى أحد الشخصيات العمانية التي عاصرت

الرسول ﷺ وهو:

- أ - كعب بن برشه الطاحي
ب- أبو صفرة العتكي
ج - سلمة بن عياذ الأزدي
د- صالح بن المتوكل

الأعمال: كَانَ مُسْتَشَارًا لِمَلِكِي عُمَانَ جَيْفَرٍ وَعَبْدٍ، وَقَدْ اسْتَشَارَهُ
عِنْدَمَا وَصَلَتْهُمَا رِسَالَةُ الرَّسُولِ عَلَيْهِ السَّلَامُ، فَصَدَّقَ عَلَى نَبْوَةِ
سَيِّدِنَا مُحَمَّدٍ ﷺ، وَأَسْلَمَ عَلَى يَدِ الرَّسُولِ ﷺ.
الصفات: كَانَ يَتَحَدَّثُ الْفَارَسِيَّةَ، وَقَارَأَ فِي الْكُتُبِ السَّمَاوِيَّةِ.

١٠- من حقوق المواطن التي نص عليها النظام الأساسي للدولة:

- أ - احترام العادات والتقاليد
ب- الرعاية الصحية
ج - الالتزام بالأخلاق الحسنة
د- مشاركة الأسرة في أعمالها



١١ - المقر الرئيسي للجمعية الواضحة أمامك في الصورة:

- أ - محافظة الظاهرة
ب- محافظة البريمي
ج - محافظة مسقط
د- محافظة الداخلية

١٢ - اتفاقية (سيداو) تختص بحقوق:

- أ - الطفل ب- المرأة ج - ذوي الإعاقة د) العمال

(٣)

المادة: الدراسات الاجتماعية - الصف: الخامس - الدور الأول
امتحان نهاية الفصل الدراسي الثاني ١٤٤٥ هـ / ٢٠٢٣ م - ٢٠٢٤ م

(٨ درجات)

السؤال الثاني: - أجب عن الأسئلة الآتية

أولاً: - أمامك مجموعة من الصور التي توضح بعض المشكلات البيئية الناجمة عن الممارسة الخاطئة للإنسان ، استعن بها ثم أجب عن الأسئلة التي تليها .


الغلاف الحيوي	الغلاف المائي	الغلاف الصخري
		

- ١- المشكلة البيئية الواضحة أمامك في الغلاف الصخري هي
- ٢- المشكلة البيئية الواضحة أمامك في الغلاف الحيوي هي

ثانياً:-

صنف الموارد الطبيعية الآتية حسب استمراريته إلى موارد طبيعية متجددة وغير متجددة.
" النفط - طاقة الرياح - طاقة الشمس - الفحم "

موارد طبيعية غير متجددة	موارد طبيعية متجددة
.....



ثالثاً: ادرس الشكل الذي أمامك ثم أجب عما يلي:

- ١- صف علاقة التفاعل بين الغلاف الحيوي والغلاف الصخري.

.....
.....

- ٢- اقترح حلاً واحداً للوقاية من الأمطار الحمضية.

.....

(٤)

المادة: الدراسات الاجتماعية - الصف: الخامس - الدور الأول
امتحان نهاية الفصل الدراسي الثاني ١٤٤٥ هـ / ٢٠٢٣ م - ٢٠٢٤ م

(٨ درجات)

السؤال الثالث :- أجب عن الأسئلة الآتية :

أولاً: " تأمل الصور الآتية و التي توضح الأهمية الاقتصادية للموارد الطبيعية ، ثم اكتب أسفل كل صورة الأهمية التي تمثلها " .

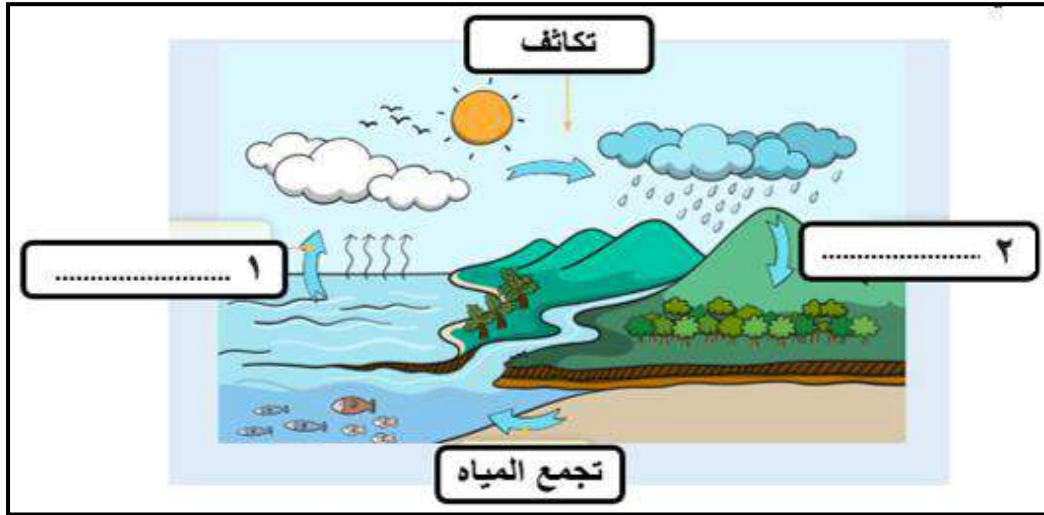


..... (٢)

..... (١)

ثانياً :- (أ)

يوضح الشكل الذي أمامك مراحل دورة المياه في الطبيعة اكتب اسم كل مرحلة في مكانها المناسب:



(ب) علل ما يأتي :-

١- انخفاض درجات الحرارة والبرودة الشديدة على كوكب نبتون .

.....

٢- انضمام سلطنة عمان إلى اتفاقية حقوق الطفل.

.....

ثالثاً: - دلل على:

١- كان للمسجد في عهد الرسول محمد ﷺ أدوار مهمة غير كونه مكاناً للعبادة.

.....

٢- المؤاخاة التي قام بها الرسول محمد ﷺ في المدينة المنورة.

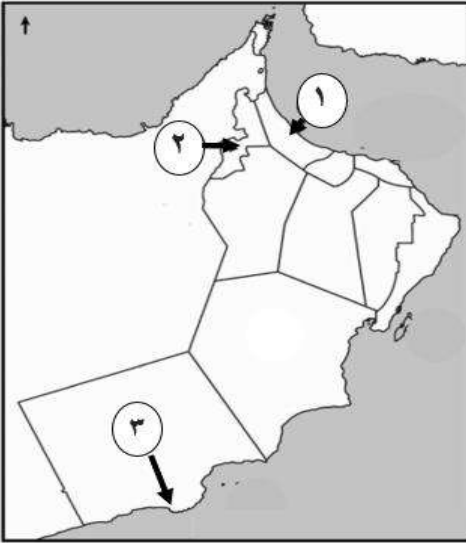
.....

(٥)

المادة: الدراسات الاجتماعية - الصف: الخامس - الدور الأول
امتحان نهاية الفصل الدراسي الثاني ١٤٤٥ هـ / ٢٠٢٣ م - ٢٠٢٤ م

السؤال الرابع: - أجب عن الأسئلة الآتية:
اولاً: - اكتب اسم الشخصية مقابل العبارات في الجدول الآتي :

م	الشخصية	الأعمال
١-	رافق الصحابي مازن بن غضوبة في رحلته إلى المدينة المنورة ، والتقى بالرسول ﷺ وشارك في الفتوحات الاسلامية .
٢-	كان في الوفد الذي ذهب إلى المدينة المنورة في عهد أبي بكر الصديق رضى الله عنه، كما شارك في الفتوحات الاسلامية .



ثانياً :-

ادرس الخريطة التي أمامك، ثم اجب عن الأسئلة التي تليها:

أ- ما اسم المدينة التي كانت عاصمة عُمان، والمشار

اليها بالرقم (١) (.....)

ب - استنتج سبب شهرة المدينة المشار اليها بالرقم (٢)

.....
.....

ثالثاً :- "تقوم اللجنة العمانية لحقوق الانسان بمتابعة أوضاع حقوق الانسان من خلال

عمليتي الرصد وتلقى البلاغات "

في ضوء العبارة السابقة، أجب عن الأسئلة الآتية.

١ - استخلص الطرق التي اعتمدت عليها اللجنة في متابعة أوضاع حقوق الانسان.

٢ - دلل على اهتمام سلطنة عمان بالإحتفاء وتكريم المرأة العمانية سنوياً.

.....
يتبع ٦

(٦)

المادة: الدراسات الاجتماعية - الصف: الخامس - الدور الأول
امتحان نهاية الفصل الدراسي الثاني ١٤٤٥ هـ / ٢٠٢٣ م - ٢٠٢٤ م

(٦ درجات)

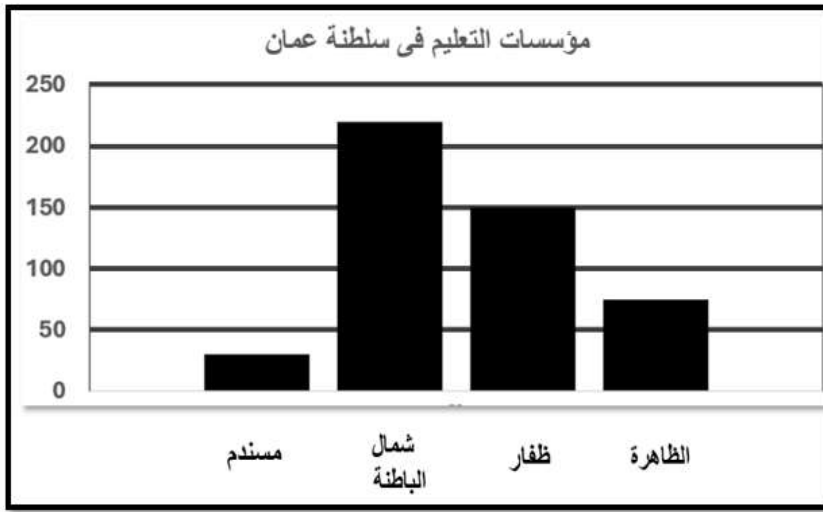
السؤال الخامس: - أجب عن الأسئلة الآتية:

أولاً: -

أ- عرف (الكتب السماوية) .

ب - اذكر اثنين من الأدوار المهمة التي قام بها عدد من الشخصيات العمانية التي عاصرت الرسول ﷺ .

ثانياً: - ادرس الشكل الذي أمامك ثم اجب عما يلي:



أ- يمثل الشكل المقابل: -

واجبات ☐

(اختر الإجابة الصحيحة)

حقوق ☐

ب- اذكر المحافظة العمانية التي يزيد فيها عدد المؤسسات التعليمية

عن ٢٠٠ مؤسسة (.....)

ثالثاً :- صنف المؤسسات الوطنية التالية إلى المجال المختصة فيه .

(المؤسسات الأمنية - المؤسسات الخدمية)

المؤسسات	المجال المختصة فيه
١-.....	تقديم الخدمات للمواطنين حسب اختصاصها
٢-.....	حفظ الامن داخل الوطن لينعم المواطن بالرخاء

" انتهت الأسئلة مع الدعاء للجميع بالتوفيق "

المديرية العامة للتربية والتعليم بمحافظة ظفار
نموذج إجابة امتحان الصف الخامس - لمادة الدراسات الاجتماعية
 للعام الدراسي - ١٤٤٥ هـ / ٢٠٢٣ / ٢٠٢٤ م
 الدور الاول - الفصل الدراسي الثاني " صباحي "

المادة: الدراسات الاجتماعية
 تنبيهه: نموذج الإجابة في (٥) صفحات.
 الدرجة الكلية: (٤٠) درجة.

أولاً: إجابة السؤال الموضوعي:

إجابة السؤال الأول						
المفردة	البديل الصحيح	الإجابة	الدرجة	الوحدة	الصفحة	مستويات التعلم
١	د	المشتري	درجة	الأولى	١٩-١٨	معرفي
٢	ب	٢٠٠٨	درجة	الأولى	٢٠	معرفي
٣	ب	المائي	درجة	الأولى	٣١	فهم وتطبيق
٤	ج		درجة	الأولى	٣٨	فهم وتطبيق
٥	أ	التربة	درجة	الأولى	٣٧	قدرات عليا
٦	د	غزوة بدر	درجة	الثانية	٥٦	معرفي
٧	أ	الشمال	درجة	الثانية	٥٢	فهم وتطبيق
٨	ج	المضمار	درجة	الثانية	٦٣	معرفي
٩	أ	كعب بن برشه الطاحي	درجة	الثانية	٦٨	قدرات عليا
١٠	ب	الرعاية الصحية	درجة	الثالثة	٨١	معرفي
١١	ج	محافظة مسقط	درجة	الثالثة	٩٢	فهم وتطبيق
١٢	ب	المرأة	درجة	الثالثة	٩٥	معرفي
المجموع			١٢ درجة			

(٢)

تابع نموذج إجابة امتحان الصف الخامس
للعام الدراسي ١٤٤٥ هـ / ٢٠٢٣ / ٢٠٢٤ م
الدور الأول- الفصل الدراسي الثاني - المادة: الدراسات الاجتماعية

إجابة السؤال الثاني										
الجزئية	المفردة	الإجابة	الدرجة	الوحدة	الصفحة	مستويات التعلم				
أولاً	١	الانهيارات الأرضية	درجة	الأولى	٣١	معرفي				
	٢	- تدهور الغطاء النباتي - قطع الأشجار	درجة	الأولى	٣١	معرفي				
ثانياً	<table><tr><td>موارد طبيعية متجددة</td><td>موارد طبيعية غير متجددة</td></tr><tr><td>طاقة الرياح طاقة الشمس</td><td>النفط الفحم</td></tr></table>		موارد طبيعية متجددة	موارد طبيعية غير متجددة	طاقة الرياح طاقة الشمس	النفط الفحم	٤ درجات لكل مفردة درجة	الأولى	٣٦	فهم وتطبيق
موارد طبيعية متجددة	موارد طبيعية غير متجددة									
طاقة الرياح طاقة الشمس	النفط الفحم									
ثالثاً	١	تمتص جذور النباتات (الغلاف الحيوي) المعادن الموجودة في التربة (الغلاف الصخري) لتساعدها على النمو	درجة	الأولى	٢٩	قدرات عليا				
	٢	- التقليل من الانبعاثات الملوثة للهواء -استخدام الطاقة الشمسية وطاقة الرياح <u>تراعى إجابة الطالب بما يفيد المعنى</u>	درجة	الأولى	٣١	قدرات عليا				
المجموع			٨ درجات							

(٣)

تابع نموذج إجابة امتحان الصف الخامس

للعام الدراسي ١٤٤٥ هـ / ٢٠٢٣ / ٢٠٢٤ م

الدور الأول- الفصل الدراسي الثاني - المادة: الدراسات الاجتماعية

تابع ثانيا: إجابة الأسئلة المقالية:

إجابة السؤال الثالث						
الجزئية	المفردة	الإجابة	الدرجة	الوحدة	الصفحة	مستويات التعلم
أولاً	١	إنتاج الغذاء	درجة	الأولى	٣٩	معرفي
	٢	مصد للدخل	درجة	الأولى	٣٩	معرفي
ثانياً	أ	١- التبخر ٢- التساقط	درجتان لكل مفردة درجة	الأولى	٢٣	فهم وتطبيق
	ب	١- بسبب المسافة البعيدة بينه وبين الشمس - بسبب بعده عن دفء وحرارة الشمس حيث تقدر المسافة بمليارات الكيلومترات <u>تراعى إجابة الطالب</u> ٢- لضمان توفير حقوقهم كاملة، وحمايتهم من أي ضرر قد يلحق بهم	درجتان لكل مفردة درجة	الأولى	١٩	فهم وتطبيق فهم وتطبيق
	١- ٢-	كان المسجد:- - مكان لاستقبال الوفود - مقر للقيادة - مكان الاجتماعات <u>يكتفى باثنين</u> عمل الرسول صلى الله عليه وسلم على - المؤاخاة بين قبيلتي الأوس والخزرج - المؤاخاة بين المهاجرين والانصار <u>يكتفى بواحدة</u>	درجة	الثانية	٥٣	قدرات عليا
ثالثاً	٢-		درجة	الثانية	٥٤	قدرات عليا
			٨ درجات	المجموع		

(٤)

تابع نموذج إجابة امتحان الصف الخامس
للعام الدراسي ١٤٤٥ هـ / ٢٠٢٣ / ٢٠٢٤ م
الدور الأول- الفصل الدراسي الثاني - المادة: الدراسات الاجتماعية
تابع ثانيا: إجابة الأسئلة المقالية:

إجابة السؤال الرابع						
الجزئية	المفردة	الإجابة	الدرجة	الوحدة	الصفحة	مستويات التعلم
أولا	١-	صالح المتوكل	درجة	الثانية	٧٠	معرفي
	٢-	أبو صفرة العتكي	درجة	الثانية	٦٩	معرفي
ثانيا	أ-	صحار	درجة	الثانية	٦٥	فهم وتطبيق
	ب-	سميت قديما بتوأم أو توام وهي واحة زراعية تقع على طرق التجارة البرية التي تربط عمان بشبه الجزيرة العربية	درجة	الثانية	٦٥	فهم وتطبيق
ثالثا	١-	الرصد وتلقى البلاغات	درجة	الثالثة	٩٠	قدرات عليا
	٢-	خصصت سلطنة عمان ١٧ أكتوبر من كل عام يوما للمرأة العمانية للاحتفاء بها.	درجة	الثالثة	٩٥	قدرات عليا
المجموع			٦ درجات			

(٥)

تابع نموذج إجابة امتحان الصف الخامس

للعام الدراسي ١٤٤٥ هـ / ٢٠٢٣ / ٢٠٢٤ م

الدور الأول- الفصل الدراسي الثاني - المادة: الدراسات الاجتماعية

تابع ثانيا: إجابة الأسئلة المقالية:

إجابة السؤال الخامس						
الجزئية	المفردة	الإجابة	الدرجة	الوحدة	الصفحة	مستويات التعلم
أولا	أ	الكتب التي أنزلها الله على الرسل والأنبياء لتكون هداية ورحمة للناس مثل "التوراة والانجيل والقرآن الكريم"	درجة	الثانية	٦٨	معرفي
	ب	- اسبقيتهم في اعتناق الإسلام - درو العُمانيين في نشر الإسلام - مشاركة العُمانيين في الفتوحات الإسلامية <u>يكتفى بوحدة</u>	درجة	الثانية	٦٨	معرفي
ثانيا	أ	حقوق	درجة	الثالثة	٨١	معرفي
	ب	محافظة شمال الباطنة	درجة	الثالثة	٨١	معرفي
ثالثا	١-	المؤسسات الخدمية	درجة	الثالثة	٩٠	فهم وتطبيق
	٢-	المؤسسات الأمنية	درجة	الثالثة	٩٠	فهم وتطبيق
المجموع			٦ درجات			

نهاية نموذج الإجابة



امتحان مادة : الدراسات الاجتماعية

للف : الخامس

للعام الدراسي ١٤٤٥هـ - ٢٠٢٣/٢٠٢٤م

الدور الثاني - الفصل الدراسي الثاني

- زمن الامتحان : (ساعة ونصف) ● عدد صفحات أسئلة الامتحان: (٦) صفحات.
- الإجابة في الدفتر نفسه .

اسم الطالب		
المدرسة	الصف	

السؤال	الدرجة		التوقيع بالاسم	
	بالأرقام	بالحروف	المصحح الأول	المصحح الثاني
١				
٢				
٣				
٤				
٥				
المجموع			جمعه	مراجعة الجمع
المجموع الكلي				

أجب عن جميع الأسئلة الآتية

السؤال الأول: ضع دائرة حول رمز الإجابة الصحيحة لكل مفردة من المفردات الآتية: (١٢ درجة)

١- تأسست الجمعية الفلكية العمانية عام :

أ - ٢٠٠٧ م ب - ٢٠٠٨ م ج - ٢٠٠٩ م د - ٢٠١٠ م

٢- "حركة الماء من سطح الأرض الى الغلاف الجوي ، ثم عودته مرة أخرى " يقصد به:

أ - الموارد الطبيعية ب - الجريان السطحي ج - دورة الماء في الطبيعة د - التساقط

٣- جميع ما يلي من الموارد الطبيعية في الغلاف الصخري ، ماعدا :

أ - المعادن ب - مصادر الطاقة ج - التربة د - الاكسجين

٤-من الموارد الطبيعية المتجددة التي تحتاج الى فترة زمنية قصيرة لكي تتجدد :

أ -المياه الجوفية ب- التربة ج- أشجار الغابات د - النباتات الطبيعية

٥ - الصورة التي تعبر عن (مواد خام للصناعة) كأحد الموارد الطبيعية ذات الأهمية الاقتصادية :



د



ج



ب

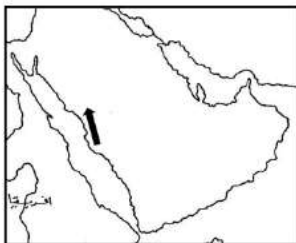


أ

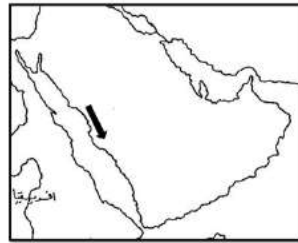
٦ - أول عمل قام به الرسول محمد (صلّ الله عليه وسلم) بعد وصوله الى المدينة المنورة هو بناء :

أ - البيت ب - المسجد ج - الحصن د - سور المدينة

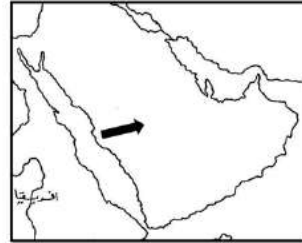
٧- السهم الذي يشير الى الاتجاه الصحيح لهجرة النبي من مكة الى المدينة :



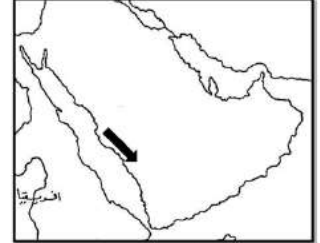
د



ج



ب



أ

تابع السؤال الأول:

٨ - أرسل سيدنا محمد (صَلَّى اللهُ عَلَيْهِ وَسَلَّمَ) رسالته الى ملكي عُمان (جيفر و عبد ابني الجلندي) مع الصحابي :
أ- طلحه بن عبيد الله ب - أسامة بن زيد ج - عمرو بن العاص د - عبدالله بن عمر

٩- الشخصية العمانية التي ذهبت الى المدينة المنورة في بداية عهد الخلافة الراشدة :
أ- كعب بن برشه الطاحي ب - أبو صفرة العتكي

ج - سلمة بن عباد الأزدي د - صالح بن المتوكل

١٠- الشكل الذي يعبر عن شعار اللجنة العُمانية المختصة بنشر ثقافة حقوق الإنسان :




د



ج



ب



أ

١١ - حق المواطن الذي تعبر عنه الصورة المقابلة :

أ - التعبير عن الرأي ب - التعليم



ج - الرعاية الصحية د - الأمن والأمان

١٢- الوثيقة الرسمية التي تعرف بالدولة ونظام الحكم فيها كما تبين الحقوق والواجبات العامة ، يقصد بها:

أ- الحقوق ب - الواجبات ج - المؤسسات د- النظام الأساسي للدولة

(٨ درجات)

السؤال الثاني: - أجب عن الأسئلة الآتية :

أولاً : الشكل المقابل يمثل : جذور النباتات تمتص المعادن الموجودة في التربة :

انظر اليه جيداً ثم أجب :

(أ) (الغلاف الذي تنتمي اليه جذور النباتات :

(ب) (الغلاف الذي تنتمي اليه التربة :



ثانياً: (أ) : أمامك صورة لأبرز مشاريع الطاقة في السلطنة ، انظر اليها ثم أجب عن الأسئلة المقابلة :



١ - المحافظة التي ينتمي لها هذا المشروع :

٢ - أهمية المشروع لسلطنة عمان ؟

.....

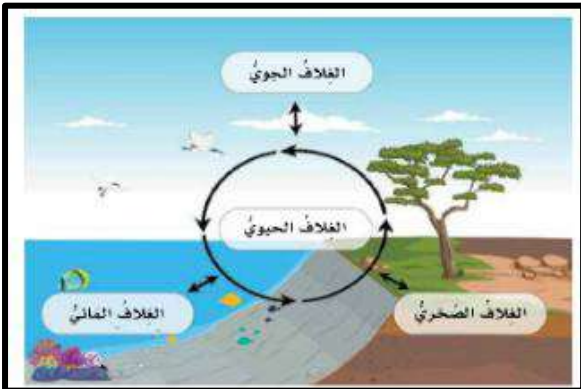
(ب) : " وضعت سلطنة عمان خططاً لإدارة الموارد الطبيعية واستدامتها وذلك ضمن رؤية عمان ٢٠٤٠ .. " .

• في ضوء العبارة السابقة ، اكتب اثنين من هذه الخطط :

١ - الخطة الأولى :

٢ - الخطة الثانية :

ثالثاً : أمامك صورة ، ادرسها جيداً ، ثم أجب عن الأسئلة المقابلة :



١ - وضح بأسلوبك : العلاقة بين أغلفة كوكب الأرض ؟

.....

.....

.....

٢- حدد أحد مظاهر سطح الأرض التي تتكون من :

(احتكاك الماء بالصخور)

المظهر هو :

(٨ درجات)

السؤال الثالث : - أجب عن الأسئلة الآتية



أولاً : الصورة التي أمامك توضح سد وادي ضيقة ، انظر اليها ثم أجب :

أ - المحافظة العُمانية التي ينتمي اليها هذا السد :

ب - تعد السدود احدى طرق الاستدامة للموارد الـ :

ثانياً : فسر العبارات الآتية :

أ - الأهمية العظمى لـ " دورة الماء في الطبيعة " ؟

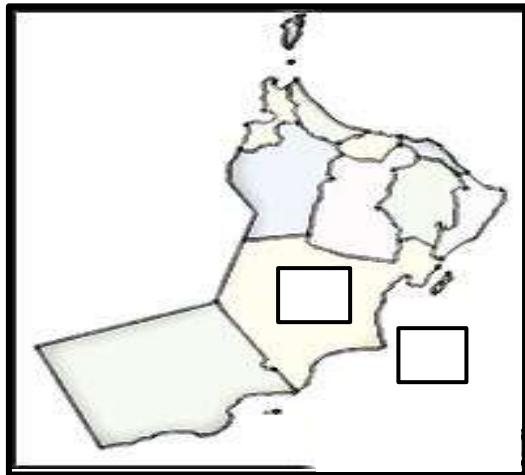
.....

.....

ب - أهمية (المؤسسات الأمنية) ضمن المؤسسات الوطنية التي أنشأتها السلطنة لمواطنيها ؟

.....

.....



ثالثاً :

١ - أمامك خريطة لسلطنة عمان ، انظر اليها جيداً ثم أجب :

أ - ظلل المربع الذي ينتمي جغرافياً الى الغلاف المائي .

ب - فسر : الغلاف الحيوي يمثل البيئة التي تعيش وتنمو وتتكاثر بها الكائنات الحية ؟

.....

٢ - صنف مدن عُمان التالية حسب المجال الذي اشتهرت به عند ظهور الإسلام :
(صحار ، سمائل ، مرباط ، البريمي)

المدينة	المجالات
.....	أ - كانت ميناءً رئيسياً في جنوب عُمان ولها دور مهم في النشاط التجاري
.....	ب - كانت عاصمة عُمان ووصلت اليها رسالة الرسول (صلّ الله عليه وسلم)
.....	ج - سميت قديماً بـ " تؤام " وهي واحة زراعية تقع على طرق التجارة البرية
.....	د - ينتمي اليها اول من أسلم من أهل عُمان ولها دوراً في انتشار الإسلام في عمان

(٦ درجات)

السؤال الرابع : - أجب عن الأسئلة الآتية

أولاً : اقرأ النص ثم أجب عن الأسئلة التي تليه :

" هي كتب أنزلها الله على الرسل والأنبياء لتكون هداية ورحمة للناس ... "

١- اذكر المصطلح أو المفهوم الذي تشير اليه هذه العبارة :

٢- أعط مثلاً واحداً على هذه الكتب :

ثانياً : امامك خريطة شبه الجزيرة العربية ، ادرسها جيداً ، ثم أجب عن الأسئلة التالية :



١- ارسم خط سير عمرو بن العاص الى عُمان .

٢- حدد الرقم الذي يشير الى الولاية التي بني فيها مسجد المضاير (.....)

ثالثاً : أنسب الإنجازات الآتية الى المجال الذي تنتمي اليه بكتابتها في المكان الصحيح في الجدول الآتي :

المجال	إنجازات السلطنة في المجال
أ - حقوق المرأة
ب - حقوق الطفل

(٦ درجات)

السؤال الخامس : - أجب عن الأسئلة الآتية

أولاً : أجب عن الأسئلة الآتية :

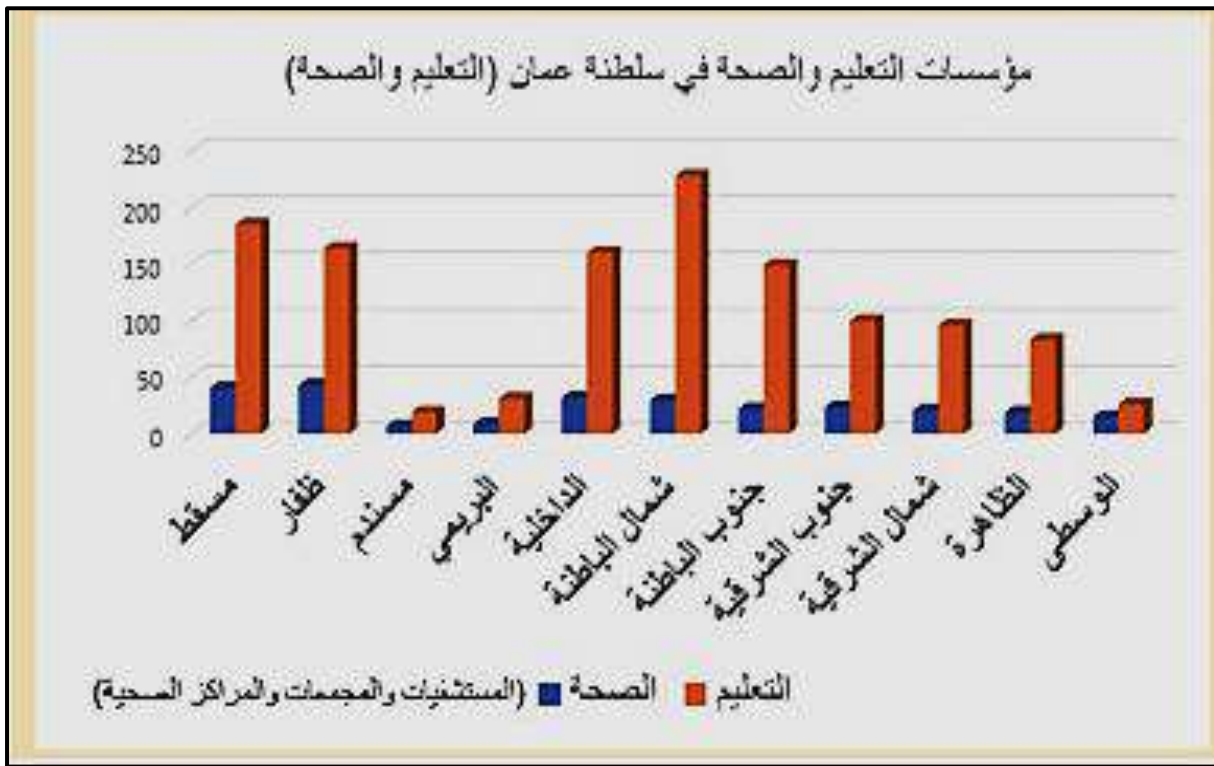
- ١ - من هو القائد العُماني (ابن) الصحابي " أبو صفرة العتكي " :
- ٢ - اذكر صفة واحدة من صفات (أبو صفرة العتكي) .

ثانياً :

- ١- عرف : " الحقوق " :

- ٢- ما الدور الذي تقوم به اللجنة الوطنية لحقوق الانسان :

ثالثاً : ادرس الشكل التالي ثم أجب عما يلي :



- ١ - الخدمة التي يوضحها الشكل السابق :

(اختر الإجابة الصحيحة)

أ - الحقوق ب - الواجبات

- ٢ - حدد الهدف من إنشاء المؤسسات الوطنية في سلطنة عمان ؟

انتهت الأسئلة مع الدعاء للجميع بالتوفيق والنجاح.

المديرية العامة للتربية والتعليم بمحافظة ظفار
نموذج إجابة امتحان الصف الخامس لمادة الدراسات الاجتماعية
للعام الدراسي - ١٤٤٥هـ - ٢٠٢٣/٢٠٢٤م
الدور الثاني - الفصل الدراسي الثاني

المادة: الدراسات الاجتماعية
تنبيه: نموذج الإجابة في (٥) صفحات.

الدرجة الكلية: (٤٠) درجة.

أولاً: إجابة السؤال الموضوعي:

إجابة السؤال الأول

المفردة	البديل الصحيح	الإجابة	الدرجة	الوحدة	الصفحة	مستويات التعلم
١	ب	٢٠٠٨ م	درجة	أولى	٢٠	معرفي
٢	ج	دورة الماء في الطبيعة	درجة	أولى	٢٣	معرفي
٣	د	الاكسجين	درجة	أولى	٢٧	فهم وتطبيق
٤	أ	المياه الجوفية	درجة	أولى	٣٧	فهم وتطبيق
٥	د		درجة	أولى	٣٩	قدرات عليا
٦	ب	المسجد	درجة	الثانية	٥٢	معرفي
٧	د		درجة	الثانية	٥٢	فهم وتطبيق
٨	ج	عمرو بن العاص	درجة	الثانية	٦٠	معرفي
٩	ب	أبو صفرة العتكي	درجة	الثانية	٦٩	قدرات عليا
١٠	ج		درجة	الثالثة	٩٠	معرفي
١١	ب	التعليم	درجة	الثالثة	٨١	فهم وتطبيق
١٢	د	النظام الأساسي للدولة	درجة	الثالثة	٨١	معرفي
المجموع		١٢ درجة				

(٢)

تابع نموذج إجابة امتحان الصف الخامس

للعام الدراسي ١٤٤٥هـ - ٢٠٢٣/٢٠٢٤م

الدور الثاني- الفصل الدراسي الثاني - المادة: الدراسات الاجتماعية


إجابة السؤال الثاني						
الجزئية	المفردة	الإجابة		الدرجة	الوحدة	الصفحة
مستويات التعلم						
اولاً	أ	الغلاف الحيوي		درجة	الأولى	٢٩
	ب	الغلاف الصخري		درجة	الأولى	٢٩
ثانياً	(أ)	١	محافظة ظفار	درجة	الأولى	٤١
		٢	لتوليد الكهرباء في سلطنة عمان	درجة		
	(ب)	الخطط : ١ - الاستفادة من الموارد المتجددة ٢ - تقليل الاعتماد على الموارد غير المتجددة ٣ - وضع القوانين للمحافظة على الموارد الطبيعية والحد من استنزافها (يكتفى بذكر إجابتين)		درجتان (لكل خطة درجة واحدة)	الأولى	٤٠
				درجة		
ثالثاً	١	يعد كوكب الأرض نظاماً بيئياً متكاملًا مكوناً من أغلفة عديدة تربط بينها علاقات تفاعلية (ما يفيد المعنى)		درجة واحدة	الأولى	٢٨
	٢	الكهوف (يمكن للطالب أن يذكر أي شكل من أشكال النحت البحري) مثل : مسلة - قوس بحري - جرف		درجة واحدة	الأولى	٢٩
		المجموع		٨ درجات		

(٣)

تابع نموذج إجابة امتحان الصف الخامس

للعام الدراسي ١٤٤٥هـ - ٢٠٢٣/٢٠٢٤م

الدور الثاني- الفصل الدراسي الثاني - المادة: الدراسات الاجتماعية

إجابة السؤال الثالث						
الجزئية		الإجابة	الدرجة	الوحدة	الصفحة	مستويات التعلم
اولاً	أ	مسقط	درجة	الأولى	٤٢	معرفي
	ب	الموارد المائية	درجة	الأولى	٤٢	معرفي
ثانيا	أ	هي المسؤولة عن حركة المياه واستمراريتها في النظام الأرضي (ما يفيد المعنى)	درجة	الأولى	٢٢	فهم وتطبيق
	ب	حفظ الأمن داخل الوطن لينعم المواطن بالرخاء (ما يفيد المعنى)	درجة	الثالثة	٩٠	فهم وتطبيق
ثالثا	أ		درجة	الأولى	٢٢	فهم وتطبيق
	ب	نظراً لتوفر الظروف الطبيعية الملائمة	درجة	الأولى	٢٤	فهم وتطبيق
٢	ا	مرباط	درجتان (لكل مفردة نصف درجة) الثانية		٦٥	قدرات عليا
	ب	صحار				
	ج	البريمي				
	د	سمائل				
		المجموع	٨ درجات			

إجابة السؤال الرابع						
الجزئية	المفردة	الإجابة	الدرجة	الوحدة	الصفحة	مستويات التعلم
أولاً	أ	الكتب السماوية	درجة	الثانية	٦٨	معرفي
	ب	التوراة - الانجيل - القرآن (يكتفى بذكر كتاباً سماوياً واحداً)	درجة	الثانية	٦٨	معرفي
ثانياً	أ		درجة	الثانية	٦٠	فهم تطبيق
	ب	رقم (٢)	درجة	الثانية	٦٣	فهم وتطبيق
ثالثاً	المجال	إنجازات السلطنة	درجتان لكل مجال درجة واحدة	الثالثة	٩٣ - ٩٥	قدرات عليا
	أ - حقوق المرأة	كفل لها حقها في التعليم والعمل وفي أي جانب بما لا يتعارض مع طبيعة المرأة وقد انضمت السلطنة الى اتفاقية القضاء على جميع أشكال التمييز ضد المرأة (سيداو) وخصصت السلطنة يوم ١٧ أكتوبر من كل عام يوماً للمرأة العمانية للاحتفاء بها . (ما يفيد تمتع المرأة العمانية بكافة الحقوق داخل المجتمع العماني)				
	ب - حقوق الطفل	انضمام السلطنة الى اتفاقية حقوق الطفل عام ١٩٩٦ م لضمان توفير حقوقهم وحمايتهم من أي ضرر وقد تضمنت : - حماية الطفل من أداء الاعمال الخطرة - تمتع الطفل من ذوي الإعاقة برعاية - آمنة وحياة كريمة - حق الطفل في التمتع بمستوى عال من الصحة (ما يفيد فهم الطالب لحقوق يتمتع بها الطفل العماني)				
المجموع			٦ درجات			

إجابة السؤال الخامس						
الجزئية	المفردة	الإجابة	الدرجة	الوحدة	الصفحة	مستويات التعلم
أولاً	١	القائد العماني (المهلب بن أبي صفرة)	درجة	الثانية	٦٩	معرفي
	٢	فصاحة اللسان - الشجاعة (يكتفى بذكر صفة واحدة)	درجة	الثانية	٦٩	معرفي
ثانياً	١	الحقوق : ما يحصل عليه المواطن من الدولة والمجتمع ، وفقاً للقانون وثقافة المجتمع	درجة	الثالثة	٨٠	معرفي
	٢	متابعة أوضاع حقوق الانسان من خلال عمليتي الرصد وتلقي البلاغات (ما يفيد المعنى)	درجة	الثالثة	٩٠	معرفي
ثالثاً	١	أ (حقوق)	درجة	الثالثة	٨٣ ، ٨١	فهم
	٢	لتضمن لهم حقوقهم كاملة دون تقصير ، من أجل رعاية حقوق كل فرد من أفراد هذا الوطن (ما يفيد المعنى)	درجة	الثالثة	٩٠	فهم وتطبيق
المجموع			٦ درجات			