

تم تحميل هذا الملف من موقع المناهج العُمانية



\* للحصول على أوراق عمل لجميع الصفوف وجميع المواد اضغط هنا

<https://almanahj.com/om>

\* للحصول على أوراق عمل لجميع مواد الصف الخامس اضغط هنا

<https://almanahj.com/om/5>

\* للحصول على جميع أوراق الصف الخامس في مادة اجتماعيات ولجميع الفصول, اضغط هنا

<https://almanahj.com/om/5social>

\* للحصول على أوراق عمل لجميع مواد الصف الخامس في مادة اجتماعيات الخاصة بـ الفصل الثاني اضغط هنا

<https://almanahj.com/om./5social2>

\* لتحميل كتب جميع المواد في جميع الفصول للـ الصف الخامس اضغط هنا

<https://almanahj.com/om./grade5>

للتحدث إلى بوت المناهج العمانية على تلغرام: اضغط هنا

[https://t.me/omcourse\\_bot](https://t.me/omcourse_bot)



المديرية العامة للتربية والتعليم بمحافظة جنوب الباطنة  
الامتحان النهائي للصف الخامس  
للعام الدراسي ١٤٣٦/١٤٣٧ هـ - ٢٠١٥ / ٢٠١٦ م  
الفصل الدراسي الثاني - الدور الأول

• زمن الإجابة: ساعة ونصف

- المادة: الدراسات الاجتماعية
- تنبيه: - الأسئلة في (٧) صفحات
- أجب عن جميع الأسئلة

الاسم : .....  
الصف : .....

أولاً: الأسئلة الموضوعية: (١٦ درجة)  
السؤال الأول:

ضع دائرة حول الحرف الدال على الإجابة الصحيحة من بين البدائل المعطاة :

١- الشكل الذي يشير إلى مورد الطاقة الغير متجددة هو:



د-



ج-



ب -



أ-

٢- من المقومات الطبيعية اللازمة لقيام الزراعة في الوطن العربي:

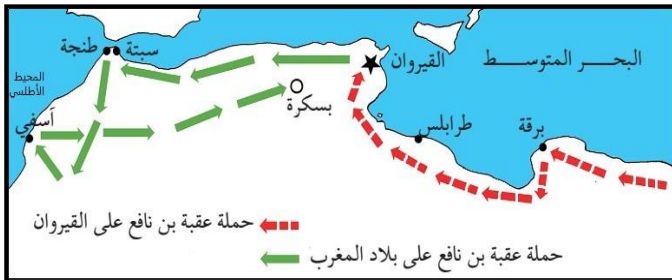
أ- مناخ ملائم / أيدي عاملة

ب- سهول الخصبة / رأس المال

ج- مناخ الملائم / وسائل النقل

د- موارد مائية / سهول خصبة

٣- المسطح المائي الذي توقفت عنده حملة عقبة بن نافع الثانية كما هو مبين في الخريطة:



أ- البحر المتوسط

ب- المحيط الأطلسي

ج- البحر الأحمر

د- المحيط الهندي

٤- الديوان المختص بتدقيق الحسابات المالية في الدولة العباسية هو:

أ- المظالم

ب- الجند

ج- الزمام

د- قاضي القضاة

( ٢ )

تابع الامتحان النهائي للصف الخامس  
للعام الدراسي ١٤٣٦/١٤٣٧ هـ — ٢٠١٥ / ٢٠١٦ م  
امتحان مادة: الدراسات الاجتماعية الفصل الدراسي الثاني - الدور الأول

تابع السؤال الأول :



٥- تنتمي الصناعة الموضحة في الصورة إلى الدولة:

- أ- العباسية      ب- الفاطمية      ج- الأموية      د- الرستمية

٦- من الحلول التي اعتمدتها السلطنة لمواجهة مشكلة توطين البدو هي:

- أ- نقص الخدمات الصحية      ب- قلة فرص العمل      ج- تطوير المراعي      د- تقليل مساحة الأراضي الزراعية

٧- الخدمة الاجتماعية التي تقدمها السلطنة للأسر التي تضررت مساكنها بسبب الحرائق:

- أ- الضمان الاجتماعي      ب- مساعدات الإغاثة      ج- التكافل الاجتماعي      د- تأهيل ذوي الإعاقة

٨- الرمز الذي يشير إلى أسماء الدول التي تقع فيها المعالم الأثرية في الدولة الأموية بالترتيب كما هو

موضح في الصورة:



- أ- تونس - فلسطين - الأردن - سوريا      ب- فلسطين - الأردن - سوريا - تونس

- ج- سوريا - تونس - فلسطين - الأردن      د- الأردن - سوريا - تونس - فلسطين

السؤال الثاني : أجب عن الأسئلة الآتية : ( ٨ درجات )

أولاً: قارن بين الخلافة الراشدة والدولة الأموية من حيث نظام الحكم والعاصمة كما هو موضح في الجدول أدناه:

وجه المقارنة	الخلافة الراشدة	الدولة الأموية
نظام الحكم	.....	.....
العاصمة	.....	.....

ثانياً: فسر (اتصف العصر العباسي الثاني بعصر الضعف والتفكك).

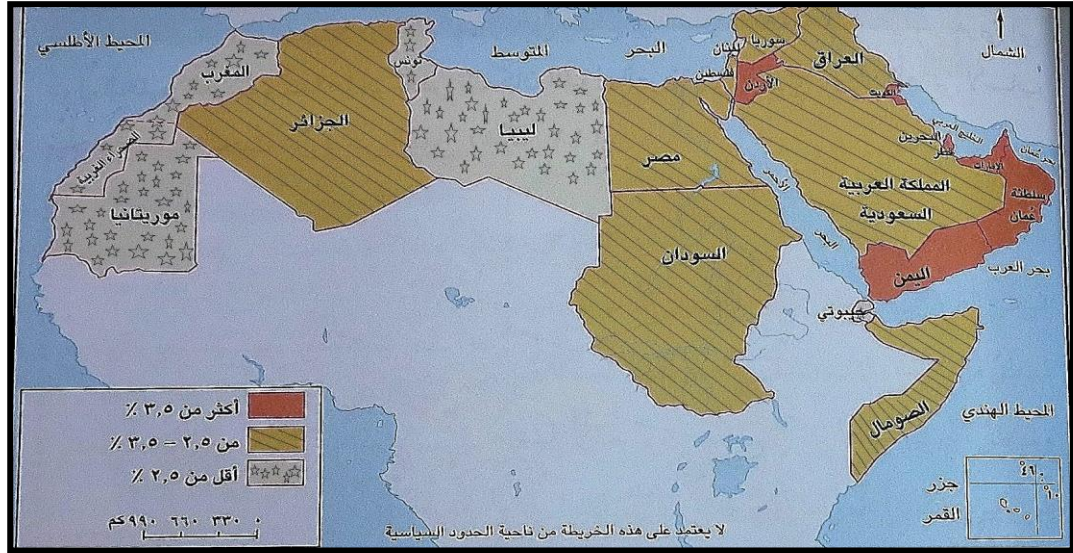
- أ- .....  
ب- .....

(٣)

تابع الامتحان النهائي للصف الخامس  
للعام الدراسي ١٤٣٦/١٤٣٧ هـ — ٢٠١٥ / ٢٠١٦ م  
امتحان مادة: الدراسات الاجتماعية الفصل الدراسي الثاني - الدور الأول

تابع: السؤال الثاني

ثالثاً- أمامك خريطة النمو السكاني في الوطن العربي، ادرسها جيداً ثم أجب عن الأسئلة التي تليها:



أ- أكمل الجدول التالي بالرجوع الى مفتاح الخريطة:

الدولة	نوع النمو السكاني
سلطنة عمان	١- .....
٢- .....	أقل عن ٢,٥ %

ب- ارسم خط مسار للهجرات العربية من بلاد المغرب العربي إلى دول الخليج العربي.

رابعاً- (اصطحب محمد أسرته لزيارة وادي بني خروص من أجل الترويح عن النفس والتعرف على معالمه الطبيعية) في ضوء العبارة السابقة أجب عن الأسئلة التالية:

أ- ما النشاط الاقتصادي الذي قام به محمد؟ .....

ب- وضح دور السلطنة في تطوير هذا النشاط الاقتصادي؟

.....  
.....

( ٤ )

تابع الامتحان النهائي للصف الخامس

للعام الدراسي ١٤٣٦/١٤٣٧ هـ — ٢٠١٥ / ٢٠١٦ م

امتحان مادة: الدراسات الاجتماعية الفصل الدراسي الثاني - الدور الأول

**السؤال الثالث : أجب عن الأسئلة الآتية : ( ٨ درجات )**

أولا-امامك خريطة التوزيع الجغرافي للسكان في الوطن العربي، ادرسها جيدا ثم أجب عن الأسئلة التي تليها:



أ- استنتج من الخريطة:

الدول التي يتركز فيها السكان	الدول قليلة السكان
-المغرب .....	..... -الصومال

ب- علل: تركز السكان في المنطقة المشار إليها بالرقم (٢)

.....  
.....

ج- إذا طلب منك معلمك حساب الكثافة السكانية لولاية تبلغ مساحتها (٢٠٠٠ كم) ويعيش عليها (١٠٠٠٠) نسمة، كيف ستقوم بحساب الكثافة السكانية لهذه الولاية؟

.....  
.....

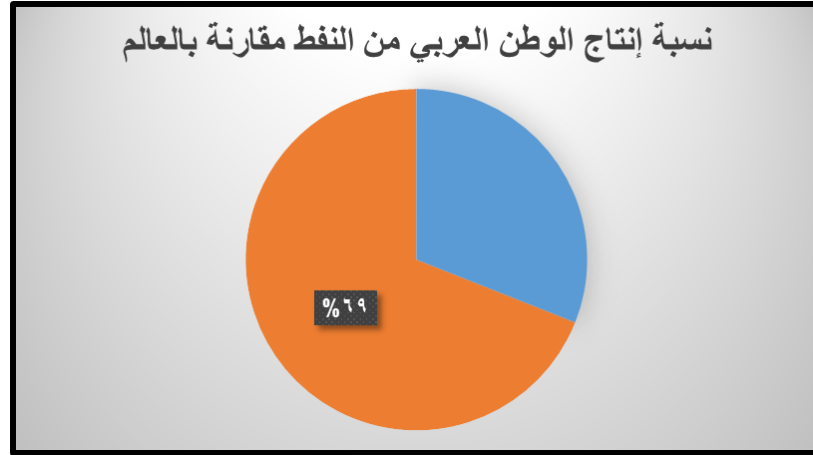


( ٥ )

تابع الامتحان النهائي للصف الخامس  
للعام الدراسي ١٤٣٦/١٤٣٧ هـ — ٢٠١٥ / ٢٠١٦ م  
امتحان مادة: الدراسات الاجتماعية الفصل الدراسي الثاني - الدور الأول

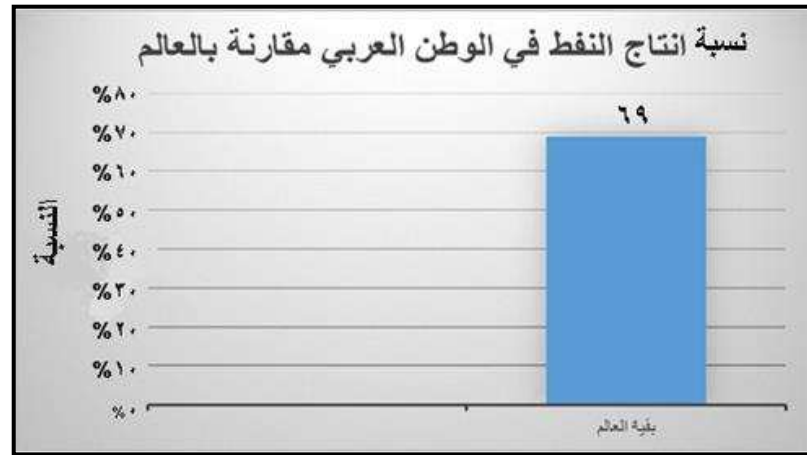
تابع: السؤال الثالث

ثانيا- أمامك شكل بياني يوضح نسبة إنتاج النفط في الوطن العربي مقارنة بالعالم، ادرسه جيدا ثم اجب عن الأسئلة التي تليه:



أ- كم تبلغ نسبة إنتاج النفط في الوطن العربي؟ .....

ب- أكمل الشكل البياني التالي برسم العمود الذي يمثل نسبة إنتاج النفط في الوطن العربي؟



ثالثا- من خلال الصور التي أمامك استنتج نوع التعاون بين العمانيين في المناسبات المختلفة.



ب- .....



أ- .....

(٦)

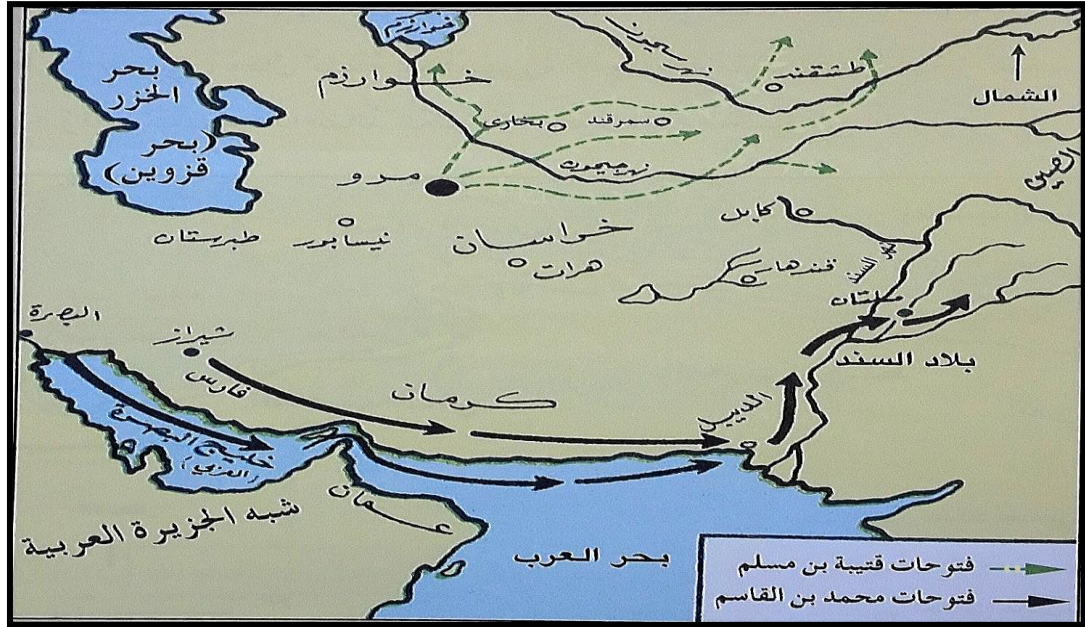
تابع الامتحان النهائي للصف الخامس

للعام الدراسي ١٤٣٦/١٤٣٧ هـ — ٢٠١٥/٢٠١٦ م

امتحان مادة: الدراسات الاجتماعية الفصل الدراسي الثاني - الدور الأول

**السؤال الرابع : أجب عن الأسئلة الآتية : (٨ درجات)**

أولاً- أمامك خريطة الفتوحات الإسلامية في الشرق، أدرسها جيدا ثم أجب عن الأسئلة التي تليها:



- أ- استخرج اسم مدينتين فتحهما القائد قتبية بن مسلم الباهلي؟ .....
- ب- وصلت جيوش القائد قتبية بن مسلم الباهلي إلى حدود دولة .....
- ج- ما المسطحات المائية التي مرت عليها حملة القائد محمد بن القاسم؟ .....
- د- ضع دائرة في الخريطة على المدينة التي تمكن العباسيون سنة ١٣٢ هـ من القضاء على الحكم الأموي فيها.



ثانياً — أ- ما الذي يمثله الشكل المقابل؟ .....

ب- أرادت فاطمة وزميلاتها تأسيس جمعية خيرية لتقديم خدمات إنسانية واجتماعية لفئات المجتمع. برأيك ما الجهة الحكومية التي تدعم مثل هذه

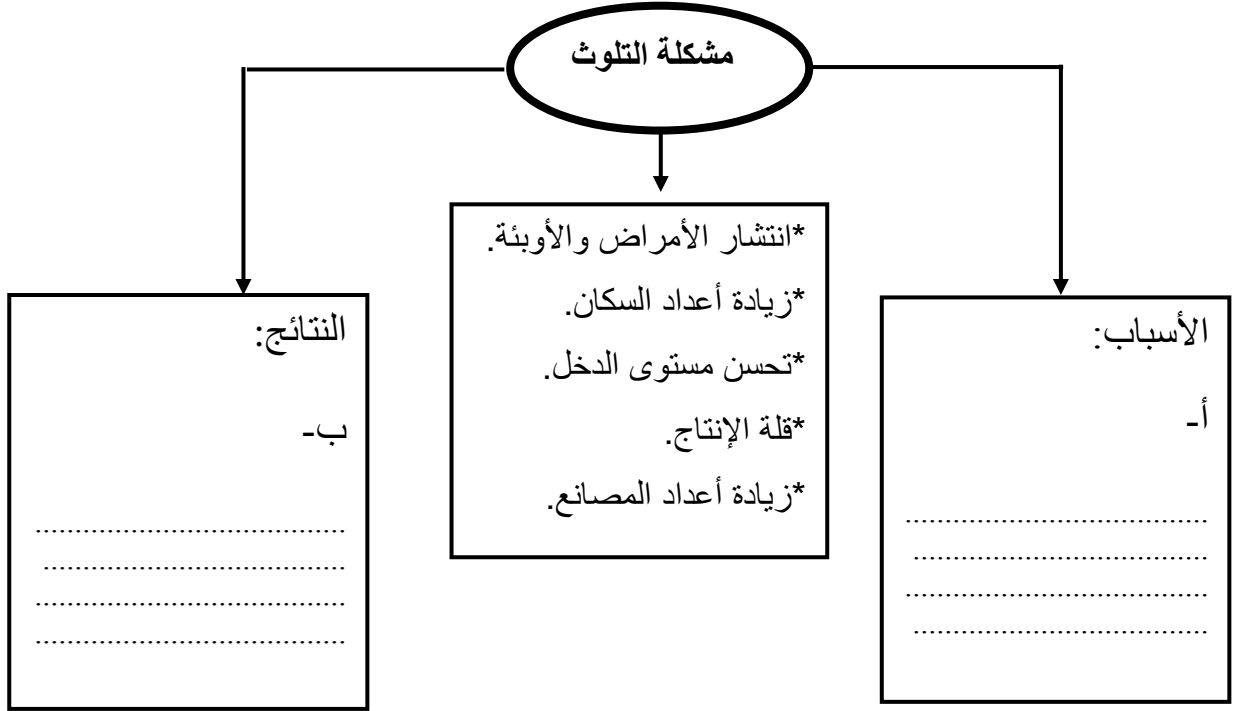
الجمعيات؟ .....

( ٧ )

تابع الامتحان النهائي للصف الخامس  
للعام الدراسي ١٤٣٦/١٤٣٧ هـ — ٢٠١٥ / ٢٠١٦ م  
امتحان مادة: الدراسات الاجتماعية الفصل الدراسي الثاني - الدور الأول

تابع :السؤال الرابع

ثالثا- من خلال المخطط الذي أمامك، صنف أسباب ونتائج مشكلة التلوث في المدن العربية:



رابعا -أدرس الأشكال التي توضح أنواع الأسر ثم أجب عن الأسئلة التالية:



(ب)



(أ)

أ-ما الشكل الذي يشير إلى نمط الأسرة البسيطة؟ .....

ب-أين تفضل العيش في أسرة بسيطة أو ممتدة؟ .....

انتهت الأسئلة مع تمنياتنا لكم بالتوفيق والنجاح





سلطنة عمان

وزارة التربية والتعليم

المديرية العامة للتربية والتعليم لمحافظة جنوب الباطنة

نموذج إجابة الامتحان النهائي للصف الخامس الأساسي

للعام الدراسي ١٤٣٦/١٤٣٧ هـ — ٢٠١٥/٢٠١٦ م

الفصل الدراسي الثاني الدور : الأول

الأسئلة الموضوعية:

الدرجة الكلية للامتحان ٤٠

السؤال الأول

المجموع	٨	٧	٦	٥	٤	٣	٢	١	المفردة
البديل الصحيح	ب	ب	ج	أ	ج	ب	د	ج	
الدرجة	٢	٢	٢	٢	٢	٢	٢	٢	
الصفحة	٢٢-٢١	٨٩	٥٣	٣١	٢٨	١٤	٥٤	٦٦	

ثانيا: الأسئلة المقالية :-

السؤال	الجزئية	الإجابة	الدرجة	الصفحة
الثاني	أولا	وجه المقارنة	(درجتان) لكل نصف درجة	١٠
		الخلافة الراشدة		
		الدولة الأموية		
		نظام الحكم		
		شورى		
		وراثي		
		العاصمة		
		المدينة المنورة		
		دمشق		
ثانيا		تفككت الدولة إلى عدد من الدويلات، سيطر الأعاجم على الخلافة في بغداد، لم تبقى للخليفة أية سلطة تذكر، أقصى العنصر العربي من الجيش وتحكم الفرس والترك في أمور الدولة. (يكتفى بذكر اثنين)	درجتان	٢٦

السؤال	الجزئية	الإجابة	الدرجة	الصفحة
الثاني	ثالثا	أ- ١- نمو سكاني مرتفع/ أكثر من ٣,٥ %. ٢- ليبيا/ تونس/ المغرب/ موريتانيا (يكتفى بواحدة).	(درجة) لكل جزئية نصف	٤٢-٤١
		ب- أي خط يخرج من أي دولة من دول المغرب العربي (ليبيا، تونس، الجزائر، المغرب) إلى دول الخليج العربي.	درجة	٤٢-٤١
	رابعا	أ- السياحة.	درجة	٧١
		ب- انشاء الخدمات السياحية مثل مكاتب السياحة والسفر/توفير وسائل النقل المريحة/ انشاء الفنادق والمطاعم والمنتزهات/ إقامة المهرجانات والمعارض/ صيانة المعالم التاريخية والأثرية (يكتفى بذكر واحدة).	درجة	٧١
الثالث	أولا	أ- الدول التي يتركز فيها السكان: مصر/لبنان/فلسطين/العراق (يكتفى بواحدة).	درجة	٤٤
		-الدول قليلة السكان: ليبيا / موريتانيا/ سلطنة عمان (يكتفى بواحدة).	درجة	٤٦
		ب) بسبب وجود نهر النيل حيث المياه العذبة والتربة الخصبة.	درجة	٤٦
		ج- حساب الكثافة السكانية = قسمة عدد السكان على المساحة الكلية للمنطقة $١٠٠٠٠ \div ٢٠٠٠ = ٥$ نسمة /كم <sup>٢</sup> ملحوظة: كتابة القانون درجة والتعويض درجة ولا يشترط الحصول على النتيجة الصحيحة	درجتان	٤٦

(٣)

السؤال	الجزئية	الإجابة	الدرجة	الصفحة
	ثانيا	أ- ٣١%.	درجة	٦٧
		ب- رسم عمود يمثل نسبة انتاج النفط في الوطن العربي (٣١%) في الشكل البياني المرفق.	درجة	
	ثالثا	أ- توزيع العبيدية على الأطفال لإدخال السرور والبهجة في قلوبهم.	نصف درجة	٩٩
		ب- إقامة الفنون الشعبية في المناسبات والأفراح. ملحوظة: يعتمد المعلم أي إجابة من الطالب يراها صحيحة.	نصف درجة	
الرابع	أولا	أ- سمرقند/ مرو/ بخارى/ خوارزم/ طشقند (يكتفى بذكر اثنين).	درجة	١٣
		ب- الصين.	نصف درجة	١٢
		ج- (الخليج العربي/ خليج البصرة) وبحر العرب.	درجة	١٣
		د- خراسان	نصف درجة	٢٤
	ثانيا	أ- جائزة السلطان قابوس للعمل التطوعي.	نصف	٩٥
		ب- وزارة التنمية الاجتماعية.	نصف	٨٨
	ثالثا	أ- أسباب التلوث: تزايد أعداد السكان وزيادة أعداد المصانع.	درجة	٥٠
		ب- نتائج المشكلة: قلة الإنتاج وانتشار الأمراض والأوبئة/ تعرض حياة الإنسان للخطر.	درجة	صفحة النشاط
	رابعا	أ- (أ)	درجة	٨١
		ب- تقبل أي إجابة للمتعلم	درجة	

انتهى النموذج