

شكراً لتحميلك هذا الملف من موقع المناهج العمانية



نموذج اختبار قصير ثاني

موقع المناهج ← المناهج العمانية ← الصف الخامس ← رياضيات ← الفصل الأول ← الملف

تاريخ نشر الملف على موقع المناهج: 08:30:13 2023-11-23

التواصل الاجتماعي بحسب الصف الخامس



روابط مواد الصف الخامس على تلغرام

[الرياضيات](#)

[اللغة الانجليزية](#)

[اللغة العربية](#)

[التربية الاسلامية](#)


المزيد من الملفات بحسب الصف الخامس والمادة رياضيات في الفصل الأول



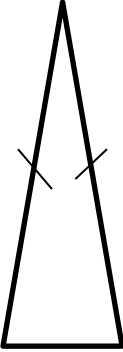
مراجعة الاختبار القصير الثاني	1
سؤال قصير أول نموذج ثاني مع الإجابات	2
سؤال قصير أول مع نموذج الإجابة	3
اختبار قصير أول	4
إجابات كتاب النشاط	5

المادة: رياضيات

الفصل الدراسي الأول

الصف: الخامس (الاختبار القصير الثاني) للعام

(١)	<p>حوط على نوع المثلث من حيث الأضلاع</p>  <p>متطابق الأضلاع <input type="radio"/> متطابق الضلعين <input type="radio"/> مختلف الأضلاع <input type="radio"/> قائم الزاوية <input type="radio"/></p>	(١)
(١)	<p>حوط على قياس الزاوية القائمة =</p> <p>٥٦٠ <input type="radio"/> ٥٧٠ <input type="radio"/> ٥٨٠ <input type="radio"/> ٥٩٠ <input type="radio"/></p>	(١)
(١)	<p>اكتب عاملين للعدد ١٥ مجموعهما ٨</p> <p>العاملان هما : <input type="text"/> ، <input type="text"/></p>	(١)
(١)	<p>اكتب عدد أقل من ٢٠ ويقبل القسمة على ١٠</p> <p>العدد هو : <input type="text"/></p>	(١)

(١)	 <p>٥) تحاول فاطمة أن تعرف الحرف الذي به خطوط متوازية ، حوظ على الحرف الذي به خطوط متوازية:</p> <p>H ○ O ○ Q ○ C ○</p>	
(٢)	 <p>٦) اختارت مها في ترتيب البطاقات ، ساعد مها في ترتيب البطاقات في مكانها الصحيح على خط الأعداد :</p> <div style="display: flex; justify-content: space-around; align-items: center;"> <div style="border: 1px solid black; padding: 5px; margin: 5px;">1×5</div> <div style="border: 1px solid black; padding: 5px; margin: 5px;">3×3</div> <div style="border: 1px solid black; padding: 5px; margin: 5px;">$2 \div 14$</div> </div> <div style="text-align: center; margin-top: 20px;"> \longleftrightarrow <div style="display: flex; justify-content: space-around; align-items: center;"> <div style="border: 1px solid black; padding: 5px; margin: 5px;">٥</div> <div style="border: 1px solid black; padding: 5px; margin: 5px;">٧</div> <div style="border: 1px solid black; padding: 5px; margin: 5px;">٩</div> <div style="border: 1px solid black; padding: 5px; margin: 5px;">١١</div> </div> </div>	
(١)	 <p>٧) ساعد حمد في كتابة عدد خطوط التماثل للشكل المقابل</p> <p>عدد خطوط التماثل =</p>	
(٢)	<p>٨) اكتب العدد المفقود</p> <div style="display: flex; justify-content: center; align-items: center; margin: 10px 0;"> <div style="border: 1px solid black; width: 60px; height: 25px; margin: 0 5px;"></div> <div style="border: 1px solid black; width: 60px; height: 25px; margin: 0 5px;"></div> <div style="border: 1px solid black; width: 60px; height: 25px; margin: 0 5px;"></div> </div> <p>إذا علمت أن :</p> <p>(١) العدد يقبل القسمة على ٥ ، ٢</p> <p>(٢) عشراته من مضاعفات العدد ٣ الأصغر من ٥</p> <p>(٣) مئاته ضعف عشراته</p>	