

## شكراً لتحميلك هذا الملف من موقع المناهج العمانية



## نموذج اختبار قصير ثاني

[موقع المناهج](#) ⇨ [المناهج العمانية](#) ⇨ [الصف الخامس](#) ⇨ [رياضيات](#) ⇨ [الفصل الأول](#) ⇨ [الملف](#)

تاريخ نشر الملف على موقع المناهج: 2023-11-24 18:49:01

## التواصل الاجتماعي بحسب الصف الخامس



## روابط مواد الصف الخامس على تلغرام

[الرياضيات](#)

[اللغة الانجليزية](#)

[اللغة العربية](#)

[التربية الاسلامية](#)

## المزيد من الملفات بحسب الصف الخامس والمادة رياضيات في الفصل الأول

[سؤال قصير أول مع نموذج الإجابة](#)

1

[سؤال قصير أول](#)

2

[نموذج اختبار قصير ثاني](#)

3

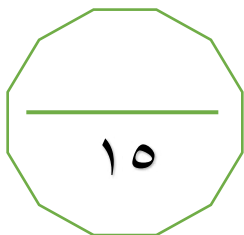
[مراجعة الاختبار القصير الثاني](#)

4

[سؤال قصير أول نموذج ثاني مع الإجابات](#)

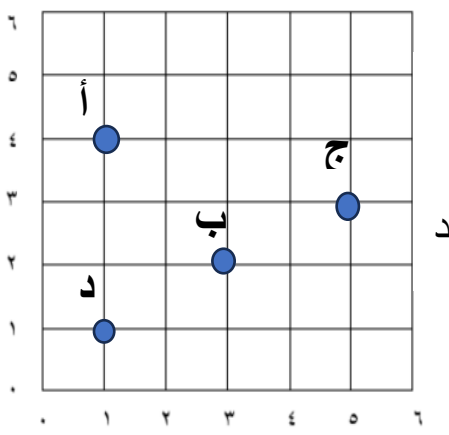


5

## اختبار قصير ٢ فى مادة الرياضيات للصف الخامس



اسم الطالبة : .....

الزمن : ٣٥ دقيقة

[١]	<p>١ أي النقاط التالية تمثل احداثيات النقطة ( ٣ ، ٥ ) :</p>  <p>أ                      ب                      ج                      د</p>	١
[٢]	<p>٢ رتب كتل السلع التالية من الأخف الى الأثقل :</p> <div style="display: flex; justify-content: space-around; align-items: flex-end;"> <div style="text-align: center;"> <div style="border: 1px solid black; padding: 5px;">٧٠٠ غم</div> <p>.....</p> <p>الأثقل</p> </div> <div style="text-align: center;"> <div style="border: 1px solid black; padding: 5px;">٥,١ كغم</div> <p>.....</p> </div> <div style="text-align: center;"> <div style="border: 1px solid black; padding: 5px;">٣٢٠ غم</div> <p>.....</p> </div> <div style="text-align: center;"> <div style="border: 1px solid black; padding: 5px;">٣,٢ كغم</div> <p>.....</p> <p>الأخف</p> </div> </div>	٢
[١]	<p>٣ الخطين التاليين غير متوازيين فسر ذلك :</p> 	٣
[١]	<p>٤ مستطيل أبعاد ٥ سم ، ٣ سم أحسب مساحته ؟</p> 	٤

٥

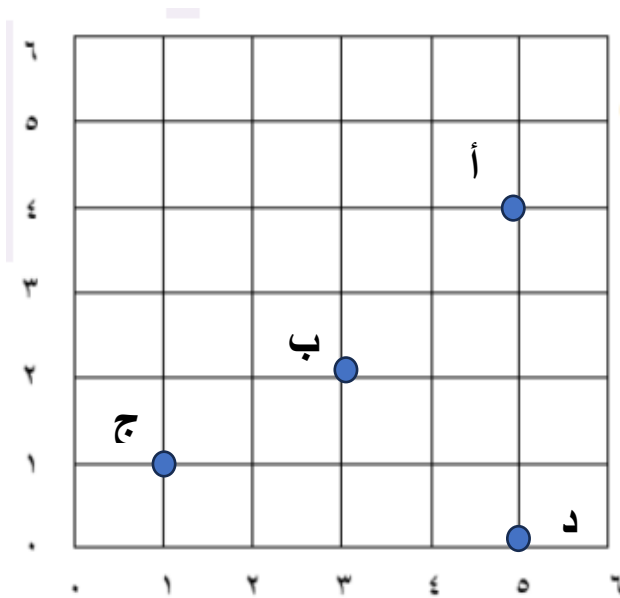
ضعي علامة (✓) أمام العبارات الصحيحة :

	العبارة	صواب	خطأ
١	محيط أي شكل هندسي هو مجموع أطوال أضلاعه.		
٢	محيط مضلع خماسي منتظم الذي طول ضلعة ٢ سم هو ١٥ سم.		
٣	وحدة قياس المساحة هي سنتيمتر مربع.		
٤	المحيط هي الخط الخارجي الذي يحيط أي شكل .		

[٢]

٦

اكتبي احداثيات النقاط أ ، ب ، ج ، د في الشبكة التالية :



■ أ ( ، )

■ ب ( ، )

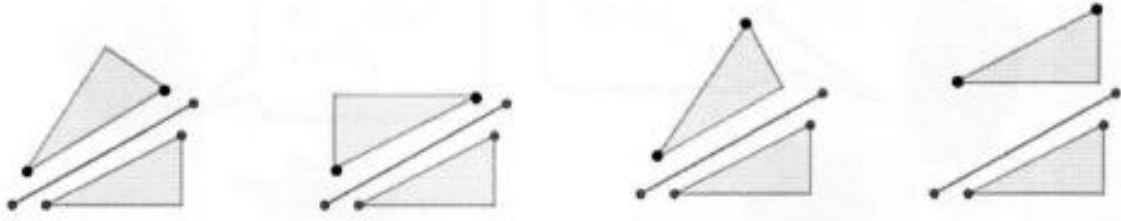
■ ج ( ، )

■ د ( ، )

[٢]

٧

حوطي الانعكاس الصحيح للمثلث حول خط المرآة :



[١]

٨

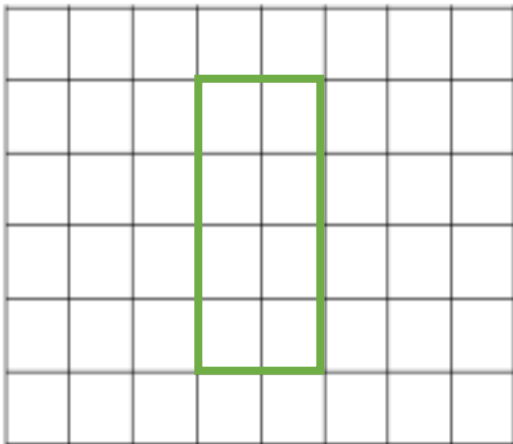
ارسمي خطين متعامدين :

[١]

٩

حوطي مساحة الشكل المستطيل ( علما أن  $\square =$  وحدة مربعة ):

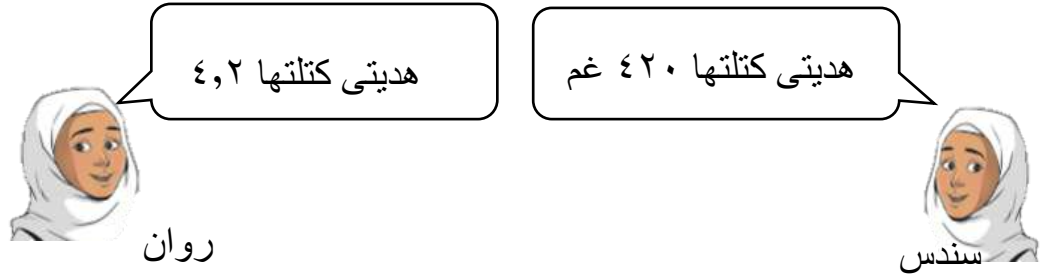
١٢      ١٠      ٨      ١٢



[١]

١٠

تقول سندس أن هديتها أثقل من هدية روان :



هل سندس على صواب؟ نعم ☐ لا ☐

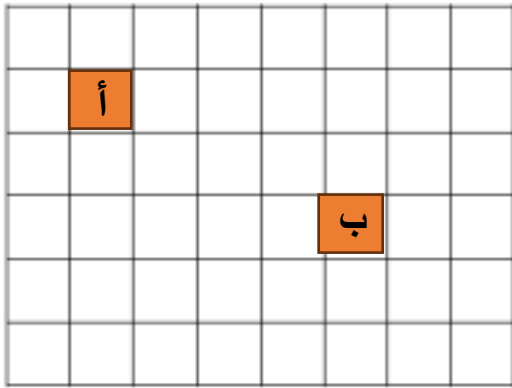
فسري اجابتك:

.....  
 .....

[٢]

١١

صفي الانسحاب الذي يحرك المربع أ الى أن يصل المربع ب :



[١]



مع تمنياتي لكن طالباتي المميزات  
 بالتوفيق