

## مراجعة عامة في الدراسات الاجتماعية مع نماذج امتحانية سابقة بمحافظة جنوب الشرقية



### تم تحميل هذا الملف من موقع المناهج العمانية

موقع فايلاتي ← المناهج العمانية ← الصف الخامس ← اجتماعيات ← الفصل الثاني ← ملفات متنوعة ← الملف

تاريخ إضافة الملف على موقع المناهج: 17:05:28 2025-05-19

ملفات اكتب للمعلم اكتب للطالب | اختبارات الكترونية | اختبارات | حلول | عروض بوربوينت | أوراق عمل  
منهج انجليزي | ملخصات وتقارير | مذكرات وبنوك | الامتحان النهائي | للمدرس

المزيد من مادة  
اجتماعيات:

إعداد: مدرسة أجيال الإبداع

### التواصل الاجتماعي بحسب الصف الخامس



صفحة المناهج  
العمانية على  
فيسبوك

الرياضيات

اللغة الانجليزية

اللغة العربية

التربية الاسلامية

المواد على تلغرام

### المزيد من الملفات بحسب الصف الخامس والمادة اجتماعيات في الفصل الثاني

ملخص درس عمان في عهد الرسول (ص)

1

ملخص درس شخصيات عمانية في عهد الرسول محمد (ص)

2

تجميع اختبارات قصيرة أولى

3

الكتيب المساند في الدراسات

4

مراجعة دروس المنهج من سلسلة ملخصات تميز وتغوق

5



المديرية العامة للتربية والتعليم بمحافظة جنوب الشرقية

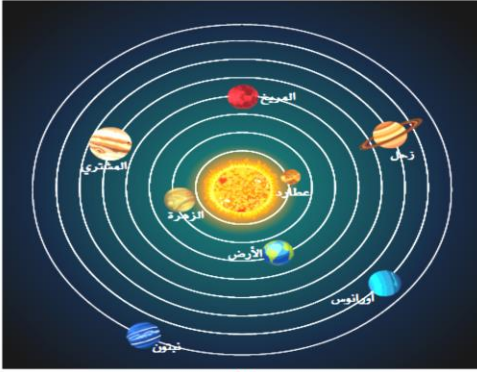
مدرسة أجيال الابداع الخاصة

# مراجعة عامة في الدراسات الاجتماعية للفف الخامس الفصل الدراسي الثاني

المديرية العامة للتربية والتعليم بمحافظة جنوب الشرقية  
مدرسة أجيال الابداع الخاصة

## مراجعة عامة دراسات للفصل الدراسي الثاني للصف الخامس

السؤال الاول : اختر الاجابة الصحيحة من البدائل المعطاة :



- ١- امامك صورة للمجموعة الشمسية انظر جيدا وحدد اقرب الكواكب الي الشمس هو.....  
( الزهرة- عطارد - الارض - المريخ )
- ٢- انظر للصورة وحدد ابعد كوكب عن الشمس هو.....  
( المشتري - زحل - اورانوس- نبتون )

- ٣- امامك صورة للمجرة التي يوجد بها مجموعتنا الشمسية وتسمى هذه المجرة باسم .....  
(درب التبانة - الفا - ميجا - اندروميدا )
- ٤- تعتبر مجرتنا التي تضم المجموعة الشمسية من النوع .....  
( البيضاوي- الحلزوني - غير منتظمة - الدائري )



- ٥- تتكون المجموعة الشمسية من ..... كواكب  
( ٤ - ٥ - ٦ - ٨ )
- ٦- يعتبر كوكب ..... اكبر كواكب المجموعة الشمسية  
( زحل - اورانوس - المشتري - نبتون )
- ٧- الكوكب الذي عرف بالكوكب المائي هو كوكب .....  
( الزهرة - الارض- المريخ - نبتون )
- ٨- تأسست الجمعية الفلكية العمانية عام .....  
( ٢٠٠٧ - ٢٠٠٨ - ٢٠٠٩ - ٢٠١٠ )
- ٩- يحتوي الغلاف ..... علي خليط من الغازات وبخار الماء والغبار.  
( الحيوي - الجوي - المائي - الصخري )

- ١٠- تكمن أهمية اغلفة كوكب الارض في مخزونها الهائل من .....  
 ( الموارد الطبيعية - الموارد البشرية -المصادر الاولية - المصادر الثانوية )  
 ١١- تعد مصادر الطاقة والمعادن من الموارد الطبيعية في الغلاف .....  
 ( الصخري - الجوي - المائي - الحيوي )



- ١٢- يعد تفاعل الانسان مع بيئته صور من صور الغلاف .....  
 ( الصخري - الجوي - المائي -الحيوي )  
 ١٣- الصورة التي امامك تعبر عن الموارد الطبيعية الموجودة بالغلاف .....  
 ( الصخري - الجوي - المائي -الحيوي )  
 ١٤- العلاقة بين الغلاف المائي والغلاف الصخري نتج عنها بعض مظاهر السطح مثل :  
 ( الجبال - الكهوف - المغارات - الوديان )



- ١٥- الصورة التي امامك تعبر عن تفاعل ..... مع بعضهم البعض.  
 ( الغلاف المائي والغلاف الصخري - الغلاف الحيوي والغلاف الصخري- الغلاف الجوي والغلاف الصخري)  
 ١٦- حصلت سلطنة عمان علي جائزة مجلس التعاون الخليجي للبيئة والحياة الفطرية في  
 مجال توعية البيئة في عامي .....

( ٢٠١١و٢٠١٢ - ٢٠١٢و٢٠١٤ - ٢٠١٣ و ٢٠١٤ )

- ١٧- تبنت مؤسسات المجتمع في سلطنة عمان وبلشراف من هيئة البيئة مبادرة وطنية لزراعة  
 .....مليون شجرة

( ٥- ٦- ٨- ١٠ )

- ١٨- تصنف الموارد الطبيعية حسب استمراريته الي موارد .....  
 ( متجددة وغير متجددة- طبيعية وبشرية- مستمرة وغير مستمرة- )  
 ١٩- من انواع الموارد المتجددة .....

( النفط- الغاز- المعادن - الرياح )

- ٢٠- من انواع الموارد غير المتجددة .....  
 ( الرياح - النفط - طاقة الشمس- المياه )

- ٢١- من الموارد المتجددة بسرعة .....  
 ( التربة- المياه الجوفية- اشجار الغابات المقطوعة - الغطاء النباتي)

- ٢٢- في الصورة التي امامك احد اهمية الموارد الطبيعية في  
 النشاط الاقتصادي.....



(انتاج الطاقة - انتاج الغذاء - مصدر للدخل - مواد خام  
 للصناعة)

- ٢٣- بدأت تأسيس الدولة الاسلامية عندا هاجر الرسول (ص) من مكة الي  
 .....

( الطائف- جدة - اليمامة - المدينة المنورة)

- ٢٤- عرف اتباع الرسول (ص) الذين هاجروا الي المدينة باسم .....  
 ( الانصار- الاوس - الخزرج- المهاجرين )

- ٢٥- أول عمل قام به النبي (ص) في تأسيس الدولة الإسلامية .....
- (بناء المسجد - صحيفة المدينة- المواخاة - الغزوات )
- ٢٦- اخي النبي (ص) بين المسلمين في المدينة وخاصة بين .....  
(المنافقين و اقريش - المهاجرين والانتصار - المسلمون واليهود )
- ٢٧- من مهام المسجد في عهد الرسول (ص) .....  
( استقبال الوفود - مقر القيادة - مكان الاجتماعات - جميع ماسبق )
- ٢٨- الطريقة التي اختارها الرسول (ص) في بناء المسجد هي .....  
( المفاضلة - الاختيار- الاقتراع - الناقاة )
- ٢٩- القواعد التي نظمت العلاقات بين الاطراف الثلاثة التي تعيش في المدينة هي .....  
( المسجد - المواخاة - الصحيفة - حماية الدولة )
- ٣٠- أول غزوة خاضها النبي (ص) للدفاع عن الدولة وحمايتها هي .....  
( أحد - بدر - الخندق - تبوك )
- ٣١- اخر غزوة شارك بها الرسول (ص) هي .....  
( أحد - بدر - الخندق - تبوك )
- ٣٢- الصورة التي امامك ابز مشاريع الطاقة المتجددة لتوليد الكهرباء من الرياح توجد في محافظة.....



(مسندم - ظفار - مسقط - البريمي)

٣٣- ارسل سيدنا محمد (ص) ..... برسالة الي ملكي عمان يدعوهم الي الاسلام.

( عمر بن الخطاب -عبدالله بن مسعود- عمرو بن العاص - خالد بن الوليد)  
٣٤- هذه الصورة التي امامك للرسالة التي ارسلها الرسول (ص) الي ملكي عمان وهما.....



(مالك بن فهم وهناة - معولة بنشمس وعبد عز - الملك الجلندي وابنه جيفر وعبد )

٣٥- ذهبت عدة وفود عمانية لرؤية الرسول (ص) ومنها الوفد الذي كا يرأسه (مازن بن غضوبة- ابناء الجلندي - مسلية بن زهران - جيفر وعبد)

٣٦- اول من أسلم من أهل عمان هو الصحابي .....  
(مازن بن غضوبة- ابناء الجلندي - مسلية بن زهران - جيفر وعبد)

٣٧- اسم اول مسجد بني في عمان هو .....  
( البياضة - الوكيل - المضمار -الشواذنة )

٣٨- اثناء حكم جيفر وعبد كان الفرس يحتلون مدينة.....  
( صلالة - جوادر - صحار - نزوي )

٣٩- احد الصحابة من عمان الذي اشتهر برواية الحديث عن النبي (ص) .....  
( مازن بن غضوبة - عبدالله ابن عباس - صحار بن العباس العبدى - ابوهريرة )

٤٠- اشهر المدن العمانية التي كانت لها مكانة في عهد الاسلام .....

(نزوي- مسقط- الرستاق - البريمي)

٤١- جميع ما يلي من مكونات القشرة الأرضية ما عدا :

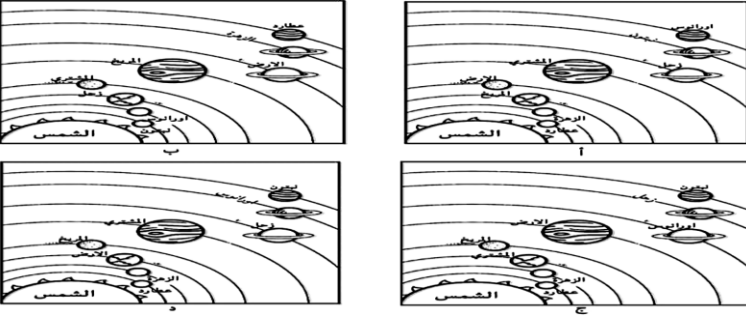
د- التربة

أ- الكائنات الدقيقة ب- المعادن ج- الصخور


٤٢- الشكل الصحيح الذي يمثل ترتيب

المجموعة

الشمسية :



٤٣- الصورة التي تمثل الغلاف الجوي :



٤٤- مظهر السطح في الصورة المقابلة ناتج عن تفاعل الغلاف الصخري مع الغلاف :

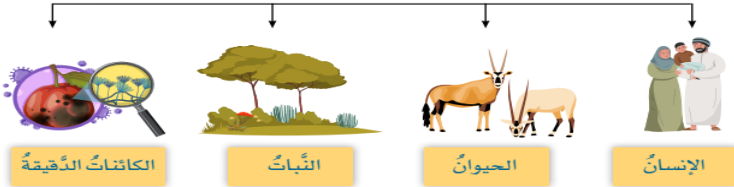
أ - المائي ب - الصخري ج - الجوي د - الحيوي

٤٥- الغلاف الذي يُمثِّله الشكل المقابل

٤٦- أ- المائي ب- الجوي

ج- الصخري د- الحيوي

٤٧- الرمز الذي يُمثِّل شعار الجمعية العُمانية التي تُعد مركزاً للأنشطة الفلكية داخل سلطنة عُمان وخارجها:




٤٨- الأرقام الدالة على عناصر الغلاف الجوي وفقاً للجدول:

(أ- ٢، ١) (ب- ٣، ١) (ج- ٤، ٣) (د- ٤، ٢)

م	عناصر أغلفة كوكب الأرض
1	غاز الأكسجين
2	المياه العذبة
3	بخار الماء
4	المعادن

٤٨- الرقم الذي يُشير إلى المشكلة التي تظهر في الغلاف الحيوي

في الشكل المُقابل:

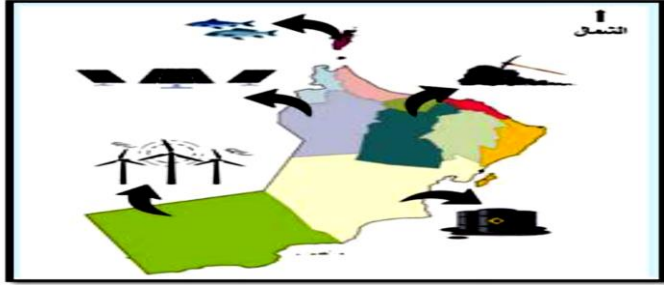


(أ- ١) (ب- ٢)

(ج- ٣) (د- ٤)

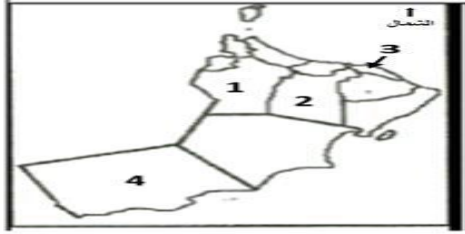


٤٩- المحافظة التي تتميز بوجود طاقة الشمس فيها وفقاً للخريطة المقابلة:



- أ-الداخلية  
ب- مسندم  
ج- الوسطى  
د-الظاهرة

٥٠- الرقم الذي يُشير إلى المحافظة التي يوجد بها سد وادي ضيقة وفقاً للخريطة المقابلة:



- أ- ( ١ )  
ب- ( ٢ )  
ج- ( ٣ )  
د- ( ٤ )

٥١- المسطح المائي المُشار إليه بالرقم ( ١ ) هو :



- أ- الخليج العربي  
ب- البحر الأحمر  
ج- بحر العرب  
د- بحر عُمان

٥٢- الرقم الذي يُشير إلى مكة المكرمة:

- أ- ( ١ )  
ب- ( ٢ )  
ج- ( ٣ )  
د- ( ٤ )

٥٣- المفهوم الذي يُطلق على دخول المناطق غير المسلمة الإسلام، لتصبح جزءاً من الدولة الإسلامية أو تابعة له:

أ-الغزوة ب- الصَّحيفة ج- الفتوحات الإسلامية د- الهجرة

٥٤- الشخصية العُمانية التي اتَّصفت بالتحدث بالفارسية وقارئة في الكتب السماوية:

أ-أبو صفرة العتكي ب-سلمة بن عياذ الأزدي ج-كعب بن برشة الطاحي د-صالح بن المتوكل

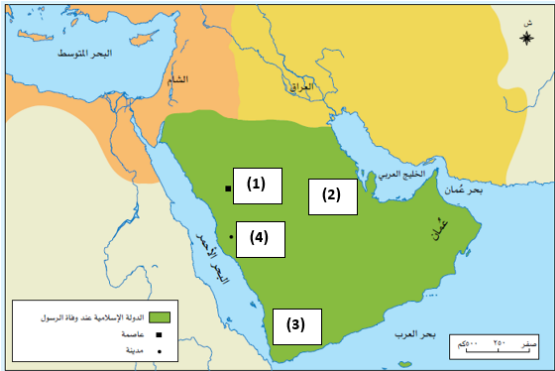
٥٥-الشخصية العُمانية التي رافقت الصحابي مازن بن غصوبة في رحلته إلى المدينة المنورة وقد التقى بالرسول

ﷺ وشارك في الفتوحات الإسلامية واتَّصف بالإخلاص والشجاعة:

أ-أبو صفرة العتكي ب-صالح بن المتوكل ج-كعب بن برشة الطاحي د-سلمة بن عياذ الأزدي

٥٦-المدينة التي كانت عاصمة عُمان عندما أرسل سيدنا محمد عليه السلام الصحابي عمرو بن العاص برسالة ليدعو

ملكي عُمان جيفر وعبد ابني الجلندي إلى الإسلام:



د-اليمامة

ج-مكة المكرمة

ب-صحار

أ-البريمي

٥٧-الرقم الذي يُشير إلى المدينة العُمانية التي كانت

تُسمى قديماً توّام أو توّام:

(أ-) ١ (ب-) ٢

(ج-) ٣ (د-) ٤

٥٨-يقع مسجد الشواذنة في ولاية:

أ-صحار ب-سمائل ج-نزوى د-البريمي

٥٩-المحافظة التي تضم أكبر عدد من مؤسسات التعليم في السلطنة وفقاً للشكل المُقابل:

أ-جنوب الباطنة ب-مسقط  
ج-ظفار د-شمال الباطنة

٦٠-المفهوم الذي يُطلق على ما يحصل عليه المواطن من الدولة والمجتمع، وفقاً للقانون وثقافة المجتمع:

أ-الواجبات ب-الأسرة ج-الحقوق د-النظام الأساسي للدولة  
٦١-الحق الذي يندرج تحته حماية الممتلكات العامة والخاصة وفقاً لما نصّ عليه النظام الأساسي للدولة:

أ-التعليم ب-التعبير عن الرأي ج-الرعاية الصحية د-الأمن والأمان  
٦٢--العام الميلادي الذي أُنشئت فيه الجمعية العُمانية للأشخاص ذوي الإعاقة:

أ- ١٩٩٠ م ب- ١٩٩٥ م ج- ٢٠٠٠ م د- ٢٠٠٥ م

٦٣-اللجنة العُمانية التي تقوم بمتابعة أوضاع حقوق الإنسان من خلال عمليتي الرصد وتلقّي البلاغات:  
أ-اللجنة العُمانية للشطرنج  
ب-اللجنة العُمانية للأعمال الخيرية

ج-اللجنة العُمانية لحقوق الإنسان د-اللجنة الوطنية العُمانية للتربية والثقافة والعلوم

٦٤-المدينة العُمانية التي يوجد بها المقر الرئيس للجمعية العُمانية للأشخاص ذوي الإعاقة:

أ-مسقط ب-صحار ج-صلال د-نزوى

٦٥-الإمام الذي أرسل وصيةً للأسطول العُماني المُتجه إلى جزيرة سقطرى والتي تُعد وثيقة مُهمّة في حقوق الإنسان:

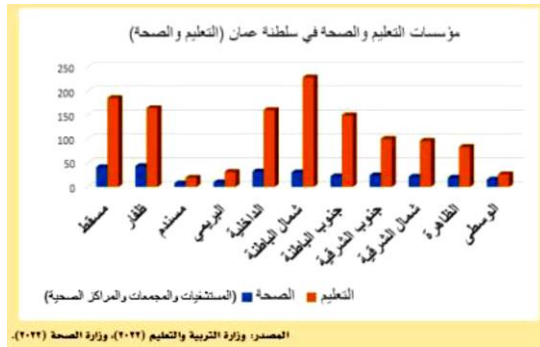
أ-الصلت بن مالك الخروصي ب-أحمد بن سعيد ج-سعيد بن عبدالله الرحيلي د-ناصر بن مرشد اليعربياً

٦٦-الرقم الذي يُشير إلى البحر المتوسط في الخريطة المُقابلة:

(أ-) ١ (ب-) ٢

(ج-) ٣ (د-) ٤

٢٠





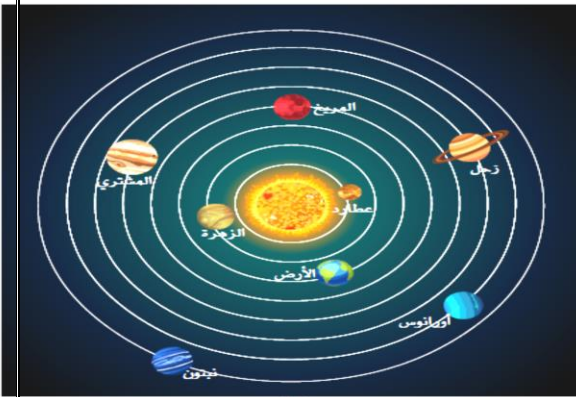
## السؤال الثاني : مخططات وصور

(أ) اكمل المخطط الاتي عن اغلفة كوكب الارض



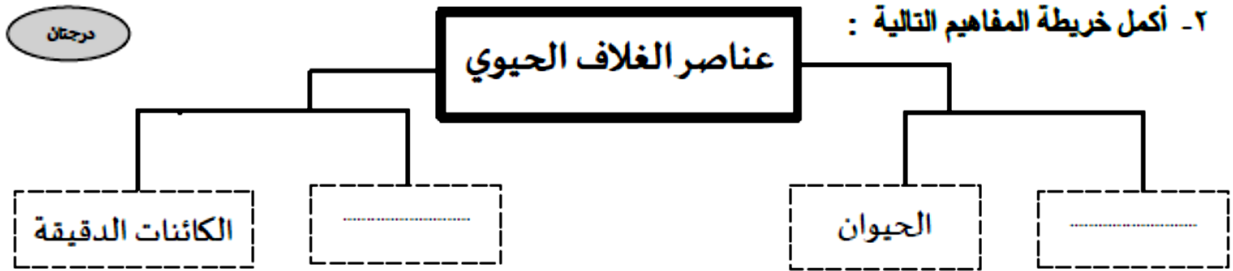
(ب) انظر للصورة الاتية ثم اكمل الجدول الاتي :

العبارة	اسم الكوكب
الكوكب الأقرب إلى الشمس.	المريخ
الكوكب الأكبر في المجموعة الشمسية.	زحل
الكوكب الثالث في ترتيب المجموعة الشمسية.	عطارد
الكوكب الذي يتميز بوجود حلقات حوله.	أورانوس



(ج) أكمل الشكل التالي من الكلمات ما بين القوسين :

(تدهور الغطاء النباتي – الانهيارات الأرضية – تلوث المياه – الأمطار الحامضية )



(د) انظر للصورة التي امامك واجب عن لاسئلة :



- ١- ما اسم هذا المشروع .....
- ٢- يقع هذا المشروع بمحافظة..... بولاية.....
- ٣- حدد أهمية الاستفادة من هذا المشروع.

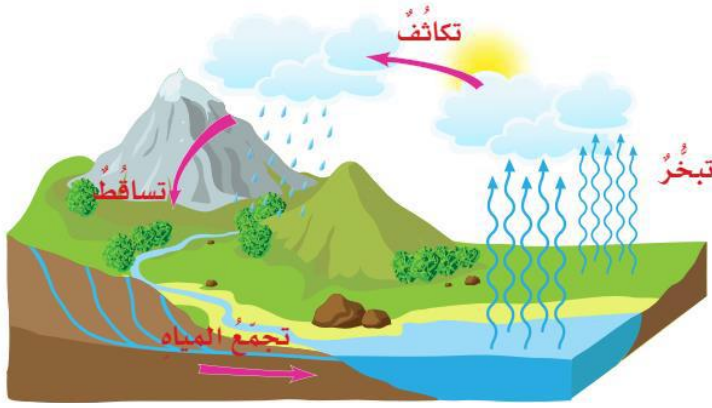
.....  
.....  
.....

(د) تدبر الآية الكريمة، ثم أجب عن ال ــــــــ ص و وال الذي يليها، قال الله تعالى:

﴿لَا الشَّمْسُ يَنْبَغِي لَهَا أَنْ تُدْرِكَ الْقَمَرَ وَلَا اللَّيْلُ سَابِقُ النَّهَارِ وَكُلٌّ فِي فَلَكٍ يَسْبَحُونَ﴾ (يس: ٤٠)

استنتج عدم تصادم كواكب المجموعة الشمسية مع بعضها البعض وانها في حركة مستمرة

.....



هـ) أ- العملية التي تحدث في الطبيعة ويُمثِّلها الشكل المُقابل:

أ- دورة الكربون ب- التمثيل الضوئي

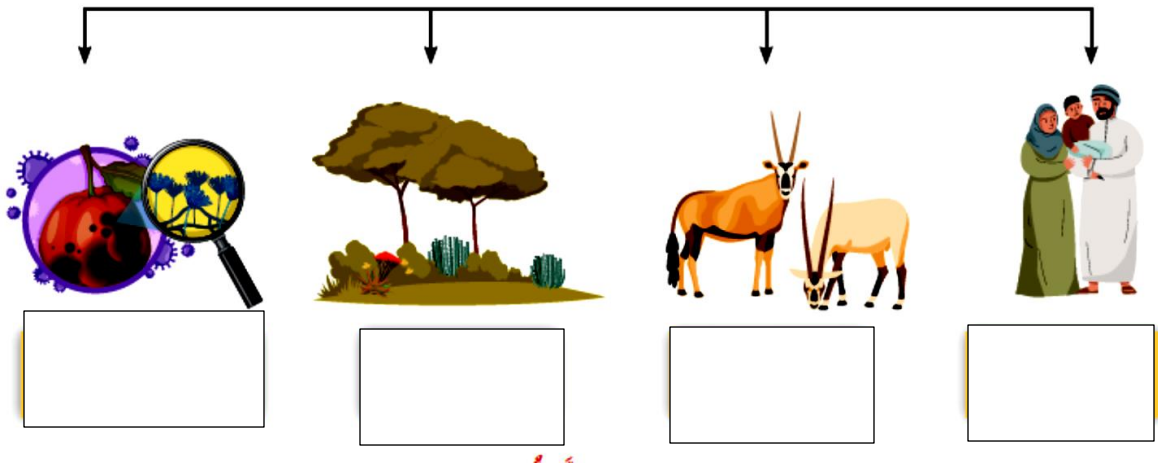
ج- دورة الماء د- الأمطار الحمضية

ب- ما المقصود بالدورة المائية في الطبيعة:

.....

.....

و) اكمل المخطط الآتي : اهم عناصر الغلاف الحيوي



(ز)



- استنتج الأغلفة الأرضية التي تتفاعل في الصورة المقابلة .

ح) اكتب اسفل كل صورة الغلاف التي تنتمي اليه:



.....

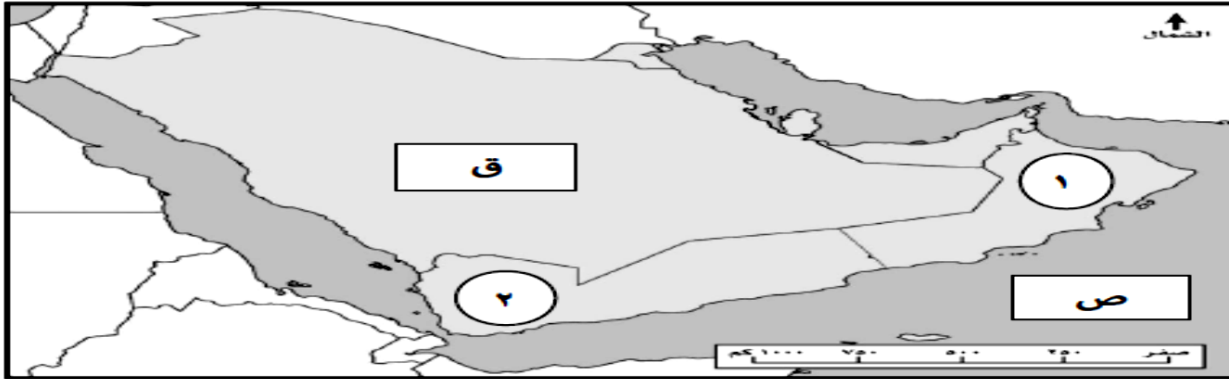
.....

.....

.....

## السؤال الثالث : خرائط ورسومات بيانية:

ولا: من خلال دراستك لأغلفة كوكب الأرض ، انظر إلى الخريطة ثم أجب عن التالي :



١- الدولة التي حصلت على جائزة مجلس التعاون الخليجي للبيئة والحياة الفطرية للتوعية البيئية في عامي ٢٠١٣/٢٠١٤ والمشار إليها بالرقم ( ..... )

٢- ظل الجزء الذي يغطي ٧١ % من مساحة سطح الأرض :

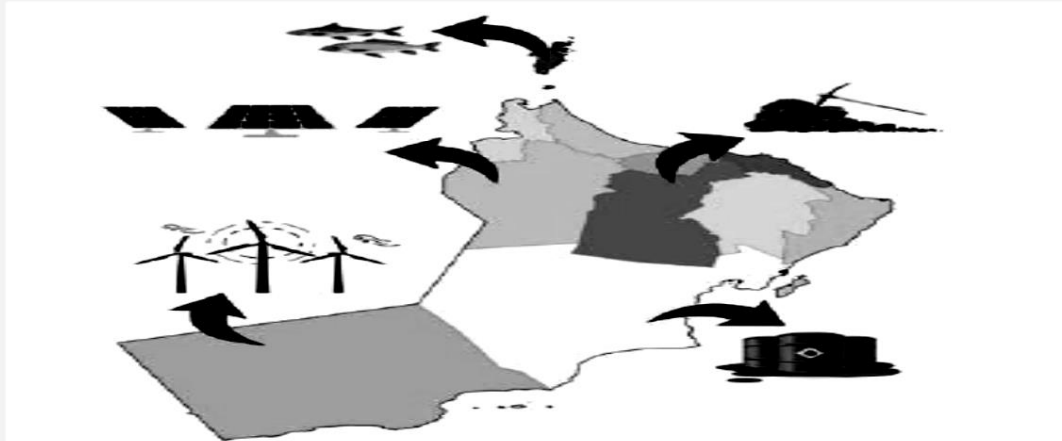
☐ ص

☐

☐ ق

☐

ادرس الشكل الذي أمامك، الذي يتضمن أمثلة للموارد الطبيعية في بعض محافظات سلطنة عُمان، ثم أكمل الجدول:



المحافظة	اسم المورد	نوعه (متجدد - غير متجدد)



حدد علي الخريطة الاتية طريق هجرة النبي  
(ص) الي المدينة



حدد علي الخريطة التي أمامك امتداد الدولة الإسلامية في عهد الرسول (ص)

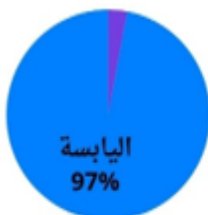


امامك خريطة لاشهر المدن العمانية التي لها مكانة  
وقت الاسلام حدد مدلول حدد مكانها على الخريطة

- ١- صحار
- ٢- مرباط
- ٣- سمائل
- ٤- البريمي



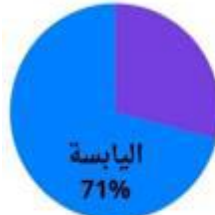
الشكل الصحيح الذي يُمثل النسبة المئوية التي تُغطيها  
اليابسة من مساحة سطح الأرض:



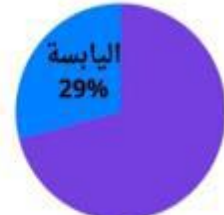
(د)



(ج)



(ب)

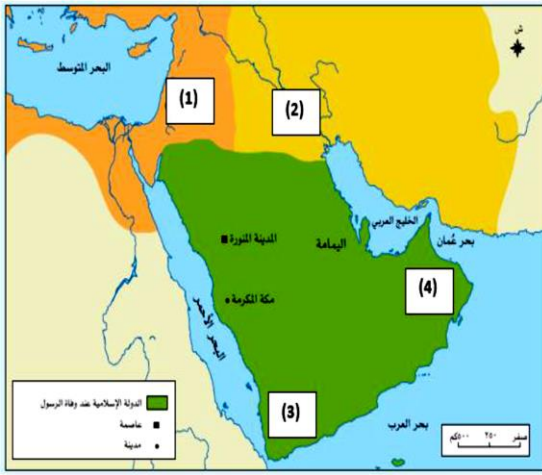


(أ)



الرقم الذي يُشير إلى المدينة العُمانية التي كانت ميناءً رئيساً في جنوب عُمان، وله دورٌ مهم في النشاط التجاري:

- أ- ( ١ )  
ب- ( ٢ )  
ج- ( ٣ )  
د- ( ٤ )



الرقم الذي يُشير إلى بلاد الشام في الخريطة المُقابلة:

- أ- ( ١ )  
ب- ( ٢ )  
ج- ( ٣ )  
د- ( ٤ )

### السؤال الرابع : اجب عن الاسئلة الاتية:

١- ما المقصود بالامطار الحامضية

.....

.....

٢- وضح أهمية اغلفة كوكب الارض

.....

.....

٣- ما النتائج المتوقعة اذا لم يكن الغلاف الجوي موجود .

.....

.....

٤- ما أهمية الماء من خلال الاية الكريمة (( وجعلنا من الماء كل شئ حي ))

.....

.....

٥- دلل عل تاثير الانسان وتفاعله مع اغلفة كوكب الارض



٦- ما المقصود بمجرة درب التبانة .

٧- فسر عد تصادم كواكب المجموعة الشمسية مع بعضها البعض.

٨- فسر تسمية كوكبنا بالموكب المائي.

٩- ما المقصود بالموارد الطبيعية .

اقرأ النص، ثم أجب:

ذهبت وفودٌ عُمانيةٌ عديدةٌ لرؤيةِ الرسولِ محمدٍ ﷺ، والالتقاءِ بهِ.

- ما المقصودُ بالوفودِ؟

- لماذا كانت وفودُ العُمانيين تُجّهُ لرؤيةِ الرسولِ محمدٍ ﷺ؟

١-

٢-

تأمل الآية الكريمة، ثم أجب:

قَالَ اللَّهُ تَعَالَى: ﴿أُذِنَ لِلَّذِينَ يُقَتَلُونَ بِأَنَّهُمْ ظَلَمُوا وَإِنَّ اللَّهَ عَلَىٰ نَصْرِهِمْ لَقَدِيرٌ﴾ (الحج: ٣٩).

١ ما الأمرُ الَّذِي أُذِنَ اللَّهُ تَعَالَى للمسلمينَ القيامَ بهِ؟

٢ اذكر الوعدَ الَّذِي وَعَدَهُ اللَّهُ عِبَادَهُ المسلمينَ.

اقرأ النص الآتي الذي ورد في الصحيفة، ثم استنتج أحد الأعمال التي قام بها الرسول ﷺ في المدينة المنورة:

« إِنَّ الْجَارَ كَالنَّفْسِ لَا يُضَرُّ، وَإِنَّهُ مَا كَانَ بَيْنَ أَهْلِ هَذِهِ الصَّحِيفَةِ مِنْ حَدِيثٍ وَشَجَارٍ يُخَافُ فُسَادَهُ فَإِنَّ مَرَدَّهُ إِلَى اللَّهِ -عَزَّ وَجَلَّ-، وَإِلَى مُحَمَّدٍ رَسُولِ اللَّهِ ﷺ. » (الخصري، ١٩٩٨).

١٣- ما المقصود بالفتوحات الإسلامية

١٤- حدد الاسس التي قام بها الرسول (ص) في تأسيس الدولة الإسلامية .

١٥- اجتهد الرسول (ص) في نشر الاسلام لإرسال الرسائل الي ملوك الدول المجاورة حدد اثنين من هذه الدول.

١٦- ما هي ادوار المسجد في عهد النبي (ص).

١٧- لماذا قام النبي (ص) بالغزوات .

١٨- ما اهمية الصحيفة التي اصدرها النبي (ص) لسكان المدينة

١٩- وضح اهمية الموارد الطبيعية في النشاط الاقتصادي

٢٠- ما المقصود بالموارد المتجددة

.....  
.....

٢١- ما المقصود باستدامة الموارد الطبيعية.

.....  
.....

٢٢- وضح جهود السلطنة في استدامة الموارد الطبيعية

.....  
.....

٢٣- فسر توجه سلطنة عمان نحو الاستفادة من الموارد المتجددة

### السؤال السادس : التصنيفات والمقارنات

(١) صنف الموارد الآتية الى موارد متجددة وغير متجددة:

( الماء – النفط – طاقة الرياح – الغاز الطبيعي- طاقة الشمس – الفحم )

موارد متجددة	موارد غير متجددة	الاهمية الاقتصادية

(٢) صنف أهم المدن الآتية التي ازدهرت في عهد الرسول (ص) حسب موقعها وأهميتها

الموقع	الأهمية	اقتصادية	سياسية	ثقافية
داخلية				
ساحلية				

(٣) حدد نوع الموارد الطبيعية التي يحتويه كل غلاف من اغلفة كوكب الارض

الغلاف الجوي	
--------------	--

	الغلاف المائي
	الغلاف الصخري
	الغلاف الحيوي

٤) صنف المشكلات البيئية التالية على حسب الغلاف الأرضي الذي تحدث فيه :

( أ- الحيوي / ب- الصخري / ج- الجوي / د- المائي )

المشكلات البيئية	الأمطار الحمضية	تلوث المياه	تدهور الغطاء النباتي	الانهيارات الأرضية
الغلاف الأرضي				

السؤال السابع : الشخصيات التاريخية:

تعرف اسم الشخصية الآتية :

الأعمال	الشخصية
كَانَ خَطِيبًا مَشْهُورًا.	
رَافَقَ الصَّحَابِيَّ مَازِنَ بْنَ غُضُوبَةَ فِي رَحْلَتِهِ إِلَى الْمَدِينَةِ الْمُنَوَّرَةِ.	
كَانَ فِي الْوَفْدِ الَّذِي ذَهَبَ إِلَى الْمَدِينَةِ الْمُنَوَّرَةِ فِي عَهْدِ أَبِي بَكْرٍ الصِّدِّيقِ <small>رضي الله عنه</small> .	

ارسل معه الرسول (ص) رسالة الدعوة الي ملكي عمان

استشاره ملكي عمان في رسالة الدعوة التي ارسلها عمرو بن العاص

قدم الي المدينة في قومه وكان عنده حب الاستطلاع



سلطنة عُمان  
وزارة التربية والتعليم

امتحان مادة الدراسات الاجتماعية  
للفيف الخامس الأساسي - الفيفر المسائية  
للعام الدراسي 1445هـ - 2024/2023 م  
الدور الأول - الفصل الدراسي الثاني

- زمن الامتحان: ( ساعة ونصف )  
● الإجابة في الدفتر نفسه.  
● عدد صفحات أسئلة الامتحان: ( 5 ) صفحات.

			اسم الطالب
	الصف		المدرسة

السؤال	الدرجة		التوقيع بالاسم	
	بالأرقام	بالحروف	المصحح الأول	المصحح الثاني
1				
2				
3				
4				
5				
المجموع			جمعه	مراجعة الجمع
المجموع الكلي	40			

المراقب (1)		التوقيع	
المراقب (2)		التوقيع	

أجب عن جميع الأسئلة الآتية

12

**السؤال الأول:**

**ضع دائرة حول رمز الإجابة الصحيحة لكل مفردة من المفردات الآتية:**

1- الكوكب الذي يحتل المرتبة الأولى في المجموعة الشمسية:

- أ- عطارد      ب- الأرض      ج- المريخ      د- الزهرة

2- إذا علمت أن نسبة اليابس 29% على الكرة الأرضية فإن نسبة الماء تشكل:

- أ- 71%      ب- 30%      ج- 31%      د- 32%

3- جميع ما يلي موارد متجددة ما عدا:

- أ- النبات      ب- الرياح      ج- الشمس      د- النفط

4- آخر غزوة شارك فيها الرسول صلى الله عليه وسلم:

- أ- أحد      ب- تبوك      ج- الخندق      د- بدر

5- المفهوم الذي يطلق على دخول المناطق غير المسلمة الإسلام لتصبح جزءاً من الدولة الإسلامية:

- أ- الغزوة      ب- الصحيفة      ج- الهجرة      د- الفتوحات الإسلامية

6- عدد أغلفة كوكب الأرض:

- أ- 2      ب- 3      ج- 4      د- 5

7- العمل الأول الذي قام به الرسول صلى الله عليه وسلم بعد وصوله إلى المدينة المنورة:

- أ- الصحيفة      ب- المؤاخاة      ج- بناء المسجد      د- حماية الدولة

8- شخصية عمانية كان يتحدث الفارسية وقارئاً في الكتب السماوية:

- أ- أبو صفرة العتكي      ب- كعب بن برشه الطاحي      ج- سلمة بن عباد الأزدي      د- صالح بن المتوكل

9- العام الذي انضمت فيه سلطنة عمان إلى اتفاقية حقوق الطفل:

- أ- 1994      ب- 1995      ج- 1996      د- 1997



### تابع السؤال الأول:



- 10- حق الطفل الذي تمثله الصورة المقابلة:  
أ- حماية الطفل من أداء الأعمال الخطرة  
ب- تمتع الطفل بالمساواة  
ج- حق الطفل في التمتع بمستوى صحي عال  
د- يحق للطفل التعبير عن رأيه ومشاعره بحرية

- 11- من المشكلات البيئية في الغلاف الحيوي:  
أ- الأمطار الحمضية      ب- تلوث المياه      ج- تدهور الغطاء النباتي      د- الانهيارات الأرضية

- 12- المقر الرئيسي للجمعية الفلكية العمانية للأشخاص ذوي الإعاقة:

- أ- مسقط      ب- الرستاق      ج- نزوى      د- صحار

### السؤال الثاني:

أولاً: اكتب أمام كل عبارة المصطلح / المفهوم الذي يعبر عنه فيما يلي:

المصطلح / المفهوم	العبارة
أ-	هي الموارد الموجودة بكميات محدودة في الأرض وتنفذ مع استهلاكها
ب-	الكتب التي أنزلها الله تعالى على الرسل والأنبياء لتكون هداية ورحمة للناس
ج-	ما يحصل عليه المواطن من الدولة والمجتمع وفقاً للقانون وثقافة المجتمع.

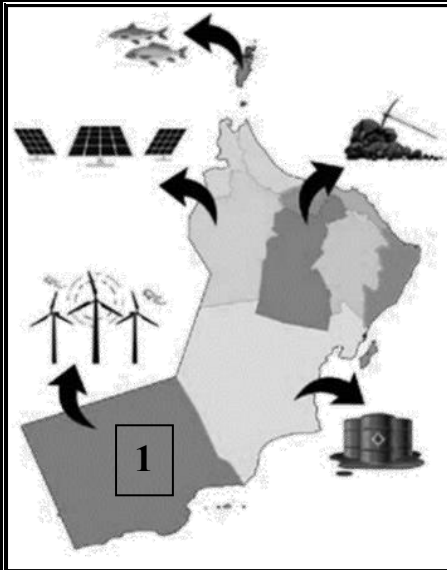
ثانياً: علل لما يأتي:

أ- اضطر المسلمون بقيادة الرسول صلى الله عليه وسلم إلى خوض العديد من المعارك.

.....  
.....

ب- ارتفاع درجة الحرارة على كوكب عطارد.

.....  
.....



ثالثاً: ادرس الصورة المقابلة ثم اجب عما يلي:

أ- ما الطاقة المستخدمة في محطة توليد الكهرباء التي يشير إليها الرقم (1)؟

.....

ب- متى تم افتتاح هذه المحطة؟

.....

ج- في أي محافظة توجد هذه المحطة؟

.....

### السؤال الثالث:

أولاً: ادرس الصورة التالية ثم اجب عن الأسئلة:

أ- ما اسم الغلاف الذي تشير إليه الصورة المقابلة؟

.....

ب- ما هو المورد الطبيعي الذي توضحه الصورة؟

.....

ج- نوع المورد الطبيعي:

( متجدد - غير متجدد ) اختر الإجابة الصحيحة



ثانياً: تأمل الآية الكريمة ثم اجب عما يلي:

قال الله تعالى "إذن للذين يقاتلون بأنهم ظلموا وإن الله لنصرهم لقدير"

أ- ما الأمر الذي أذن الله تعالى للمسلمين القيام به؟

.....

ب- اذكر الوعد الذي وعده الله تعالى عباده المسلمين؟

.....

ثالثاً: صنف الموارد الطبيعية التالية إلى موارد متجددة وموارد غير متجددة:

(النفط - الحيوانات - الرياح - الغاز الطبيعي - المياه - الفحم)

الموارد المتجددة	الموارد غير المتجددة



## السؤال الخامس:

6

أولاً: أقرأ النص التالي ثم اجب عما يلي:

"خرجت أسرة لقضاء وقت ممتع في إحدى الحدائق العامة في سلطنة عمان وفي أثناء جلوسهم قام الأطفال بقطف الأزهار"

أ- ما رأيك في السلوك الذي قام به الأطفال؟ ولماذا؟

ب- اكتب نصيحة تقدمها لهؤلاء الأطفال؟

ثانياً: صنف المؤسسات الوطنية التالية إلى المجال المختصة فيه:

(المؤسسات القضائية - المؤسسات الأمنية - المؤسسات الخدمية)

المؤسسات	المجال المختصة فيه
	أ- تقديم الخدمات للمواطنين حسب اختصاصاتها
	ب- حفظ حقوق المواطنين من أي اعتداء أو ضرر

ثالثاً: أمامك صورة لإحدى المشكلات البيئية التي تحدث لأحد أغلفة كوكب الأرض. ادرسها جيداً ثم اجب عما يلي:



أ- ما المشكلة البيئية التي تعبر عنها الصورة؟

ب- سم الغلاف الأرضي التي تحدث فيه هذه المشكلة؟

انتهت الأسئلة مع الدعاء للجميع بالتوفيق والنجاح.



سلطنة عُمان  
وزارة التربية والتعليم

امتحان مادة الدراسات الاجتماعية  
للفيف الخامس الأساسي - الفيفر الصباحية  
للعام الدراسي 1445هـ - 2024/2023 م  
الدور الأول - الفصل الدراسي الثاني

- زمن الامتحان: ( ساعة ونصف )
- عدد صفحات أسئلة الامتحان: ( 5 ) صفحات.
- الإجابة في الدفتر نفسه.

اسم الطالب		
الصف	المدرسة	

التوقيع بالاسم		الدرجة		السؤال
المصحح الثاني	المصحح الأول	بالأرقام	بالحروف	
				1
				2
				3
				4
				5
مراجعة الجمع	جمعه			المجموع
		40		المجموع الكلي

المراقب (1)	التوقيع	
المراقب (2)	التوقيع	

أجب عن جميع الأسئلة الآتية

12

**السؤال الأول:**

**ضع دائرة حول رمز الإجابة الصحيحة لكل مفردة من المفردات الآتية:**

1- الكوكب الذي يحتل المرتبة الثالثة في المجموعة الشمسية:

- أ- عطارد      ب- الأرض      ج- المريخ      د- الزهرة

2- المقر الرئيسي للجمعية العُمانية للأشخاص ذوي الإعاقة:

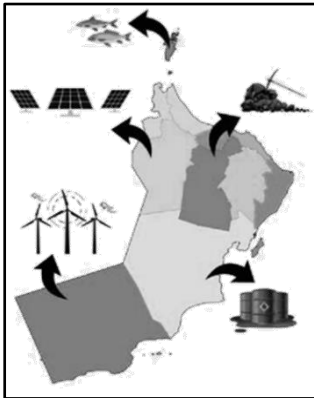
- أ- مسقط      ب- الرستاق      ج- نزوى      د- صحار

3- من المشكلات البيئية في الغلاف الحيوي:

- أ- الأمطار الحمضية      ب- تلوث المياه      ج- تدهور الغطاء النباتي      د- الانهيارات الأرضية

4- أول غزوة في الإسلام:

- أ- أحد      ب- تبوك      ج- الخندق      د- بدر



5- المحافظة التي يتوافر فيها الأسماك حسب الخريطة المقابلة:


- أ- الوسطى      ب- مسندم      ج- الظاهرة      د- الداخلية

6- يطلق على أتباع الرسول صلى الله عليه وسلم الذين هاجروا من مكة إلى المدينة:

- أ- الأنصار      ب- المهاجرين      ج- الصحابة      د- التابعين

7- عدد كواكب المجموعة الشمسية:

- أ- 5      ب- 6      ج- 7      د- 8



8- الكوكب الذي يمثله الشكل المقابل:

- أ- المريخ      ب- الأرض      ج- المشتري      د- زحل

9- العمل الأول الذي قام به الرسول صلى الله عليه وسلم بعد وصوله إلى المدينة المنورة:

- أ- بناء المسجد      ب- المؤاخاة      ج- الصحيفة      د- حماية الدولة



## تابع السؤال الأول:

10- اليوم الذي خصته سلطنة عُمان للاحتفال بيوم المرأة العمانية:

د- 17 ديسمبر

ج- 17 نوفمبر

ب- 17 أكتوبر

أ- 17 سبتمبر



11- حق الطفل الذي تمثله الصورة المقابلة:

أ- حماية الطفل من أداء الأعمال الخطرة

ب- تمتع الطفل بالمساواة

ج- حق الطفل في التمتع بمستوى صحي عال

د- حق للطفل في التعبير عن رأيه ومشاعره بحرية

12- شخصية عمانية عرف بالإخلاص والشجاعة ورافق مازن بن غضوبه في رحلته للمدينة المنورة:

أ- أبو صفرة العتكي      ب- سلمة بن عباد الأزدي      ج- صالح بن المتوكل      د- كعب بن برشة الطاحي

8

## السؤال الثاني:

أجب عن جميع الأسئلة الآتية:-

1- اكتب أمام كل عبارة المصطلح /المفهوم الذي يعبر عنه فيما يلي:

المصطلح / المفهوم	العبارة
أ-	تجمع عدد كبير من النجوم والسحب والغازات على شكل شريط حلزوني مضيء في السماء.
ب-	كتاب أو وثيقة وضعها الرسول صلى الله عليه وسلم وضح فيها الحقوق والواجبات لسكان المدينة المنورة.
ج-	ما يجب على المواطن القيام به تجاه الدولة والمجتمع وفقا لقانون وثقافة المجتمع.

2- علل لما يأتي:

أ-اهتمام الرسول محمد صلى الله عليه وسلم بتطبيق مبدأ المؤاخاة في مجتمع المدينة المنورة.

.....

.....

ب-سبب البرودة الشديدة على كوكب نبتون.

.....

.....

3- ادرس الشعار التالي ثم اجب عما يلي:

أ-ما اسم الجمعية التي يمثلها الشعار المقابل؟


.....

ب-متى تأسست هذه الجمعية؟

.....

ج-اذكر اختصاص هذه الجمعية؟

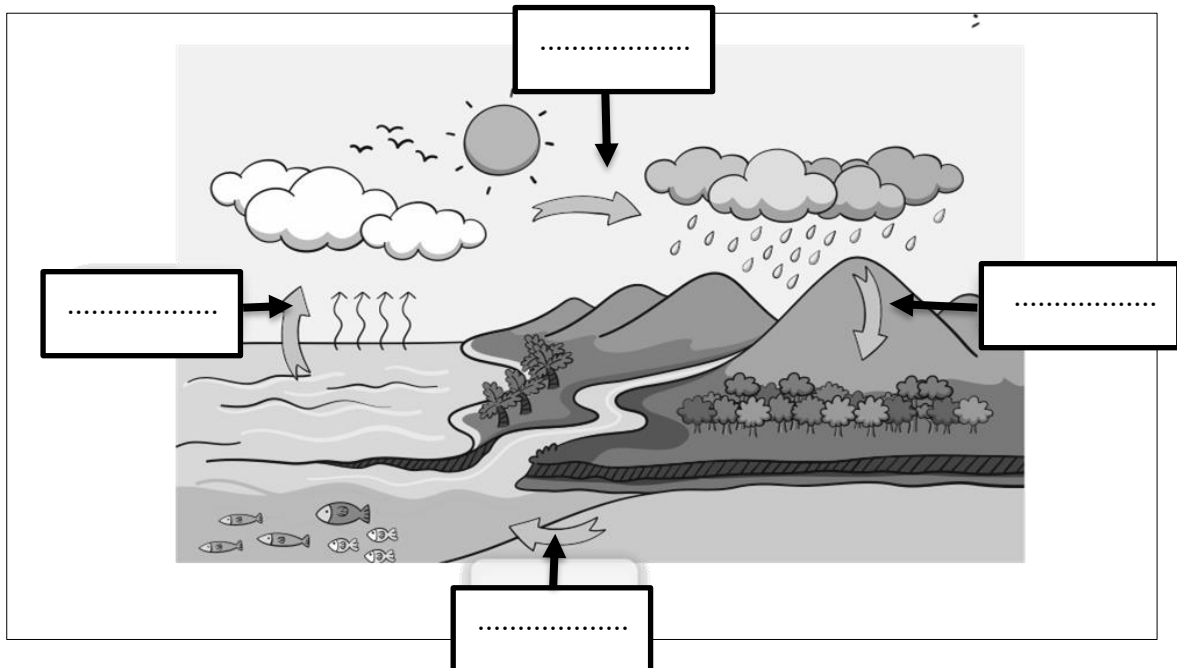
.....



### السؤال الثالث:

8

1- يوضح الشكل أدناه مراحل دورة الماء في الطبيعة. أكتب اسم كل مرحلة في مكانها المناسب.



2- اذكر عنصرين لكل مما يلي:

أ- سكان المدينة المنورة في عهد الرسول صلى الله عليه وسلم؟

1- ..... 2- .....

ب- مكونات الغلاف الحيوي؟

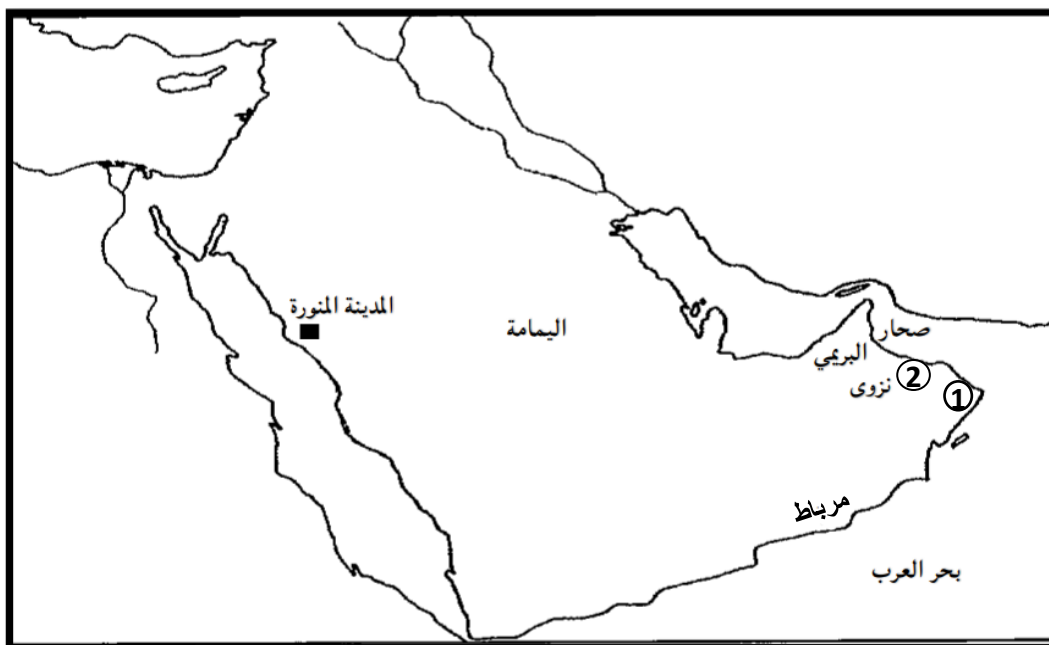
1- ..... 2- .....

3- صنف العبارات التالية إلى حقوق وواجبات وذلك بوضع إشارة (✓) عند الخيار الصحيح:

العبارات	حقوق	واجبات
أ- إنشاء المدارس والجامعات والمعاهد		
ب- اهتمام الطالب بدروسه والمذاكرة باستمرار		
ج- مشاركة الأسرة في أعمالها		
د- حرية التعبير عن الرأي بما لا يسيء للآخرين		

## السؤال الرابع:

1- ادرس خريطة شبه الجزيرة العربية ثم أجب عما يلي:



أ- استخرج من الخريطة:

1- ميناء رئيسي في جنوب عمان وكان له دور مهم في النشاط التجاري .....

2- رقم المدينة التي ينتمي إليها أول من أسلم من عمان .....

3- المدينة التي اتخذها الرسول عاصمة للدولة الإسلامية .....

4- المدينة العمانية التي بني فيها مسجد الشواذنة .....

ب- اكتب المواقع التالية على الخريطة: (البحر الأحمر - الخليج العربي)

2- صنف الموارد الطبيعية التالية إلى موارد متجددة وموارد غير متجددة:

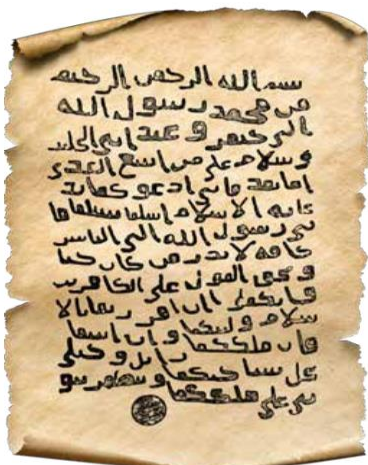
(النفط - الحيوانات - الرياح - الغاز الطبيعي - المياه - الفحم)

الموارد المتجددة	الموارد غير المتجددة

### السؤال الخامس:

6

1- أمامك صورة رسالة الرسول صلى الله عليه وسلم لمليكي عمان ادرسها جيداً ثم اجب عما يليها:-  
أ- من الذي حمل رسالة الرسول صلى الله عليه وسلم إلى مليكي عمان؟



ب- من كان مليكي عمان في تلك الفترة؟


ج- ماهي المدينة العمانية التي حظيت باستقبال رسالة الرسول صلى الله عليه وسلم؟

2- صنف المؤسسات الوطنية التالية إلى المجال المختصة فيه:

(المؤسسات القضائية - المؤسسات الأمنية - المؤسسات الخدمية)

المجال المختصة فيه	المؤسسات
أ- تقديم الخدمات للمواطنين حسب اختصاصاتها	
ب- حفظ حقوق المواطنين من أي اعتداء أو ضرر	
ج- حفظ الأمن داخل الوطن لينعم المواطن بالرخاء	

3- أمامك صورة لأحد المشكلات البيئية التي تحدث لأحد أغلفة كوكب الأرض. ادرسها جيداً ثم اجب عما يلي:



أ- ما المشكلة البيئية التي تعبر عنها الصورة؟

ب- اكتب تعريفاً للمشكلة؟

ج- سم الغلاف الأرضي التي تحدث فيه هذه المشكلة؟

انتهت الأسئلة مع الدعاء للجميع بالتوفيق والنجاح.