

## اختبار تجريبي نهائي بمحافظة جنوب الشرقية



### تم تحميل هذا الملف من موقع المناهج العمانية

موقع فايلاتي ← المناهج العمانية ← الصف الخامس ← اجتماعيات ← الفصل الثاني ← ملفات متنوعة ← الملف

تاريخ إضافة الملف على موقع المناهج: 23:07:00 2025-06-02

ملفات اكتب للمعلم اكتب للطالب | اختبارات الكترونية | اختبارات | حلول | عروض بوربوينت | أوراق عمل  
منهج انجليزي | ملخصات وتقارير | مذكرات وبنوك | الامتحان النهائي | للمدرس

المزيد من مادة  
اجتماعيات:

إعداد: هالة السنيدي

### التواصل الاجتماعي حسب الصف الخامس



صفحة المناهج  
العمانية على  
فيسبوك

الرياضيات

اللغة الانجليزية

اللغة العربية

التربية الاسلامية

المواد على تلغرام

### المزيد من الملفات حسب الصف الخامس والمادة اجتماعيات في الفصل الثاني

امتحان تجريبي مرفوق بنموذج الإجابة 2024-2025

1

تجميع اختبارات نهائية لسنة ٢٠٢٣-٢٠٢٤ مع نماذج الإجابة

2

تجميع امتحانات نهائية من سلسلة فيثاغورث

3

مراجعة عامة في الدراسات الاجتماعية مع نماذج امتحانية سابقة بمحافظة جنوب الشرقية

4

ملخص درس عمان في عهد الرسول (ص)

5



المديرية العامة للتربية والتعليم بمحافظة جنوب الشرقية  
مدرسة برة بنت الحارث للتعليم الأساسي (١-١٢)  
امتحان الصف الخامس - معلمة المادة/هالة السنيدي  
التجريبي - الفصل الدراسي الثاني - للعام الدراسي ١٤٤٦/١٤٤٧ هـ - ٢٠٢٤/٢٠٢٥ م

● المادة: الدراسات الاجتماعية ● عدد صفحات أسئلة الامتحان: ( ٦ )

● زمن الإجابة: ساعة ونصف ● الإجابة في الدفتر نفسه .

مراجعة وتدقيق /أ.فهد المسروري

اسم الطالب		
الصف	المدرسة	

الدرجة	التوقيع بالاسم		الدرجة	الاسم
	بالأرقام	بالحروف	اسم المراجع	اسم المصحح
الأسئلة الموضوعية (١-١٢)				
١٣				
١٤				
١٥				
١٦				
المجموع			مراجعة الجمع	جمعه
المجموع الكلي				

(١)

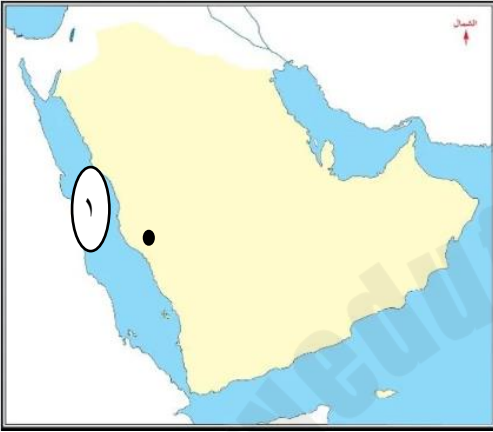
المادة: الدراسات الاجتماعية الصف : الخامس  
التجريبي- الفصل الدراسي الثاني -العام الدراسي ١٤٤٦/١٤٤٧هـ- ٢٠٢٤/٢٠٢٥م

أجب عن جميع الأسئلة الآتية

أولا/ الأسئلة الموضوعية:

ظلل يمين الشكل (○) المقترن بالإجابة الصحيحة لكل مفردة من المفردات التالية:

\*أدرس الخريطة التي أمامك ثم استعن بها للإجابة على المفردتين (١-٢)



١- المدينة التي هاجر منها الرسول ﷺ والمشار إليها بالرمز (●):

- مكة المكرمة  
○ المدينة المنورة  
○ تبوك  
○ الطائف

٢- المسطح المائي المشار اليه بالرقم (١):

- بحر عمان  
○ البحر المتوسط  
○ بحر العرب  
○ البحر الأحمر

٣- المصطلح الدال على "وثيقة رسمية تعرف بالدولة ونظام الحكم فيها كما تبين الحقوق والواجبات":

- الحقوق  
○ الواجبات  
○ النظام الأساسي للدولة  
○ المؤسسات الوطنية

٤- الجدول الصحيح الذي يوضح صفات سلمة بن عياذ وكعب بن برشة :

سلمة بن عياذ	فصاحة اللسان
كعب بن برشة	قارئ للكتب السماوية

سلمة بن عياذ	شغف الاطلاع
كعب بن برشة	قارئ للكتب السماوية

سلمة بن عياذ	شغف الاطلاع
كعب بن برشة	فصاحة اللسان

سلمة بن عياذ	قارئ للكتب السماوية
كعب بن برشة	شغف الاطلاع

٥- العام الميلادي لانضمام سلطنة عمان الى اتفاقية حقوق الطفل:

- ١٩٩٤م  
○ ١٩٩٥م  
○ ١٩٩٦م  
○ ١٩٩٧م

(٢)

المادة: الدراسات الاجتماعية الصف : الخامس

التجريبي- الفصل الدراسي الثاني -العام الدراسي ١٤٤٦/١٤٤٧هـ- ٢٠٢٤/٢٠٢٥م

تابع السؤال الأول:

٦- العلاقة بين أعداد السكان واستهلاك المواد الطبيعية:

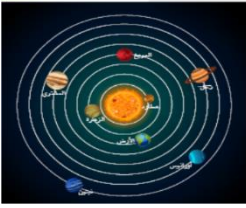
طردية ☐ عكسية ☐ ثابتة ☐ لا توجد علاقة ☐



٧- الرقم الذي يشير الى المدينة التي سميت قديما بتؤام:

١ ☐ ٢ ☐

٣ ☐ ٤ ☐



٨- مركز المجموعة الشمسية كما توضحها الصورة أمامك :

زحل ☐ الأرض ☐ عطارد ☐ الشمس ☐

٩- الإمام الذي كتب وصية للأسطول العماني وتعد وثيقة مهمة في حقوق الانسان:

الصلت بن مالك ☐ سعيد الرحيلي ☐ صالح المتوكل ☐ ابوصفرة العتكي ☐

١٠- المسجد الذي بناه مازن بن غضوبة :



(٣)

المادة: الدراسات الاجتماعية الصف: الخامس

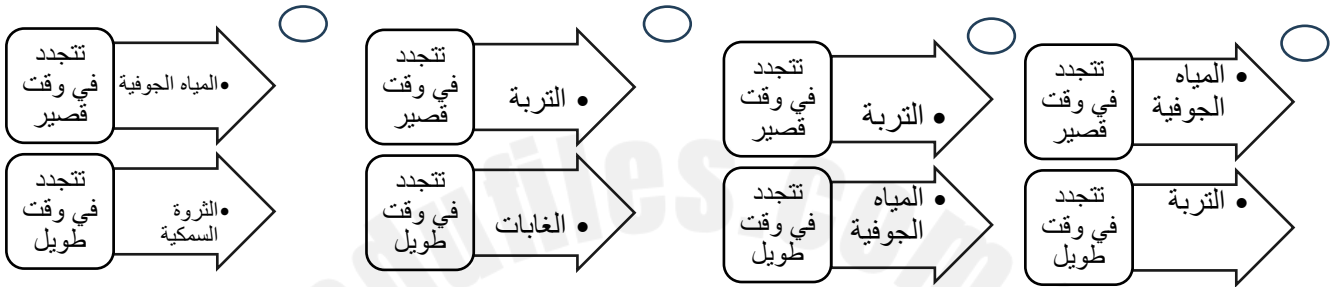
التجريبي - الفصل الدراسي الثاني - العام الدراسي ١٤٤٦/١٤٤٧ هـ - ٢٠٢٤/٢٠٢٥ م

تابع السؤال الأول:

١١- الحزام الذي يحمي كوكب الأرض من الأشعة الضارة :

بخار الماء ○ الغازات ○ الأوزون ○ الأمطار الحمضية ○

١٢- المخطط الصحيح لأنواع الموارد المتجددة :



ثانياً/ الأسئلة المقالية :

١٣- أكمل الجدول التالي بما يناسبه :  
أ-

اسم الغزوة	سنة حدوثها
.....	٢ هـ
تبوك	..... هـ

ب- فسر مايلي

١ خوض الرسول ﷺ العديد من المعارك

٢- حدوث الأمطار الحمضية

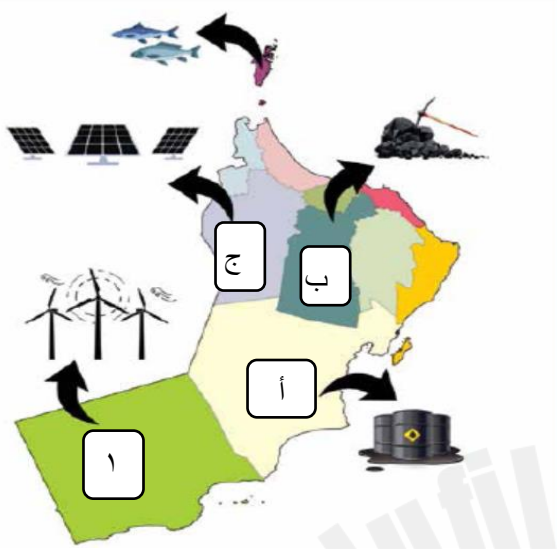
(٤)

المادة: الدراسات الاجتماعية الصف : الخامس  
التجريبي الفصل الدراسي الثاني - العام الدراسي ١٤٤٦/١٤٤٧ هـ - ٢٠٢٤/٢٠٢٥ م

ج- أدرس الخريطة جيدا ثم أجب:

١- استخراج الرمز الصحيح لكل مايلي

الرمز	المورد الطبيعي
	الطاقة الشمسية
	النفط



٢- اسم المشروع في المحافظة المشار إليها بالرقم (١)

٣- ما واجبنا تجاه الموارد الطبيعية ؟

١٤- أجب عمايلي :

أ / اقرأ الخطاب التالي جيدا ثم أجب عن الأسئلة :

"تأسست عمان وترسخ وجودها الحضاري بتضحيات أبنائها ،وبذلهم الغالي والنفيس من أجل الحفاظ على عزتها ومنعتها ،وبإخلاصهم في أداء واجباتهم الوطنية " .

من خطاب السلطان هيثم بن طارق -حفظه الله ورعاه- ٢٣ فبراير ٢٠٢٠ م

١- في أي عام ألقى الخطاب ؟.....

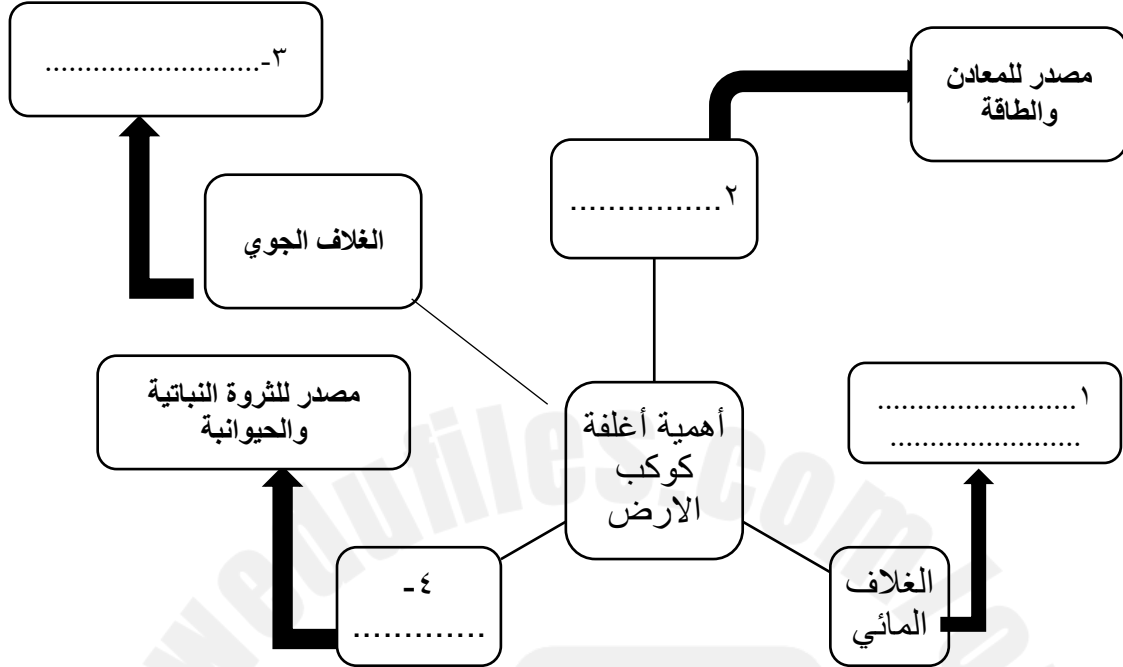
٢- حدد دور أبناء عمان تجاه وطنهم ؟.....

(٥)

المادة: الدراسات الاجتماعية الصف : الخامس

التجريبي - الفصل الدراسي الثاني - العام الدراسي ١٤٤٦/١٤٤٧ هـ - ٢٠٢٤/٢٠٢٥ م

ب/أكمل المخطط التالي :



ج-صنف الأعمال التالية بوضع إشارة (✓) أمام الشخصية الصحيحة :

العمل / الشخصية	كعب بن برشة	أبوصفرة العتكي	صالح المتوكل
١ كان ضمن الوفد الذي ذهب الى ابي بكرالصديق			
٢ رافق الصحابي مازن بن غضوبة في رحلته الى المدينة المنورة			

١٥- أعدد اثنين من أهمية الحقوق والواجبات:

١- .....

٢- .....

١٦- أدرس الخريطة التالية جيدا ثم أجب عن الأسئلة:



- ١- استخرج عاصمة عمان عند وصول رسالة الرسول ﷺ .....
- ٢- سم المسطح المائي المشار إليه بالرمز ▲ .....
- ٣- استخرج واحدة من المدن التي قطعها مبعوث الرسول ﷺ للوصول الى عمان .....
- ٤- استنتج سبب انتشار الإسلام في عمان ؟ .....

١٦/ أجب عن الأسئلة الآتية:

أ- ددل على جهود سلطنة عمان في استدامة الموارد الطبيعية:

- ١- .....
- ٢- .....

ب- ادرس الصورة جيدا ثم أجب عما يلي :

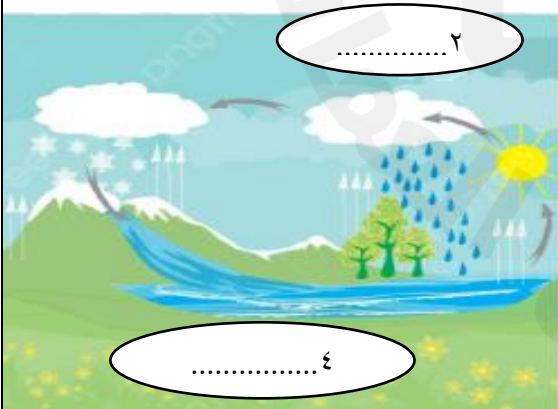
١- عرف دورة الماء في الطبيعة

- .....
- .....

٢- سم العمليتان المشار إليهما بالرقم ٢، ٤

٣- ما أهمية دورة الماء في الطبيعة

.....



انتهت الأسئلة نتمنى للجميع التوفيق والنجاح.