

## نشاط صفي للعباقرة هل الشمس تتحرك



### تم تحميل هذا الملف من موقع المناهج العمانية

موقع فايلاتي ← المناهج العمانية ← الصف الخامس ← علوم ← الفصل الثاني ← ملفات متنوعة ← الملف

تاريخ إضافة الملف على موقع المناهج: 18:44:32 2026-02-08

ملفات اكتب للمعلم اكتب للطالب ا اختبارات الكترونية ا اختبارات ا حلول ا عروض بوربوينت ا أوراق عمل  
منهج انجليزي ا ملخصات وتقارير ا مذكرات وبنوك ا الامتحان النهائي ا للمدرس

المزيد من مادة  
علوم:

إعداد: حنان السعيدية

### التواصل الاجتماعي بحسب الصف الخامس



صفحة المناهج  
العمانية على  
فيسبوك

### المزيد من الملفات بحسب الصف الخامس والمادة علوم في الفصل الثاني

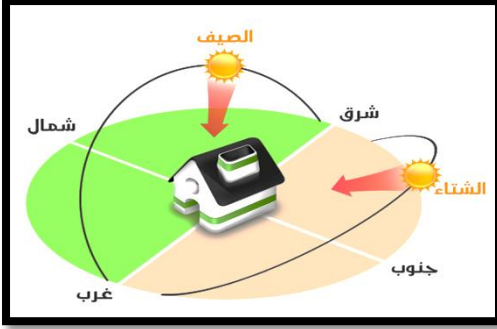
نشاط صفي للعباقرة إستكشاف النجوم	1
نشاط صفي للعباقرة إكتشاف النظام الشمسي	2
ملخص علوم الضوء وخصائصه دمج	3
أجوبة علوم الطريقة التي نرى بها الأشياء	4
ملخص مراجعة علوم كوكب الأرض والبيئة	5

## نشاط صفى لعباقرة العلوم (هل تتحرك الشمس)

مدة النشاط : ٥ دقائق

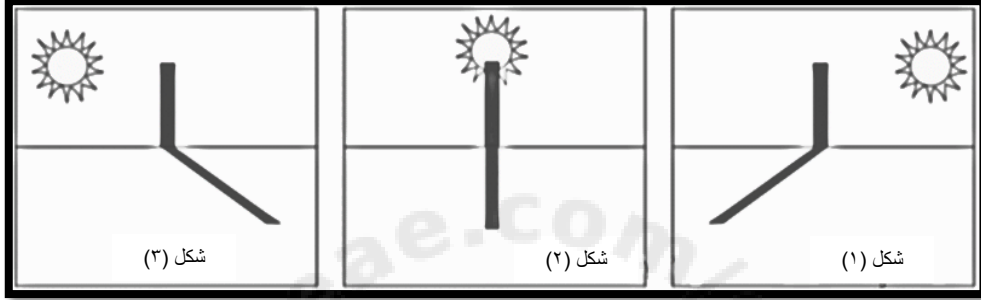
الصف: ٥ /

الاسم: .....



- يوضح الشكل مسار الشمس شروق في مختلف فصول السنة ..  
 (أ) الجهة التي تشرق منها الشمس في الشتاء هي.....  
 (ب) تميل الشمس الى جهة الشمال الشرقي في فصل.....  
 (ج) هل اختلاف المسار يدل على ان الشمس تتحرك ؟.....  
 فسر اجابتك : .....

- ادرس الشكل الاتي واجب عما يلي:



- ١- اتجاه الشمس في الشكل ( ١ ) كون ظلاً في جهة .....
- ٢- اين كان اتجاه الشمس عندما تكون الظل في الشكل (٣)؟.....
- ٣- الوقت الذي تكون فيه الظل في الشكل (٢) هو .....

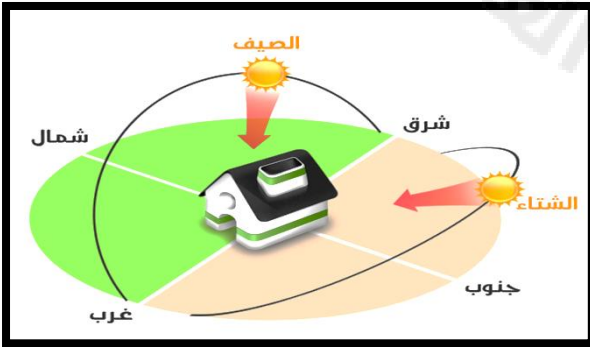
اعداد :حنان السعيدية

## نشاط صفى لعباقرة العلوم (هل تتحرك الشمس)

مدة النشاط : ٥ دقائق

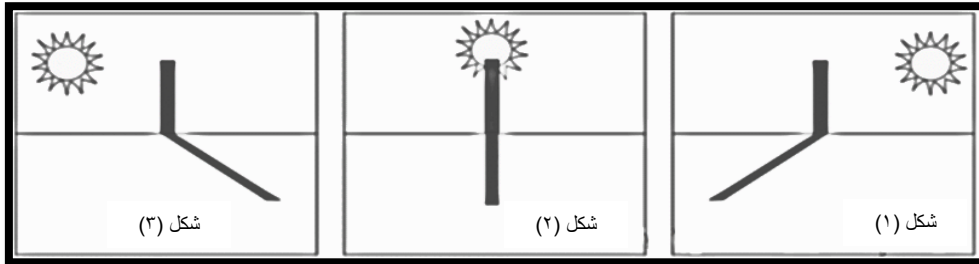
الصف: ٥ /

الاسم: .....



- يوضح الشكل مسار الشمس شروق في مختلف فصول السنة ..  
 (أ) الجهة التي تشرق منها الشمس في الشتاء هي.....  
 (ب) تميل الشمس الى جهة الشمال الشرقي في فصل.....  
 (ج) هل اختلاف المسار يدل على ان الشمس تتحرك ؟.....  
 فسر اجابتك : .....

- ادرس الشكل الاتي واجب عما يلي:



- ١- اتجاه الشمس في الشكل ( ١ ) كون ظلاً في جهة .....
- ٢- اين كان اتجاه الشمس عندما تكون الظل في الشكل (٣)؟.....
- ٣- الوقت الذي تكون فيه الظل في الشكل (٢) هو .....

اعداد :حنان السعيدية