

شكراً لتحميلك هذا الملف من موقع المناهج العمانية



اختبار قصير ثاني نموذج حديث

[موقع المناهج](#) ⇨ [المناهج العمانية](#) ⇨ [الصف الخامس](#) ⇨ [رياضيات](#) ⇨ [الفصل الأول](#) ⇨ [الملف](#)

تاريخ نشر الملف على موقع المناهج: 19:12:39 2023-12-06

التواصل الاجتماعي بحسب الصف الخامس



روابط مواد الصف الخامس على تلغرام

[الرياضيات](#)

[اللغة الانجليزية](#)

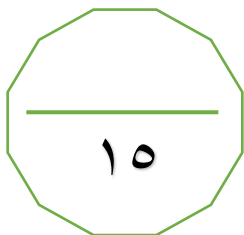
[اللغة العربية](#)

[التربية الاسلامية](#)

المزيد من الملفات بحسب الصف الخامس والمادة رياضيات في الفصل الأول

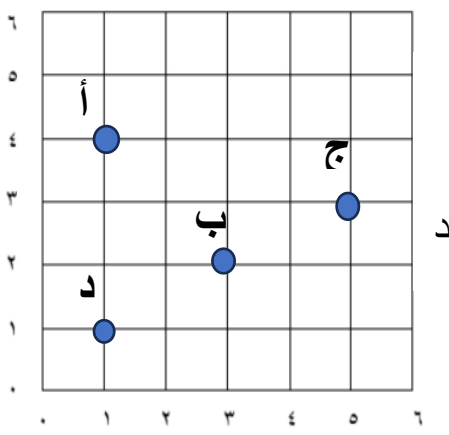


اختبار قصير ثاني	1
اختبار قصير ثاني نموذج حديث	2
نماذج اختبارات قصيرة ثانية	3
دفتر أسئلة المادة	4
نموذج اختبار قصير ثاني	5

اختبار قصير ٢ فى مادة الرياضيات للصف الخامس



اسم الطالبة :

الزمن : ٣٥ دقيقة

[١]	<p>١ أي النقاط التالية تمثل احداثيات النقطة (٣ ، ٥) :</p>  <p>أ ب ج د</p>	١
[٢]	<p>٢ رتب كتل السلع التالية من الأخف الى الأثقل :</p> <div style="display: flex; justify-content: space-around; align-items: flex-end;"> <div style="text-align: center;"> <div style="border: 1px solid black; padding: 5px;">٧٠٠ غم</div> <p>.....</p> <p>الأثقل</p> </div> <div style="text-align: center;"> <div style="border: 1px solid black; padding: 5px;">٥,١ كغم</div> <p>.....</p> </div> <div style="text-align: center;"> <div style="border: 1px solid black; padding: 5px;">٣٢٠ غم</div> <p>.....</p> </div> <div style="text-align: center;"> <div style="border: 1px solid black; padding: 5px;">٣,٢ كغم</div> <p>.....</p> <p>الأخف</p> </div> </div>	٢
[١]	<p>٣ الخطين التاليين غير متوازيين فسر ذلك :</p> 	٣
[١]	<p>٤ مستطيل أبعاد ٥ سم ، ٣ سم أحسب مساحته ؟</p> 	٤

٥

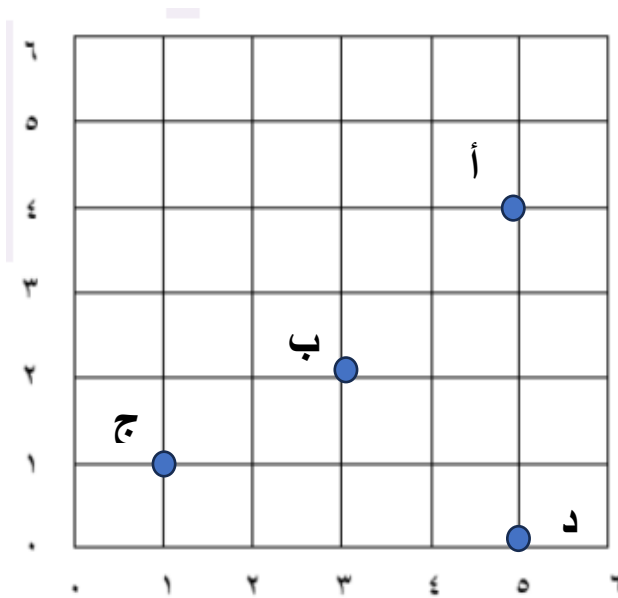
ضعي علامة (✓) أمام العبارات الصحيحة :

	العبارة	صواب	خطأ
١	محيط أي شكل هندسي هو مجموع أطوال أضلاعه.		
٢	محيط مضلع خماسي منتظم الذي طول ضلعة ٢ سم هو ١٥ سم.		
٣	وحدة قياس المساحة هي سنتيمتر مربع.		
٤	المحيط هي الخط الخارجي الذي يحيط أي شكل .		

[٢]

٦

اكتبي احداثيات النقاط أ ، ب ، ج ، د في الشبكة التالية :



■ أ (،)

■ ب (،)

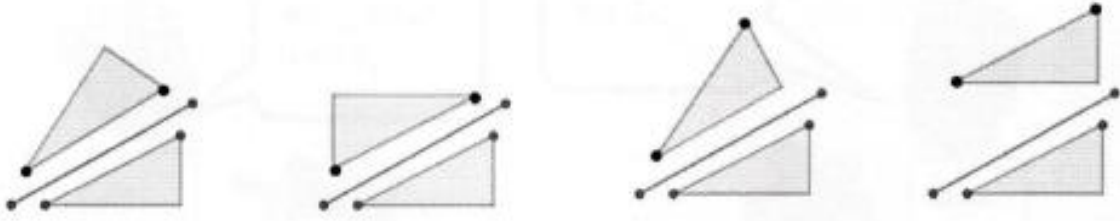
■ ج (،)

■ د (،)

[٢]

٧

حوطي الانعكاس الصحيح للمثلث حول خط المرآة :



[١]

٨

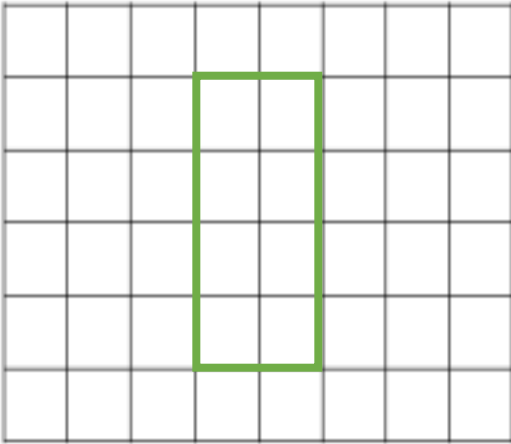
ارسمي خطين متعامدين :

[١]

٩

حوطي مساحة الشكل المستطيل (علما أن $\square =$ وحدة مربعة):

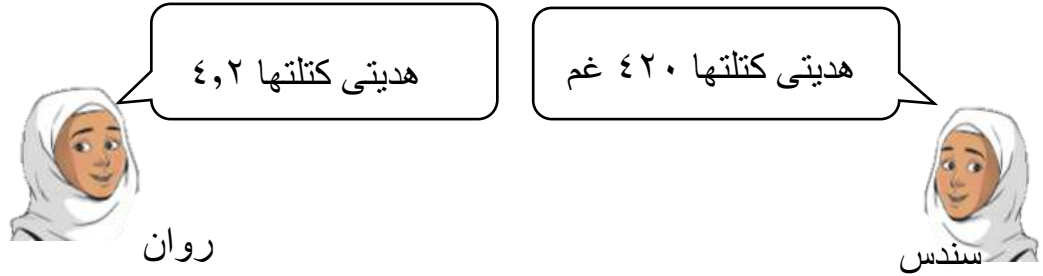
١٢ ١٠ ٨ ١٢



[١]

١٠

تقول سندس أن هديتها أثقل من هدية روان :



هل سندس على صواب؟ نعم ☐ لا ☐

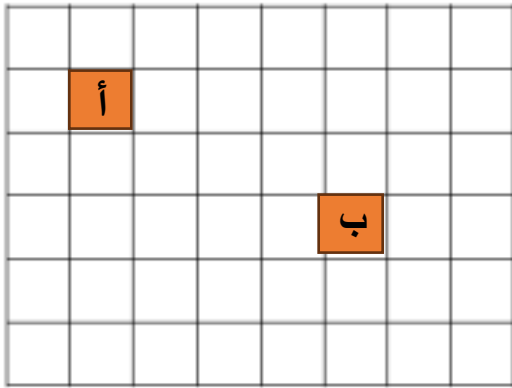
فسري اجابتك:

.....

[٢]

١١

صفي الانسحاب الذي يحرك المربع أ الى أن يصل المربع ب :



[١]



مع تمنياتي لکن طالباتي المميزات
 بالتوفيق