


شكراً لتحميلك هذا الملف من موقع المناهج العمانية



اختبار قصير أول

موقع المناهج ← المناهج العمانية ← الصف الخامس ← علوم ← الفصل الثاني ← الملف

التواصل الاجتماعي بحسب الصف الخامس



روابط مواد الصف الخامس على تلغرام

[الرياضيات](#)

[اللغة الانجليزية](#)

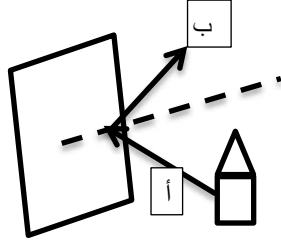
[اللغة العربية](#)

[التربية الاسلامية](#)

المزيد من الملفات بحسب الصف الخامس والمادة علوم في الفصل الثاني

الاختبار النهائي الرسمي في محافظة جنوب الشرقية	1
نموذج إجابة الاختبار النهائي الرسمي في محافظة الظاهرة	2
نموذج إجابة الاختبار النهائي الرسمي في محافظة مسقط	3
الاختبار النهائي الرسمي في محافظة ظفار	4
الاختبار النهائي الرسمي في محافظة شمال الباطنة	5

الدرجة:	الاختبار القصير (١) في مادة العلوم للصف الخامس الاساسي	الإسم: الصف:
---------	--	-----------------



١- حددي من الرسم المقابل

الضوء الساقط.....

والضوء المنعكس..... (درجة واحدة)

٢- أرادت منى مشاهدة انعكاس صورتها . ما الأداة المستخدمة؟

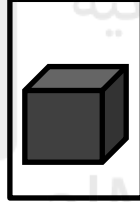
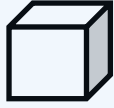
ملعقة خشبية صحن بلاستيك

رقاقة ألومنيوم قطعة فلين

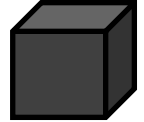

(درجة واحدة)

(ظل الإجابة الصحيحة)

٣- عند تقريب الجسم من مصدر الضوء ، ما هو حجم الظل المتكون على الشاشة:

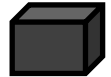


الشاشة



(درجة واحدة)

(ظل الإجابة الصحيحة)



٤- صل بين درجة الظل المناسبة لكل مادة من المواد التالية:

درجة الظل

المواد



منديل ورقي

خشب

زجاج شفاف


(درجتان)

٥- ضع علامة صواب أو خطأ في العبارات التالية:

صواب أم خطأ	العبارة
	شدة الضوء هي كمية الضوء الساقطة على مساحة معينة
	لا يمكن قياس شدة الضوء

(درجة واحدة)

٦- الشكل المقابل يوضح كمية الأشعة المنعكسة بواسطة عدة مواد (C,B,A):



المادة الأكثر امتصاصا هي

فسراجابتك؟.....




٧- ما اسم الاداة الموجودة في الشكل المقابل؟

.....

ماهي استخداماتها؟

.....

(درجتان)



تم تحميل هذا الملف من
موقع المناهج العُمانية

alManahj.com/om