

أسئلة اختبار قصير ثاني نموذج ثاني بدون حل



تم تحميل هذا الملف من موقع المناهج العمانية

موقع فايلاتي ← المناهج العمانية ← الصف الخامس ← رياضيات ← الفصل الأول ← ملفات متنوعة ← الملف

تاريخ إضافة الملف على موقع المناهج: 09:22:51 2025-11-26

ملفات اكتب للمعلم اكتب للطالب | اختبارات الكترونية | اختبارات | حلول | عروض بوربوينت | أوراق عمل
منهج انجليزي | ملخصات وتقارير | مذكرات وبنوك | الامتحان النهائي | للمدرس

المزيد من مادة
رياضيات:

التواصل الاجتماعي بحسب الصف الخامس



صفحة المناهج
العمانية على
فيسبوك

المزيد من الملفات بحسب الصف الخامس والمادة رياضيات في الفصل الأول

أسئلة اختبار قصير ثاني نموذج أول بدون حل

1

تجميع أسئلة الامتحانات النهائية السابقة

2

أسئلة اختبار قصير ثاني بدون حل

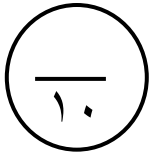
3

كراسة و مذكرة الرياضيات

4

شرح درس الطرق الكتابية للضرب امثلة نشاطات

5




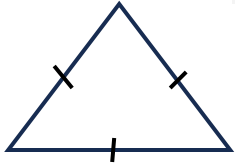
اختبار قصير (٢) للصف الخامس - الفصل الدراسي الأول


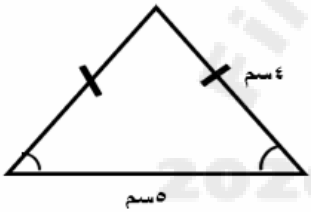

للعام الدراسي ٢٠٢٥/٢٠٢٦ م



اسم الطالب / ة: الصف: خامس /

أجب عن جميع الأسئلة الآتية:

الدرجة	المفردة	رقم المفردة
[١]	حوط على العدد المربع ٨ ١٦ ٢٠ ٢٤	(١)
[٢]	أكمل حشرة العوامل للعدد ١٦ 	(٢)
[١]	 عدد خطوط التماثل : ———	(٣)
[٢]	عاملان من عوامل العدد ٣٢ و مجموعهما ١٢ العاملان هما: — ، —	(٤)

[٢]	<p>(٥) لدى حمد ٢٤ ملصقًا يريد توزيعها على ١٠ طلبة بالتساوي</p> <p>يقول حمد : إنه يحتاج فقط ٤ ملصقات إضافية حتى يوزعها بتساوي</p>  <p>هل ما يقوله حمد صحيح ؟ <input type="checkbox"/> نعم <input type="checkbox"/> لا</p> <p>فسر إجابتك : _____</p>	
[١]	<p>(٦) من الشكل المجاور: صممت ريم المثلث المقابل باستخدام خيط. أوجد طول الخيط.</p>  <p>_____ سم</p>	
[١]	<p>(٧) حوِّط على شبكة متوازي المستطيلات من بين التالي</p> 	

انتهت الأسئلة

إعداد: أ. أحمد الشبيبي