

اختبار تجريبي نهائي مع نموذج الإجابة في محافظة شمال الباطنة



تم تحميل هذا الملف من موقع المناهج العمانية

موقع فايلاتي ← المناهج العمانية ← الصف الخامس ← اجتماعيات ← الفصل الثاني ← ملفات متنوعة ← الملف

تاريخ إضافة الملف على موقع المناهج: 23:13:17 2025-06-02

ملفات اكتب للمعلم اكتب للطالب | اختبارات الكترونية | اختبارات | حلول | عروض بوربوينت | أوراق عمل
منهج انجليزي | ملخصات وتقارير | مذكرات وبنوك | الامتحان النهائي | للمدرس

المزيد من مادة
اجتماعيات:

التواصل الاجتماعي بحسب الصف الخامس



الرياضيات



اللغة الانجليزية



اللغة العربية



التربية الاسلامية



المواد على تلغرام

صفحة المناهج
العمانية على
فيسبوك

المزيد من الملفات بحسب الصف الخامس والمادة اجتماعيات في الفصل الثاني

نموذج إجابة الاختبار التجريبي النهائي بمحافظة جنوب الشرقية

1

اختبار تجريبي نهائي بمحافظة جنوب الشرقية

2

امتحان تجريبي مرفوق بنموذج الإجابة 2024-2025

3

تجميع اختبارات نهائية لسنة ٢٠٢٣-٢٠٢٤ مع نماذج الإجابة

4

تجميع امتحانات نهائية من سلسلة فيثاغورث

5

امتحان مادة الدراسات الاجتماعية للصف الخامس
اختبار تجريبي - الفصل الدراسي الثاني
للعام الدراسي ١٤٤٥/١٤٤٦ هـ - ٢٠٢٤/٢٠٢٥ م

● زمن الامتحان: (ساعة ونصف)	● عدد صفحات أسئلة الامتحان: ٦ صفحات
● الإجابة في الدفتر نفسه.	
● تكتب الإجابة بالقلم الأزرق أو الأسود	● الدرجة الكلية للامتحان: ٤٠ درجة

اسم الطالب	
المدرسة	الصف

السؤال	الدرجة		التوقيع بالاسم	
	بالأرقام	بالحروف	اسم المصحح	اسم المراجع
أولاً: الأسئلة الموضوعية (١-١٢)				
ثانياً: الأسئلة المقالية ١٣				
١٤				
١٥				
١٦				
المجموع			جمعه	مراجعة الجمع
المجموع الكلي				

(١)

المادة: الدراسات الاجتماعية الصف: الخامس - اختبار تجريبي الفصل الدراسي الثاني - العام الدراسي ٢٠٢٤-٢٠٢٥ م

أجب عن جميع الأسئلة الآتية

أولاً: الأسئلة الموضوعية:

ظل الشكل (□) المقترن بالإجابة الصحيحة لكل مفردة من المفردات الآتية:

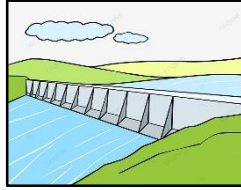
١- الكوكب الذي يتميز بوجود حلقات حوله:

□ المشتري □ زحل □ أورانوس □ نبتون

٢- أحد عناصر الغلاف الحيوي:



□



□



□



□

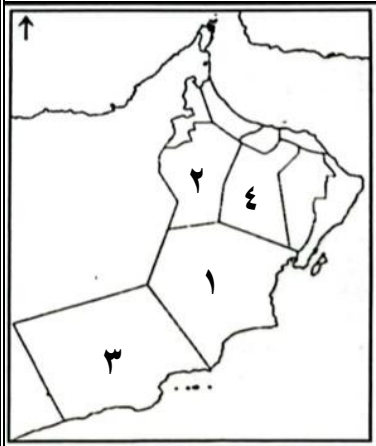
٣- المشكلة البيئية التي تعبر عنها الصورة المقابلة:

□ الانهيارات الأرضية □ تدهور الغطاء النباتي
□ تلوث المياه □ الأمطار الحمضية



٤- حق المواطن الذي نص عليه النظام الأساسي للدولة كما توضحه الصورة التي أمامك:

□ الأمن والأمان □ الرعاية الصحية
□ التعبير عن الرأي □ التعليم



٥- الرقم الذي يشير إلى المحافظة التي توجد بها محطة للطاقة الشمسية في خريطة سلطنة عمان المقابلة:

□ ١ □ ٢
□ ٣ □ ٤

٦- خصصت سلطنة عُمان يوماً للمرأة العمانية في شهر أكتوبر من كل عام بتاريخ:

□ ١٦ □ ١٧
□ ١٨ □ ١٩

تابع أولاً: الأسئلة الموضوعية:

٧- البطاقة المعرفية المقابلة تشير إلى كلمة جلالة السلطان هيثم بن طارق ضمن رؤية عمان:

٢٠٣٠ ☐٢٠٢٠ ☐٢٠٥٠ ☐٢٠٤٠ ☐

سنعملُ على ... توزيع عادلٍ لمقدَّراتِ
التَّمتيةِ بينَ المُحافظاتِ، وحمايةِ مواردنا
الطَّبيعيةِ وبيئتنا المتفرَّدة.

٨- الصفة التي تمتع بها كعب بن برشة أنه كان يتحدث اللغة:

☐ الصينية☐ الهندية☐ الفارسية☐ الإنجليزية

٩- آخر غزوات الرسول محمد (صلى الله عليه وسلم) حدثت في السنة التاسعة للهجرة:

☐ الخندق☐ تبوك☐ أحد☐ بدر

١٠- مبعوث رسول الله محمد (صلى الله عليه وسلم) الذي حمل رسالته إلى ملكي عمان جيفر وعبد ابني الجلندي:

☐ أبو بكر الصديق☐ عمرو بن العاص☐ عثمان بن عفان☐ عمر بن الخطاب

١١- تعبّر الصورة المقابلة عن أحد واجبات المواطن:

☐ احترام العادات والتقاليد☐ الالتزام بالأخلاق الحسنة☐ الالتزام بالأنظمة والقوانين☐ مشاركة الأسرة في أعمالها

١٢- الدول التي كانت تابعة للدولة الإسلامية في عهد الرسول محمد (صلى الله عليه وسلم) كما تشير

إليها الأرقام (٣، ٢، ١) في الخريطة:

☐ ١- الإمامة ٢- اليمن ٣- عُمان☐ ١- الإمامة ٢- عُمان ٣- اليمن☐ ١- عُمان ٢- اليمن ٣- الإمامة☐ ١- عُمان ٢- الإمامة ٣- اليمن

(٣)

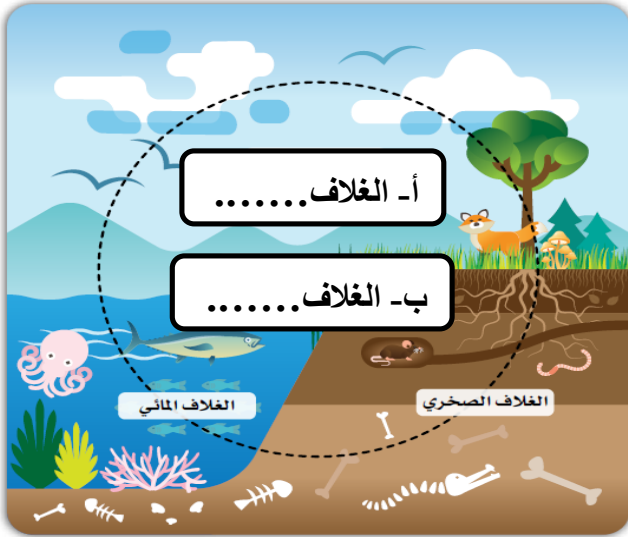
المادة: الدراسات الاجتماعية الصف: الخامس - اختبار تجريبي الفصل الدراسي الثاني - العام الدراسي ٢٠٢٤-٢٠٢٥ م

ثانياً: الأسئلة المقالية:

١٣ أ- اكتب اسم المفهوم/المصطلح المناسب أمام العبارات التالية في الجدول الآتي:

٨

م	العبارات	المفهوم/المصطلح
١	موجودة بكميات محدودة في الأرض وتنفذ مع استهلاكها.
٢	كل ما هو موجود في الطبيعة، ويستفيد منه الإنسان والكائنات الحية الأخرى.



ب- ادرس الشكل المقابل ثم أجب عن الأسئلة الآتية:

- ١- استكمل الشكل بكتابة ما يشير إليه الرمز أ، ب.
 - ٢- استنتج أهمية الغلاف المشار إليه بالرمز (أ).
-
-



(ج)

١ - اكتب النسب المئوية الآتية في الشكل المقابل بما يناسب:
(٢٩% ، ٧١%)

٢- اذكر العملية المسؤولة عن حركة المياه واستمراريتها في النظام الأرضي.

.....

٦

١٤ أ- اكتب اسم الشخصية العمانية التي تدل عليها العبارة:

م	العبارة	اسم الشخصية
١	مستشار ملكي عمان جيفر وعبد ابني الجلندي، اسلم على يد الرسول (صلى الله عليه وسلم).
٢	شارك في الفتوحات الإسلامية، عُرف بفصاحة اللسان، والشجاعة.

(٤)

المادة: الدراسات الاجتماعية الصف: الخامس - اختبار تجريبي الفصل الدراسي الثاني - العام الدراسي ٢٠٢٤-٢٠٢٥ م

تابع ثانياً: الأسئلة المقالية:

١٤ ب- أدرس الصور التي أمامك ثم أجب عن الآتي:



- ١- اكتب رقم الصورة التي تمثل مسجد الشواذنة
- ٢- سمّ الصحابي الذي بنى المسجد المشار إليه بالرقم (١)

ج) ادرس النص الآتي جيداً ثم أجب عن الأسئلة الآتية:

"تأسست عُمان وترسّخ وجودها الحضاري بتضحيات أبنائها، وبذلهم الغالي والنفيس من أجل الحفاظ على عزّتها ومنعتها، وبإخلاصهم في أداء واجباتهم الوطنية".

١- من قائل النص السابق؟

٢- استخرج من النص السابق واجبك كمواطن تجاه وطنك.

١٥ أ- صنف الموارد الطبيعية المتجددة في الجدول الآتي:

(أشجار الغابات المقطوعة، المياه الجوفية)

موارد تتجدد بسرعة	موارد تتجدد ببطء
.....

ب - اذكر ما يأتي:

١- صفة تحلّى بها صالح بن المتوكل.

٢- مدينة عمانية ساحلية في جنوب عمان ذات أهمية تجارية.

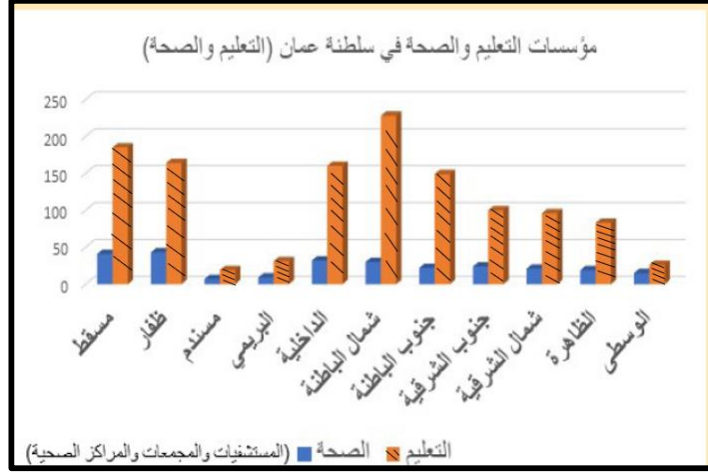
٣- أحد العلوم التي حرص العثمانيون على تعلمها في عهد الرسول (صلى الله عليه وسلم).

(٥)

المادة: الدراسات الاجتماعية الصف: الخامس - اختبار تجريبي الفصل الدراسي الثاني - العام الدراسي ٢٠٢٤-٢٠٢٥ م

تابع ثانياً: الأسئلة المقالية:

١٥ ج- أدرس الشكل الذي يمثل مؤسسات التعليم والصحة في سلطنة عمان جيداً ثم أجب عن الأسئلة الآتية:



- سمّ ما يلي:

- ١- المحافظة التي تحتل المرتبة الأولى من حيث توفر مؤسسات التعليم.....
- ٢- المحافظة الأقل في عدد المؤسسات الصحية

٧

١٦ أ- أمامك خريطة اتجاه هجرة الرسول (صلى الله عليه وسلم) ادرسها جيداً ثم أجب عن الآتي:

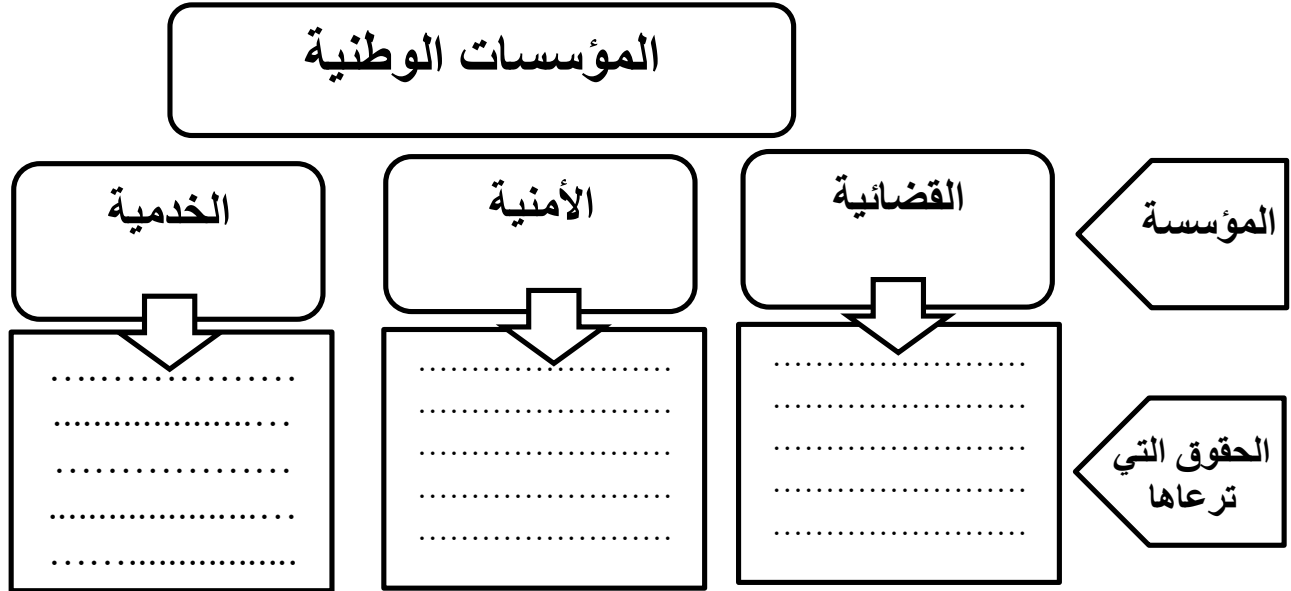


- ١- ضع دائرة على عاصمة الدولة الإسلامية في عهد الرسول (صلى الله عليه وسلم).
- ٢- ارسـم باستخدام الرمز (←) مسار هجرة الرسول (صلى الله عليه وسلم) إلى المدينة المنورة.
- ٣- اكتب الخليج العربي في مكانه الصحيح على الخريطة.

تابع ثانياً: الأسئلة المقالية:

(١٦) ب- أكمل المخطط الآتي بما يناسبه:

(حفظ الأمن داخل الوطن، تقدم خدماتها للمواطنين حسب اختصاصاتها، حفظ حقوق المواطنين من أي اعتداء أو ضرر)



ج- (تعد السدود إحدى الطرق لاستدامة الموارد المائية في سلطنة عمان) في ضوء العبارة السابقة أجب عن الآتي: أراد المعلم القيام برحلة تعليمية مدرسية إلى أحد السدود. اقترح اسم سد في محافظة مسقط تنصح المعلم وطلبته بزيارته.

.....

انتهت الأسئلة مع الدعاء للجميع بالتوفيق والنجاح

إعداد الأستاذة: أميرة العوينية

إشراف الأستاذة: مريم المطوع

نموذج إجابة امتحان مادة الدراسات الاجتماعية الصف الخامس
 اختبار تجريبي - الفصل الدراسي الثاني
 للعام الدراسي ١٤٤٥/١٤٤٦ هـ - ٢٠٢٤/٢٠٢٥ م

تنبيه: نموذج الإجابة في (٤) صفحات الدرجة الكلية: (٤٠) درجة

أولاً: إجابة الأسئلة الموضوعية:

إجابة الأسئلة الموضوعية (١-١٢)

المفردة	الإجابة	الدرجة	الصفحة
١	زحل	١	١٨
٢		١	٢٤
٣	الانهيارات الأرضية	١	٣١
٤	التعبير عن الرأي	١	٨١
٥	٢	١	٤١
٦	١٧	١	٩٥
٧	٢٠٤٠	١	٤١
٨	الفارسية	١	٦٨
٩	تبوك	١	٥٦
١٠	عمرو بن العاص	١	٦٠
١١	مشاركة الأسرة في أعمالها	١	٨٤
١٢	١- اليمامة ٢- عُمان ٣- اليمن	١	٥٧
المجموع		١٢ درجة	

(٢)

تابع- نموذج إجابة امتحان مادة الدراسات الاجتماعية للصف الخامس للعام الدراسي ٢٠٢٤/٢٠٢٥ م
اختبار تجريبي - الفصل الدراسي الثاني
ثانيا: إجابة الأسئلة المقالية:

إجابة السؤال المقالي ١٣				
الدرجة الكلية: (٨) درجات				
الصفحة	الدرجة	الإجابة الصحيحة	الفرقة	الدرجة
٣٧	١	الموارد غير المتجددة	١	أ
٢٠	١	الموارد الطبيعية	٢	
٢٨	٢ (لكل مفردة درجة)	أ- الغلاف الجوي ب- الغلاف الحيوي	١	ب
٢٧	١	مصدر للأكسجين، وتحدث فيه مظاهر الطقس.	٢	
٢٣	٢ (لكل نسبة درجة)		١	ج
٢٢	١	دورة الماء في الطبيعة	٢	

(٣)

تابع- نموذج إجابة امتحان مادة الدراسات الاجتماعية للصف الخامس للعام الدراسي ٢٠٢٤/٢٠٢٥ م
اختبار تجريبي - الفصل الدراسي الثاني

تابع ثانيا: إجابة الأسئلة المقالية:

إجابة السؤال المقالي ١٤ الدرجة الكلية: (٦) درجات				
الدرجة	المفردة	الإجابة الصحيحة	الدرجة	الصفحة
أ		<div> <div>١- مستشار ملكي عمان جيفر وعبد، اسلم على يد الرسول(صلى الله عليه وسلم).</div> <div>٢- شارك في الفتوحات الإسلامية، عُرف بفصاحة اللسان، والشجاعة.</div> </div>	٢ لكل مفردة درجة	٦٨ ٦٩
ب	١	٢	١	٦٣
	٢	مازن بن غضوبة	١	٥٩
ج	١	جلالة السلطان هيثم بن طارق	١	٨٥
	٢	الإخلاص في أداء واجباتي الوطنية، التزم بواجباتي واحرص على تنفيذها (ما يفيد المعنى)	١	

إجابة السؤال المقالي ١٥ الدرجة الكلية: (٧) درجات				
الدرجة	المفردة	الإجابة الصحيحة	الدرجة	الصفحة
أ		<div> <div>موارد تتجدد بسرعة</div> <div>موارد تتجدد ببطء</div> <div>المياه الجوفية</div> <div>أشجار الغابات المقطوعة</div> </div>	٢	٣٧
ب	١	الإخلاص ، الشجاعة (يكتفى بواحدة)	١	٧٠
	٢	مرباط	١	٦٥
	٣	علوم الشريعة الإسلامية/ علوم اللغة (يكتفى بواحدة)	١	٦٣
ج	١	شمال الباطنة	١	٨٣
	٢	مسندم	١	٨٣

(٤)

تابع- نموذج إجابة امتحان مادة الدراسات الاجتماعية للصف الخامس للعام الدراسي ٢٠٢٤/٢٠٢٥ م
اختبار تجريبي - الفصل الدراسي الثاني

تابع ثانيا: إجابة الأسئلة المقالية:

إجابة السؤال المقالي ١٦		الدرجة الكلية: (٧) درجات	
الدرجة	الصفحة	الإجابة الصحيحة	الدرجة
أ	٥٢	<p>١- يضع دائرة على المدينة المنورة.</p> <p>٢- يرسم (←) من مكة المكرمة إلى المدينة المنورة.</p> <p>٣- يكتب الخليج العربي في مكانه الصحيح</p> 	٣ درجات (لكل مفردة درجة)
ب	٩٠	<div>المؤسسات الوطنية</div> <div> <div>الخدمية</div> <div>تقدم خدماتها للمواطنين حسب اختصاصاتها.</div> </div> <div> <div>الأمنية</div> <div>حفظ الأمن داخل الوطن</div> </div> <div> <div>القضائية</div> <div>حفظ حقوق المواطنين من أي اعتداء أو ضرر</div> </div> <div>المؤسسة</div> <div>الحقوق التي ترعاها</div>	٣ درجات (لكل مفردة درجة)
ج	٤٢	<p>سد وادي ضيقة بمحافظة مسقط. (يعطى الطالب الدرجة إذا ذكر اسم سد آخر صحيح).</p>	١

نهاية نموذج الإجابة