

إجابات أسئلة الاختبار القصير الثاني نموذج رابع



تم تحميل هذا الملف من موقع المناهج العمانية

موقع فايلاتي ← المناهج العمانية ← الصف الخامس ← رياضيات ← الفصل الأول ← ملفات متنوعة ← الملف

تاريخ إضافة الملف على موقع المناهج: 2025-12-06 13:09:00

ملفات اكتب للمعلم اكتب للطالب | اختبارات الكترونية | اختبارات | حلول | عروض بوربوينت | أوراق عمل
منهج انجليزي | ملخصات وتقارير | مذكرات وبنوك | الامتحان النهائي | للمدرس

المزيد من مادة
رياضيات:

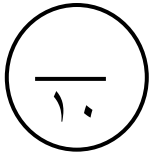
التواصل الاجتماعي بحسب الصف الخامس



صفحة المناهج
العمانية على
فيسبوك

المزيد من الملفات بحسب الصف الخامس والمادة رياضيات في الفصل الأول

إجابات أسئلة الاختبار القصير الثاني نموذج رابع	1
إجابات أسئلة الاختبار القصير الثاني نموذج ثالث	2
إجابات أسئلة الاختبار القصير الثاني نموذج ثاني	3
إجابات أسئلة الاختبار القصير الثاني نموذج أول	4
خمسة نماذج من الاختبارات النهائية مع نماذج الحل	5



اختبار قصير (٢) للصف الخامس - الفصل الدراسي الأول

للعام الدراسي ٢٠٢٥/٢٠٢٦ م


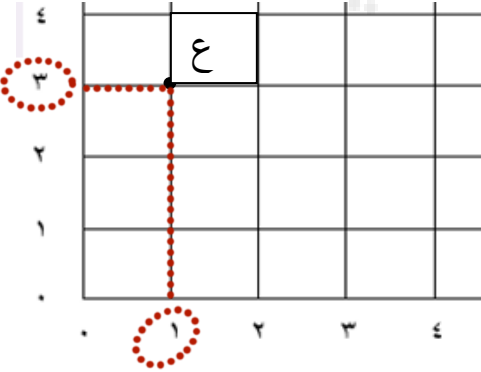


الصف: خامس /

اسم الطالب / ة:

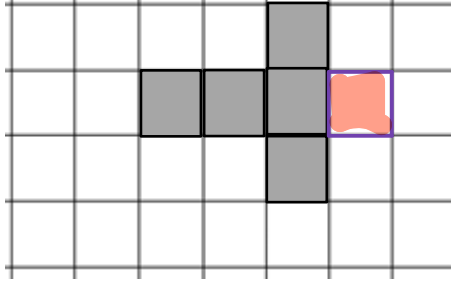
نموذج (٥)

أجب عن جميع الأسئلة الآتية:

الدرجة	المفردة	رقم المفردة
[١]	حوط على العدد الذي يقبل القسمة على ١٠ ٢٥ ٣٠ ٣٥ ٤٥	(١)
[٢]	أكمل حشرة العوامل للعدد ١٨ 	(٢)
[١]	حول الوقت بنظام ١٢ ساعة ١٥ : ٠٥ ٣ : ٠٥ م	(٣)
[٢]	أكتب احداثيات النقطة ع 	(٤)

(٣ , ١)

(٥) أكمل تظليل الشبكة لتمثل مكعب مغلق



[٢]

(٦) في المتتالية التي قاعدتها تمثل علاقة الضعف .
أكتب العدد الناقص في المربع.

[١]

٤٨ ، ٢٤ ، ١٢ ، ٦ ، ٣

(٧) حوط على محيط المضلع الثماني المنتظم الذي طول ضلعه ٨

[١]

٦٤

٣٢

١٦

٨



أكاديمية همم التعليمية
Himam Education Academy

انتهت الأسئلة

إعداد: أ. أحمد الشبيبي