

شكراً لتحميلك هذا الملف من موقع المناهج العمانية



اختبار قصير ثاني نموذج حديث

[موقع المناهج](#) ⇨ [المناهج العمانية](#) ⇨ [الصف الخامس](#) ⇨ [اجتماعيات](#) ⇨ [الفصل الأول](#) ⇨ [الملف](#)

تاريخ نشر الملف على موقع المناهج: 18:33:26 2023-12-06

التواصل الاجتماعي بحسب الصف الخامس



روابط مواد الصف الخامس على تلغرام

[الرياضيات](#)

[اللغة الانجليزية](#)

[اللغة العربية](#)

[التربية الاسلامية](#)

المزيد من الملفات بحسب الصف الخامس والمادة اجتماعيات في الفصل الأول

بنك الأسئلة الموضوعية للمنهج نموذج حديث مع الإجابات	1
كتيب أنشطة المادة مصنف حسب الدروس	2
اختبار قصير ثاني نموذج حديث	3
شرح الدرس الثالث من الوحدة الثانية بطريقة السؤال	4
اختبار قصير لدرس حصاد عمان قبل الإسلام	5

اختبار قصير ثاني للصف الخامس في مادة الدراسات الاجتماعيةللعام الدراسي ٢٠٢٣/٢٠٢٤ م ف١

١٥

السؤال الأول: اختر الإجابة الصحيحة من بين البدائل المعطاه:

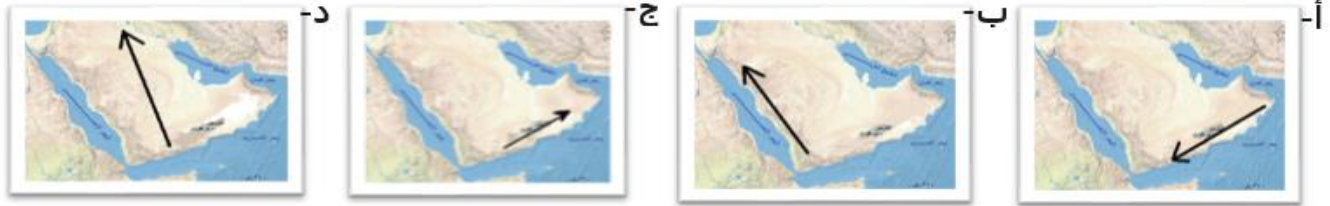
- ١- القبيلة أحد أنظمة الحكم في شبه الجزيرة العربية ، وكان متمثلاً في مكة المكرمة بزعامه قبيلة :
أ - قريش ب - تميم ج - الأوس د - خزاعة

- ٢- انظر الخريطة أمامك ، ثم حدد الجهة التي يقع عليها البحر الأحمر بالنسبة إلى عمان :
أ - الشرق ب - الغرب ج - الشمال د - الجنوب



- ٣- الديانة الأكثر شيوعاً في عمان قبل الإسلام :
أ - النصرانية ب - اليهودية ج - الحنيفية د - الوثنية

٤- الخريطة التي توضح مسار هجرة قبائل الأزد بقيادة مالك بن فهم :



٥- أشهر السلع التي تاجرت بها السفن من ميناء سمهرم في جنوب عمان ، ويعد رمز حضاري لمحافظة ظفار :



ب -



أ -



د -



ج -

السؤال الثاني: أجب عن الأسئلة فيما يلي :

أولا : أ- اذكر بعض من الصفات التي اتصف بها العرب قبل الإسلام .

..... و

ب - فسر : تسمية عمان بهذا الاسم

تابع السؤال الثاني :

ثانيا : رتب الأحداث التاريخية ترتيبا صحيحا من الأقدم إلى الأحدث :

- إرسال ملك الفرس مساعدة للفرس في صحار . ☐
- انتصار العمانيين على الفرس في معركة سلوت . ☐
- انتصار الأزدي وطرد الفرس نهائيا من عمان . ☐
- طلب الفرس الصلح من مالك بن فهم ☐

ثالثا: أمامك صورة لأحد الديانات التي اعتنقها العرب قبل الإسلام ، ادرسها جيدا ، ثم أجب عما يلي :

أ- ما الديانة التي تمثلها الصورة ؟


.....

ب- ما سبب وجود اصنام حول الكعبة ؟

.....

ج- اذكر ديانة سيدنا إبراهيم -عليه السلام - .

.....



السؤال الثالث : ادرس الخريطة جيدا ، وأجب عن الأسئلة :

١- اكتب على الخريطة موقع بلاد الروم .

٢- الرقم الدال على أشهر أسواق عمان التجارية ، والتي يصلها التجار من الهند والسند والصين ، وكانت المساومة طريقة البيع والشراء فيها

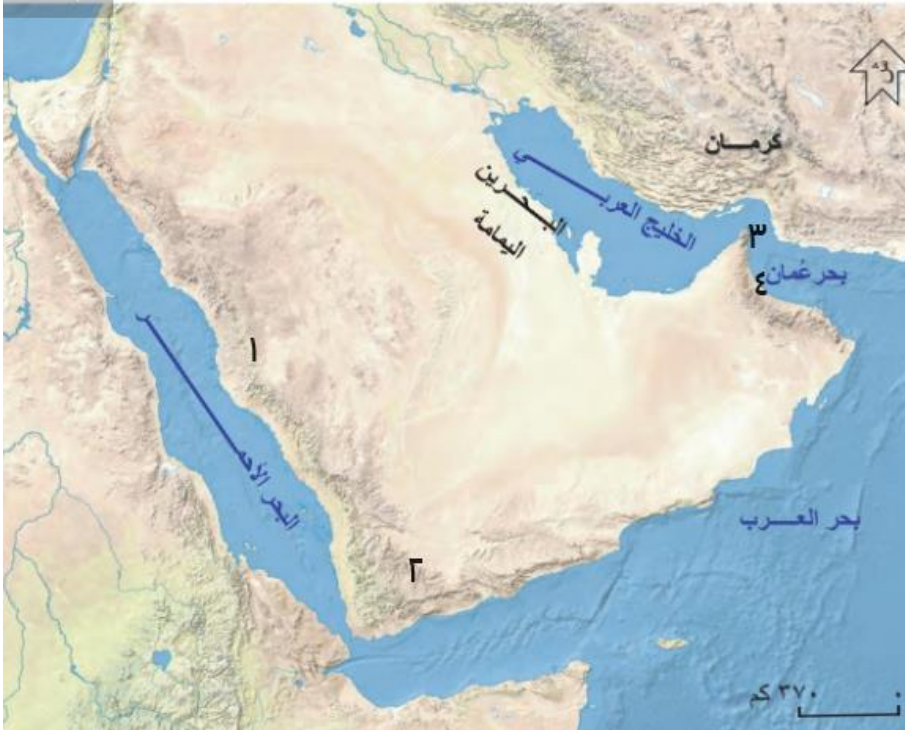
.....

٣- استخرج من الخريطة المنطقة التي حكمها سليمة بن مالك بن فهم

.....

٤- الرقم الدال على الولاية التي اتخذها الفرس قاعدة لهم في ساحل عمان .

.....



انتهت الأسئلة