

تم تحميل هذا الملف من موقع المناهج العُمانية



\* للحصول على أوراق عمل لجميع الصفوف وجميع المواد اضغط هنا

<https://almanahj.com/om>

\* للحصول على أوراق عمل لجميع مواد الصف الرابع اضغط هنا

<https://almanahj.com/om/4>

\* للحصول على جميع أوراق الصف الرابع في مادة الامتحانات ولجميع الفصول, اضغط هنا

<https://almanahj.com/om/4exam>

\* للحصول على أوراق عمل لجميع مواد الصف الرابع في مادة الامتحانات الخاصة بـ الفصل الأول اضغط هنا

<https://almanahj.com/om/4exam1>

\* لتحميل كتب جميع المواد في جميع الفصول للـ الصف الرابع اضغط هنا

<https://almanahj.com/om/grade4>

\* لتحميل جميع ملفات المدرس إيمان مراد و كوثر البراوني و فخرية الشبيبي اضغط هنا

للتحدث إلى بوت على تلغرام: اضغط هنا

[https://t.me/omcourse\\_bot](https://t.me/omcourse_bot)

# محافظة شمال الشرقية

## مدرسة المعالي للتعليم الأساسي ( ٤-١ )


# مخططات كارول

### الصف الرابع

مديرة المدرسة  
أ / فخرية الشبيبي

المعلمة الاولى  
أ / كوثر البراوني




اعداد المعلمة  
إيمان مراد



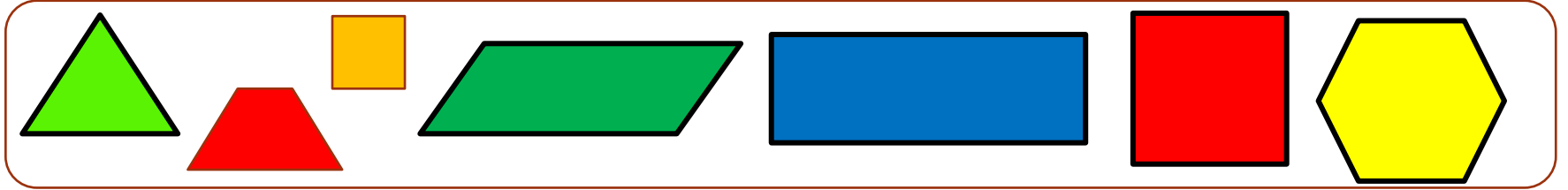
Charles Lutwidge Dodgson أو لويس كارول  
هو الاسم المستعار للكاتب وعالم الرياضيات والمصور  
الفوتوغرافي الإنجليزي



## ضع عناوين مخطط كارول التي تعبر عن فرز العناصر التالية



## صنف الاشكال الهندسية التالية الى مجموعتين



ليس شكل منتظم

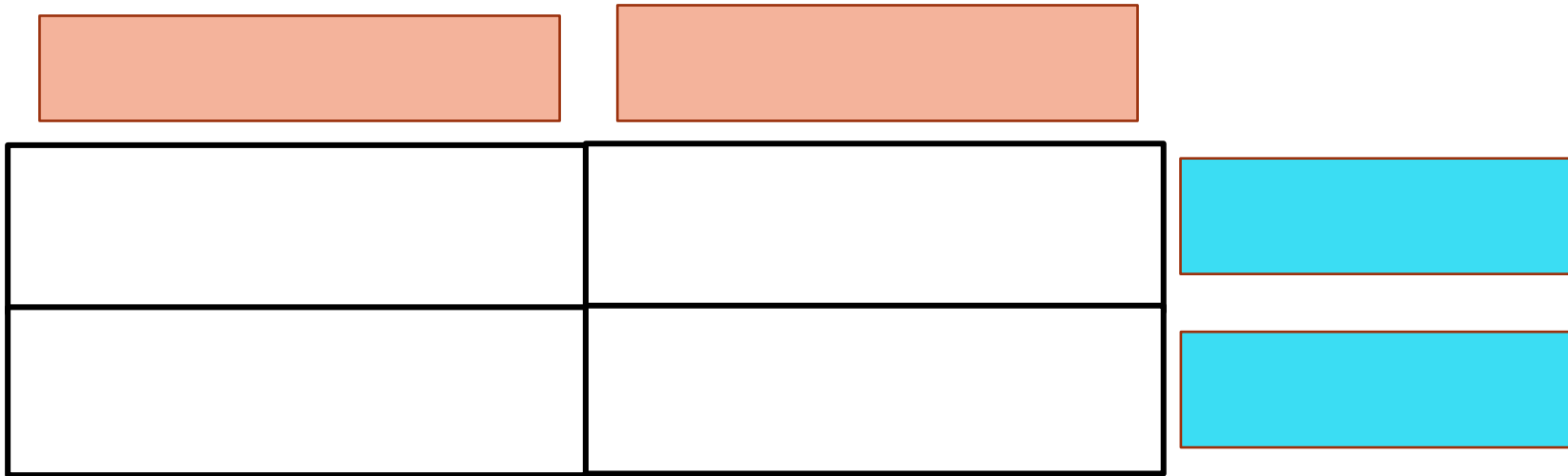
شكل منتظم


لونه أحمر

ليس لونه أحمر

# مخطط كارول

• هو فرز الأشياء وفقاً لامتلاكها  
خاصيتين او معيارين





أَكْتُبْ أَسْمَاءَهُمْ عَلَى الصُّورَةِ.

خَالِدٌ : لَا أُرْتَدِي كُفَّةَ .


أَحْمَدُ : لَا أَجْلِسُ بِجِوَارِ مُهَنْدٍ .

مُحَمَّدٌ : أُرْتَدِي دِشْدَاشَةَ وَكُفَّةَ .

مُهَنْدٌ : لَا أُرْتَدِي دِشْدَاشَةَ .

لا يرتدي دشداشة

يرتدي دشداشة



يرتدي كمة



لا يرتدي كمة



## بمادة اللغة العربية

## صنف الكلمات التالية طبقاً للخاصيتين

١- تبدأ ب ال القمرية

٢- تنتهى بتاء مربوطة

المدرسة الكتاب ماجدة النافذة ضفدع الحجرة

لا تبدأ ب ال القمرية

يبدأ ب ال القمرية


تنتهى بتاء مربوطة

لا تنتهى بتاء مربوطة

صنف الاعداد التالية تبعاً للخاصيتين التاليتين :-

١- عدد متناظر

٢- عدد آحاده = ٥

٨٢٢٨

١٠٩

٤٦٦٤

٥٠١٥

١٠٠١

٥٢٢٥

عدد ليس متناظر

عدد متناظر






آحاده = ٥

آحاده لا تساوى ٥

# (أ) كم مركبة موجودة في القسم الصحيح من مخطط كارول؟

ليس لها ٤ إطارات

لها ٤ إطارات

متجه ناحية اليسار

ليس متجه ناحية  
اليسار

## اكتشف الخطأ تبعا للخصائص الموضحة بالمخطط:-

ليس مكون من ٤ ارقام

مكون من ٤ أرقام

٩٤٨

٨٥٤١

٢٤١٢

٥٢٤٨

آحاده ضعف  
عشراته

٩٨٦٥

٩٨

٤٢٦

١٢

ليس آحاده ضعف  
عشراته