

شكراً لتحميلك هذا الملف من موقع المناهج العمانية



## مجموعة اختبارات قصيرة

[موقع المناهج](#) ⇨ [المناهج العمانية](#) ⇨ [الصف الرابع](#) ⇨ [المناهج](#) ⇨ [الفصل الأول](#) ⇨ [الملف](#)

تاريخ نشر الملف على موقع المناهج: 30-11-2023 10:10:48 | اسم المدرس: أبو الياس الوضاحي

## التواصل الاجتماعي بحسب الصف الرابع



## روابط مواد الصف الرابع على تلغرام

[الرياضيات](#)

[اللغة الانجليزية](#)

[اللغة العربية](#)

[التربية الاسلامية](#)

المزيد من الملفات بحسب الصف الرابع والمادة المناهج في الفصل الأول

مجموعة

اختبارات قصيرة

للمرياضيات + علوم +

عربي + دراسات +

ديني حياتي

الفصل الدراسي الأول

تجميع / أبو الياس الوضاحي

# اختبارات ديني حياتي

مدرسة خبة للتعليم الأساسي  
الصف الرابع ( )

المديرية العامة للتربية والتعليم  
سلطنة عمان

الاختبار القصير الأول في مادة " ديني حياتي"  
الاسم.....  
الفصل الدراسي الأول 2021/2020

### السؤال الأول: (أولاً مهارة الحفظ والتلاوة)

4

اكتب من قوله تعالى ( " وَيَلِّ لِلْمُطَفِّينَ.....إلى قوله تعالى وَمَا أَدْرَاكَ  
مَا سَجِينٌ" )

ب ( ما معنى " المطففين " ( الكافرين - الذين يطففون في الكيل والميزان - المنافقين )

### السؤال الثاني : ثانياً المهارات العقلية

8

1) اكتب حديث " تحية المسجد" قال رسول الله – صلى الله عليه وسلم -

( "إذا دخل .....  
(.....)

2 – ضع علامة ( ) أمام العبارة الصحيحة وعلامة ( ) أمام العبارة الخاطئة مع تصويب الخطأ

اليوم الآخر هو اليوم الذي يحاسب الله تعالى فيه الناس على أعمالهم . ( )

حكم صلاة تحية المسجد فرض ( )

3 - ضع دائرة على الإجابة الصحيحة من بين البدائل المعطاة فيما يلي:-

من آداب الاستئذان

(أ) الدخول إذا لم نجد أحد (ب) الاستئذان قبل الدخول (ج) طرق الباب بعنف

لقب " سيدنا عمر بن الخطاب

(أ) ذو النورين (ب) الصديق (ج) الفاروق

ما معنى أن الله غفور؟

.....

السؤال الثالث :- ثالثاً ( القيم والاتجاهات)

3

أ- رأيت صديقاً لك يسرف في استخدام الماء أثناء الوضوء ،وجه له نصيحة من خلال دراستك لموضوع  
مكروهات الوضوء

.....

ب - ما رأيك فيمن يطفف في الكيل والميزان؟ وجه له نصيحة

الرأي.....

النصيحة.....

الاسم : .....  
الصف : .....  
التاريخ : .....

التاريخ :

(سؤال قصير تربوية إسلامية (التفسير والحفظ وقيم وعبادات

لعام 2021م – 2022م

اجب عن الأسئلة

اكمل الآيات من سورة المطففين

.....(أ- ويل للمطففين(1).....(2)

.....(3)

2

.....ب- المطفف هو

المهارات العقلية

-اكمل الحديث الشريف ج

1

(قال رسول الله ( صلى الله عليه وسلم

.....(إن الرفق لا يكون في شيء إلا )

(د) ضع علامة ✓ أمام العبارة الصحيحة وعلامة x أمام العبارة الخاطئة

( ) من مبطلات الوضوء الدم (1)

( ) اليوم الآخر هو يوم الحساب (2)

( ) كان اسلام سيدنا عمر ضعفاً للمسلمين(3)

( ) لا استأذن عندما أدخل بيت صديقي (4)

4

المديرية العامة للتربية والتعليم  
سلطنة عمان  
محافظة جنوب الشرقية " ولاية صور "  
حياتي "  
الاسم.....  
مدرسة عبد الرحمن بن عوف الخاصة  
الصف الرابع ( )  
الاختبار القصير الأول في مادة " ديني  
الفصل الدراسي الأول 2021/2020  
نموذج "2"

السؤال الأول: (أولاً مهارة الحفظ والتلاوة)

4

أكتب من قوله تعالى ( " إن الأبرار لفي نعيم.....إلى قوله تعالى عيناً  
يَشْرَبُ بِهَا الْمُقَرَّبُونَ" )

.....  
.....  
.....

ما معنى "الأبرار" ( الكفار - الأسرّة - المؤمنين ).....

السؤال الثاني : ثانياً المهارات العقلية

1) أكتب حديث "تحية المسجد" قال رسول الله – صلى الله عليه وسلم

إذا دخل.....  
.....

2 – ضع علامة ( ) أمام العبارة الصحيحة وعلامة ( ) أمام العبارة الخاطئة مع تصويب الخطأ.

للتيمم ثلاث ضربات على الصعيد الطاهر ( )

الله تعالى يغفر الذنوب جميعاً إذا استغفر العبد عنها ( )

8

3 - ضع دائرة على الإجابة الصحيحة من بين البدائل المعطاة فيما يلي:

من مكروهات الوضوء

سيلان الدم

الإسراف في استخدام الماء

التقيؤ

توفيت السيدة " فاطمة الزهراء" بعد وفاة النبي

أ ( بأربعة أشهر      ب) بخمسة أشهر      ج ( بستة أشهر

4- ما دلالة حب " فاطمة الزهراء" لأبيها "محمد" - صلى الله عليه وسلم -

3

السؤال الثالث :- ثالثاً ( القيم والاتجاهات)

رأيت صديقاً لك يسرف في استخدام الماء أثناء  
الوضوء

وجه له نصيحة من خلال دراستك لموضوع " مكروهات الوضوء"

ما رأيك فيمن لا يستأذن حينما يدخل بيتاً غير بيته؟

الرأي.....

لماذا.....



# اختبارات العلوم

الدرجة الكلية	١٠
معرفة وفهم	٧
استقصاء علمي	٣
درجة التلميذ	

سلطنة عمان

وزارة التربية والتعليم

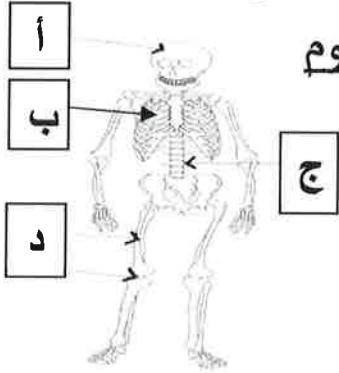
المديرية العامة لتربية بمحافظة البريمي

مدرسة البريمي ( ١ - ٤ ) لتعليم الأساسي

اسم التلميذ:

الصف: الرابع / ٤

### اختبار العلوم الأول لصف الرابع الأساسي في مادة العلوم



درجة

١. ضلل الدائرة يمين الإجابة الصحيحة  
من الشكل المقابل. الجزء المسؤول عن حماية القلب والرئتين هو
- أ ☐ ب ☐ ج ☐ د ☐

٢. زاوج بين الصورة وما يناسبها من العبارات

تساعد على الشفاء من الامراض



تنقبض وتقصّر عند رفع الذراع الى الأعلى



هي أحد أعراض الإصابة بالمرض



تنبسط وتطول عند رفع الذراع الى الأعلى

يمكن معرفة كسور العظام من خلالها



٣ درجات

٣. ضلل المربع المناسب

خطأ	صواب	العبارة
		جميع الادوية هي عقاقير ولكن ليست جميع العقاقير أدوية
		تستطيع الادوية منع أصابتنا بالأمراض
		العقاقير هي أدوية تؤثر على جسم الانسان
		البخاخ هو دواء يستخدم لعلاج مشاكل التنفس

٣ درجات

٤. ضلل الدائرة يمين الإجابة الصحيحة

تعاني مريم من الحمى والزكام . بماذا تنصحتها

☐ شرب دواء اخيها الذي يعاني من الحمى والزكام هو أيضا

☐ شرب كمية كبيرة من الدواء لكي تشفى بسرعة

☐ لا تشرب أي دواء لكي تكتسب مناعة

☐ إستشارة شخص بالغ قبل تناول أي دواء

درجة

٥. قاس خالد ومريم وراشد طول عظم ذراعهم الاعلى . وجاءت النتائج كالتالي :

أدرس الجدول جيدا ثم أجب عما يليه:

الاسم	خالد	مريم	راشد
طول العظام (سم)	٢٨	٣٢	٣٥

أ. من هو الاب باعتقادك؟.....

وضح السبب .....

ب. كم تتوقع طول ذراع والد راشد .....

درجتان

إعداد الأستاذة : منى السعيدى

سلطنة عمان

وزارة التربية والتعليم

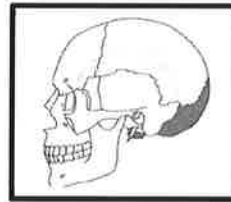
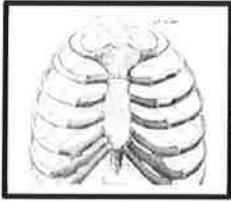
المديرية العامة لمحافظة مسقط

مدرسة النبهاء للتعليم الأساسي (١-٤)

سؤال قصير (١) معرفة وفهم في مادة العلوم للصف الرابع:

	الاسم:	الصف:	

(١) ظلل الشكل أمام الإجابة الصحيحة:  
أ) خلق الله العظام في الهيكل العظمي لحماية أعضاء الجسم  
- الجزء الذي يحمي الدماغ:



[١]

ب) يستخدم لمعالجة مرضى الربو جهاز:

التنفسي ☐

الضغط ☐

الاستنشاق ☐

التقطير ☐

[١]

٢) يقول محمد أن الأرنب من الحيوانات التي تمتلك عضلات.

- هل توافقه الرأي؟

لا ☐

نعم ☐

- فسر إجابتك:

[١]


٣) صل بين العبارة في العمود الأول، و طريقة تناول الدواء في العمود الثاني:

طريقة تناول الدواء
سائل مقطر
الشراب
القطور
المرهم

العبارة
أ- يستخدم في التخفيف من آلام الأذن.
ب- يستخدم لعلاج الحروق والحساسية في الجلد.
ج- يعطى لعلاج السعال لدى الأطفال.
د- أداة تسرع من وصول الدواء إلى الدم عند الأشخاص شديدي المرض.

[٢]

٤) يعمل قاسم في عمل إنشاءات معمارية ووظيفته حمل مواد البناء المختلفة.



أ) ماذا يحدث لعضلة ذراع قاسم الثنائية الرؤوس عند رفعة للطوب؟..... [١]

ب) متى ترتخي العضلة ثنائية الرؤوس في ذراع قاسم؟..... [١]

نموذج التصحيح للسؤال القصير (١) معرفة وفهم

رقم السؤال	الدرجة	الإجابة	إرشادات إضافية	الهدف المنتهي	هدف التقويم	ملاحظات
١-أ	١	صورة الجمجمة	- إذا اختار صورة الجمجمة له درجة. -إذا وضع أي إشارة على الشكل البيضاوي بجانب الإجابة الصحيحة له درجة. -إذا اختار غيرها صفر.	٢ Bh٤ : يميز أن الهيكل العظمي ينمو مع نمو الإنسان وأنه يدعم ويحمي الجسم.	معرفة	-
١-ب	١	الاستنشاق	- إذا اختار الاستنشاق له درجة. -إذا وضع أي إشارة على الشكل البيضاوي بجانب الإجابة الصحيحة له درجة. -إذا اختار غيرها صفر.	٩ Bh٤ : يميز طرق استهلاك الأدوية.	معرفة	-
٢	١	- نعم - لأن الأرنب حيوان فقاري به عضلات متصلة بالعظام	-إذا كتب نعم مع التفسير بشكل صحيح له درجة. -إذا أجاب واحدة صحيحة له صفر.	٣- Bh٤ : يستنتج أن الحيوانات ذات الهيكل العظمي تمتلك عضلات مرتبطة بالعظام.	تطبيق	-
٣	١	أ-القطور ب-المرهم ج-الشراب د-سائل مقطر	أ-إذا وصل الأربعة إجابات صحيحة له درجتان. - إذا أجاب ٣ إجابات صحيحة له درجة. - إذا أجاب ٢ إجابات صحيحة له درجة. -إذا أجاب ١ إجابات صحيحة له صفر.	٨ Bh٤ : يستنتج أن الأدوية تحمي وتشفي وتخفف من أعراض المرض.	تطبيق	-
٤	١	أ-تنقبض ب- عند إنزاله للطوب	أ-إذا كتب الإجابة صحيحة له درجة. - غير ذلك له صفر. ب- إذا كتب الإجابة صحيحة له درجة.	٤ a Bh٤ : يستنتج أن انقباض العضلة يؤدي إلى حركة العظام.	استدلال	

سؤال قصير (معرفة وفهم) العلوم الصف الرابع الاسم ..... التاريخ .....

٧

السؤال الأول: ظلل الإجابة الصحيحة من بين البدائل المعطاة : (معرفة)

١/ عدد عظام الجمجمة هي....

٣٠ ☐

٢٤ ☐

٢٢ ☐

١٢ ☐

٢/ عند الإصابة بكسر فان الذي يشفى سريعا هو.....

الرضيع ☐

النساء ☐

العجوز ☐

البالغ ☐

السؤال الثاني: ضع علامة (√) امام العبارة المناسبة : (تطبيق)

العبارة	صواب	خطأ
يمكن استخدام مرهم لعلاج التهاب الحلق .	<input type="checkbox"/>	<input type="checkbox"/>
تعمل العضلات بشكل ثنائي .	<input type="checkbox"/>	<input type="checkbox"/>
يمكنك استخدام كمية مضاعفة الدواء في حالة نسيان تناول الجرعة الاولى .	<input type="checkbox"/>	<input type="checkbox"/>

السؤال الثالث : (استدلال) يقول محمد أن قنديل البحر من الحيوانات التي تمتلك هيكلًا عظميًا .

هل توافقه الرأي ؟

نعم ☐

لا ☐

علل .....

السؤال الرابع : اكمل بكلمة واحدة (معرفة)

عظام الجمجمة من العظام .....

الهيكل العظمي يحمي و.....الجسم

١

٢

٩

الواجب المنزلي (معرفة وفهم) علوم الصف الرابع الاسم ..... التاريخ .....

السؤال الأول : اكمل (معرفة)

٢

١/ يمكننا تناول الأدوية على شكل ..... و.....

٢/ جميع الادوية هي..... لكن ليست جميع العقاقير ب.....

السؤال الثاني : من الرسم ادناه اجب على الأسئلة التالية : (تطبيق)

١/ العضلة (ا) في حالة .....



٢/ وضع العضلة (ب) في حالة .....

١

السؤال الثالث: (استدلال)

١/ تقول مريم من الممكن استخدام دواء شخص اخر إذا كنا نعاني من المرض .

هل ما تقوله صحيح ؟

لا ☐

نعم ☐

٢

فسر ذلك .....

٢/ ماذا يطلق على اصابات العظام ؟ .....

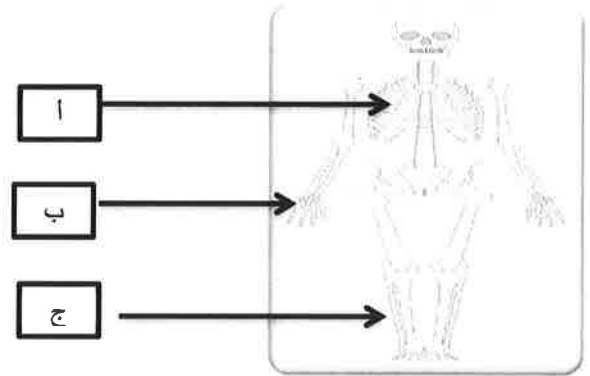
السؤال الرابع :صنف المواد التالية أدوية وعقاقير (شراب ادول – مرهم – سجانر – بخاخ) (تطبيق)

٢

ادوية	عقاقير



السؤال الخامس : ١ / اكتب اجزاء الهيكل العظمي المشار اليها بالأسهم التالية (تطبيق)



٢

نموذج اجابات الواجب المنزلي (١) لمادة العلوم الصف الرابع

المفردة	الاجابة	الدرجة	مستوى التعليم	الهدف
السؤال الاول	١/ مسحوق- مخلوط - بخاخ -سائل مقطر عبر الدم -حبوب (يختار التلميذ اجابتان فقط) ٢/ عقاقير..... ,ادوية	٢	معرفة	العقاقير كادوية
السؤال الثاني	أ/ انقباض ب/ ارتخاء	١	تطبيق	الهيكل العظمي والحركة
السؤال الثالث	لا يجب استخدام الدواء بواسطة الطبيب او الممرض (اي اجابة من التلميذ تفيد المعنى)	٢	استدلال	العقاقير كادوية
السؤال الرابع	الادوية (شراب ادول- مرهم -بخاخ ) عقاقير (سجائر)	٢	تطبيق	العقاقير كادوية
السؤال الخامس	أ- القفص الصدري - ب/ قصبه الساق	٢	تطبيق	الهيكل العظمي للإنسان

نموذج اجابات السؤال القصير (١) لمادة العلوم الصف الرابع

المفردة	الاجابة	الدرجة	مستوى التعليم	الهدف
السؤال الاول	٢٢- الرضيع	٢	معرفة	لماذا نحتاج الى هيكل عظمي؟
السؤال الثاني	خطأ – صواب -خطا	٢	تطبيق	العقاقير كادوية
السؤال الثالث	لا - من الحيوانات لافقارية	١	استدلال	لماذا نحتاج الى هيكل عظمي؟
السؤال الرابع	المستوية –يدعم	٢	معرفة	الهيكل العظمي للإنسان

# اختبارات الدراسات

السؤال قصير الأول مادة الدراسات الاجتماعية للصف الرابع الأساسي  
الفصل الدراسي الأول

٥

اسم الطالب / ة ..... الصف : .....

١- اختر الإجابة الصحيحة من بين البدائل المعطاة : ( درجة واحدة)

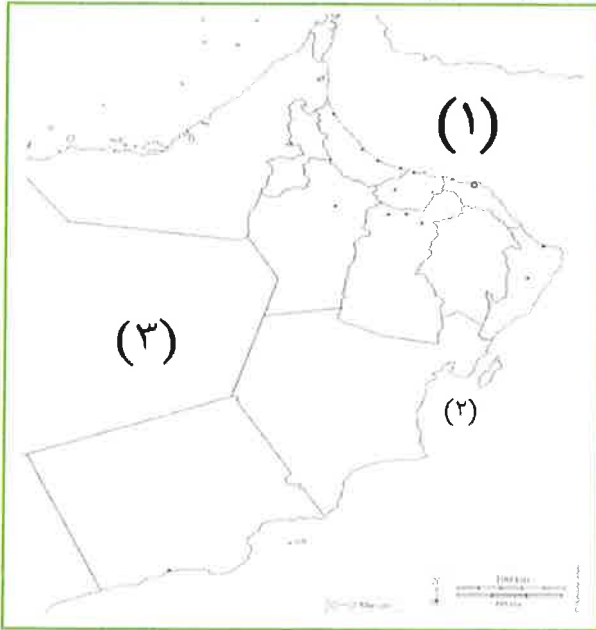
(أ) من عناصر الخريطة ويدل على موضوع الخريطة .....

(أ- إشارة الشمال ب- مفتاح الخريطة ج عنوان الخريطة د- مقياس الرسم)

(ب) تقع سلطنة عمان في الجزء ..... من شبه الجزيرة العربية.

(أ- الشمالي ب- الشمالي الغربي ج الجنوبي د- الجنوبي الشرقي)

٢- انظر إلى الخريطة التي أمامك وأجب عن الأسئلة الآتية: (٣ درجات)



أ- يشير رقم (١) إلى بحر .....

ب- يشير رقم (٢) إلى أكبر جزيرة في

سلطنة عمان .....

ج- يشير رقم (٣) إلى دولة .....

٣- ابدى رأيك في الجهود التي تبذلها الدولة للحفاظ على المعالم

الأثرية في سلطنة عمان ، موضحا سبب رأيك . ( درجة واحدة )

## أسئلة متنوعة درس ( موقع وطني الجغرافي )

### - السؤال الأول:

### - أكمل الفراغات التالية :

- 1--تعد قارة ..... أكبر قارات العالم من حيث المساحة .
- 2-جزيرة ..... تعد من أكبر الجزر في سلطنة عمان .
- 3- دولة المملكة العربية السعودية تحد عمان من جهة .....
- 4-يبلغ إجمالي عدد سكان سلطنة عمان حوالي .....
- 5-يأتي وطني عمان من حيث المساحة بين دول الخليج العربي في المرتبة .....
- 6- قديما عبرت سلطنة عمان رحلات بحرية تجارية إلى دولة الهند ودولة ..... وإلى شرقي أفريقيا

### السؤال الثاني:

### اختر الإجابة الصحيحة :

- 1--دولة الجمهورية اليمنية تحد سلطنة عمان من جهة ( الجنوب –الشمال – الشرق )
- 
- 2-بحر ( العرب –الأحمر – عمان ) تطل عليه عمان من جهة الشمال الشرقي
- 
- 3-مضيق تشرف عليه سلطنة عمان (مضيق جبل طارق –مضيق هرمز –مضيق باب المندب )
- 
- 4-يقع وطني عمان في قارة (إسيا – أفريقيا – أوروبا )
- 
- 5--المحيط الذي يقطعه التجار العمانيون في رحلتهم البحرية إلى شرقي إفريقيا (الأطلسي –الهادي – الهندي )
- 
- -تبلغ مساحة وطني عمان ( 903,500 كم مربع - 309,500 كم مربع -350,900 كم مربع )

## . السؤال الثالث:

### . - ضع علامة صح أو خطأ

- 1-يمتلك وطني عمان موقعا متميزا بالنسبة للعالم ،وهو جوهرة الخليج وموطن الحضارات ( )
- 2-يقع وطني يقع في الجزء الشمالى الشرقى من شبه الجزيرة العربية ( )
- 3-يتميز وطني عمان بشواطئه الطويلة والجميلة، ويمتلك العديد من الموانئ المهمة ( )
- 4-سلطنة عمان ثاني دولة تشرق عليها الشمس ( )
- 5-مضيق هرمز هو بوابة الخليج العربي ( )

## السؤال الرابع

1 -ما أهمية مضيق هرمز .

.....

.....

2- ما أهمية الرحلات البحرية العمانية قديما .

.....

3-هل تمتلك سلطنة عمان موقعا متميزا ؟ لماذا ؟

.....

.....

## من اهم الموانئ في بلادي



.....ميناء

.....ميناء

أ. مروة سند

## سلطنة عمان

### وزارة التربية والتعليم

#### الاختبار الاول في مادة الدراسات الاجتماعية للصف الرابع

الصف----

الاسم-----

### مستوى التذكر

اكمل الفراغ بما يناسب

من المكونات الاساسية للخريطة .....

اسم القارة التي تقع فيها سلطنة عمان.....

### الفهم

اختر الاجابة الصحيحة من بين البدائل المعطاة:

أ-المحيط الذي كان يقطعه التجار العمانيون في رحلاتهم البحرية الى شرقي افريقيا

١-الهادي                      ٢- الاطلسي                      ٣-الهندي

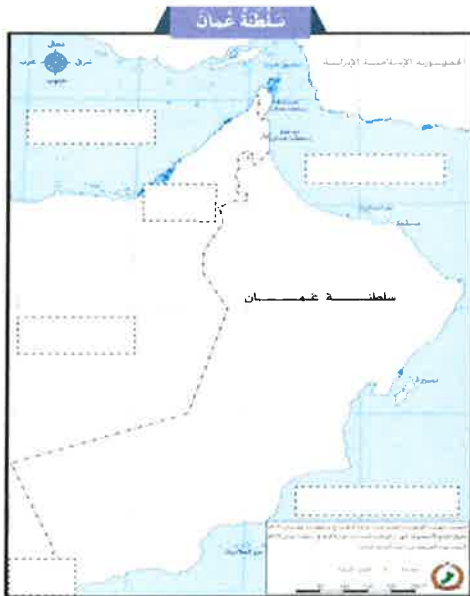
ب-وصل اليها التجار العمانيون في قارة اسيا

١-الصين                      ٢-شرقي افريقيا                      ٣-استراليا

### التطبيق

ضع أسماء الدول والبحار التي تجاور سلطنة عمان في مكانها المناسب:

(بحر العرب \_الخليج العربي \_بحر عمان – اليمن –  
الامارات \_السعودية)





### التحليل

من خلال دراستك لموضوع معالم من وطني اكمل الجدول الاتي

مسكن الحكام - للدفاع عن الوطن - مسكن للجنود - مبنى ضخمة - يضم مجموعة من الابراج

القلعة	الحصن	اوجه المقارنة
		الحجم
		المسكن
		الاستخدام

### التركيب

من خلال دراستك لدرس موقع وطني الجغرافي أكتب فقرة تتحدث عن الرحلات البحرية العمانية قديما :

---

---

---

---

### التقويم :

ما رأيك في موقع وطني الجغرافي بالنسبة للوطن العربي ؟

---

---

---

### كل التوفيق...



مدرسة تبارك الخاصة ( السؤال القصير الثاني ) لمادة الدراسات الإجتماعية  
الصف الرابع الأساسي الاسم : ----- الشعبة : -----

1 - التذكر :

\*اختر الإجابة الصحيحة :

1 - تقع سلطنة عمان في قارة -----

(أ) أفريقيا (ب) آسيا (ج) أوروبا

2 - المحيط الذي تطل عليه سلطنة عمان هو المحيط -----

(أ) الهندي (ب) الهادي (ج) الأطلسي

3 - تبلغ مساحة سلطنة عمان حوالي -----

(أ) 480.205 كم<sup>2</sup> (ب) 794.600 كم<sup>2</sup> (ج) 309.500 كم<sup>2</sup>

4 - تقع سلطنة عمان في الجزء ( ----- ) من شبه الجزيرة العربية

(أ) الشمال الشرقي (ب) الجنوب الشرقي (ج) الشمال الغربي

2 - الفهم :

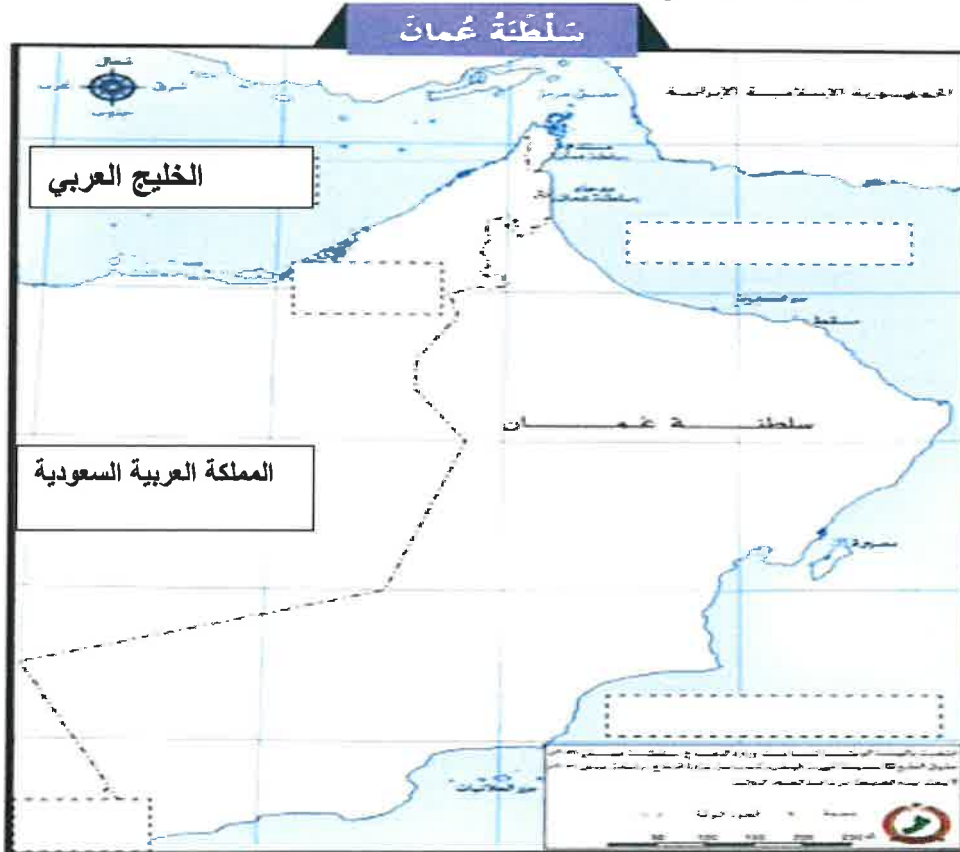
\*اجب على السؤالين التاليين :

(أ) ما الذي سهل على التجار العمانيين السفر إلى شرقي أفريقيا ؟

(ب) لماذا يُطلق على مضيق هُرمُز بِبِوَابَةِ الْخَلِيجِ ؟

3 - التطبيق :

\*اكتب أسماء الدول والبحار التي تجاور سلطنة عمان :





مدرسة الأجيال للتعليم الأساسي (1-4)

الاختبار القصير الأول

المادة: دراسات اجتماعية

الاسم .....

الصف .....

أولاً : التذكر والفهم والتطبيق (8 درجات)

س1- (مستوى التذكر) أكمل العبارات الآتية (أربع درجات)

أ - من عناصر الخريطة مقياس الرسم و..... و.....

ب - تجاور سلطنة عُمان ثلاث دول هي السعودية و..... و.....

س2 (مستوى الفهم ) اختر الإجابة الصحيحة من بين البدائل (درجتان)

أ - معلم أثري تاريخي كان يسكن بها الجنود قديماً هي :-

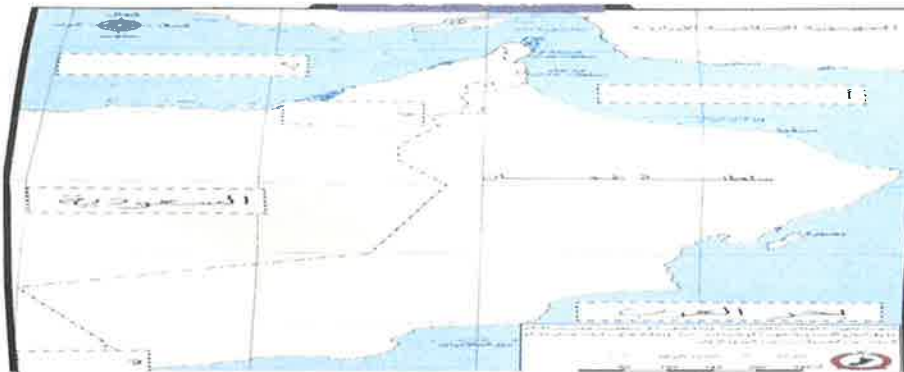
1-القلعة 2-الحصن 3-المسجد

ب - بيوت أثرية متراصة على سفوح الجبال وضاف الوديان تتميز

بالتوافذ والأبواب المزخرفة يسكنها عامة الشعب هي :-

1-الشارع 2-الحارة 3-النهر

س3- (مستوى التطبيق) انظر إلى الخريطة التي أمامك وأكمل (درجتان)





أ- بحر.....

ب -الخليج.....

ج- دولة.....

د- دولة.....

ثانيًا المستويات العليا: (سبع درجات)

س1- مستوى التحليل (درجتان)

قارن بين استخدامات المسجد قديمًا وحديثًا ؟

..... قديمًا

..... حديثًا

س2 – مستوى التركيب (درجتان)

من خلال دراستك للحصن أجب عمّا يلي :-

أ – مما يتكون الحصن ؟

.....

ب – مَنْ كان يسكن بالحصن ؟

.....

س3 – مستوى التقويم (ثلاث درجات)

من وجهة نظرك ، هل كان للقلاع والحصون دورًا قديمًا وضح ذلك؟

.....

.....

انتهت الأسئلة مع تمنياتي بالنجاح والتفوق

# اختبارات الرياضيات

سلطنة عمان

اسم الطالب : .....

وزارة التربية والتعليم

الصف : .....

المديرية العامة للتربية والتعليم لمحافظة الظاهرة

الزمن : ساعة واحدة

دائرة تنمية الموارد البشرية /قسم العلوم التطبيقية

الدرجة : ٢٥ درجة

إشراف المجال الثاني

اختبار تحصيلي في مادة الرياضيات للصف الرابع الأساسي للعام الدراسي: ٢٠١٣/٢٠١٤م

السؤال الأول : (٦ درجات)

أولاً: اختر الإجابة الصحيحة من بين الإجابات المعطاة بوضع دائرة حول رمز الإجابة الصحيحة :

(١) القيمة المكانية للرقم ٦ في العدد ٤٦٥٢٣ هي :

(أ) ٦٠٠٠٠ (ب) ٦٠٠٠ (ج) ٦٠٠ (د) ٦

(٢) ١٨ عشرة تساوي :

(أ) ١٨ (ب) ٨٠ (ج) ١٠٠ (د) ١٨٠

(٣) مع خالد ٤٨٩ ريالاً ، ومع وليد ١٦٩ ريالاً . بكم يزيد ما عند خالد عن ما عند وليد؟ :

(أ) ٦٥٨ (ب) ٣٢٠ (ج) ٢٨٠ (د) ٢٧١

(٤) قيمة الرقم ٥ في ناتج العملية  $٢٧٣٤ + ١١٢٣$  هي :

(أ) ٥ (ب) ٥٠ (ج) ٥٠٠ (د) ٥٠٠٠

(٥) تقدير ناتج (  $٣١٥٨٦ + ٢٥٩٧٠$  ) باستخدام الموازنة يساوي :

(أ) ٢٠٠٠٠ (ب) ٤٠٠٠٠ (ج) ٥٠٠٠٠ (د) ٦٠٠٠٠

$$(٦) \quad \square \times ٤ = ٥ + ٢٣$$

العدد الذي يوضع في  $\square$  لكي تكون الجملة الرياضية السابقة صحيحة هو:

(أ) ٦ (ب) ٧ (ج) ٨ (د) ٩

ثانياً: رتب الأعداد التالية ترتيباً تنازلياً : ( درجتان )

٦٥٧٢١ - ٦٥٩٣٤ - ٨٧٤٩ - ٦٤٨٨٨

السؤال الثاني:

أ) أجب عن الأسئلة التالية :

( ١٠ درجات )

(١) لديك الأرقام ( ٦ ، ٩ ، ١ ، ٤ ، ٥ ) .  
كوّن أكبر عدد وأصغر عدد من الأرقام السابقة ثم أوجد الفرق بينهما ؟

- أكبر عدد هو .....

- أصغر عدد هو .....

- الفرق بينهما .....

(٣)

٤ ٦

٧ ×

(٢)

٧ ٣  ٦ ٧

٤ ٦  ٨  ٢ +

٥ ٣ ٩ ٠ ٤

(٤) ..... = ٣٥٤٦ - ٣٤٥٠٧

(٥) ..... = ٣٦٧٤ + ٥٨٤٦



**السؤال الثالث : أجب عن الأسئلة التالية :** (٧ درجات)

١ ( تتسع مدرجات ملعب كرة قدم لعدد خمسة وعشرون ألفاً وسبعمائة شخص ، إذا كان عدد الحضور في مدرجات الملعب ثلاثة وعشرون ألفاً وخمسمائة.

كم تبقى من مدرجات الملعب حتى يمتلئ ؟

.....

.....

٢ ( قطعت سيارة مسافة ٥٤٣٢ متراً ، ثم قطعت مسافة ٣٦٩٣ متراً.

ما المسافة الكلية التي قطعتها السيارة ؟

.....

.....

٣ ( اشترى تاجر أجهزة إلكترونية متنوعة ، حيث إنه اشترى :

\* ٤ أجهزة تلفاز قيمة كل واحد منها ٦٥ ريالاً.

\* ٣ أجهزة تسجيل قيمة كل واحد منها ٣٧ ريالاً.

فكم الثمن الذي دفعه التاجر لشراء هذه الأجهزة جميعها ؟

.....

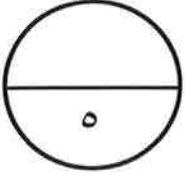
.....

.....

.....

---

انتهت الأسئلة مع تمنياتنا لكم بالتوفيق ،،



سؤال قصير (١) في مادة الرياضيات للصف الرابع

الفصل الدراسي الأول

الاسم الجميل : .....

(١) ظلل على الاجابة الصحيحة

كتبت فاطمة عددا يحتوي على الرقم ٥ في خانة المئات والرقم ٣ في خانة الآحاد . اي من الاعداد الاتية يمكن أن تكون فاطمة قد كتبت

٤٥٦٣٠

٥٣٦٤٠

٥٦٤٣٠

٤٥٣٦٠

[١]

.....

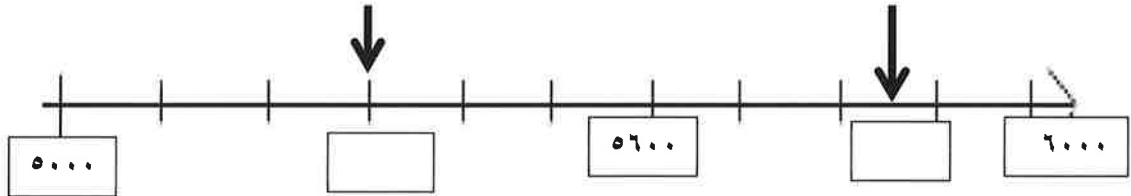
(٢) رزمة من طعام العصافير تحتوي على ٥٠٠ غرام من الطعام تطعم مريم عصفورها ١٠ غرامات من الطعام كل يوم

(٣) كم يوما يمكن لهذه الرزمة ان تدوم ؟

[١]

(٣) أكتب لأعداد التي يشير إليها الاسم التالية على خط الاعداد

[٢]



٣٠٠٩

٣٠٠٧

٣٠٠٦

٣٠٠٥

(٤) اذا كان لديك أربعة اعداد

اختر العدد الذي يجعل الجملة العددية الآتية صحيحة

[١]

> ٣٠٠٧

انتهت الاسئلة

اتمنى لكم النجاح والتوفيق

انت تستطيع ايها العبقرى حل جميع الاسئلة

اعداد : أ/ نوف الزيدية

نموذج إجابة سؤال قصير (١) في مادة الرياضيات للصف الرابع

الفصل الدراسي الأول

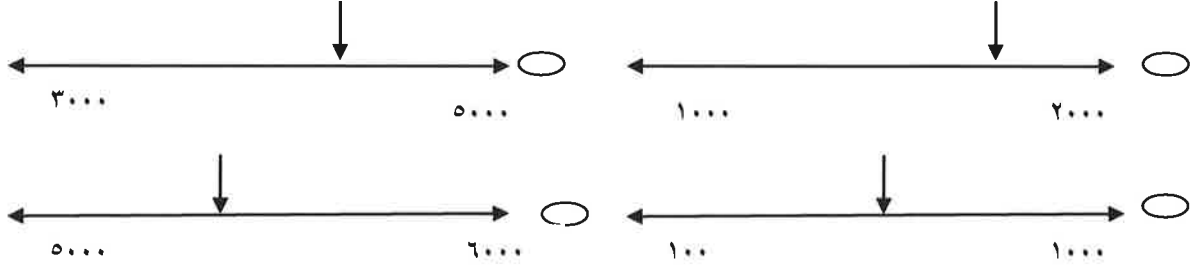
الدرجة الكلية : ٥ درجات

رقم المفردة	هدف التعلم	هدف التقويم	الإجابة	الدرجة	الإرشادات
١	4Nn1	معرفة	٤٥٦٣	١	-
٢	4Nn7	استدلال	$١٠ \div ٥٠٠ = ٥٠$ يوما	١	
٣	4Nn10 4Nn11	تطبيق تمثيل		٢	
٤	4Nn12	تصنيف وترتيب	٣٠٠٩	١	

### السؤال القصير الأول في مادة الرياضيات للصف الرابع

١- ظلل الشكل البيضاوي يمين الإجابة الصحيحة : درجة

في أي خط من خطوط الأعداد يشير السهم إلى العدد: ٥٤٠٠ ؟

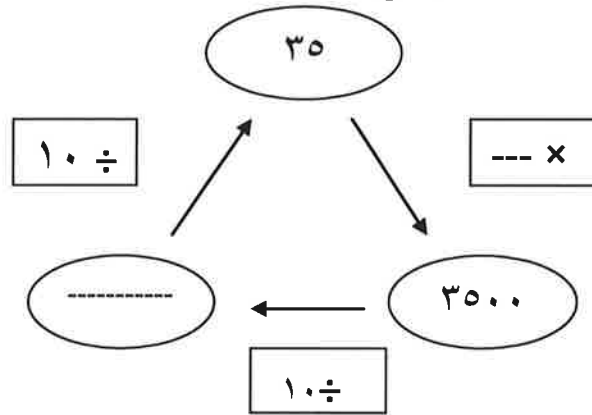


٢- صل كل عدد في العمود الأول بما يمثله في العمود الثاني: درجة

٥٠ عشرة  
٥٠ مائة  
٥ عشرات

٥٠٠  
٥٠

٣- اكتب الأعداد الناقصة : درجتان



٤- ضع العلامة المناسبة : <, >, = درجة

٣٠٩٩  ٣٩٠٩

# اختبارات العربي

## اختبار قصير (1) لغة عربية للصف الرابع

\*أولاً مهارة / القراءة

\*مخرج / الاختبارات القصيرة

اقرأ النص التالي ثم أجب عن المطلوب :

شَعَرَتْ وَرَقَةٌ تَوْتٍ صَغِيرَةٍ بِالْخَجَلِ مِنْ خُشُونَةِ مَلَمْسِهَا، وَصَارَتْ تَحْسُدُ زُهُورَ الْحَقْلِ الْمُتَنَوِّعَةِ عَلَى نَعِوْمَتِهَا.

لم تكن ورقة التوت سعيدة بشكلها، رغم لونها الأخضر الجميل، وعروقها المتناسقة.. فهي تتمنى أن تكون ناعمة شفافة، تتمايل مثل الأزهار.

وفي يوم شاهدت ورقة التوت دودة قزٍ كبيرة بالسن تسير على الأرض تحاول صعود شجرة التوت لتأكل بعض أوراقها الطرية.. لكنها لم تستطع.. فاقتربت الدودة من وردة صغيرة جميلة ناعمة الأوراق..

ظننت ورقة التوت أن الدودة سوف تأكل أوراق الوردية وتستمتع بها.. اقتربت الدودة من أوراق الوردية وقضمت بغمها قضمة صغيرة.. لكن الدودة رمت القطعة فقد كان طعمها مرّاً.. ولم يعجبها.

أدركت ورقة التوت أن الدودة العجوز سوف تموت من الجوع.. رق قلبها.. فاهتزت بعنف حتى قطعت عنقها وسقطت أمام الدودة المسكينة..

وكانت الدودة تأكل الورقة بلذة.. فشعرت الورقة عندئذ أن خشونتها التي كانت تخجل منها أطيب عند الدودة من نعومة الوردية.. وكانت سعيدة جداً وهي تنقذ الدودة من الموت.

(1) اختر الإجابة الصحيحة من بين البدائل المعطاة :

\*لماذا شعرت ورقة التوت بالخجل؟

- أ. من لونها الأخضر. ج. من نعومة أوراقها.  
ب. من خشونة ملمسها. د. من عروقها المتناسقة.

\* كانت أمنيّة ورقة التوت أن:

- أ. تكون خضراء اللون. ج. تكون ناعمة شفافة.  
ب. تكون حرة كالدودة. د. تأكلها الدودة المسكينة.

(2) ماذا شاهدت ورقة التوت ذات يوم؟

3) لماذا ظننت ورقة التوت أن الدودة سوف تأكل أوراق الوردية وتستمتع بها؟

4) لماذا لم تكمل الدودة أكل ورقة الوردية ورمتها بعيداً رغم جوعها؟

5) اكتب عنواناً مناسباً للنص :

6) كيف أكلت الدودة ورقة التوت ؟

7) لماذا شعرت ورقة التوت في نهاية القصة ؟



\*ثانياً مهارة / الكتابة  
مخرج / الاختبارات القصيرة

1) اختر الفعل المناسب للجمل الآتية :

• الطالبات ..... اللوحة

أ - رَسَمْنَ      ب - رَسَمُوا      ج - رَسَمْتُ

• أَعْبَرَ عَنِ الْمَتَكَلِّمِ بِضَمِيرِ الرَّفْعِ الْمُتَّصِلِ .....

أ - نَوْنُ النُّسْوَةِ      ب - تَاءُ الْفَاعِلِ      ج - نَا الْفَاعِلَيْنِ

• نَحْنُ ..... بِالرَّحْطَةِ

أ - اسْتَمْتَعْتُ      ب - اسْتَمْتَعْنَا      ج - اسْتَمْتَعْنِ

2) اكتب جملتين بهما اسم إشارة من إنشائك:

أ - .....

ب - .....

3) اكتب العبارة الآتية مُصحّحاً ما تحته خط :

المُسْلِمُ لا يُأْذِي جَارَهُ ، ويسْءَلُ عَنْهُ في السَّراءِ و الضَّراءِ .

.....

4) وَضِّحْ نَوْعَ الْجُمْلَةِ الْآتِيَةِ وَرُكْنَيْهَا:

الجملة	نوعها	الركن الأول	الركن الثاني
المآذن عالية	.....	.....	.....
تحلق الطيور	.....	.....	.....