

أوراق عمل حول درس الأشكال ثنائية الأبعاد



تم تحميل هذا الملف من موقع المناهج العمانية

موقع فايلاتي ← المناهج العمانية ← الصف الرابع ← رياضيات ← الفصل الثاني ← اختبارات ← الملف

تاريخ إضافة الملف على موقع المناهج: 22:22:45 2025-04-03

ملفات اكتب للمعلم اكتب للطالب ا اختبارات الكترونية ا اختبارات ا حلول ا عروض بوربوينت ا أوراق عمل
منهج انجليزي ا ملخصات وتقارير ا مذكرات وبنوك ا الامتحان النهائي ا للمدرس

المزيد من مادة
رياضيات:

التواصل الاجتماعي بحسب الصف الرابع



صفحة المناهج
العمانية على
فيسبوك

الرياضيات

اللغة الانجليزية

اللغة العربية

التربية الاسلامية

المواد على تلغرام

المزيد من الملفات بحسب الصف الرابع والمادة رياضيات في الفصل الثاني

ملخص شرح درس استكشاف الكسور

1

ملخص شامل في وحدة الكسور والقسمة

2

كتاب التلميذ

3

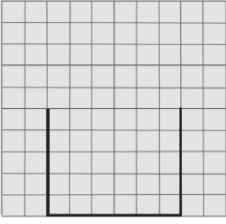
كتاب النشاط للمادة

4

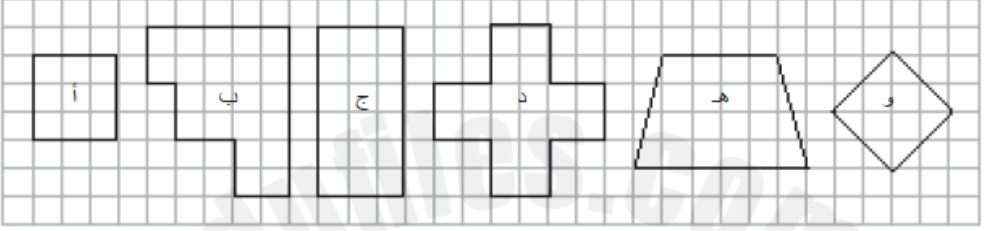
اختبار قصير ثالث في الكسور

5

موضوع الدرس : الأشكال ثنائية الأبعاد




- ١) يجب على زين أن يرسم شكلاً. يكون له ٥ أضلاع وله خط تماثل واحد. بدأ زين برسم الشكل. أكمل الشكل الذي رسمه زين



- ٢) استخدم جميل الجدول التالي لفرز الأشكال السابقة:
ضع الحرف الموجود على كل شكل في الفراغ المخصص لذلك في الجدول.

ليس له ٤ أضلاع	له ٤ أضلاع	
	أ	جميع الأضلاع لها نفس الطول
		جميع الأضلاع <u>ليست</u> لها نفس الطول



- ٣) هذه القطعة لها شكل مضلع. ما اسم المضلع؟

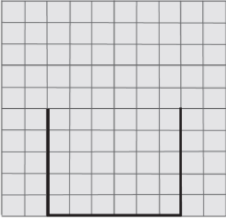
- ٤) يفكر أحمد في شكل رباعي غير منتظم له ٤ زوايا قائمه وخطان تماثل .
ما الشكل الذي يفكر فيه أحمد ؟



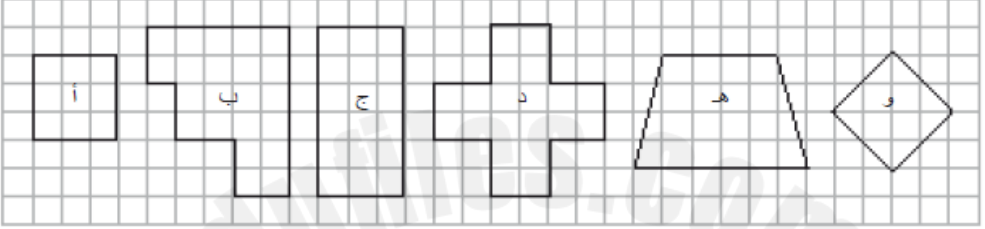
- ٥) رَسَمَت كُلُّ مِنْ مريم ونوف مُضَلَّعًا، أَيُّهُمَا رَسَمَهَا صَحِيحٌ؟

برر اجابتك

موضوع الدرس : الأشكال ثنائية الأبعاد




- ١) يجب على زين أن يرسم شكلاً. يكون له ٥ أضلاع وله خط تماثل واحد. بدأ زين برسم الشكل. أكمل الشكل الذي رسمه زين



- ٢) استخدم جميل الجدول التالي لفرز الأشكال السابقة:
ضع الحرف الموجود على كل شكل في الفراغ المخصص لذلك في الجدول.

ليس له ٤ أضلاع	له ٤ أضلاع	
	أ	جميع الأضلاع لها نفس الطول
		جميع الأضلاع <u>ليست</u> لها نفس الطول



- ٣) هذه القطعة لها شكل مضلع. ما اسم المضلع؟

- ٤) يفكر أحمد في شكل رباعي غير منتظم له ٤ زوايا قائمه وخطان تماثل .
ما الشكل الذي يفكر فيه أحمد ؟



- ٥) رَسَمَت كُلُّ مِنْ مريم ونوف مُضَلَعًا، أَيُّهُمَا رَسَمَهَا صَحِيحٌ؟

برر اجابتك