

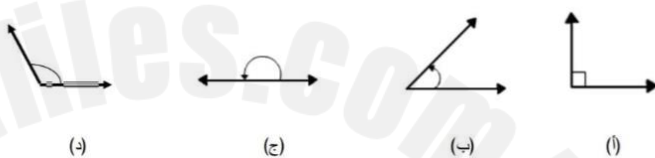

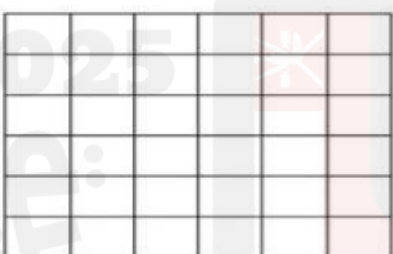






معرفة وفهم (6)	
حل المشكلات (4)	
المجموع (10)	


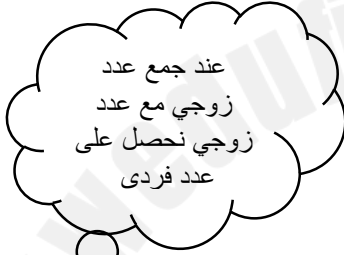
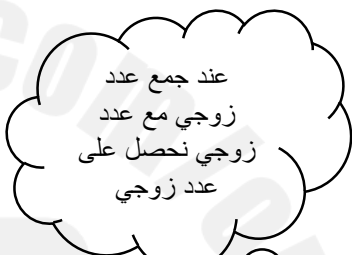
سلطنة عُمان
وزارة التربية والتعليم
مدرسة الأبييض للتعليم الأساسي

الاختبار الثالث في مادة الرياضيات للصف الرابع للعام الدراسي 2025/2024م

الصف.....

الاسم.....

م	السؤال	الدرجة												
1	لديك أربعة زوايا (أ)، (ب)، (ج)، (د) أيهما تساوي قياس نصف الزاوية القائمة ؟ 	1												
2	كم خط تماثل للشكل التالي:  1 ○ 2 ○ 3 ○ ④	1												
3	في شبكة المربعات 6 × 6 التالية: ظل المربعات الآتية على الشبكة  (0 ، 0) ، (4 ، 4) ، (4 ، 3) ، (3 ، 2)	2												
4	ضع علامة √ حسب العبارة المعطاة أمامك: <table><thead><tr><th>م</th><th>العبارة</th><th>صواب</th><th>خطأ</th></tr></thead><tbody><tr><td>1</td><td>النموذج الذي أمامك إذا تم طيّه يمثل هرم </td><td></td><td></td></tr><tr><td>2</td><td>المجسم الذي أمامك يسمى منشور خماسي </td><td></td><td></td></tr></tbody></table>	م	العبارة	صواب	خطأ	1	النموذج الذي أمامك إذا تم طيّه يمثل هرم 			2	المجسم الذي أمامك يسمى منشور خماسي 			2
م	العبارة	صواب	خطأ											
1	النموذج الذي أمامك إذا تم طيّه يمثل هرم 													
2	المجسم الذي أمامك يسمى منشور خماسي 													

2	<p>5</p> <p>أنظر الى الساعة التي أمامك، ثم أجب عن الأسئلة التالية:</p>  <p>(أ) أكتب الوقت الظاهر على الساعة بالأرقام</p> <p>.....</p> <p>(ب) إذا كانت هذه الساعة متأخرة بمقدار 10 دقائق، فما الوقت الذي يجب أن تظهره الساعة ؟</p> <p>.....</p>	5
2	<p>6</p> <p>أحمد وعبد الله يتحاوران:</p> <div style="display: flex; justify-content: space-around; align-items: flex-start;"> <div style="text-align: center;">  <p>عبدالله</p> </div> <div style="text-align: center;">  <p>أحمد</p> </div> </div> <p>أيهما على صواب ؟</p> <p>○ أحمد</p> <p>○ عبدالله</p> <p>فسر اجابتك؟</p> <p>.....</p>	6