

أنشطة اختبار فهمك (مراجعة للاختبار)



تم تحميل هذا الملف من موقع المناهج العمانية

موقع فايلاتي ← المناهج العمانية ← الصف الثالث ← رياضيات ← الفصل الثاني ← اختبارات ← الملف

تاريخ إضافة الملف على موقع المناهج: 01:47:56 2025-04-30

ملفات اكتب للمعلم اكتب للطالب | اختبارات الكترونية | اختبارات | حلول | عروض بوربوينت | أوراق عمل
منهج انجليزي | ملخصات وتقارير | مذكرات وبنوك | الامتحان النهائي | للمدرس

المزيد من مادة
رياضيات:

إعداد: جنى المغيرة

التواصل الاجتماعي بحسب الصف الثالث



صفحة المناهج
العمانية على
فيسبوك

الرياضيات

اللغة الانجليزية

اللغة العربية

التربية الاسلامية

المواد على تلغرام

المزيد من الملفات بحسب الصف الثالث والمادة رياضيات في الفصل الثاني

مذكرة حفظ جدول الضرب

1

حل أسئلة كتاب التلميذ مع تمارين إثرائية محلولة لدرس مخطط فن

2

كتاب النشاط

3

أنشطة تقييمية في وحدة الكسور

4

سؤال قصير ثالث نموذج ثاني

5

أنشطة إختبر فهمك (مراجعة للأختبار)

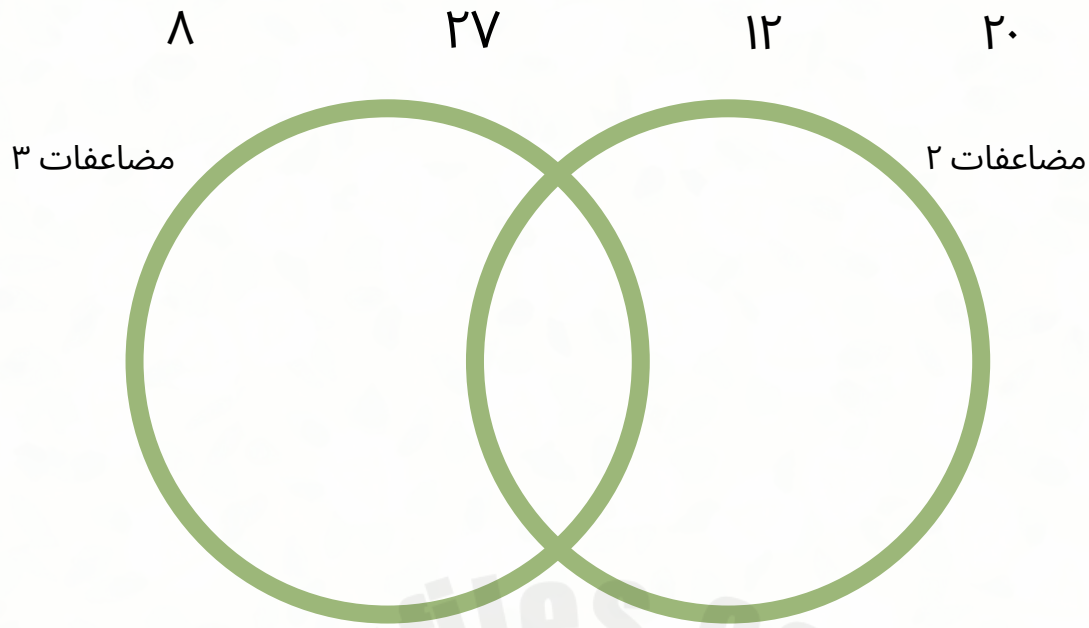
أ. جنى المغيرة

2025

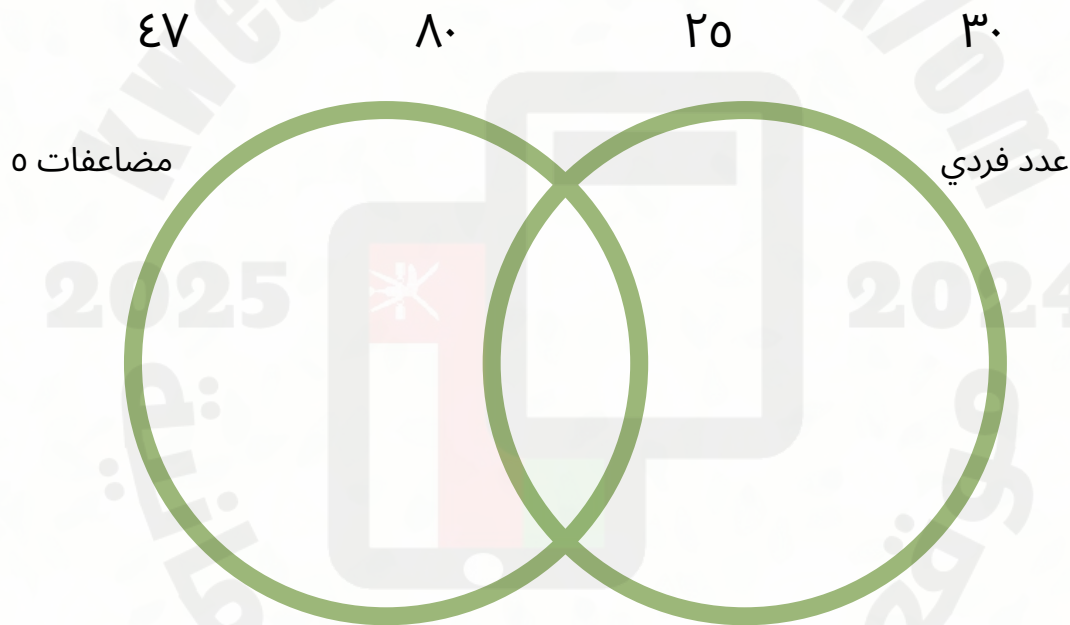
2024

موقع المناهج
العمانية

☆ صنف الأعداد التالية في مخطط قن:



☆ صنف الأعداد التالية في مخطط قن:



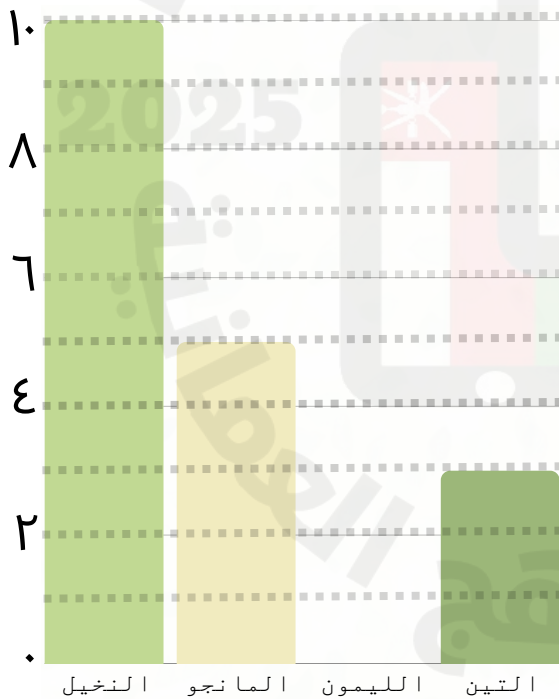
ملاحظات:

- مضاعفات العشرة أحادها (صفر)
- مضاعفات الخمسة أحادها (خمسة أو صفر)
- مضاعفات الاثنان (أحادها عدد زوجي)
- الأعداد الزوجية هي التي تكون أحادها (٠، ٢، ٤، ٦، ٨)
- الأعداد الفردية هي التي تكون أحادها (١، ٣، ٥، ٧، ٩)
- مضاعفات أي عدد تعني جدول الضرب لذلك العدد مثال مضاعفات الثلاثة = جدول ضرب ثلاثة

☆ صل العمود أ بما يناسبه في العمود ب

ب	أ
	١٣
	٩
	٤
	١٦
	١٤

☆ يوضح الرسم البياني اعداد الأشجار في المزرعة



١- إذا كان عدد الأشجار الليمون في المزرعة ٩ أشجار، ارسم العمود الذي يوضح عدد أشجار الليمون في المزرعة.

٢- أقل الأشجار عددا في المزرعة هي أشجار:

٣- ما مجموع عدد أشجار المانجو والتين معا؟

٤- ما الفرق بين عدد أشجار النخيل

والمانجو؟

٥- أكمل الجدول التالي:

علامات العد	النوع
	التين
	المانجو
	النخيل

★ اختيار من متعدد

• ناتج ضرب العدد ١٠ بالعدد ٢٦ هو

٢٠٠ ○

٢٦٠ ○

٣٦ ○

٦٢٠ ○

• $10 \times 26 =$

٨٠٠ ○

٦٨٠ ○

٨٦٠ ○

٨٦٦ ○

★ مسائل لفظية

- يوجد في المحفظة ١٢ عملة معدنية فكم عدد العملات المعدنية الموجودة في ١٠ محفظات؟.....
- تتسع الحافلة لركوب ٣٠ شخص فكم عدد الأشخاص الذين يستطيعون ركوب ١٠ حافلات؟.....
- تنتج المزرعة ٢٧ صندوقًا يوميًا من الفاكهة فكم عدد الصناديق التي تنتجها في ١٠ أيام؟.....
- يقوم راشد بإدخار ١٠ ريالًا شهريًا، كم سيكون المبلغ الذي لديه بعد سنة؟.....

ملاحظات:


• عند الإجابة على المسائل اللفظية يتوجب على الطالب

كتابة طريقة الحل مثال

في الصف 28 طالبًا فكم عدد الطلاب في 10 صفوف؟

يكتب الطالب طريقة الحل وكيفية التوصل إلى الإجابة

$28 \times 10 = 280$ طالبًا


الترتيب التصاعدي (من الأصغر إلى الأكبر) الصحيح هو: 

٥٣٤ ، ٥٤٣ ، ٣٥٤ ، ٤٥٣ ☐

٣٥٤ ، ٤٣٥ ، ٥٣٤ ، ٥٤٣ ☐

٥٤٣ ، ٤٣٥ ، ٥٣٤ ، ٣٥٤ ☐

٥٤٣ ، ٥٣٤ ، ٤٣٥ ، ٣٥٤ ☐

رتب الاعداد التالية: 

٧٩٨


٩٨٧

٧٨٩

٩٧٨

تصاعدياً:

تنازلياً:

قارن بين الاعداد بوضع $=$ ، $<$ ، $>$ 

٥١ ☐ ٥٢

٦٩٦ ☐ ٦٩٤

٧١٠ ☐ ٧٠١

٣٨ ☐ ٨٣

٦٠ ☐ ٦٠

٩٢٦ ☐ ٩٢٦

☆ أسئلة الاستدلال ☆

WHY?

في هذه الأسئلة يتطلب من الطالب الاختيار بين خيارين ثم تفسير سبب اختياره لذلك الاختيار



☆ تقول هدى أن الترتيب التالي ترتيبا تنازليا، هل تتفق

٣٠ ، ٤٠ ، ٣٢ ، ٣٥

مع هدى؟ ☐ نعم

☐ لا

فسر إجابتك:

☆ أجاب مهند على السؤال التالي، هل إجابة مهند

صحيحة؟ ☐ نعم

☐ لا

$$٤٥٥ = ١٠ \times ٤٥$$

برر إجابتك :

☆ مثل جميل عدد الدجاج الموجود في المزرعة بهذا

الشكل: IIII II

هل ما قام به جميل صحيح؟

☐ نعم ☐ لا

فسر إجابتك:

الحيوان	التكرار
البط	٧
الدجاج	٩
الماعز	٣