

## حصاد الأسبوع حول درس النقود



### تم تحميل هذا الملف من موقع المناهج العمانية

موقع فايلاتي ← المناهج العمانية ← الصف الثالث ← رياضيات ← الفصل الثاني ← اختبارات ← الملف

تاريخ إضافة الملف على موقع المناهج: 2025-04-20 23:47:07

ملفات اكتب للمعلم اكتب للطالب ا اختبارات الكترونية ا اختبارات ا حلول ا عروض بوربوينت ا أوراق عمل  
منهج انجليزي ا ملخصات وتقارير ا مذكرات وبنوك ا الامتحان النهائي ا للمدرس

المزيد من مادة  
رياضيات:

### التواصل الاجتماعي بحسب الصف الثالث



صفحة المناهج  
العمانية على  
فيسبوك

الرياضيات

اللغة الانجليزية

اللغة العربية

التربية الاسلامية

المواد على تلغرام

### المزيد من الملفات بحسب الصف الثالث والمادة رياضيات في الفصل الثاني

مذكرة حفظ جدول الضرب

1

حل أسئلة كتاب التلميذ مع تمارين إثرائية محلولة لدرس مخطط فن

2

كتاب النشاط

3

أنشطة تقييمية في وحدة الكسور

4

سؤال قصير ثالث نموذج ثاني

5




(مراس)  
حصاد الأسبوع

اسمك الجميل:.....  
صفك الرائع:.....

حول المبالغ النقدية التالية من البيسة إلى الريال والعكس:

٤٥٠ بيسة = .....ريال  
٩,٠٠ ريال = .....بيسة

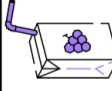

قائمة مشتريات البقالة:

		
بيسة ٥٠٠	بيسة ٤٠٠	١ ريال

ما المجموع الكلي للمشتريات :.....

إذا كان لديك ٢ ريال كم سيبقى معك:.....

قائمة المشروبات المفضلة:

	
سعته ٥٠٠ مل تكلفته = ٣٠٠ بيسة	سعته ١ لتر تكلفته = ٨٠٠ بيسة

إذا اشتريت علبتان من العصير ذات السعة ٥٠٠ مل كم ستكون تكلفتها؟ .....

أيهما سيكون بتكلفة أقل عند شراء ٢ لتر من العصير؟ سعة ٥٠٠ مل / سعة ١ لتر

فسر إجابتك :.....

أكمل التالي:

 =  + 

٣٠٠ مل  
٣٠٠ مل  
٣٠٠ مل  
٢٥٠ بيسة  
٢٥٠ بيسة




أ. عائشة العلوي

اسمك الجميل:.....  
صفك الرائع:.....

حول المبالغ النقدية التالية من البيسة إلى الريال والعكس:

٤٥٠ بيسة = .....ريال  
٩,٠٠ ريال = .....بيسة

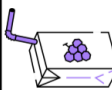

قائمة مشتريات البقالة:

		
بيسة ٥٠٠	بيسة ٤٠٠	١ ريال

ما المجموع الكلي للمشتريات :.....

إذا كان لديك ٢ ريال كم سيبقى معك:.....

قائمة المشروبات المفضلة:



	
سعته ٥٠٠ مل تكلفته = ٣٠٠ بيسة	سعته ١ لتر تكلفته = ٨٠٠ بيسة

إذا اشتريت علبتان من العصير ذات السعة ٥٠٠ مل كم ستكون تكلفتها؟ .....

أيهما سيكون بتكلفة أقل عند شراء ٢ لتر من العصير؟ سعة ٥٠٠ مل / سعة ١ لتر

فسر إجابتك :.....

أكمل التالي:

 =  + 

٣٠٠ مل  
٣٠٠ مل  
٣٠٠ مل  
٢٥٠ بيسة  
٢٥٠ بيسة

أ. عائشة العلوي