

## شكراً لتحميلك هذا الملف من موقع المناهج العمانية



## سؤال قصير واختبار قصير مع الإجابات

[موقع المناهج](#) ← [المناهج العمانية](#) ← [الصف الثالث](#) ← [مهارات موسيقية](#) ← [الفصل الأول](#) ← [الملف](#)

تاريخ نشر الملف على موقع المناهج: 06:56:07 2023-12-02

## التواصل الاجتماعي بحسب الصف الثالث



## روابط مواد الصف الثالث على تلغرام

[الرياضيات](#)

[اللغة الانجليزية](#)

[اللغة العربية](#)

[التربية الاسلامية](#)

## المزيد من الملفات بحسب الصف الثالث والمادة مهارات موسيقية في الفصل الأول

[كتاب دليل المعلم الجديد](#)

1

[مقرر الدروس المحذوفة والمطلوبة حسب وثيقة المحتوى التدريسي في ظل جائحة الكورونا](#)

2

الاسم:.....


الصف:.....

10

سؤال القصير الأول لمادة  
المهارات الموسيقية للصف

### السؤال الأول

ضع علامة (√) أمام العبارة الصحيحة وعلامة (X) أمام العبارة الخاطئة فيما يلي:

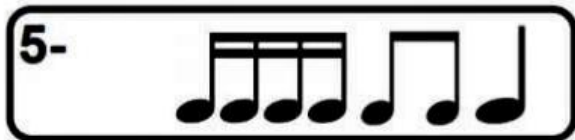
- 1- يرسم مفتاح صول على الخط الثالث ( )
- 2- آلة الأورج آلة موسيقية ذات لوحة المفاتيح ( )
- 3- يتم إنتاج الأصوات في الأورج الكهربائي عن طريق توصيلة بالكهرباء ( )
- 4- تحتوي علامة  على أربعة دابل كروش ( )
- 5- يدون الميزان الموسيقي في بداية النوتة الموسيقية ( )


### السؤال الثاني

( أ ) حدد اسم الجزء المشار إليه من ما بين الأقواس ( زر التشغيل - أصابع سوداء وبيضاء - السماعة )



(ب) دون الميزان المناسب؟



١- الشكل الإيقاعي ف ت ف ت هو 

٢- شعار علم سلطنة عمان هو سيفان وخنجر

٣- تصنع مفاتيح آلة الأورج السوداء و البيضاء من مادة العاج

٤- الشكل التالي هو مفتاح صول 


٥- (انا الذيب باكلكم) هي لعبة شعبية من التراث العماني التقليدي


أ- ضع أجزاء الآلة عليها ( الساعات - زر التشغيل - أصابع بيضاء وسوداء )



ب - ضع الميزان المناسب للموازين التالية

(ب) ضع الميزان المناسب

٤- 

٥- 

الاسم:.....


الصف:.....

10

سؤال القصير الأول لمادة  
المهارات الموسيقية للصف

### السؤال الأول

ضع علامة (√) أمام العبارة الصحيحة وعلامة (X) أمام العبارة الخاطئة فيما يلي:

- 1- يرسم مفتاح صول على الخط الثالث (X)
- 2- آلة الأورج آلة موسيقية ذات لوحة المفاتيح ( )
- 3- يتم إنتاج الأصوات في الأورج الكهربائي عن طريق توصيلة بالكهرب (√)
- 4- تحتوي علامة  على أربعة دويل كرون ( )
- 5- يدون الميزان الموسيقي في بداية النوتة الموسيقية ( )

### السؤال الثاني

(أ) حدد اسم الجزء المشار إليه من بين الأقواس ( زر التشغيل - أصابع سوداء وبيضاء - السماعة )

2- زر التشغيل

السماعة



3-

(ب) دون الميزان المناسب؟



4

4