

تدريبات على درس الموقع والاتجاه



تم تحميل هذا الملف من موقع المناهج العمانية

موقع فايلا تي ← المناهج العمانية ← الصف الثالث ← رياضيات ← الفصل الثاني ← ملفات متنوعة ← الملف

تاريخ إضافة الملف على موقع المناهج: 15:56:30 2025-05-19

ملفات اكتب للمعلم اكتب للطالب | اختبارات الكترونية | اختبارات | حلول | عروض بوربوينت | أوراق عمل
منهج انجليزي | ملخصات وتقارير | مذكرات وبنوك | الامتحان النهائي | للمدرس

المزيد من مادة
رياضيات:

التواصل الاجتماعي بحسب الصف الثالث



صفحة المناهج
العمانية على
فيسبوك

الرياضيات

اللغة الانجليزية

اللغة العربية

التربية الاسلامية

المواد على تلغرام

المزيد من الملفات بحسب الصف الثالث والمادة رياضيات في الفصل الثاني

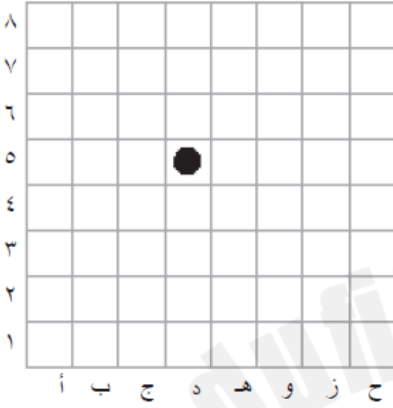
أوراق عمل وتدريبات على دروس المنهج	1
العدد الكسري والكسور المكافئة	2
مذكرة حفظ جدول الضرب	3
حل أسئلة كتاب التلميذ مع تمارين إثرائية محلولة لدرس مخطط فن	4
كتاب النشاط	5

موضوع الدرس : الموقع والاتجاه

١ - ظلل الشكل البيضاوي يمين الإجابة الصحيحة:

يلعب سليم لعبة على اللوحة .قطعته موجودة في المربع (د ، ٥) .

أي من الحركات التالية ستمكّنه من تحريك قطعته لتصل الى المربع (ز ، ٧) ؟



☐ مربعان يميناً و ٣ مربعات للأعلى

☐ مربعان يساراً و ٣ مربعات للأعلى

☐ ٣ مربعات يميناً ومربعان للأعلى

☐ ٣ مربعات يساراً ومربعان للأعلى

٢ (ادرس الشكل ثم أجب

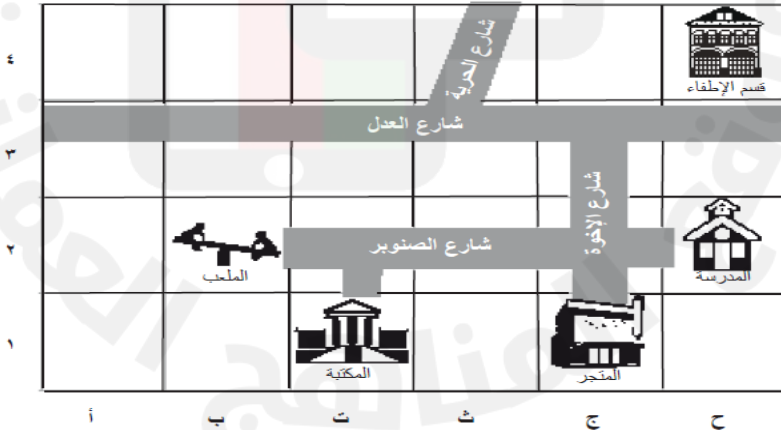
أ) أكتب احداثيات للمواقع التالية :

@ الملعب (... ، ...) @ قسم الإطفاء (... ، ...) @ المدرسة (... ، ...)

@ المكتبة (... ، ...) @ تقاطع شارع العدل وشارع الإخوة (... ، ...)

ب) تعيش هناء في منزل موجود في المربع (ت ، ٤) .

ضع إشارة x في الخانة المناسبة لتحديد مكان وجود منزل هناء.



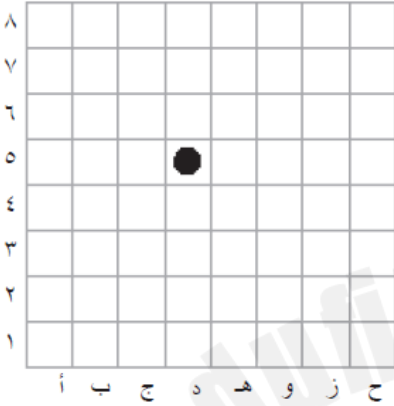
موضوع الدرس : الموقع والاتجاه

١ - ظلل الشكل البيضاوي يمين الإجابة الصحيحة:

يلعب سليم لعبة على اللوحة .قطعته موجودة في المربع (د ، ٥) .

أي من الحركات التالية ستمكنه من تحريك قطعته لتصل الى المربع (ز ، ٧) ؟

- ☐ مربعان يميناً و ٣ مربعات للأعلى
- ☐ مربعان يساراً و ٣ مربعات للأعلى
- ☐ ٣ مربعات يميناً ومربعان للأعلى
- ☐ ٣ مربعات يساراً ومربعان للأعلى



٢ (ادرس الشكل ثم أجب

أ) أكتب احداثيات للمواقع التالية :

- @ الملعب (... ، ...) @ قسم الإطفاء (... ، ...) @ المدرسة (... ، ...)
- @ المكتبة (... ، ...) @ تقاطع شارع العدل وشارع الإخوة (... ، ...)

ب (تعيش هناء في منزل موجود في المربع (ت ، ٤) .
ضع إشارة x في الخانة المناسبة لتحديد مكان وجود منزل هناء.

