

شكراً لتحميلك هذا الملف من موقع المناهج العمانية



سؤال قصير أول

[موقع المناهج](#) ⇨ [المناهج العمانية](#) ⇨ [الصف الثاني](#) ⇨ [رياضيات](#) ⇨ [الفصل الأول](#) ⇨ [الملف](#)

تاريخ نشر الملف على موقع المناهج: 2023-11-26 04:33:10

التواصل الاجتماعي بحسب الصف الثاني



روابط مواد الصف الثاني على تلغرام

[الرياضيات](#)

[اللغة الانجليزية](#)

[اللغة العربية](#)

[التربية الاسلامية](#)




المزيد من الملفات بحسب الصف الثاني والمادة رياضيات في الفصل الأول

اختبار قصير أول	1
اختبار تشخيصي	2
أنشطة وأوراق عمل	3
دفتر التلميذ	4
أوراق عمل غير محلولة	5

الاسم:

الصف:

سؤال قصير (١) في مادة الرياضيات للصف الثاني

درجة	١	ظلّل الشكل البيضاوي يمين الإجابة الصحيحة: كل مما يلي يعتبر طقس قاسي <u>ما عدا</u> : 									
درجتان	٢	صل كل صورة بالمصطلح المناسب لها: <table border="1" data-bbox="250 775 946 1144"><tr><td>غائم</td></tr><tr><td>مشمس</td></tr><tr><td>غائم جزئي</td></tr><tr><td>ممطر</td></tr><tr><td>عاصف رعدي</td></tr></table> 	غائم	مشمس	غائم جزئي	ممطر	عاصف رعدي				
غائم											
مشمس											
غائم جزئي											
ممطر											
عاصف رعدي											
درجة	٣	ضع علامة () على السلوكيات التي تحمي البيئة: 									
درجة	٤	أجرى مجموعة من الطلاب دراسة حول أعداد الحيوانات والنباتات في مكانين مختلفين، ودونوا الملاحظات التالية: - أين يتواجد أقل عدد من الحيوانات والنباتات؟ أ <input type="radio"/> ب <input type="radio"/> - فسر اجابتك: <table border="1" data-bbox="186 1762 873 2085"><tr><th>المكان/ الاعداد</th><th>اعداد النباتات</th><th>اعداد الحيوانات</th></tr><tr><td>أ</td><td>٦</td><td>٧</td></tr><tr><td>ب</td><td>٣٠</td><td>٥٠</td></tr></table>	المكان/ الاعداد	اعداد النباتات	اعداد الحيوانات	أ	٦	٧	ب	٣٠	٥٠
المكان/ الاعداد	اعداد النباتات	اعداد الحيوانات									
أ	٦	٧									
ب	٣٠	٥٠									