

شكراً لتحميلك هذا الملف من موقع المناهج العمانية



نشاط في الجمع باستخدام الأزواج العددية

[موقع المناهج](#) ⇨ [المناهج العمانية](#) ⇨ [الصف الثاني](#) ⇨ [رياضيات](#) ⇨ [الفصل الأول](#) ⇨ [الملف](#)

تاريخ نشر الملف على موقع المناهج: 05:11:50 2023-12-05 | اسم المدرس: سندس الشكيلية

التواصل الاجتماعي بحسب الصف الثاني



روابط مواد الصف الثاني على تلغرام

[الرياضيات](#)

[اللغة الانجليزية](#)

[اللغة العربية](#)

[التربية الاسلامية](#)

المزيد من الملفات بحسب الصف الثاني والمادة رياضيات في الفصل الأول

[كراسة أنشطة صفية وواجبات منزلية](#)

1

[نماذج أسئلة المادة](#)

2

[سؤال قصير أول](#)


3

[اختبار قصير أول](#)


4

[اختبار تشخيصي](#)

5



اختبر فهمك يا صغيري العبقرى
اوجد ناتج الجمع باستخدام الأزواج العددية:



$$\square = ٤ + ٨ + ٧ + ٣$$

_____ + _____ + _____

$$\square = ٧ + ٥ + ٣$$

_____ + _____

$$\square = ٦ + ٧ + ٢ + ٨$$

_____ + _____ + _____

$$\square = ٢ + ٦ + ٨$$

_____ + _____


$$\square = ٢ + ٩ + ٤ + ٦$$

_____ + _____ + _____


$$\square = ١ + ٤ + ٩$$

_____ + _____

إعداد: أ. سُندس الشكيلية



اختبر فهمك يا صغيري العبقرى
اوجد ناتج الجمع باستخدام الأزواج العددية:



$$\square = ٤ + ٨ + ٧ + ٣$$

_____ + _____ + _____

$$\square = ٧ + ٥ + ٣$$

_____ + _____

$$\square = ٦ + ٧ + ٢ + ٨$$

_____ + _____ + _____

$$\square = ٢ + ٦ + ٨$$

_____ + _____

$$\square = ٢ + ٩ + ٤ + ٦$$

_____ + _____ + _____

$$\square = ١ + ٤ + ٩$$

_____ + _____

إعداد: أ. سُندس الشكيلية