

تم تحميل هذا الملف من موقع المناهج العُمانية



\* للحصول على أوراق عمل لجميع الصفوف وجميع المواد اضغط هنا

<https://almanahj.com/om>

\* للحصول على أوراق عمل لجميع مواد الصف الثاني اضغط هنا

<https://almanahj.com/om/2>

\* للحصول على جميع أوراق الصف الثاني في مادة رياضيات وجميع الفصول, اضغط هنا

<https://almanahj.com/om/2math>

\* للحصول على أوراق عمل لجميع مواد الصف الثاني في مادة رياضيات الخاصة بـ الفصل الثاني اضغط هنا


<https://almanahj.com/om/2math2>

\* لتحميل كتب جميع المواد في جميع الفصول للـ الصف الثاني اضغط هنا

<https://almanahj.com/om/grade2>

للتحدث إلى بوت على تلغرام: اضغط هنا

[https://t.me/omcourse\\_bot](https://t.me/omcourse_bot)



مشروع للصف الثاني في الرياضيات

عنوان المشروع : الأشكال الثنائية الأبعاد

الاسم : .....

الصف : .....

أولاً: التخطيط ( ٤ درجات )

( 1 ) المشروع الذي ستنفذه عن: .....

(درجة )

( ٣ درجات )


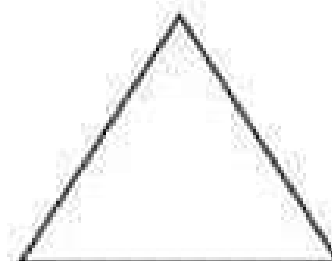

( 2 ) الأدوات التي ستحتاجها:

.....


.....

ثانياً: العمل ( ٦ درجات )

- استعن بالأشكال الثنائية الأبعاد التالية لرسم مخطط أولي لمنزلك الخاص:



الرسم:



- قم بصنع منزلك مستخدماً خامات البيئة مستعيناً بالمخطط الذي رسمته في الأعلى.

- أذكر خطوات العمل:

.....

.....

.....

.....

.....

• سم الأشكال الثانية الأبعاد التي استخدمتها في تصميمك وصنفها إلى أشكال منتظمة وأشكال غير منتظمة:

منتظمة	غير منتظمة

ثالثاً: التقرير (٥ درجات)

- ارفق صورة لعملك بعد الانتهاء من تنفيذه.

أكمل:

صنعت منزلي على شكل ..... وسقفه على شكل ..... بينما كانت النوافذ على شكل ..... و الباب شكله .....

ملاحظة مهمة: ( قم بتصوير ورقة المشروع الخاص بك بعد حلها وأرسلها إلى ملف الواجبات الخاص بك )