

تم تحميل هذا الملف من موقع المناهج العمانية



ملخص شرح درس الأعداد المتجاورة مع أسئلة تدريبية

موقع فايلاتي ← المناهج العمانية ← الصف الثاني ← رياضيات ← الفصل الثاني ← ملخصات وتقارير ← الملف

تاريخ إضافة الملف على موقع المناهج: 10:48:02 2025-03-09

ملفات اكتب للمعلم اكتب للطالب الاختبارات الكترونية | اختبارات | حلول | عروض بوربوينت | أوراق عمل
منهج انجليزي | ملخصات وتقارير | مذكرات وبنوك | الامتحان النهائي للمدرس

المزيد من مادة
رياضيات:

التواصل الاجتماعي بحسب الصف الثاني



صفحة المناهج
العمانية على
فيسبوك

الرياضيات

اللغة الانجليزية

اللغة العربية

التربية الاسلامية

المواد على تلغرام

المزيد من الملفات بحسب الصف الثاني والمادة رياضيات في الفصل الثاني

ملخص شرح درس الأعداد المتجاورة

1

تمارين على درس العد ثلاثيات

2

كتاب التلميذ

3


سؤال قصير ثاني

4

كتيب أنشطة المادة

5

الأعداد المتجاورة



هيا يا عبقرى، أجب عن الآتى:

١/ لَوْن الخيارات الصحيحة، للأعداد التي عندما نجمعها نحصل على عدد زوجي هي:

$$١٢ + ٢$$

$$٤ + ٧$$

$$٩ + ٣$$

٢/ أعطي مثالين على ثلاث أعداد متجاورة:

□ □ □ ، □ □ □ ، □ □ □

□ □ □ ، □ □ □ ، □ □ □

٣/ أوجد ناتج جمع الأعداد المتجاورة التالية:

$$= ١١ + ١٠$$

$$= ١٣ + ١٢$$

٤/ أكتب الأعداد المتجاورة للأعداد التالية:

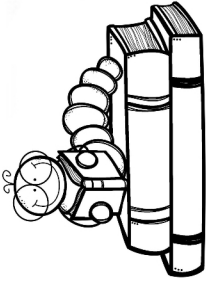
.....
٤٥

.....
٢٣

قيّم نفسك 😊 😐 😞

إعداد: أ.سُنْدَس الشكيلة

الأعداد المتجاورة



ما هي الأعداد المتتالية (المتجاورة)؟

هي الأعداد التي تقع إلى جانب بعضها، كل عدد يزيد عن الآخر بمقدار واحد

$$٢٥ - ٢٤ - ٢٣ - ٢٢ - ٢١$$

$$٢٥ - ٢٢ - ٢٣ - ٢٤ - ٢٥$$

$$٢٥ - ٢٢ - ٢٣ - ٢٤ - ٢٥$$



قواعد مهمة



إذا كان العدد:

$$١٢ = ٨ + ٤$$

$$\text{زوجي} + \text{زوجي} = \text{زوجي}$$

$$٤٦ = ٢٥ + ٢١$$

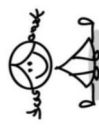
$$\text{فردى} + \text{فردى} = \text{زوجي}$$

$$١٩ = ١٦ + ٣$$


$$\text{فردى} + \text{زوجي} = \text{فردى}$$

في نهاية الدرس يجب أن تكون يا عبقرى
قادراً على:

أنا أستطيع



التحدث عن الأعداد الزوجية والفردية



جمع أزواج عددية لأعداد مكونة من رقمين



إعداد: أ.سُنْدَس الشكيلة