

## سؤال أول حل مشكلات



### تم تحميل هذا الملف من موقع المناهج العمانية

موقع فايلاتي ← المناهج العمانية ← الصف الثاني ← رياضيات ← الفصل الثاني ← ملفات متنوعة ← الملف

تاريخ إضافة الملف على موقع المناهج: 2025-04-25 15:13:23

ملفات اكتب للمعلم اكتب للطالب ا اختبارات الكترونية ا اختبارات ا حلول ا عروض بوربوينت ا أوراق عمل  
منهج انجليزي ا ملخصات وتقارير ا مذكرات وبنوك ا الامتحان النهائي ا للمدرس

المزيد من مادة  
رياضيات:

### التواصل الاجتماعي بحسب الصف الثاني



صفحة المناهج  
العمانية على  
فيسبوك

الرياضيات

اللغة الانجليزية

اللغة العربية

التربية الاسلامية

المواد على تلغرام

### المزيد من الملفات بحسب الصف الثاني والمادة رياضيات في الفصل الثاني

واجب منزلي في حل المشكلات للتمثيل البياني و مخطط فن

1

سؤال قصير في التمثيل البياني والسلاسل

2

سؤال قصير في المصفوفة وترتيب الأعداد

3

كتيب أسرار الرياضيات

4

أوراق عمل على درس العد ثلاثيات

5

## • السؤال الأول : رياضيات الفصل الدراسي الثاني

(١) حل مشكلات : أَسْتَعْمِلُ التَّمْثِيلَ بِالصُّورِ لِلْإِجَابَةِ عَنِ الْأَسْئَلَةِ الْآتِيَةِ:

| النَّشَاطُ الْمَدْرَسِيُّ الْمَفْضَلُ |  |  |  |  |  |  |  |  |              |
|---------------------------------------|--|--|--|--|--|--|--|--|--------------|
|                                       |  |  |  |  |  |  |  |  | الرَّسْمُ    |
|                                       |  |  |  |  |  |  |  |  | الْقِرَاءَةُ |
|                                       |  |  |  |  |  |  |  |  | الْحَاسُوبُ  |
|                                       |  |  |  |  |  |  |  |  | الرِّيَاضَةُ |

الْمِفْتَاحُ: كُلُّ رَمَزٍ يُمَثِّلُ ٣ اسْتِجَابَاتٍ

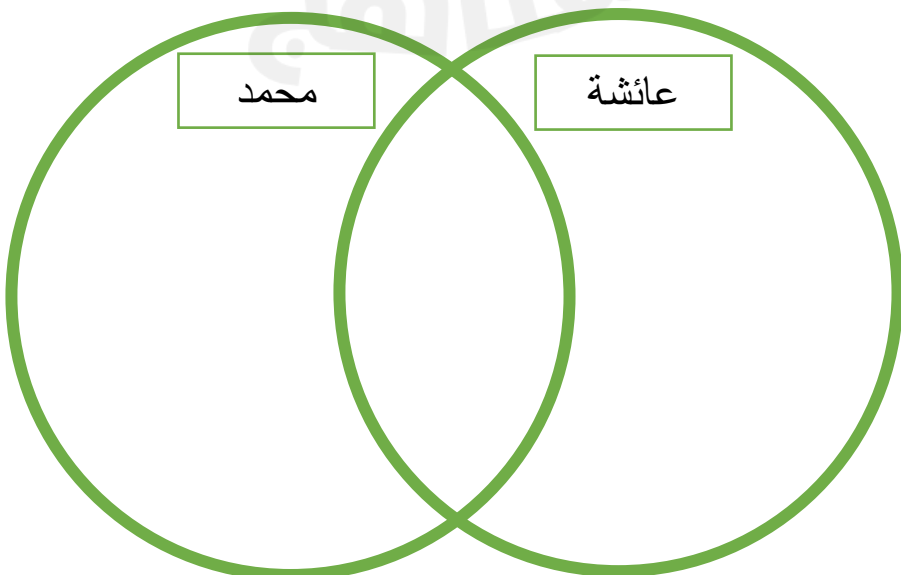
أ ما النشاط الذي اختاره أقل عدد من الطلاب؟

ب ما عدد الطلاب الذين يفضلون القراءة؟ طالبًا.

ج ما النشاطان اللذان حصلا على العدد نفسه من الاستجابات؟ و

د ما مجموع الطلاب الذين استجابوا للسؤال؟ طالبًا.


(٢) فكر: محمد و عائشة شقيقان، يحب كلاهما مادة أحب لغتي و العلوم. لكن محمد يفضل الرياضيات و الحاسوب. وتحب عائشة الرسم و الرياضة و ديني حياتي. عبر عن رغبة كل منهما باستخدام شكل فن:



٣) ضع ( ✓ ) صح أم خطأ أمام كل مما يلي :


| العبارة                                       | صح | خطأ |
|---|----|-----|
| تقاس المسافة من المنزل إلى المدرسة بالسنتيمتر |    |     |
| يقاس الحجم بوحدة اللتر                        |    |     |

٤) رتب الاوعية التالية تنازلياً :



|   |   |   |   |
|---|---|---|---|
| ١ | ٢ | ٣ | ٤ |
|   |   |   |   |

٥) أكتب قيمة الوزن لكل مما يلي :





كتلة الطماطم هي: .....



كتلة علبة السكر هي: .....

٦) قم بقياس كل مما يلي :



وفقكم الله ورعاكم عابرتي