

شكراً لتحميلك هذا الملف من موقع المناهج العمانية



سؤال قصير أول معرفة وفهم نموذج ثاني

[موقع المناهج](#) ← [المناهج العمانية](#) ← [الصف الثاني](#) ← [علوم](#) ← [الفصل الثاني](#) ← [الملف](#)

تاريخ نشر الملف على موقع المناهج: 16:19:40 2023-11-25

التواصل الاجتماعي بحسب الصف الثاني



روابط مواد الصف الثاني على تلغرام

[الرياضيات](#)

[اللغة الانجليزية](#)

[اللغة العربية](#)

[التربية الاسلامية](#)

المزيد من الملفات بحسب الصف الثاني والمادة علوم في الفصل الثاني

| | |
|---|---|
| دليل تقويمي مع اختبارات قصيرة ونهاية للمنهج | 1 |
| نشاط ختامي لدرس تكوين الظلال | 2 |
| سؤال قصير في درس الضوء والظلام | 3 |
| أسئلة اختبار السؤال القصير الثالث | 4 |
| اختبار الكتروني في درس مصادر الضوء وفق منهج كامبردج | 5 |

| | |
|--|-------|
| | الاسم |
| | الصف |





سلطنة عمان
وزارة التربية والتعليم
مديرية جنوب الباطنة
مدرسة المعالم للتعليم الأساسي (١-٤)

| |
|----------|
| الدرجة : |
| ٥ |

سؤال قصير معرفة وفهم (١) في مادة العلوم للصف الثاني الأساسي

١- اختر الإجابة الصحيحة فيما يلي :

الحيوان الذي يعيش في بيئات متعددة هو :




٢- ضع علامة (/) إذا كانت العبارة صحيحة وعلامة (×) إذا كانت العبارة خاطئة :

• تساعدنا الأقمار الصناعية في مراقبة الطقس . ()

• من الجيد الخروج من المنزل للتنزه عندما يكون الطقس عاصفة مطرية. ()

٣- يقضي الأصدقاء وقتاً جميلاً عند الشاطئ، ارسم الطقس المتوقع المناسب لذهاب للشاطئ :



٤- صل الصورة مع الكائنات الحية التي ستضرر منها :

تضر الطيور



تضر الأسماك



تضر الإنسان



٥- تحدث أحمد عن حالة الطقس القاسي في الصورة التي أمامه وقال أنها

عاصفة مطرية .

هل ما قاله أحمد صحيح ؟

لا ☐

نعم ☐



وضح إجابتك ؟

.....

مع تمنياتي لكم بالتوفيق